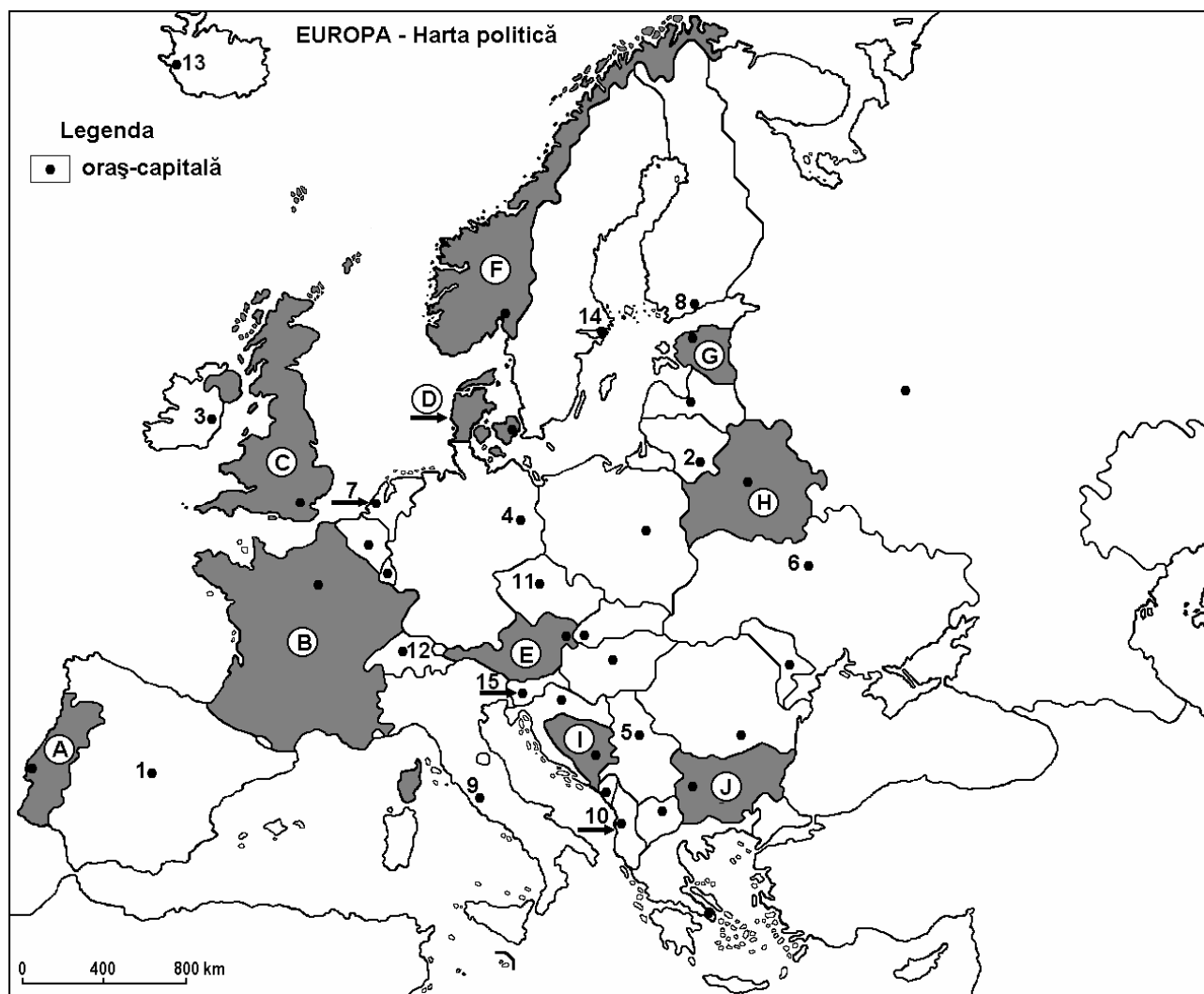


Examenul de bacalaureat 2008
Proba D, E, F
Proba scrisă la Geografie
Europa – România – Uniunea Europeană

- Toate subiectele sunt obligatorii. Se acordă 10 puncte din oficiu.
- Timpul efectiv de lucru este de 3 ore.

SUBIECTUL I**(30 puncte)**

Harta de mai sus se referă la subiectul I A – C. Pe hartă sunt marcate state cu litere și orașe – capitală cu numere.

A. Precizați:

1. numele statelor marcate, pe hartă, cu literele **B** și **C**;
2. numele orașelor-capitală marcate, pe hartă, cu numerele **1** și **4**.

4 puncte**B. Scrieți, pe foaia de examen, răspunsurile corecte care completează propozițiile de mai jos:**

1. Lisabona este capitala statului, marcat pe hartă, cu litera...
2. Fluviul Sena străbate teritoriul statului marcat, pe hartă, cu litera...
3. Munții Penini se găsesc în statul marcat, pe hartă, cu litera...

6 puncte

C. Scrieți, pe foaia de examen, litera corespunzătoare răspunsului corect pentru fiecare dintre afirmațiile de mai jos:

1. Țărmurile cu fiorduri sunt specifice statului, marcat, pe hartă cu litera:
a. A b. B c. F d. J **2 puncte**
2. Fluviul Pad este situat în statul a cărui capitală este orașul marcat, pe hartă, cu numărul:
a. 5 b. 9 c. 11 d. 14 **2 puncte**
3. Viticultura este prezentă pe spații întinse în statul, marcat, pe hartă, cu litera:
a. B b. F c. G d. H **2 puncte**
4. Capitala Sloveniei este orașul marcat pe hartă cu numărul:
a. 11 b. 12 c. 14 d. 15 **2 puncte**
5. Formațiuni vegetale de tip *maquis* sau *gariga* sunt prezente în statul, marcat, pe hartă, cu litera:
a. B b. C c. G d. H **2 puncte**

D. Precizați trei deosebiri între **clima** Eurpei nordice și **clima** Europei sudice.

Nota 1: Deosebirile se pot referi la oricare dintre următoarele elemente de **climă**: tip de climă, temperaturi medii anuale, precipitații medii anuale, vânturi, amplitudine termică.

Nota 2: Punctajul complet va fi acordat numai dacă cele trei deosebiri vor fi prezentate comparativ și nu separat.

6 puncte

E. Precizați:

1. o cauză a prezenței lacurilor glaciare în Peninsula Scandinavă;
2. o cauză a fenomenului de îmbătrânire a populației Europei.

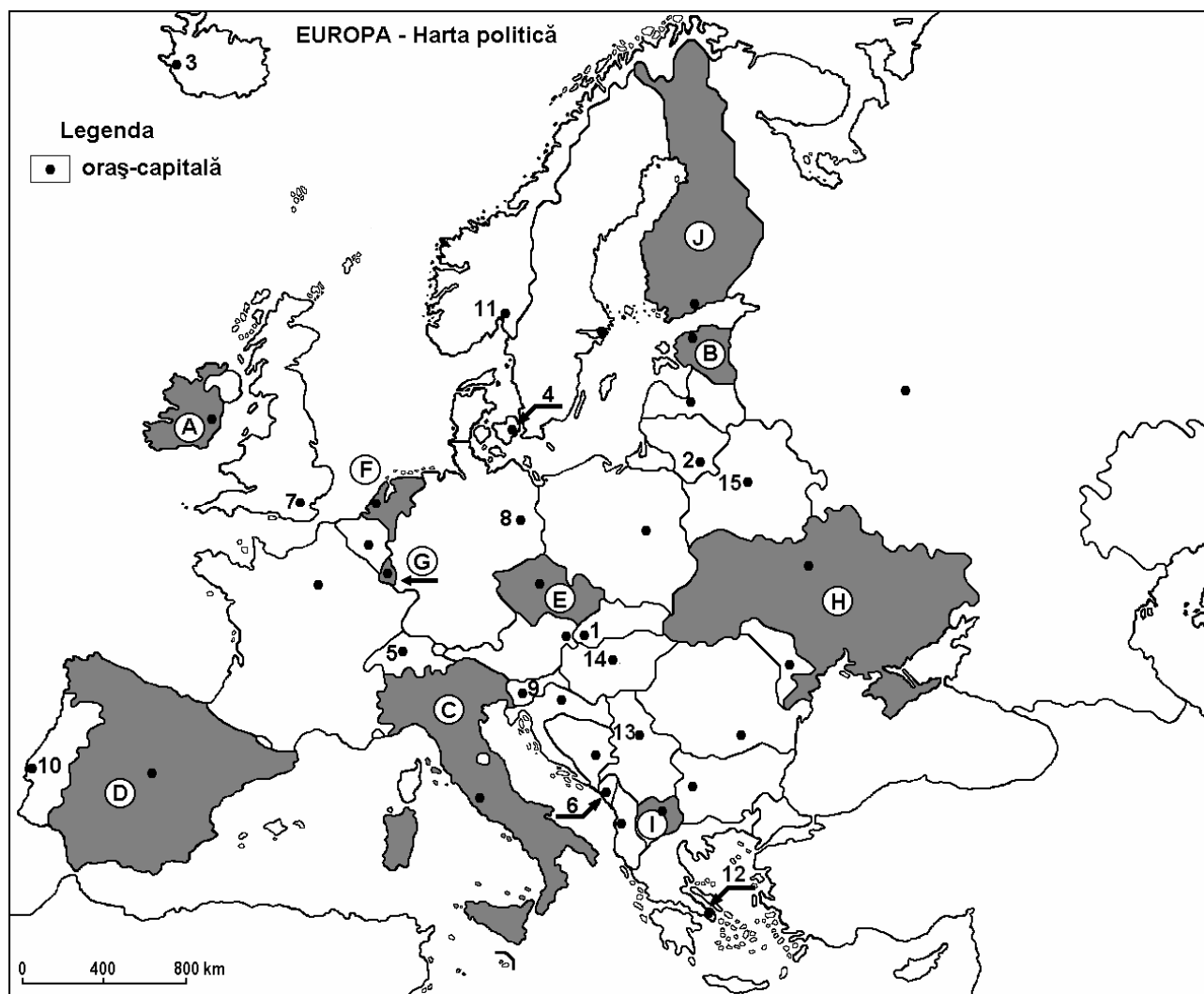
4 puncte

Examenul de bacalaureat 2008
Proba D, E, F
Proba scrisă la Geografie
Europa–România–Uniunea Europeană

- Toate subiectele sunt obligatorii. Se acordă 10 puncte din oficiu.
- Timpul efectiv de lucru este de 3 ore.

SUBIECTUL I

(30 puncte)



Harta de mai sus se referă la subiectul I A – C. Pe hartă sunt marcate state cu litere și orașe – capitală cu numere.

A. Precizați:

1. numele statelor marcate, pe hartă, cu literele **C** și **D**;
2. numele orașelor-capitală marcate, pe hartă, cu numerele **7** și **12**.

4 puncte

B. Scrieți, pe foaia de examen, răspunsurile corecte care completează propozițiile de mai jos:

1. Sectorul central al Munților Carpați se găsește în statul marcat, pe hartă, cu litera...
2. Podișul Meseta este situat în statul marcat, pe hartă, cu litera...
3. Climatul rece este întâlnit în statul marcat, pe hartă, cu litera...

6 puncte

C. Scrieți, pe foaia de examen, litera corespunzătoare răspunsului corect pentru fiecare dintre afirmațiile de mai jos:

1. Este situat într-o unitate de relief montan orașul-capitală marcat, pe hartă, cu numărul:

a. 2	b. 5	c. 14	d. 15	2 puncte
------	------	-------	-------	-----------------
2. Sunt așezate pe Dunăre orașele-capitală marcate, pe hartă, cu numerele:

a. 1 și 5	b. 6 și 9	c. 9 și 14	d. 1 și 13	2 puncte
-----------	-----------	------------	------------	-----------------
3. Stepa se întâlnește în statul marcat, pe hartă, cu litera:

a. A	b. E	c. H	d. G	2 puncte
------	------	------	------	-----------------
4. Podișul Boemiei este situat în statul marcat, pe hartă, cu litera:

a. C	b. E	c. G	d. H	2 puncte
------	------	------	------	-----------------
5. Statul San Marino este o enclavă în cadrul statului marcat, pe hartă, cu litera:

a. A	b. C	c. D	d. I	2 puncte
------	------	------	------	-----------------

D. Precizați două deosebiri și o asemănare între **relieful** Munților Alpi și **relieful** Munților Scandinaviei.

Nota 1: Deosebirile se pot referi la oricare dintre următoarele aspecte ale **reliefului**: mod de formare, tipuri de roci, distribuția spațială a altitudinilor, gradul de fragmentare, orientarea culmilor și a văilor principale, tipuri genetice de relief, alte aspecte specifice ale reliefului.

Nota 2: Punctajul complet va fi acordat numai dacă cele două deosebiri și asemănarea vor fi prezentate comparativ și nu separat.

6 puncte

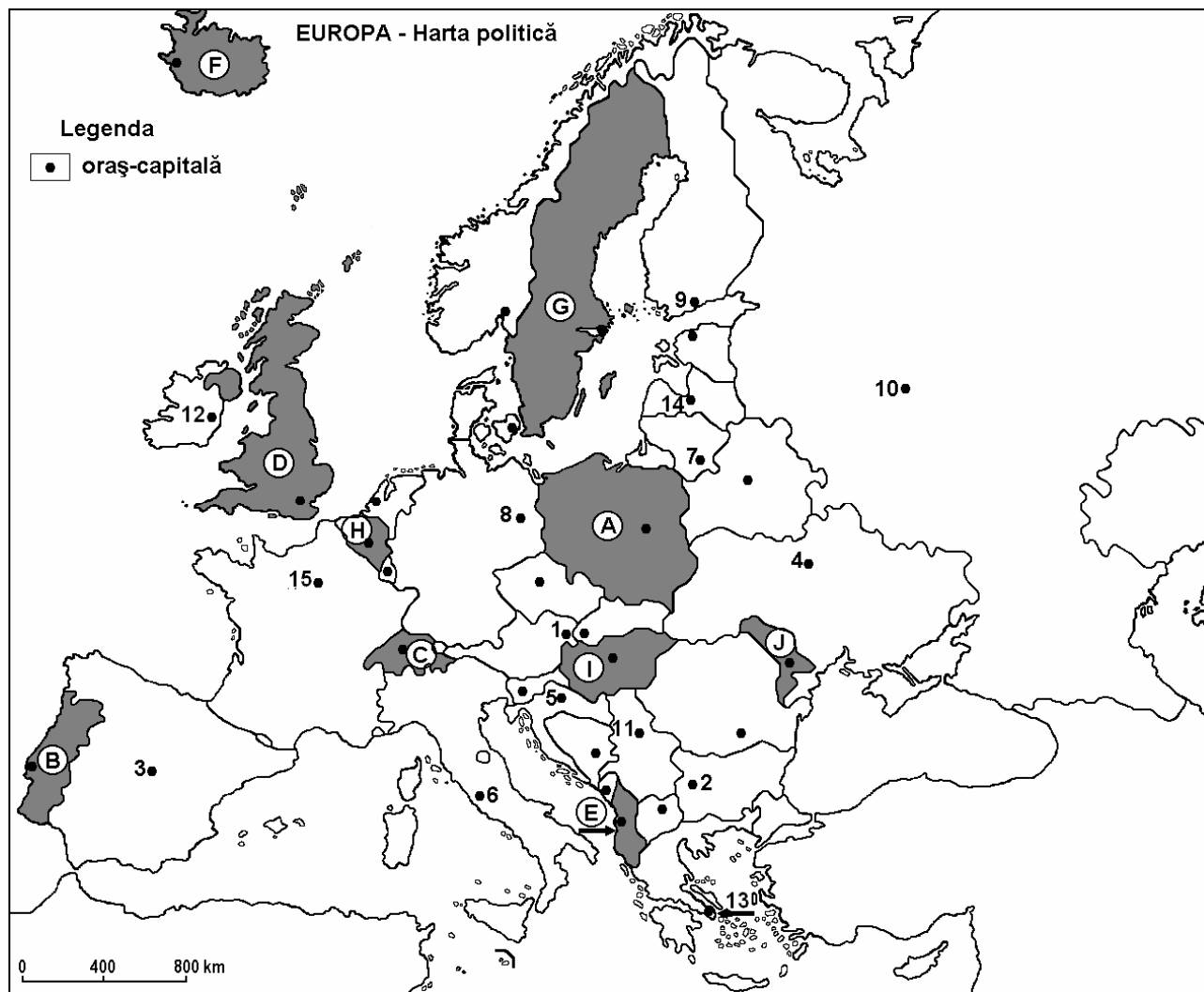
E. Prezența:

1. o cauză a prezenței ghețarilor în Munții Pirinei;
2. o cauză a scăderii cantității de precipitații din vestul spre estul Europei.

4 puncte

Examenul de bacalaureat 2008
Proba D, E, F
Proba scrisă la Geografie
Europa–România–Uniunea Europeană

- Toate subiectele sunt obligatorii. Se acordă 10 puncte din oficiu.
- Timpul efectiv de lucru este de 3 ore.

SUBIECTUL I**(30 puncte)**

Harta de mai sus se referă la subiectul I A – C. Pe hartă sunt marcate state cu litere și orașe – capitală cu numere.

A. Precizați:

1. numele statelor marcate, pe hartă, cu literele **B** și **D**;
2. numele orașelor-capitală marcate, pe hartă, cu numerele **3** și **10**.

4 puncte

B. Scrieți, pe foaia de examen, răspunsurile corecte care completează propozițiile de mai jos:

1. Este traversat de fluviul Sena orașul marcat, pe hartă, cu numărul...
2. Lacul Balaton este situat în statul marcat, pe hartă, cu litera...
3. Vulcani activi se găsesc în statul marcat, pe hartă, cu litera...

6 puncte

C. Scrieți, pe foaia de examen, litera corespunzătoare răspunsului corect pentru fiecare dintre afirmațiile de mai jos:

1. Resurse importante de minereu de fier se găsesc în statul marcat, pe hartă, cu litera:
a. B b. G c. H d. J **2 puncte**
2. Are ieșire la Marea Mediterană statul marcat, pe hartă, cu litera:
a. B b. C c. E d. I **2 puncte**
3. Pădurea de conifere este întâlnită în statul marcat, pe hartă, cu litera:
a. B b. G c. H d. J **2 puncte**
4. A făcut parte din URSS statul marcat, pe hartă, cu litera:
a. A b. E c. I d. J **2 puncte**
5. Cel mai populat oraș al Europei, este orașul marcat, pe hartă, cu numărul:
a. 2 b. 7 c. 10 d. 12 **2 puncte**

D. Precizați trei deosebiri între **clima** din nordul Europei și **clima** din sudul Europei.

Nota 1: Deosebirile se pot referi la oricare dintre următoarele elemente de **climă**: tip de climă, temperaturi medii anuale, precipitații medii anuale, vânturi, amplitudine termică.

Nota 2: Punctajul complet va fi acordat numai dacă cele trei deosebiri vor fi prezentate comparativ și nu separat.

6 puncte

E. Prezentați:

1. o cauză care determină necesitatea forței de muncă externă (imigranți) pentru unele state europene;
2. o cauză care justifică prezența, la aceeași latitudine, a pădurilor în Norvegia, și a ghețarilor în Groenlanda.

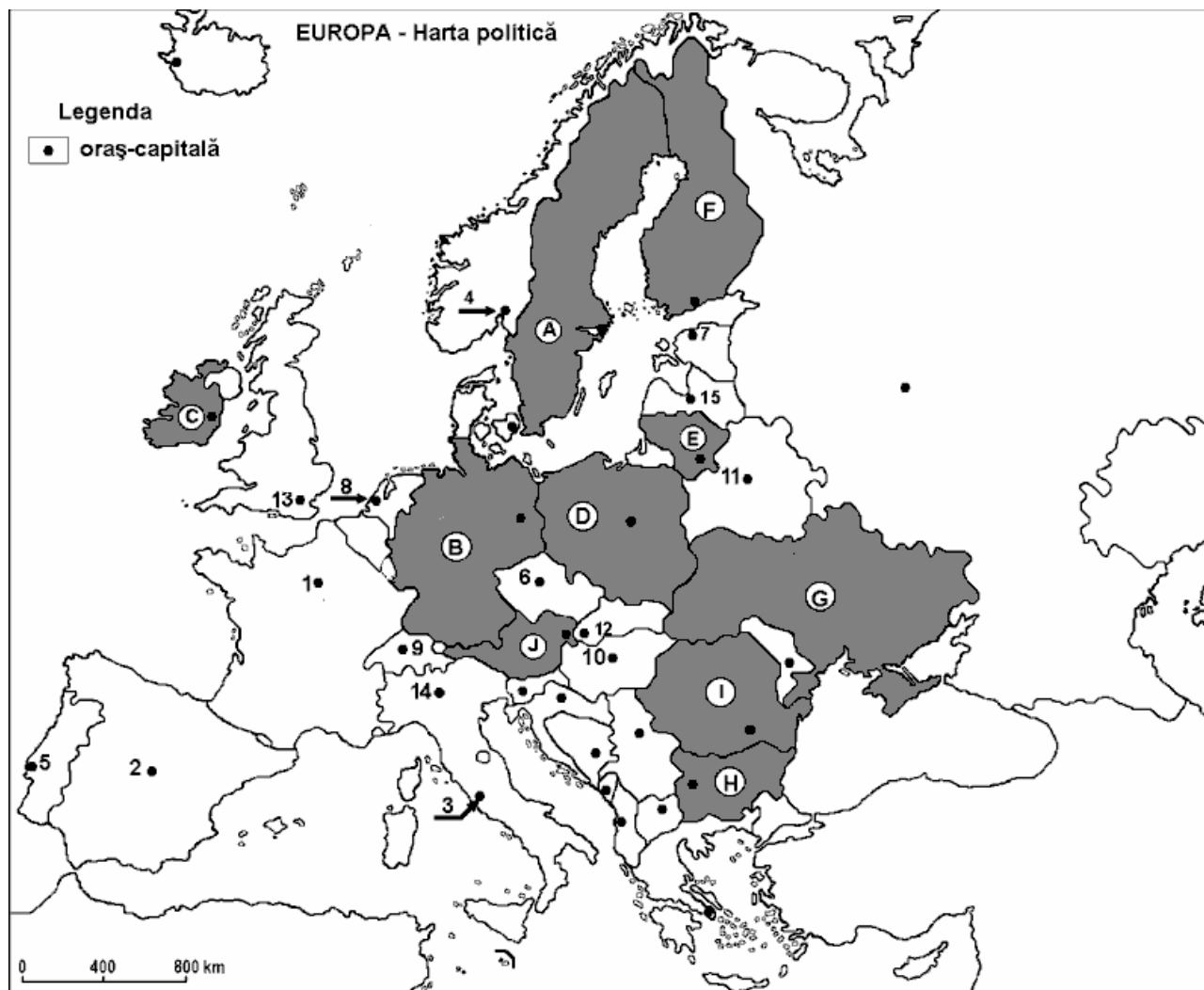
4 puncte

Examenul de bacalaureat 2008
Proba D, E, F
Proba scrisă la Geografie
Europa – România – Uniunea Europeană

- Toate subiectele sunt obligatorii. Se acordă 10 puncte din oficiu.
- Timpul efectiv de lucru este de 3 ore.

SUBIECTUL I

(30 puncte)



Harta de mai sus se referă la subiectul I A – C. Pe hartă sunt marcate state cu litere și orașe-capitală cu numere.

A. Precizați:

1. numele statelor marcate, pe hartă, cu numere **D** și **F**;
2. numele orașelor-capitală marcate, pe hartă, cu numerele **2** și **6**.

4 puncte

B. Scrieți, pe foaia de examen, răspunsurile corecte care completează propozițiile de mai jos:

1. Climatul caracteristic statului marcat, pe hartă, cu litera **C** este cel temperat ...
2. Fluviul care traversează orașul - capitală marcat, pe hartă, cu numărul **1** se numește....
3. Orașul - capitală marcat, pe hartă, cu numărul **8** se numește...

6 puncte

C. Scrieți, pe foaia de examen, litera corespunzătoare răspunsului corect pentru fiecare dintre afirmațiile de mai jos:

1. Cel mai populat stat din Europa Centrală este marcat, pe hartă, cu litera:

a. B	b. D	c. I	d. J	2 puncte
------	------	------	------	-----------------
2. Cu litera **J** este marcat, pe hartă, statul:

a. Cehia	b. Elveția	c. Polonia	d. Ungaria	2 puncte
----------	------------	------------	------------	-----------------
3. Câmpia Nord-Europeană ocupă o parte din teritoriul statului marcat, pe hartă, cu litera:

a. B	b. C	c. H	d. J	2 puncte
------	------	------	------	-----------------
4. Orașul marcat, pe hartă, cu numărul **8** este capitala statului:

a. Belgia	b. Elveția	c. Franța	d. Olanda	2 puncte
-----------	------------	-----------	-----------	-----------------
5. Capitala statului Belarus este marcat, pe hartă, cu numărul:

a. 4	b. 7	c. 11	d. 15	2 puncte
------	------	-------	-------	-----------------

D. Precizați două deosebiri și o asemănare între **relieful** Munților Alpi și **relieful** Munților Scandinaviei.

Nota 1: Deosebirile și asemnarea se pot referi la oricare dintre următoarele aspecte ale **reliefului**: mod de formare, tipuri de roci, distribuția spațială a altitudinilor, gradul de fragmentare, orientarea culmilor și a vailor principale, tipuri genetice de relief, alte aspecte specifice ale reliefului.

Nota 2: Punctajul complet va fi acordat numai dacă cele două deosebiri și asemanarea vor fi prezentate comparativ și nu separat.

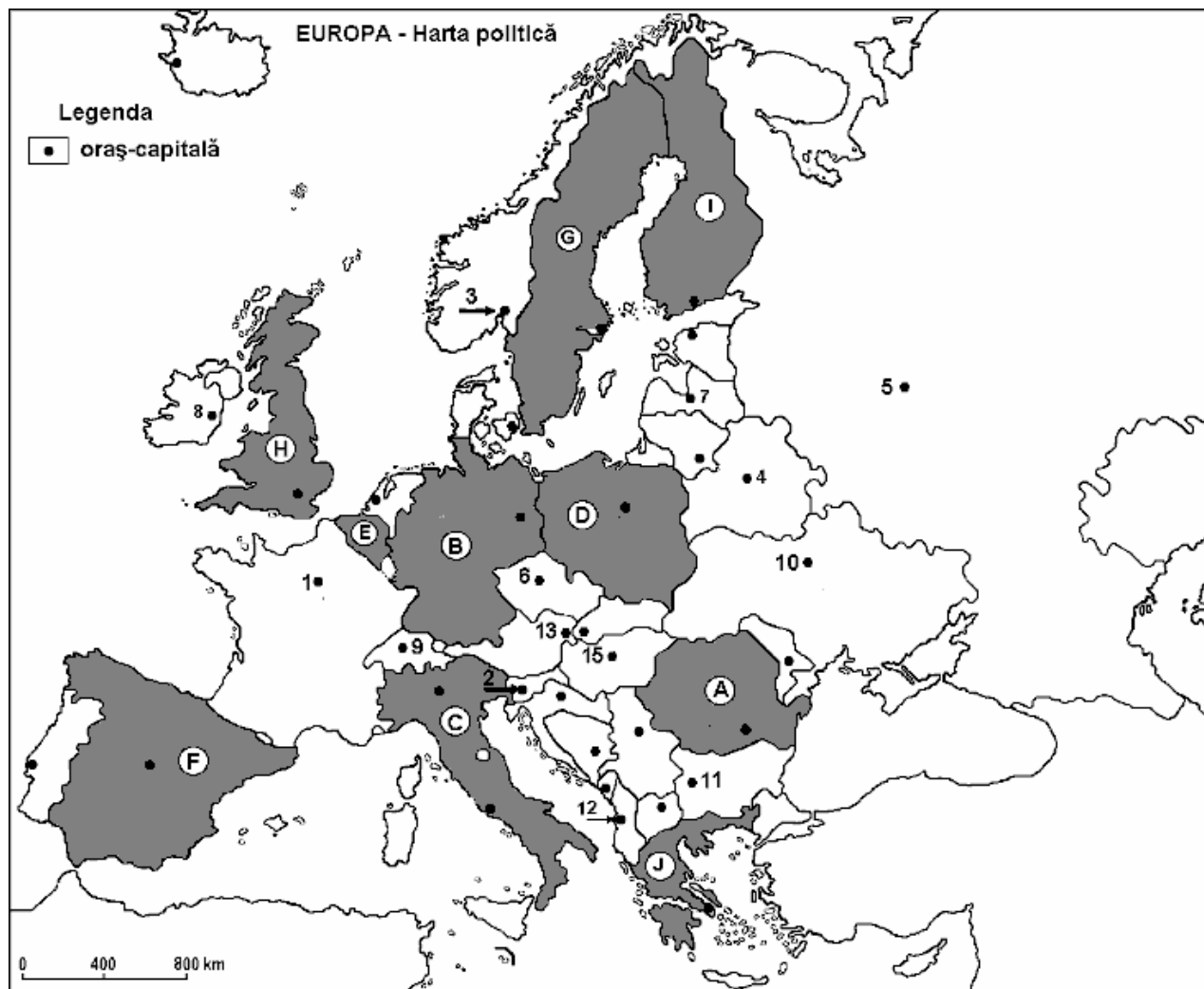
6 puncte

E. Precizați doi factori care fac ca Italia să se numere printre țările europene care primesc cel mai mare număr de turiști anual.

4 puncte

Examenul de bacalaureat 2008
Proba D, E, F
Proba scrisă la GEOGRAFIE
Europa–România–Uniunea Europeană

- Toate subiectele sunt obligatorii. Se acordă 10 puncte din oficiu.
- Timpul efectiv de lucru este de 3 ore.

SUBIECTUL I**(30 puncte)**

Harta de mai sus se referă la subiectul I A – C . Pe hartă sunt marcate state cu litere și orașe – capitală cu numere.

A. Precizați:

1. numele statelor marcate, pe hartă, cu literele **C** și **E**;
2. numele orașelor-capitală marcate, pe hartă, cu numerele **4** și **7**.

4 puncte**B. Scrieți, pe foaia de examen, răspunsurile corecte care completează propozițiile de mai jos:**

1. Statul marcat, pe hartă, cu litera **I** are ieșire la Marea ...
2. Orașul-capitală traversat de fluviul Sena este marcat, pe hartă, cu numărul ...
3. Lanțul muntos situat în sudul statului marcat, pe hartă, cu litera **B** este cel al Munților ...

6 puncte

C. Scrieți, pe foaia de examen, litera corespunzătoare răspunsului corect pentru fiecare dintre afirmațiile de mai jos:

1. Orasul marcat, pe hartă, cu numărul **5** este:
a. Kiev b. Minsk c. Moscova d. Varsovia **2 puncte**
2. Bazinul carbonifer Ruhr se găsește în statul marcat, pe hartă, cu litera:
a. B b. D c. E d. H **2 puncte**
3. Statul marcat, pe hartă, cu litera **D** se învecinează spre vest cu:
a. Germania b. Finlanda c. Marea Britanie d. Suedia **2 puncte**
4. Insula Sardinia aparține statului marcat, pe hartă, cu litera:
a. B b. C c. I d. J **2 puncte**
5. Câmpia situată pe teritoriul statelor marcate, pe hartă, cu literele **B** și **D** este de origine:
a. fluvio-lacustră b. fluvio-glaciară c. litorală d. piemontană **2 puncte**

D. Precizați două deosebiri și o asemănare între **relieful** Munților Carpați și **relieful** Munților Ural.

Nota 1: Deosebirile și asemănările se pot referi la oricare dintre următoarele aspecte ale **reliefului**: mod de formare, tipuri de roci, distribuția spațială a altitudinilor, gradul de fragmentare, orientarea culmilor și a vailor principale, tipuri genetice de relief, alte aspecte specifice ale reliefului.

Nota 2: Punctajul complet va fi acordat numai dacă cele două deosebiri și o asemănare vor fi prezentate comparativ și nu separat.

6 puncte

E. 1. Prezentați o cauză care determină formarea estuarelor la fluviile care se varsă în Oceanul Atlantic.

2. Precizați o importanță economică a acestora.

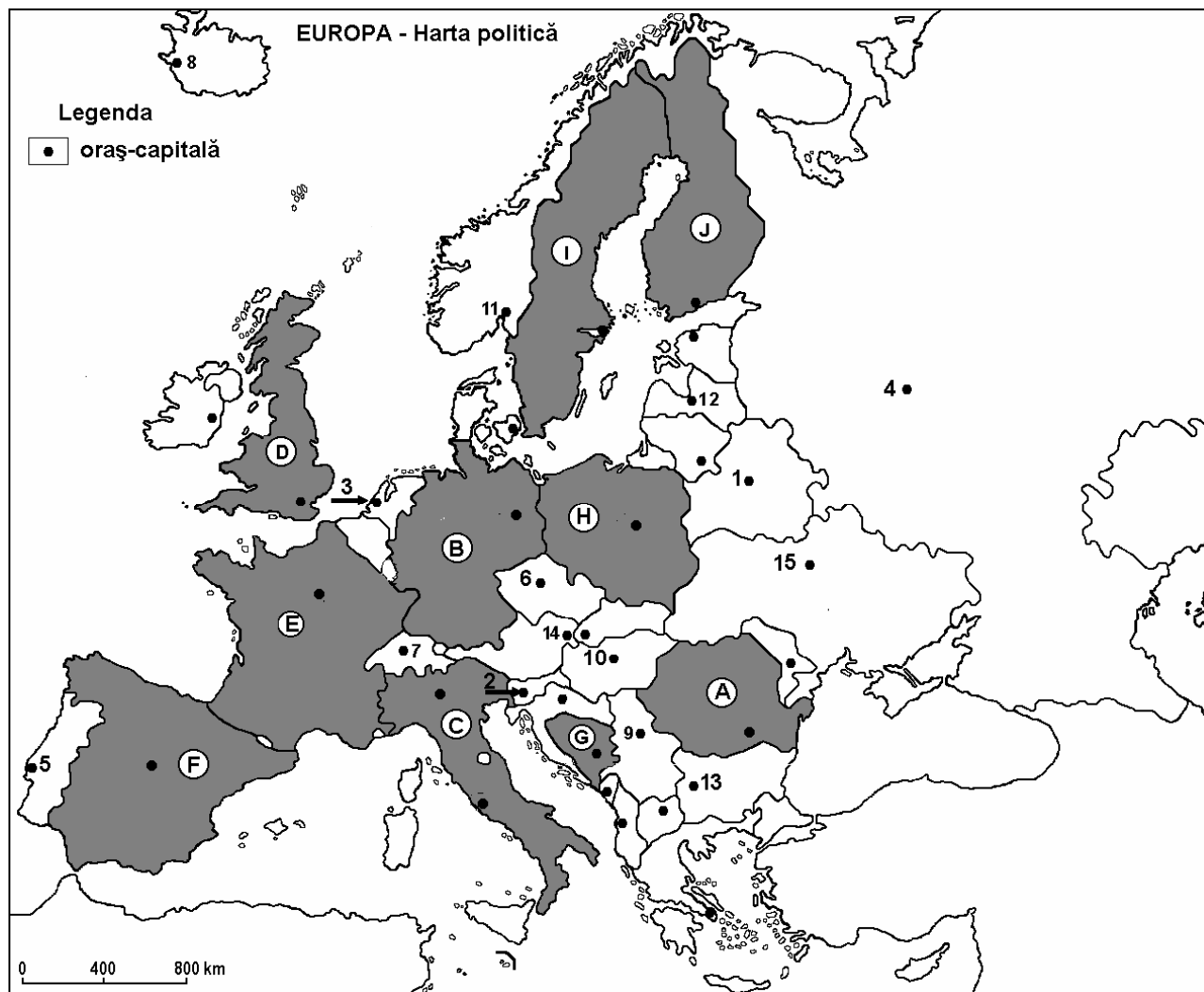
4 puncte

Examenul de bacalaureat 2008
Proba D, E, F
Proba scrisă la GEOGRAFIE
Europa–România–Uniunea Europeană

- Toate subiectele sunt obligatorii. Se acordă 10 puncte din oficiu.
- Timpul efectiv de lucru este de 3 ore.

SUBIECTUL I

(30 puncte)



Harta de mai sus se referă la subiectul I A - C. Pe hartă sunt marcate state cu litere și orașe-capitală cu numere.

A. Precizați:

1. numele statelor marcate, pe hartă, cu literele **D** și **I**;
2. numele orașelor-capitală marcate, pe hartă, cu numerele **3** și **4**.

4 puncte

B. Scrieți, pe foaia de examen, răspunsurile corecte care completează propozițiile de mai jos:

1. Munții Apenini se găsesc pe teritoriul statului marcat, pe hartă, cu litera ...
2. Cea mai importantă resursă energetică a statului marcat, pe hartă, cu litera **D** este ...
3. Statul marcat, pe hartă, cu litera **J** are ieșire la Marea ...

6 puncte

C. Scrieți, pe foaia de examen, litera corespunzătoare răspunsului corect pentru fiecare dintre afirmațiile de mai jos:

1. Fluviul care străbate statul marcat, pe hartă, cu litera **H** este:

a. Nipru	b. Nistru	c. Vistula	d. Volga	2 puncte
----------	-----------	------------	----------	-----------------
2. Masivul Central Francez se găsește pe teritoriul statului marcat, pe hartă, cu litera:

a. B	b. C	c. E	d. F	2 puncte
------	------	------	------	-----------------
3. Capitala statului Belarus este orașul marcat, pe hartă, cu numărul:

a. 1	b. 4	c. 6	d. 10	2 puncte
------	------	------	-------	-----------------
4. Climatul temperat - oceanic este caracteristic statului marcat, pe hartă, cu litera:

a. C	b. D	c. G	d. J	2 puncte
------	------	------	------	-----------------
5. Cel mai mare producător de autovehicule din Europa este statul marcat, pe hartă, cu litera:

a. A	b. B	c. H	d. I	2 puncte
------	------	------	------	-----------------

D. Precizați două deosebiri și o asemănare între **relieful** Câmpiei Padului și **relieful** Câmpiei Europei de Est.

Nota 1: Deosebirile și asemănarea se pot referi la oricare dintre următoarele aspecte ale **reliefului**: mod de formare, tipuri de roci pe care s-a format relieful, distribuția spațială a altitudinilor, gradul de fragmentare, orientarea culmilor și a vailor principale, tipuri genetice de relief, alte aspecte specifice ale reliefului.

Nota 2: Punctajul complet va fi acordat numai dacă cele două deosebiri și asemănarea vor fi prezentate comparativ și nu separat.

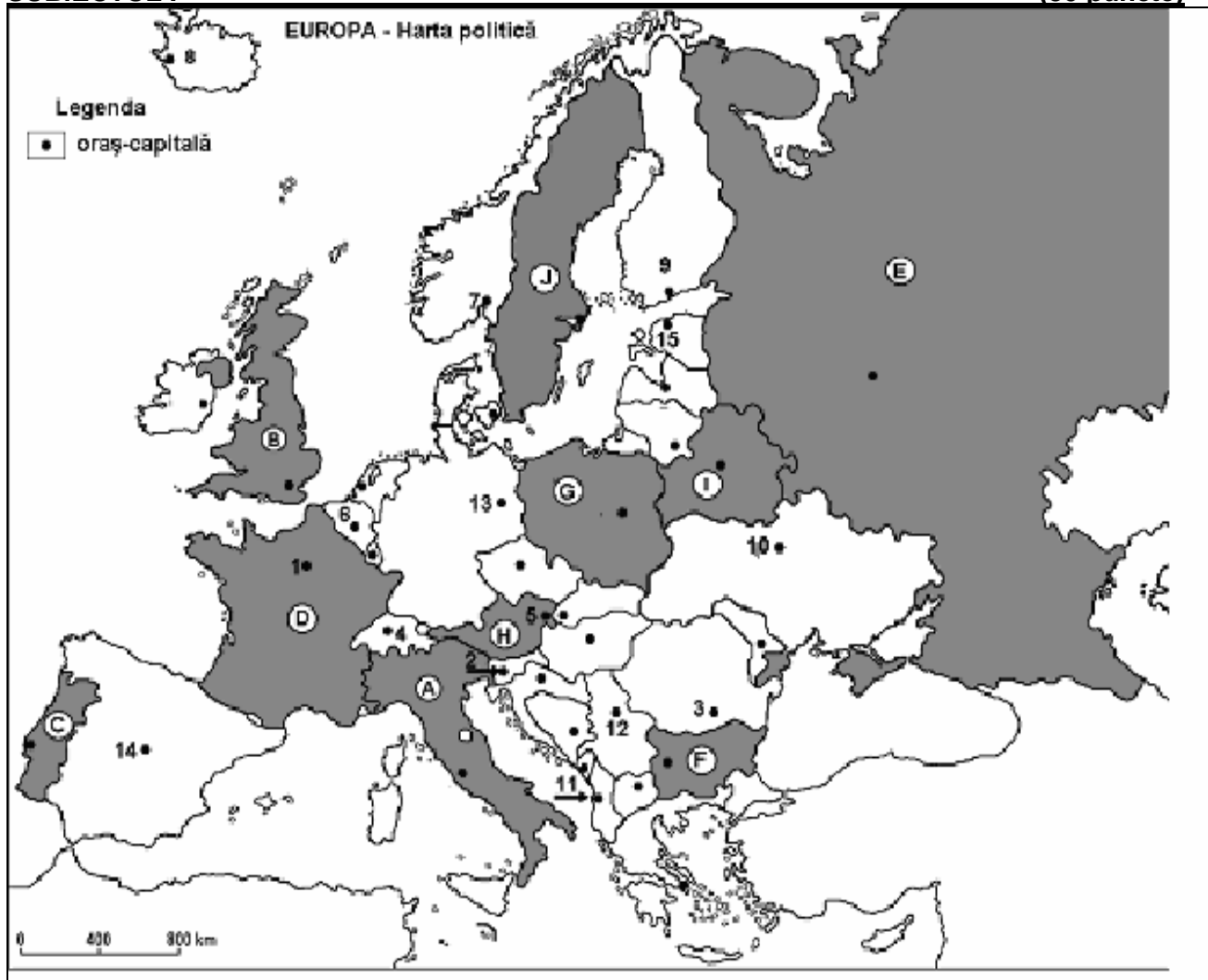
6 puncte

E. Precizați două cauze care determină densitatea scăzută a populației din Peninsula Scandinavă.

4 puncte

Examenul de bacalaureat 2008
Proba D, E, F
Proba scrisă la Geografie
Europa – România – Uniunea Europeană

- Toate subiectele sunt obligatorii. Se acordă 10 puncte din oficiu.
- Timpul efectiv de lucru este de 3 ore.

SUBIECTUL I**(30 puncte)**

Harta de mai sus se referă la subiectele A – C. Pe hartă sunt marcate state cu litere de la A la J și orașe –capitală cu numere de la 1 la 15.

A. Precizați:

1. numele statelor marcate, pe hartă, cu literele **C** și **I**.
2. numele orașelor-capitală marcate, pe hartă, cu numerele **5** și **12**.

4 puncte**B. Scrieți, pe foaia de examen, răspunsurile corecte care completează propozițiile de mai jos:**

1. Statul marcat, pe hartă, cu litera **D** se numește ...
2. Statul marcat, pe hartă, cu litera **A** are, în zonele cu altitudini reduse, un climat predominant ...
3. Bazinul carbonifer Silezia Superioară se află pe teritoriul statului marcat, pe hartă, cu litera

6 puncte

C. Scrieți, pe foaia de examen, litera corespunzătoare răspunsului corect pentru fiecare dintre afirmațiile de mai jos:

1. Orașul marcat pe hartă cu numărul **12** este capitala statului:
a. Croația b. Muntenegru c. Serbia d. Slovenia **2 puncte**
2. Statul marcat, pe hartă, cu litera **F** se numește:
a. Albania b. Bulgaria c. Croația d. Muntenegru **2 puncte**
3. Statul cu cea mai mică suprafață din Europa este o enclavă situată în statul marcat, pe hartă, cu litera:
a. A b. B c. C d. H **2 puncte**
4. Cea mai mare parte a populației din statul marcat, pe hartă, cu litera **F** este de religie:
a. catolică b. ortodoxă c. islamică d. protestantă **2 puncte**
5. Statul marcat, pe hartă, cu litera **G** a aderat la Uniunea Europeană în anul:
a. 1986 b. 2004 c. 2007 d. 1981 **2 puncte**

D. Comparați regiunile montane din Peninsula Scandinavă și Peninsula Iberică, precizând o asemănare și două deosebiri din punct de vedere al reliefului.

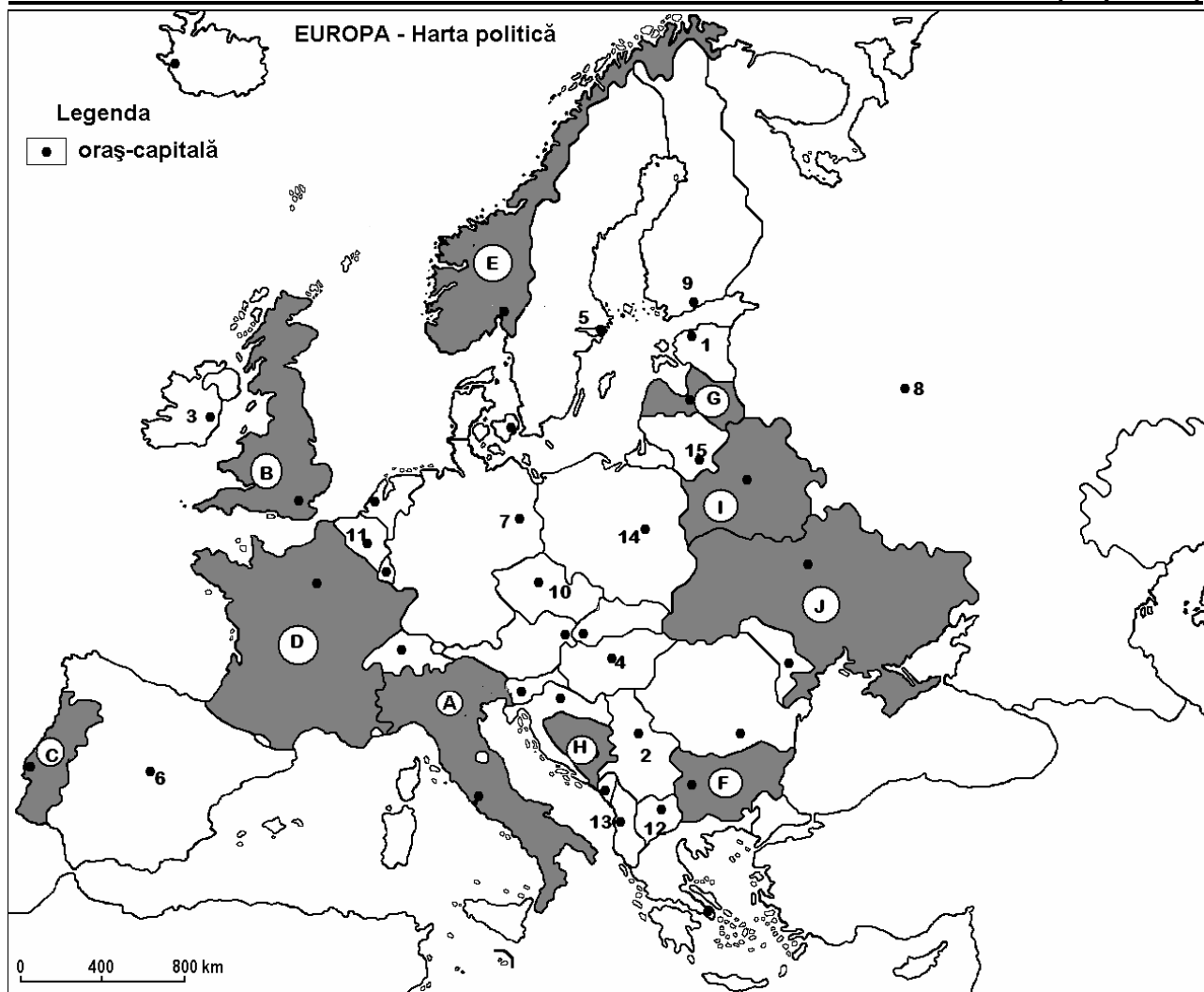
Nota 1: Deosebirile și asemănarea se pot referi la oricare dintre următoarele aspecte ale reliefului: mod de formare, tipuri de roci pe care s-a format relieful, distribuția spațială a altitudinilor, gradul de fragmentare, orientarea culmilor și a văilor principale, tipuri genetice de relief, alte aspecte specifice ale reliefului.

Nota 2: Punctajul complet va fi acordat numai dacă cele deosebiri și asemănarea vor fi prezentate comparativ și nu separat. **6 puncte**

E. Explicați prezența climatului temperat continental cu nuanțe de ariditate din estul Europei, precizând doi factori generatori. **4 puncte**

Examenul de bacalaureat 2008
Proba D, E, F
Proba scrisă la Geografie
Europa – România – Uniunea Europeană

- Toate subiectele sunt obligatorii. Se acordă 10 puncte din oficiu.
- Timpul efectiv de lucru este de 3 ore.

SUBIECTUL I**(30 puncte)**

Harta de mai sus se referă la subiectul I A-C. Pe hartă sunt marcate state cu litere și oraș-capitală cu numere.

A. Precizați:

1. numele statelor marcate, pe hartă, cu literele **H** și **G**.
2. numele orașelor-capitală marcate, pe hartă, cu numerele **3** și **10**.

4 puncte

B. Scrieți, pe foaia de examen, răspunsurile corecte care completează propozițiile de mai jos:

1. Statul marcat, pe hartă, cu litera **I** se numește ...
2. Climatul subpolar este prezent pe teritoriul statului marcat, pe hartă, cu litera ...
3. Munții Apenini sunt situați pe teritoriul statului marcat, pe hartă, cu litera ...

6 puncte

C. Scrieți, pe foaia de examen, litera corespunzătoare răspunsului corect pentru fiecare dintre afirmațiile de mai jos:

1. Între țările europene se remarcă la producția de mășline statul marcat, pe hartă, cu litera:
a. A b. C c. D d. H **2 puncte**
2. Râurile scurte, cu pante accentuate, ce se varsă în Oceanul Atlantic prin fiorduri sunt specifice statului marcat, pe hartă, cu litera:
a. A b. C c. D d. E **2 puncte**
3. Energia mareelor este valorificată în statul marcat, pe hartă, cu litera:
a. B b. D c. F d. J **2 puncte**
4. În Europa, țara care își asigură în proporție de 100% energia electrică din resurse hidroenergetice este marcată, pe hartă, cu litera:
a. D b. E c. I d. J **2 puncte**
5. Cel mai important râu, ca lungime, suprafață a bazinului hidrografic și debit de pe teritoriul statului marcat pe hartă cu litera **A** este:
a. Pad b. Rhin c. Rhone d. Sena **2 puncte**

D. Comparați **climatul** Europei Centrale cu **climatul** Europei estice precizând o asemănare și două deosebiri.

Nota 1: Deosebirile și asemănarea se pot referi la oricare dintre următoarele elemente de **climă**: tip de climă, temperaturi medii anuale, precipitații medii anuale, vânturi, amplitudine termică.

Nota 2: Punctajul complet va fi acordat numai dacă cele două deosebiri și asemănarea vor fi prezentate comparativ și nu separat. **6 puncte**

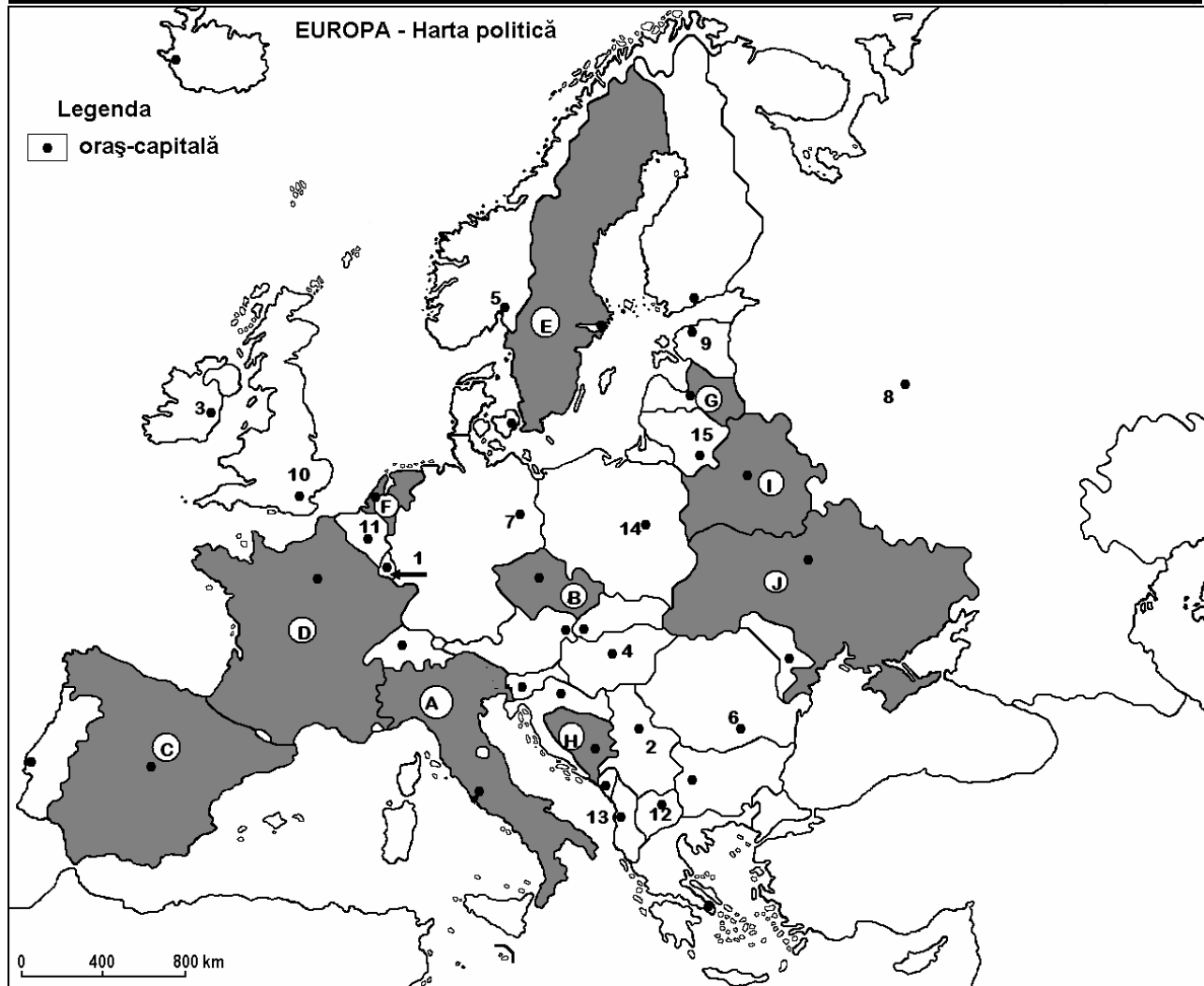
E. Explicați dezvoltarea turismului în Europa prezentând două argumente care să susțină afirmația: „Europa este leagănul turismului mondial.” **4 puncte**

Examenul de bacalaureat 2008
Proba D, E, F
Proba scrisă la Geografie
Europa – România – Uniunea Europeană

- Toate subiectele sunt obligatorii. Se acordă 10 puncte din oficiu.
- Timpul efectiv de lucru este de 3 ore.

SUBIECTUL I

(30 puncte)



Harta de mai sus se referă la subiectul I A-D. Pe hartă sunt marcate state cu litere și oraș-capitală cu numere.

A. Precizați:

1. numele statelor marcate, pe hartă, cu literele **B** și **D**.
2. numele orașelor-capitală marcate, pe hartă, cu numerele **1** și **9**.

4 puncte

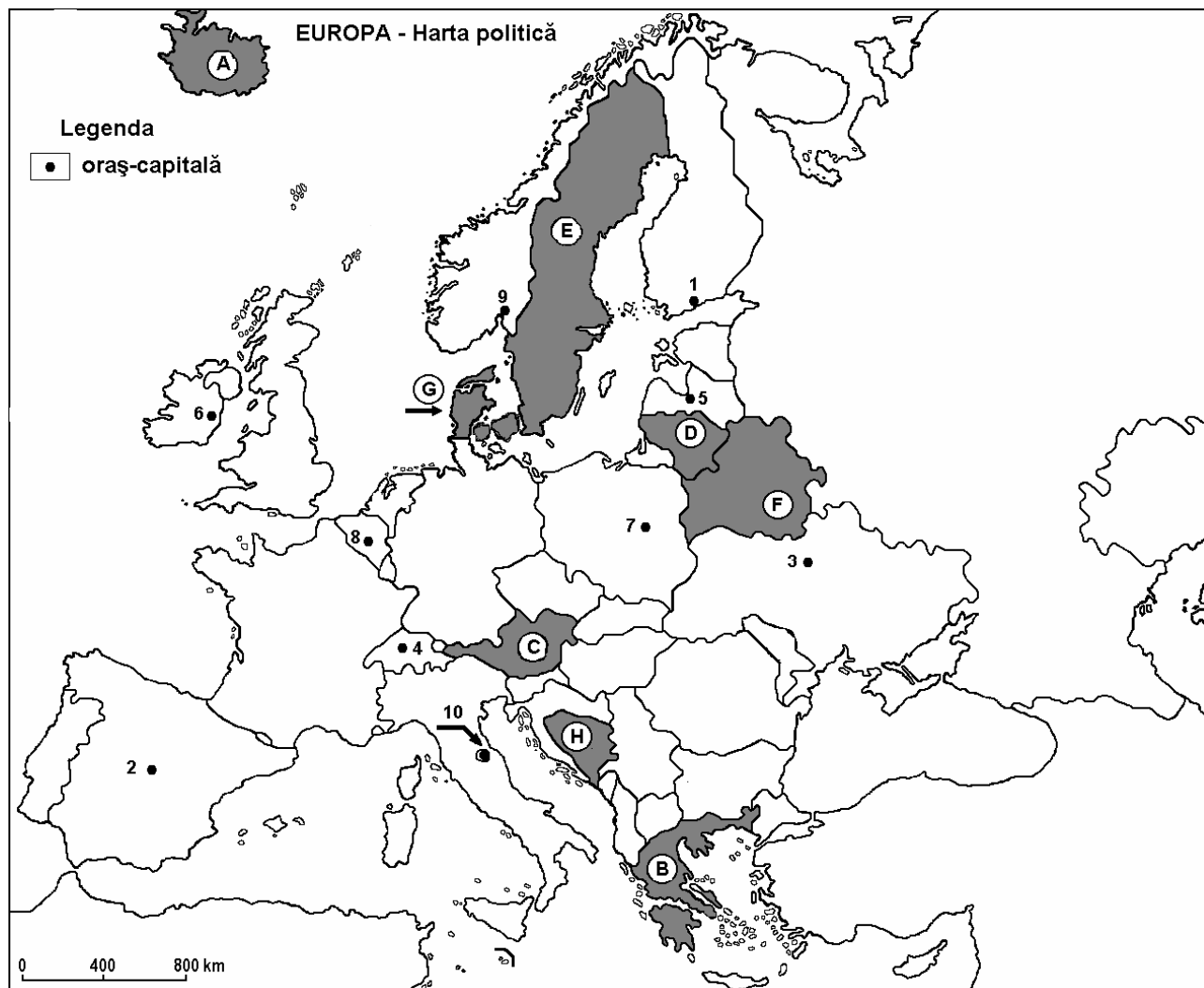
B. Scrieți, pe foaia de examen, răspunsurile corecte care completează propozițiile de mai jos:

1. Podișul Donețk se află situat pe teritoriul statului marcat pe hartă cu litera ...
2. Capitala statului marcat, pe hartă, cu litera **A** se numește ...
3. Râul Guadalquivir străbate câmpia Andaluziei din statul marcat pe hartă cu litera ...

6 puncte

Examenul de bacalaureat 2008
Proba D, E, F
Proba scrisă la Geografie
Europa – România – Uniunea Europeană

- Toate subiectele sunt obligatorii. Se acordă 10 puncte din oficiu.
- Timpul efectiv de lucru este de 3 ore.

SUBIECTUL I**(30 puncte)**

Harta de mai sus se referă la subiectul I A - E. Pe hartă sunt marcate state cu litere și orașe-capitală cu numere.

A. Precizați:

1. numele statelor marcate, pe hartă, cu numerele **D** și **H**;
2. numele orașelor-capitală marcate, pe hartă, cu numerele **2** și **3**.

4 puncte

B. Scrieți, pe foaia de examen, răspunsurile corecte care completează propozițiile de mai jos:

1. Statul marcat, pe harta, cu litera **B** se numește ...
2. Orașul Reykjavik este capitala statului marcat , pe harta, cu litera ...
3. Orașul marcat, pe hartă, cu numărul **6** se numește ...

6 puncte

C. Scrieți, pe foaia de examen, litera corespunzătoare răspunsului corect pentru fiecare dintre afirmațiile de mai jos:

- | | | | | | |
|---|-------------|-------------|-------------|--------------|-----------------|
| 1. Orașul San Marino este marcat, pe hartă, cu numărul: | a. 4 | b. 5 | c. 8 | d. 10 | 2 puncte |
| 2. Se află în fiordul cu același nume, orașul marcat, pe hartă, cu numărul: | a. 2 | b. 7 | c. 9 | d. 10 | 2 puncte |
| 3. Este o monarhie, statul marcat, pe hartă, cu litera: | a. C | b. F | c. G | d. H | 2 puncte |
| 4. Flamanzii și valonii locuiesc în orașul marcat, pe hartă, cu numărul: | a. 1 | b. 4 | c. 7 | d. 8 | 2 puncte |
| 5. Fluviul Nipru traversează statul marcat, pe hartă, cu numărul: | a. E | b. F | c. G | d. H | 2 puncte |

D. Precizați două deosebiri și o asemănare între **relieful** statului marcat, pe hartă, cu litera **E** și **relieful** statului marcat, pe hartă, cu litera **H**.

Nota 1: Deosebirile și asemănarea se pot referi la oricare dintre următoarele aspecte ale **reliefului**: forme predominante de relief, mod de formare, tipuri de roci, distribuția spațială a altitudinilor, gradul de fragmentare, orientarea culmilor și văilor principale, tipuri genetice de relief, alte aspecte specifice ale reliefului.

Nota 2: Punctajul complet va fi acordat numai dacă deosebirile și asemănarea vor fi prezentate comparativ și nu separat.

6 puncte

E. Prezentați doi factori care determină regimul diferit de scurgere al fluviilor europene.

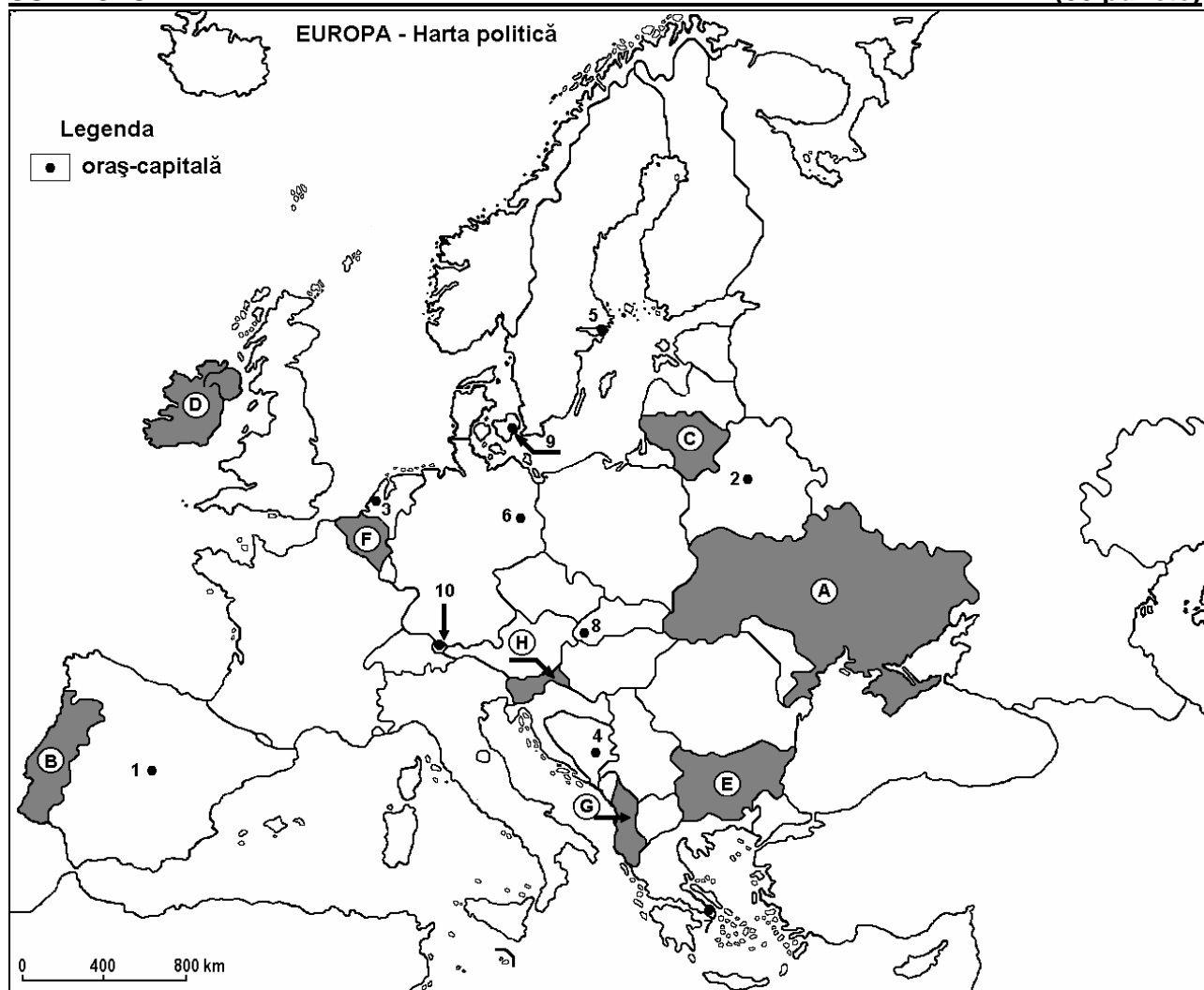
4 puncte

Examenul de bacalaureat 2008
Proba D, E, F
Proba scrisă la Geografie
Europa – România – Uniunea Europeană

- Toate subiectele sunt obligatorii. Se acordă 10 puncte din oficiu.
- Timpul efectiv de lucru este de 3 ore.

SUBIECTUL I

(30 puncte)



Harta de mai sus se referă la subiectul I A - D. Pe hartă sunt marcate state cu litere și orașe-capitală cu numere.

A. Precizați:

1. numele statelor marcate, pe hartă, cu literele **B** și **F**;
2. numele orașelor-capitală marcate, pe hartă, cu numerele **6** și **9**.

4 puncte

B. Scrieți, pe foaia de examen, răspunsurile corecte care completează propozițiile de mai jos:

1. Zăcămintele de minereu de fier de la Krivoi Rog, se află pe teritoriul statului marcat, pe hartă, cu litera
2. Vilnius este orașul-capitală al statului marcat, pe hartă cu, litera ...
3. Statul marcat, pe hartă, cu litera **H** se numește ...

6 puncte

C. Scrieți, pe foaia de examen, litera corespunzătoare răspunsului corect pentru fiecare dintre afirmațiile de mai jos:

- | | | | | | |
|---|-------------------|------------------|--------------------|--------------------|-----------------|
| 1. Este străbătut de Dunăre orașul marcat, pe hartă, cu numărul: | a. 7 | b. 8 | c. 9 | d. 10 | 2 puncte |
| 2. Orașul-capitală marcat, pe hartă, cu numărul 2 se numește: | a. Kiev | b. Minsk | c. Moscova | d. Varșovia | 2 puncte |
| 3. Capitala Greciei este marcată, pe hartă, cu numărul: | a. 1 | b. 4 | c. 7 | d. 10 | 2 puncte |
| 4. Capitala statului marcat, pe hartă, cu litera D se numește: | a. Belfast | b. Dublin | c. Glasgow | d. Londra | 2 puncte |
| 5. Orașul marcat, pe hartă, cu numărul 8 este capitala statului: | a. Austria | b. Cehia | c. Slovacia | d. Ungria | 2 puncte |

D. Precizați trei deosebiri între **relieful** statului marcat, pe hartă, cu litera **D** și **relieful** statului marcat cu litera **E**.

Nota 1: Deosebirile se pot referi la oricare dintre următoarele aspecte ale **reliefului**: forme predominante de relief, mod de formare, tipuri de roci, distribuția spațială a altitudinilor, gradul de fragmentare, orientarea culmilor și văilor principale, tipuri genetice de relief, alte aspecte specifice ale reliefului.

Nota 2: Punctajul complet va fi acordat numai dacă deosebirile vor fi prezentate comparativ și nu separat.

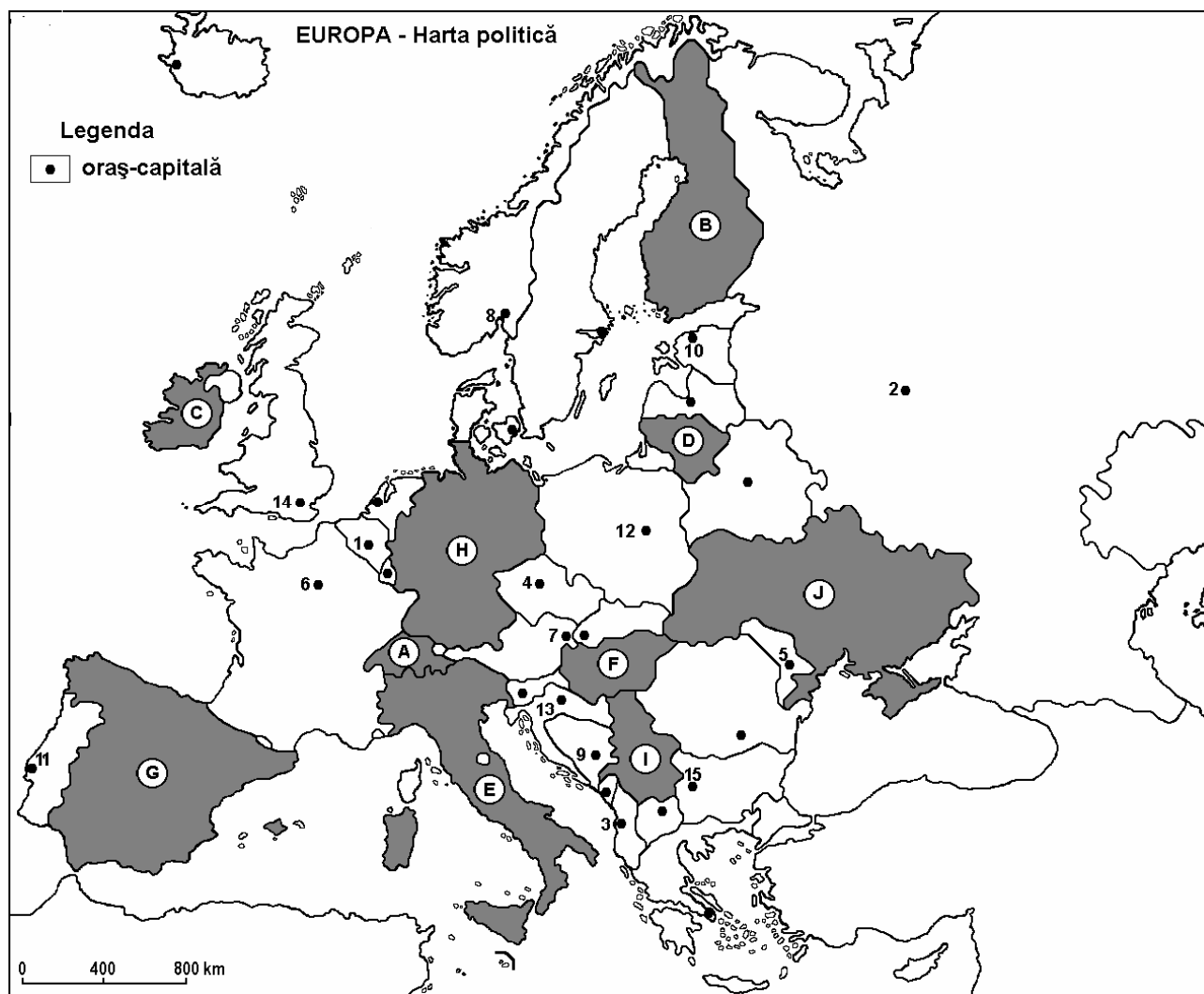
6 puncte

E. Prezentați două cauze care determină ca sistemului de transport european să i se acorde o importanță deosebită în politica financiară comunitară.

4 puncte

Examenul de bacalaureat 2008
Proba D, E, F
Proba scrisă la Geografie
Europa – România – Uniunea Europeană

- Toate subiectele sunt obligatorii. Se acordă 10 puncte din oficiu.
- Timpul efectiv de lucru este de 3 ore.

SUBIECTUL I**(30 puncte)**

Harta de mai sus se referă la subiectul I A - D. Pe hartă sunt marcate state cu litere și orașe-capitală cu numere.

A. Precizați:

1. numele statelor marcate, pe hartă, cu literele **A** și **D**;
2. numele orașelor-capitală marcate, pe hartă, cu numerele **6** și **15**.

4 puncte**B. Scrieți, pe foaia de examen, răspunsurile corecte care completează propozițiile de mai jos:**

1. Vulcanii Etna și Vezuviu sunt situați în statul marcat, pe hartă, cu litera ...
2. Este străbătut de râul Sena orașul marcat, pe hartă, cu numărul ...
3. Orașul marcat, pe hartă, cu numărul **10** este port la golful numit ...

6 puncte

C. Scrieți, pe foaia de examen, litera corespunzătoare răspunsului corect pentru fiecare dintre afirmațiile de mai jos:

1. Au făcut parte din același stat, orașele marcate, pe hartă, cu numerele:
a. 2 și 4 **b.** 2 și 5 **c.** 4 și 10 **d.** 5 și 6 **2 puncte**
2. Prezintă cel mai sudic ghețar din Europa, statul marcat, pe hartă, cu litera:
a. A **b.** E **c.** G **d.** H **2 puncte**
3. Este port situat într-un fiord orașul marcat, pe hartă, cu numărul:
a. 3 **b.** 4 **c.** 7 **d.** 8 **2 puncte**
4. Bazinele carbonifere Ruhr și Saar se găsesc în statul marcat, pe hartă, cu litera:
a. B **b.** D **c.** F **d.** H **2 puncte**
5. În anul 2004 a fost integrat în Uniunea Europeană statul marcat, pe hartă, cu litera:
a. B **b.** E **c.** F **d.** H **2 puncte**

D. Precizați trei deosebiri între **clima** statului marcat, pe hartă, cu litera **B** și **clima** statului marcat cu litera **C**.

Nota 1: Deosebirile se pot referi la oricare dintre următoarele elemente de **climă**: tip de climă, temperaturi medii anuale, precipitații medii anuale, vânturi, amplitudine termică.

Nota 2: Punctajul complet va fi acordat numai dacă deosebirile vor fi prezentate comparativ și nu separat.

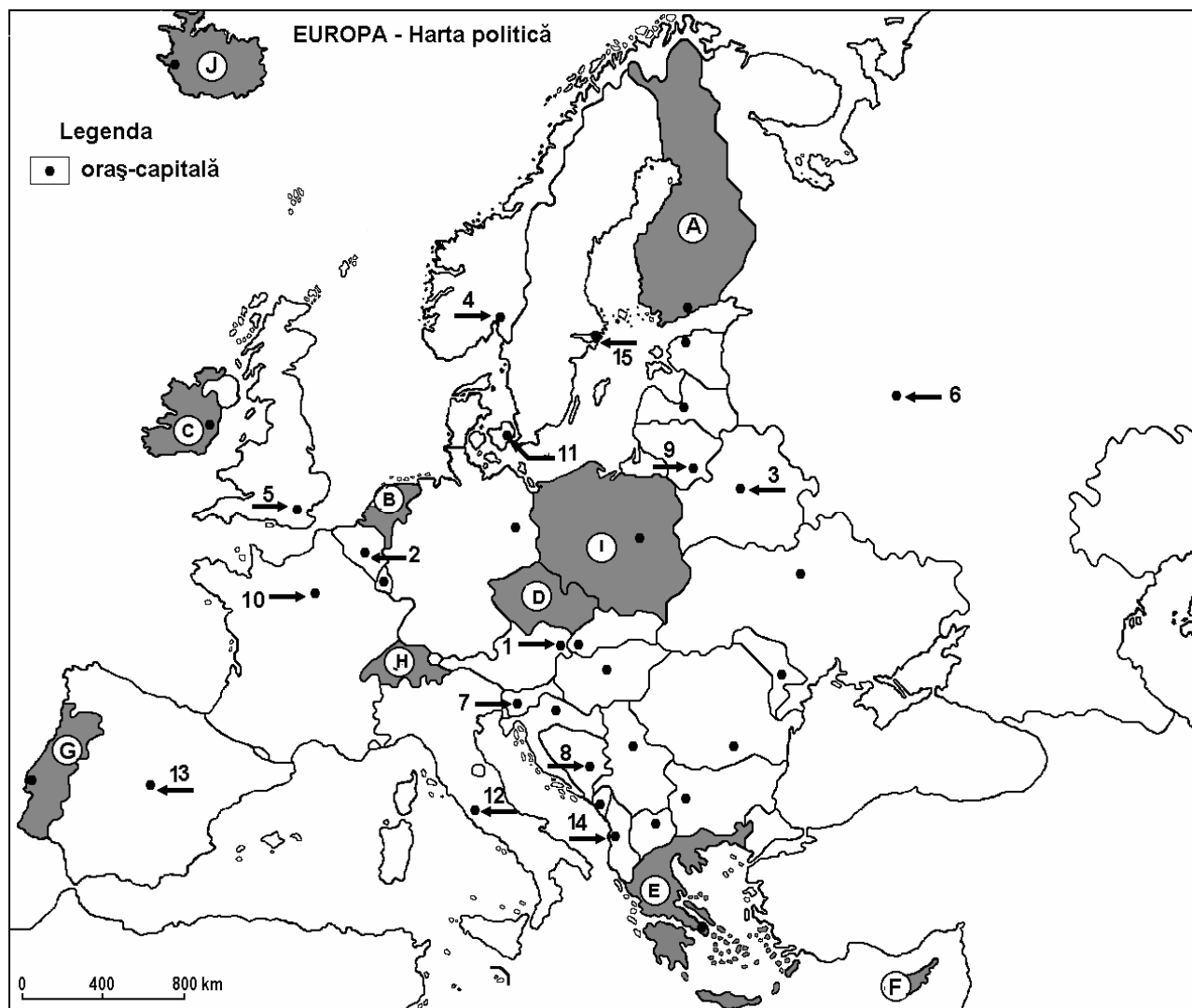
6 puncte

E. Prezentați doi factori care determină regimul diferit de scurgere al fluviilor europene.

4 puncte

Examenul de bacalaureat 2008
Proba D, E, F
Proba scrisă la Geografie
Europa – România – Uniunea Europeană

- Toate subiectele sunt obligatorii. Se acordă 10 puncte din oficiu.
- Timpul efectiv de lucru este de 3 ore.

SUBIECTUL I**(30 puncte)**

Harta de mai sus se referă la subiectele I A – D. Pe hartă sunt marcate state cu litere și orașe –capitală cu numere.

A. Precizați:

1. numele statelor marcate, pe hartă, cu literele **D** și **G**;
2. numele orașelor-capitală marcate, pe hartă, cu numărul **1** și **5**.

4 puncte

B. Scrieți, pe foaia de examen, răspunsurile corecte care completează propozițiile de mai jos:

1. Este situată într-o mare insulă vulcanică din Oceanul Atlantic țara marcată, pe hartă, cu litera ...
2. Statul marcat, pe hartă, cu litera **E**, se află în partea de sud a Peninsulei ...
3. Portul maritim Rotterdam este situat în țara marcată, pe hartă, cu litera ...

6 puncte

C. Scrieți, pe foaia de examen, litera corespunzătoare răspunsului corect pentru fiecare dintre afirmațiile de mai jos:

1. Fluviul Sena străbate capitala marcată, pe hartă, cu numărul:

a. 2	b. 4	c. 10	d. 11	2 puncte
------	------	-------	-------	-----------------
2. Laponii, populație nomadă care se ocupă cu creșterea renilor, locuiesc în țara marcată, pe hartă, cu litera:

a. A	b. D	c. E	d. I	2 puncte
------	------	------	------	-----------------
3. Orașul marcat, pe hartă, cu numărul 1 este capitala statului:

a. Austria	b. Cehia	c. Slovacia	d. Ungaria	2 puncte
------------	----------	-------------	------------	-----------------
4. Peisajul de tundră ocupă fâșii înguste în țara marcată, pe hartă, cu litera:

a. E	b. G	c. I	d. J	2 puncte
------	------	------	------	-----------------
5. Orașul - capitală al statului marcat, pe hartă, cu litera I se numește:

a. Atena	b. Berna	c. Nicosia	d. Varșovia	2 puncte
----------	----------	------------	-------------	-----------------

D. Precizați trei deosebiri între **clima** țării marcate pe hartă cu litera **C** și **clima** țării marcate pe hartă cu litera **E**.

Nota 1: Deosebirile se pot referi la oricare dintre următoarele elemente de **climă**: tip de climă, temperaturi medii anuale, precipitații medii anuale, vânturi, amplitudine termică.

Nota 2: Punctajul complet va fi acordat numai dacă cele trei deosebiri vor fi prezentate comparativ și nu separat.

6 puncte

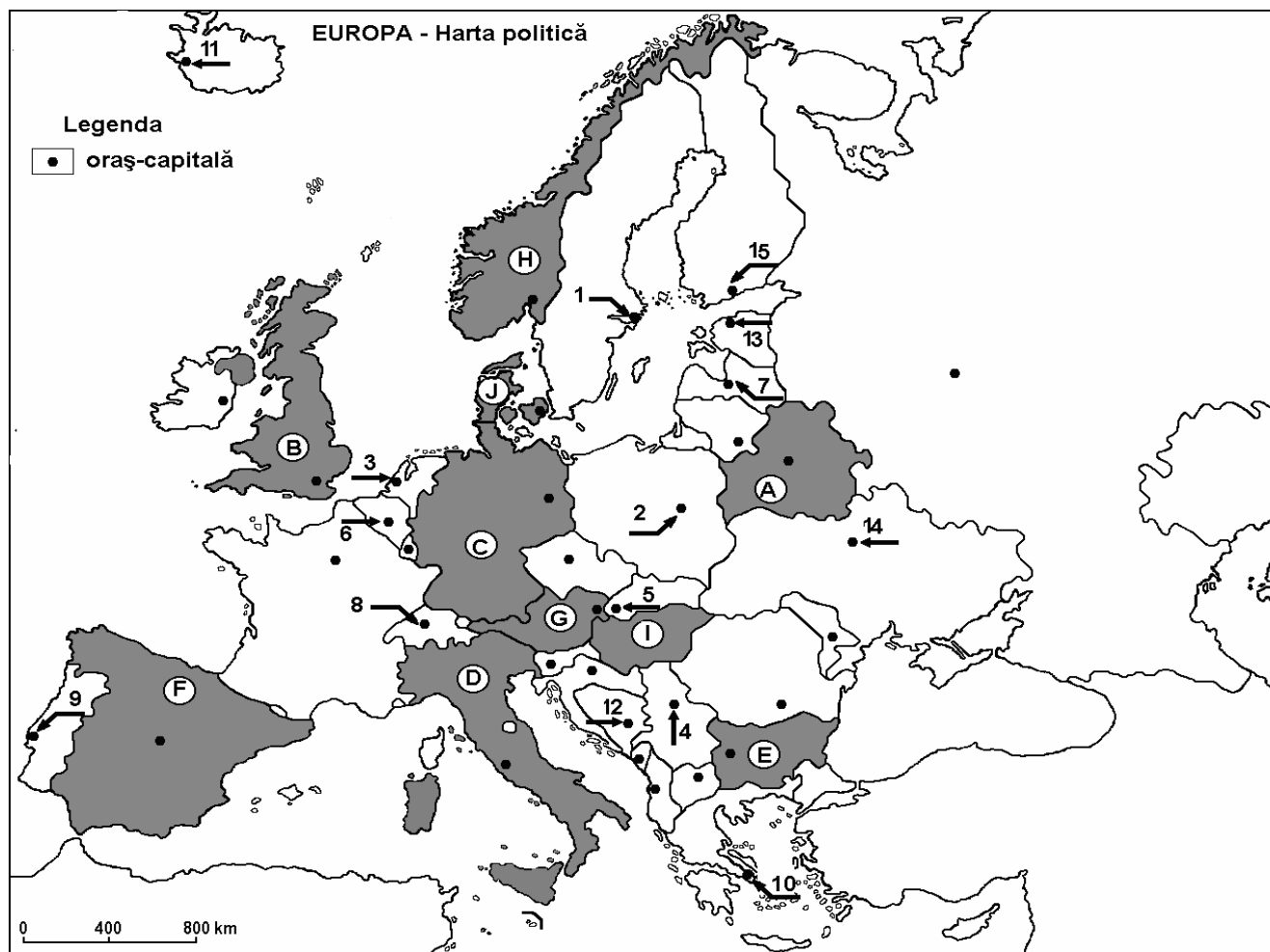
E. 1. Menționați doi vulcani din sudul Europei.

2. Explicați prezența vulcanismului în spațiul Mării Mediterane.

4 puncte

Examenul de bacalaureat 2008
Proba D, E, F
Proba scrisă la Geografie
Europa – România – Uniunea Europeană

- Toate subiectele sunt obligatorii. Se acordă 10 puncte din oficiu.
- Timpul efectiv de lucru este de 3 ore.

SUBIECTUL I**(30 puncte)**

Harta de mai sus se referă la subiectele I A – E. Pe hartă sunt marcate state cu litere și orașe –capitală cu numere.

A. Precizați:

1. numele statelor marcate, pe hartă, cu litera **B** și **G**;
2. numele orașelor-capitală marcate, pe hartă, cu numărul **2** și **9**.

4 puncte

B. Scrieți, pe foaia de examen, răspunsurile corecte care completează propozițiile de mai jos:

1. Punctul extrem nordic al Europei se află pe teritoriul statului marcat, pe hartă, cu litera ...
2. Munții Apenini sunt situați în statul marcat, pe hartă, cu litera ...
3. Aglomerația urbană Rhein-Ruhr se defășoară în statul marcat, pe hartă, cu litera ...

6 puncte

C. Scrieți, pe foaia de examen, litera corespunzătoare răspunsului corect pentru fiecare dintre afirmațiile de mai jos:

1. Este o monarhie constituțională țara marcată pe hartă cu litera:
a. A b. B c. C d. D **2 puncte**
2. Fluviul Dunărea traversează - orașul capitală marcat, pe hartă, cu numărul:
a. 2 b. 5 c. 8 d. 9 **2 puncte**
3. Grupa popoarelor slave există în numeroase țări europene printre care și în țara marcată, pe hartă, cu litera:
a. A b. B c. D d. G **2 puncte**
4. Face parte din generația orașelor antice, capitala marcată, pe hartă, cu numărul:
a. 1 b. 5 c. 8 d. 10 **2 puncte**
5. Statul situat în Peninsula Iutlanda este marcat, pe hartă, cu litera:
a. B b. D c. E d. J **2 puncte**

D. Precizați trei deosebiri **climatice** între țara marcată, pe hartă, cu litera **D** și țara marcată, pe hartă, cu litera **H**.

Nota 1: Deosebirile se pot referi la oricare dintre următoarele elemente de **climă**: tip de climă, temperaturi medii anuale, precipitații medii anuale, vânturi, amplitudine termică.

Nota 2: Punctajul complet va fi acordat numai dacă cele trei deosebiri vor fi prezentate comparativ și nu separat.

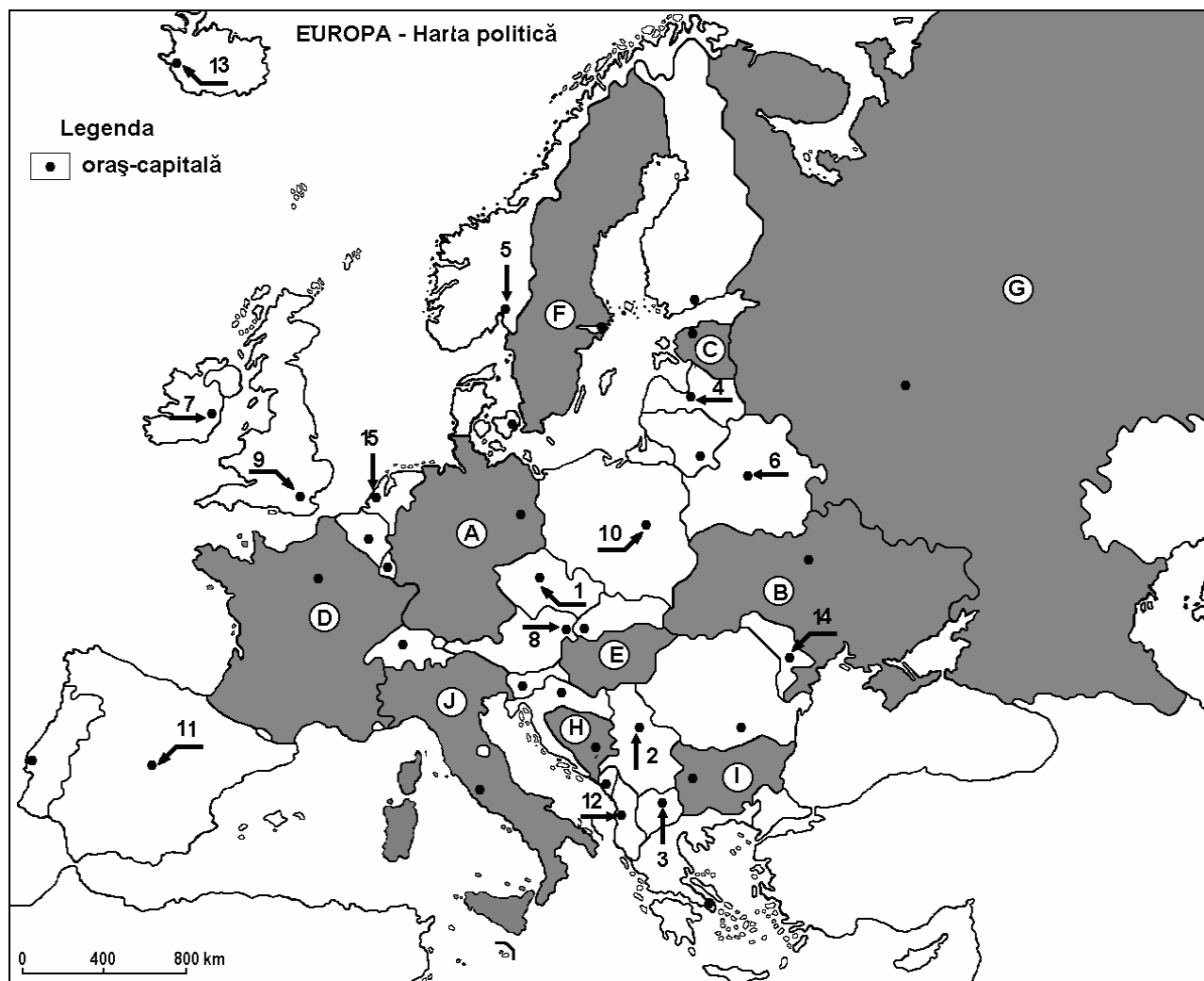
6 puncte

E. Prezentați două argumente care să susțină afirmația: „Râurile sunt scurte și au debite mari în statul marcat pe hartă cu litera **B**”.

4 puncte

Examenul de bacalaureat 2008
Proba D, E, F
Proba scrisă la Geografie
Europa – România – Uniunea Europeană

- Toate subiectele sunt obligatorii. Se acordă 10 puncte din oficiu.
- Timpul efectiv de lucru este de 3 ore.

SUBIECTUL I**(30 puncte)**

Harta de mai sus se referă la subiectele I A– E. Pe hartă sunt marcate state cu litere și orașe –capitală cu numere

A. Precizați:

1. numele statelor marcate, pe hartă, cu literele **A** și **J**;
2. numele orașelor-capitală marcate, pe hartă, cu numerele **8** și **11**.

4 puncte**B. Scrieți, pe foaia de examen, răspunsurile corecte care completează propozițiile de mai jos:**

1. Este situat în Peninsula Scandinavă orașul - capitală marcat, pe hartă, cu numărul ...
2. Cea mai populată capitală europeană se află pe teritoriul țării marcate, pe hartă, cu litera ...
3. Vulcanul Vezuviu se află pe teritoriul statului marcat, pe hartă, cu litera ...

6 puncte

C. Scrieți, pe foaia de examen, litera corespunzătoare răspunsului corect pentru fiecare dintre afirmațiile de mai jos:

1. Dunărea străbate capitalele europene marcate, pe hartă, cu numerele:

a. 1 și 2	b. 2 și 5	c. 2 și 8	d. 8 și 10	2 puncte
-----------	-----------	-----------	------------	-----------------
2. Vorbesc o limbă germanică locuitorii statului marcat, pe hartă, cu litera:

a. A	b. D	c. G	d. J	2 puncte
------	------	------	------	-----------------
3. Are țărm la Marea Baltică statul marcat, pe hartă, cu numărul:

a. D	b. F	c. H	d. J	2 puncte
------	------	------	------	-----------------
4. Altitudinea maximă din Munții Alpi se află pe teritoriul statului marcat, pe hartă, cu litera:

a. B	b. C	c. D	d. G	2 puncte
------	------	------	------	-----------------
5. Capitala Serbiei este orașul marcat, pe hartă, cu numărul:

a. 2	b. 4	c. 12	d. 13	2 puncte
------	------	-------	-------	-----------------

D. Precizați două deosebiri și o asemănare între **climatul** câmpiilor litorale din țările marcate, pe hartă, cu litera **D** și cu litera **J**.

Nota 1: Deosebirile se pot referi la oricare dintre următoarele elemente de **climă**: tip de climă, temperaturi medii anuale, precipitații medii anuale, vânturi, amplitudine termică.

Nota 2: Punctajul complet va fi acordat numai dacă cele două deosebiri și asemanarea vor fi prezentate comparativ și nu separat.

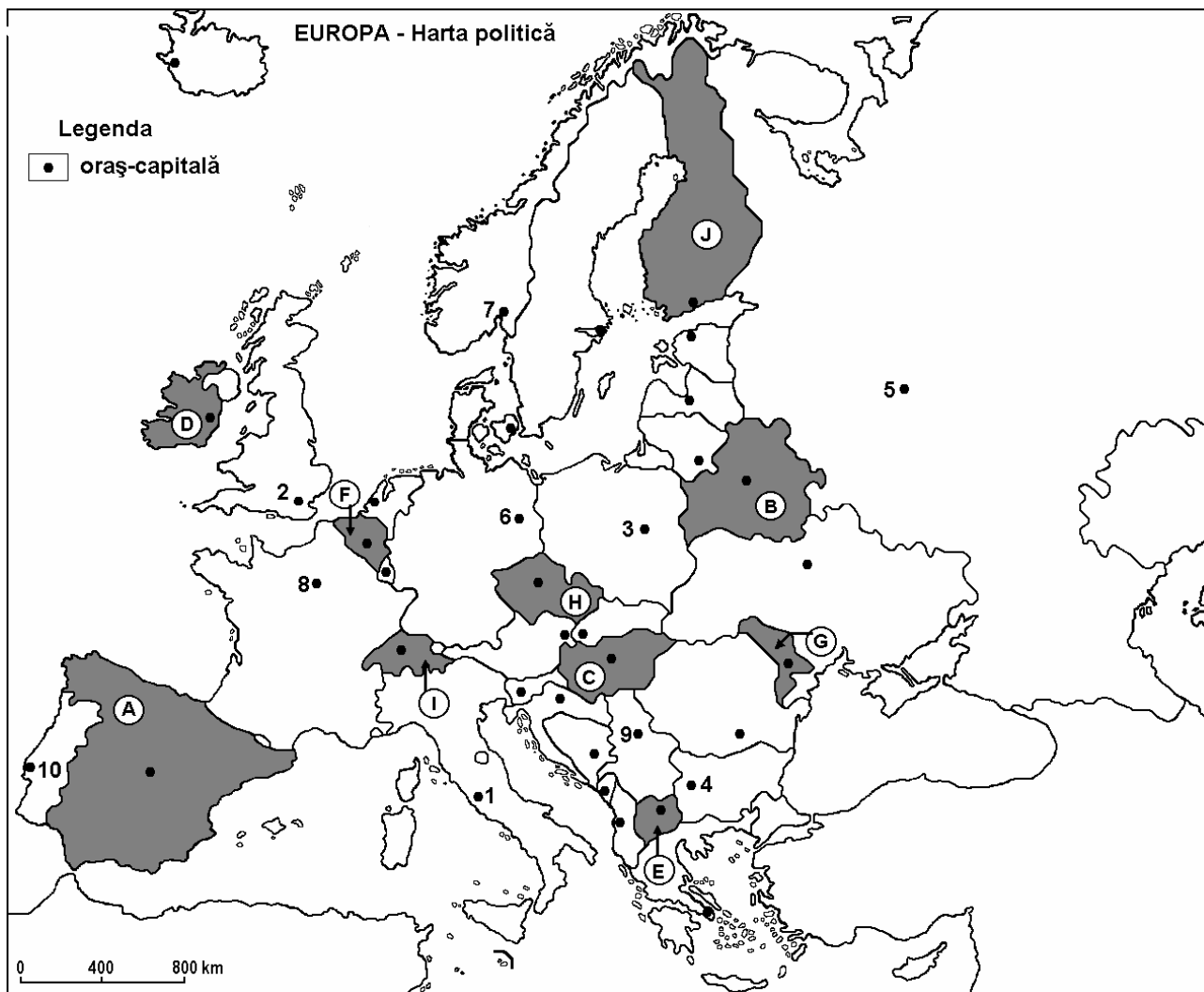
6 puncte

E. Precizați ce tip genetic de lacuri există în regiunile de câmpie, din țara marcată, pe hartă, cu litera **F** și care este cauza formării lor.

4 puncte

Examenul de bacalaureat 2008
Proba D, E, F
Proba scrisă la Geografie
Europa – România – Uniunea Europeană

- Toate subiectele sunt obligatorii. Se acordă 10 puncte din oficiu.
- Timpul efectiv de lucru este de 3 ore.

SUBIECTUL I**(30 puncte)**

Harta de mai sus se referă la subiectul I A – D. Pe hartă sunt marcate state cu litere și orașe-capitală cu numere.

A. Precizați:

1. numele statelor marcate, pe hartă, cu literele D și F;
2. numele orașelor-capitală marcate, pe hartă, cu numerele 1 și 4.

4 puncte

B. Scrieți, pe foaia de examen, răspunsurile corecte care completează propozițiile de mai jos:

1. Are ieșire atât la Oceanul Atlantic cât și la Marea Mediterană statul marcat, pe hartă, cu litera ...
2. În statul marcat, pe hartă, cu litera A, la granița cu Franța se află Munții ...
3. În statul marcat, pe hartă, cu litera B, este specific tipul climatic temperat ...

6 puncte

C. Scrieți, pe foaia de examen, litera corespunzătoare răspunsului corect pentru fiecare dintre afirmațiile de mai jos:

1. Statul marcat, pe hartă, cu litera **H** se numește:
a. Cehia b. Serbia c. Ungaria d. Ucraina **2 puncte**
2. Se învecinează cu Ucraina statele marcate, pe hartă, cu literele:
a. B, C, H b. B, E, H c. C, E, G d. B, C, G **2 puncte**
3. Pe teritoriul statului marcat, pe hartă, cu litera **I** se află de Munții:
a. Alpi b. Balcani c. Carpați d. Ural **2 puncte**
4. Fluviul Dunărea traversează teritoriul statului marcat, pe hartă, cu litera:
a. C b. E c. F d. I **2 puncte**
5. În statul marcat, pe hartă, cu litera **J** predomină vegetația:
a. mediteraneeană b. păduri de conifere c. păduri de foioase d. de stepă **2 puncte**

D. Precizați trei deosebiri între **clima** statului marcat, pe hartă, cu litera **A** și **clima** statului marcat, pe hartă, cu litera **I**.

Nota 1: Deosebirile se pot referi la oricare dintre următoarele elemente de **climă**: tip de climă, temperaturi medii anuale, precipitații medii anuale, vânturi, amplitudin termică.

Nota 2: Punctajul complet va fi acordat numai dacă cele trei deosebiri vor fi prezentate comparativ și nu separat.

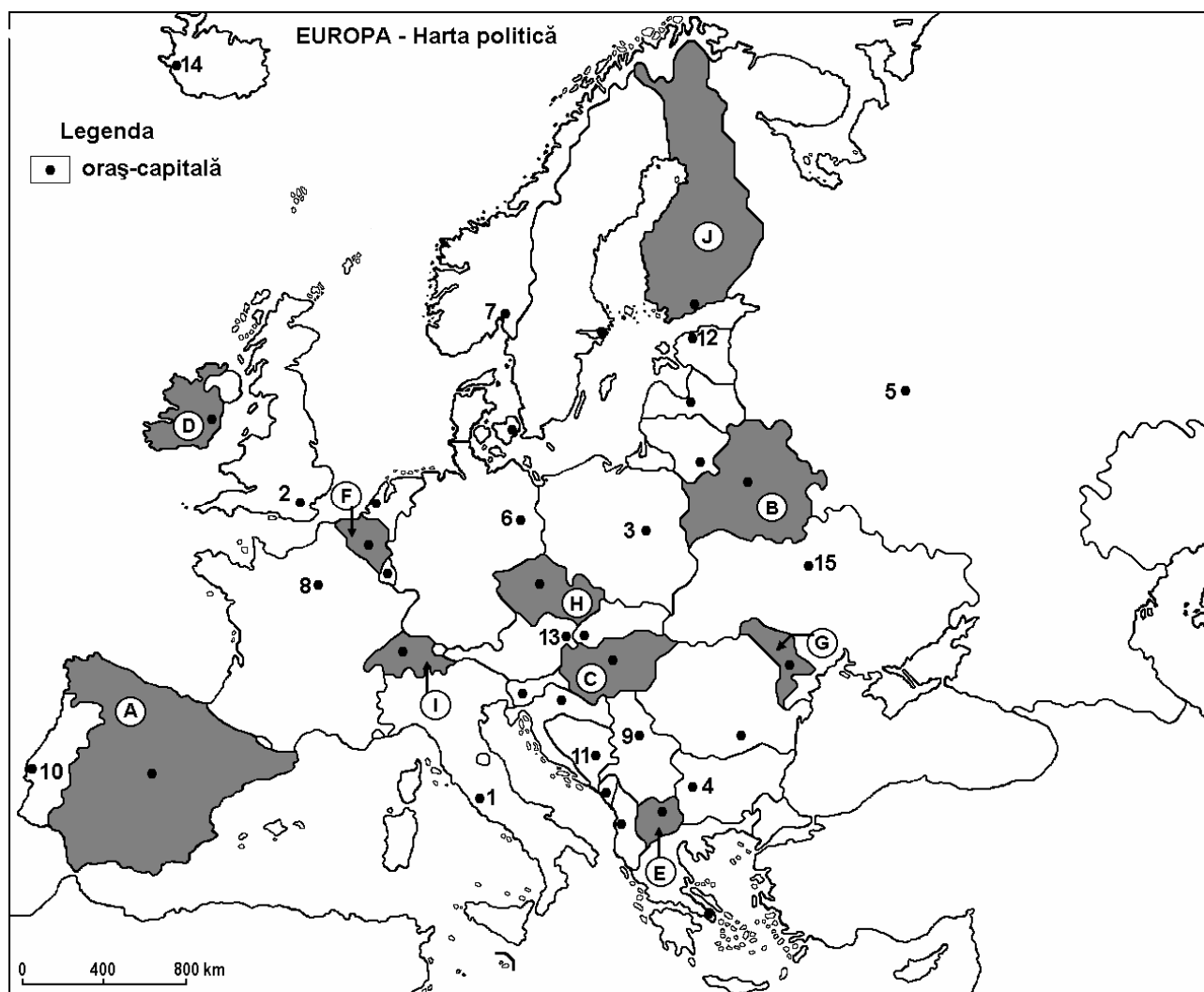
6 puncte

E. Precizați două cauze ale diferențelor de temperatură, dintre sudul și nordul Europei.

4 puncte

Examenul de bacalaureat 2008
Proba D, E, F
Proba scrisă la Geografie
Europa – România – Uniunea Europeană

- Toate subiectele sunt obligatorii. Se acordă 10 puncte din oficiu.
- Timpul efectiv de lucru este de 3 ore.

SUBIECTUL I**(30 puncte)**

Harta de mai sus se referă la subiectul I A – D. Pe hartă sunt marcate state cu litere și orașe–capitală cu numere.

A. Precizați:

1. numele statelor marcate, pe hartă, cu literele **B** și **I**;
2. numele orașelor–capitală marcate, pe hartă, cu numerele **3** și **10**.

4 puncte

B. Scrieți, pe foaia de examen, răspunsurile corecte care completează propozițiile de mai jos:

1. Statul marcat, pe hartă, cu litera **E** se află situat în Peninsula ...
2. Are deschidere la Marea Baltică statul marcat, pe hartă, cu litera...
3. Fluviul Tamisa străbate orasul–capitală marcat, pe hartă, cu numărul ...

6 puncte

C. Scrieți, pe foaia de examen, litera corespunzătoare răspunsului corect pentru fiecare dintre afirmațiile de mai jos:

1. Statul marcat, pe hartă, cu litera E se numește:
a. Albania b. Bulgaria c. Grecia d. Macedonia **2 puncte**
2. Nu are ieșire la Oceanul Planetar statul marcat pe hartă cu litera:
a. A b. F c. H d. J **2 puncte**
3. Munții Alpi sunt situați și pe teritoriul statului marcat, pe hartă, cu litera:
a. A b. B c. F d. I **2 puncte**
4. Fluviul Dunarea, străbate orașul –capitală marcat, pe hartă, cu numărul:
a. 3 b. 6 c. 13 d. 15 **2 puncte**
5. Viticultura este specifică statului marcat, pe hartă, cu litera:
a. A b. B c. J d. F **2 puncte**

D. Precizați trei deosebiri între **clima** statului marcat, pe hartă, cu litera **E** și **clima** statului marcat, pe hartă, cu litera **J**;

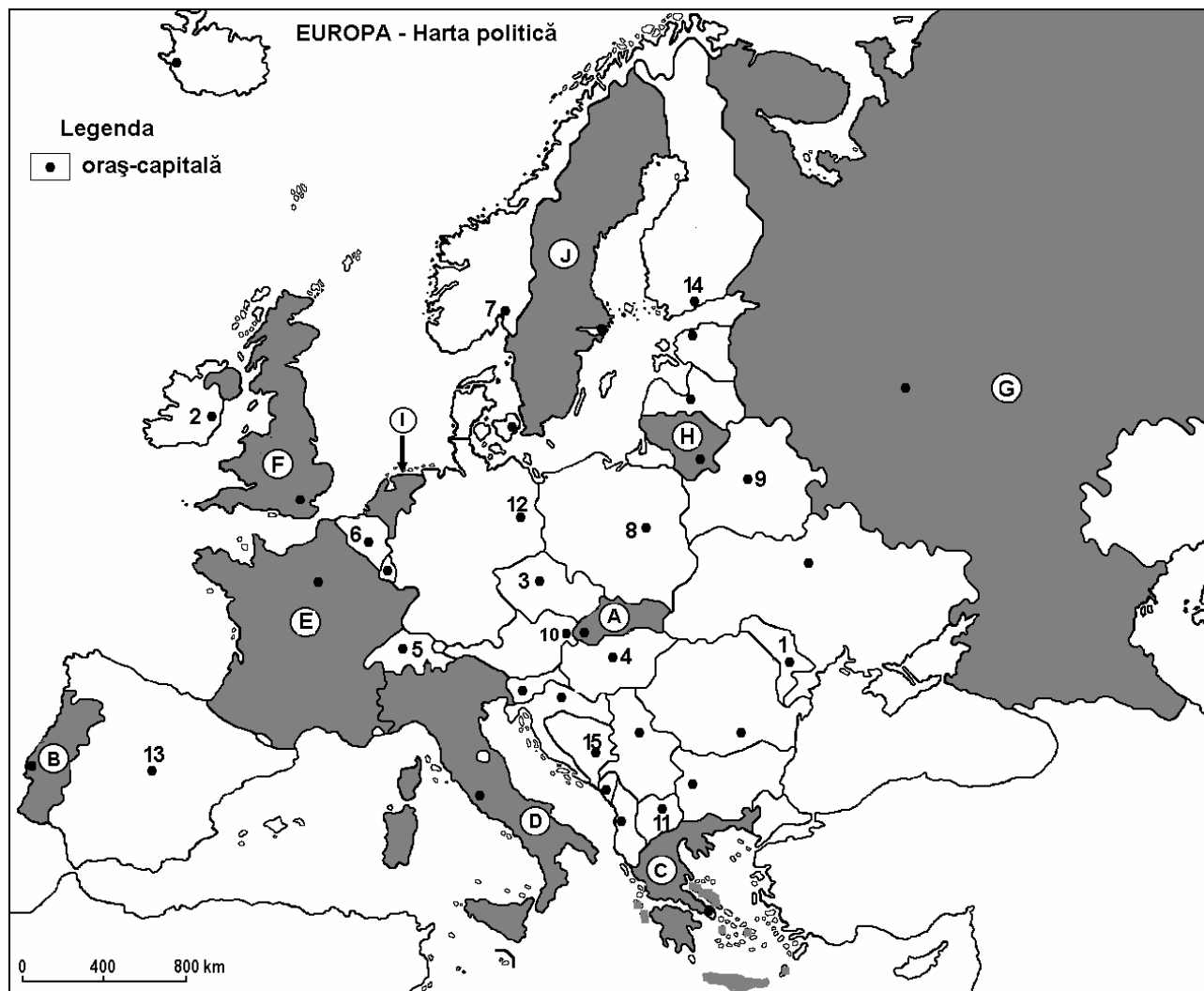
Nota 1: Deosebirile se pot referi la oricare dintre următoarele elemente de **climă**: tip de climă, temperaturi medii anuale, precipitații medii anuale, vânturi, amplitudine termică.

Nota 2: Punctajul complet va fi acordat numai dacă cele trei deosebiri vor fi prezentate comparativ și nu separat. **6 puncte**

E. Precizați două cauze ale diferenței de precipitații dintre vestul și estul Europei. **4 puncte**

Examenul de bacalaureat 2008
Proba D, E, F
Proba scrisă la Geografie
Europa – România – Uniunea Europeană

- Toate subiectele sunt obligatorii. Se acordă 10 puncte din oficiu.
- Timpul efectiv de lucru este de 3 ore.

SUBIECTUL I**(30 puncte)**

Harta de mai sus se referă la subiectele A – D. Pe hartă sunt marcate state cu litere și orașe –capitală cu numere.

A. Precizați:

1. numele statelor marcate, pe hartă, cu literle **C** și **J**;
2. numele orașelor-capitală marcate, pe hartă, cu numerele **2** și **8**.

4 puncte

B. Scrieți, pe foaia de examen, răspunsurile corecte care completează propozițiile de mai jos:

1. Statul marcat, pe hartă, cu litera **C** se află situat în Peninsula ...
2. Statul marcat, pe hartă, cu litera **H** are deschidere la Marea ...
3. Capitala statului marcat, pe hartă, cu litera **E**, este traversată de fluviul ...

6 puncte

C. Scrieți, pe foaia de examen, litera corespunzătoare răspunsului corect pentru fiecare dintre afirmațiile de mai jos:

- | | | | | | |
|---|-------------|-------------|-------------|-------------|-----------------|
| 1. Primul Meridian străbate statul marcat, pe hartă, cu litera: | a. C | b. D | c. F | d. J | 2 puncte |
| 2. Climatul temperat oceanic este specific în statul marcat, pe hartă, cu litera: | a. A | b. C | c. D | d. F | 2 puncte |
| 3. Câmpia Padului este situată în statul marcat, pe hartă, cu litera: | a. A | b. B | c. D | d. I | 2 puncte |
| 4. Fluviul Volga străbate teritoriul statului marcat, pe hartă, cu litera: | a. A | b. B | c. G | d. H | 2 puncte |
| 5. Polderele sunt specifice statului marcat, pe hartă, cu litera: | a. A | b. C | c. E | d. I | 2 puncte |

D. Precizați o asemănare și două deosebiri între relieful statului marcat cu litera **E** și relieful statului marcat cu litera **D**.

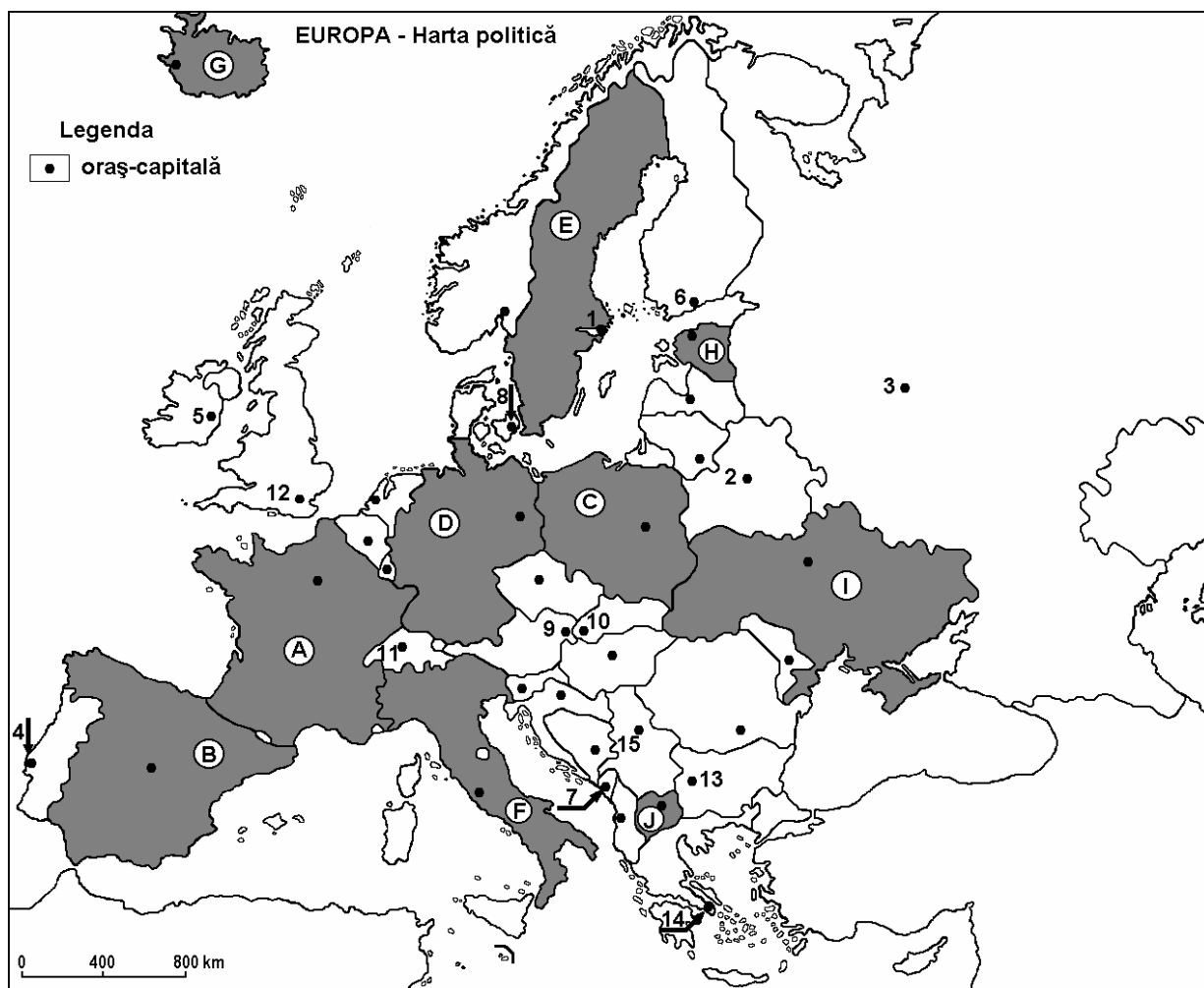
Notă 1: Asemănarea și deosebirile se pot referi la oricare dintre următoarele elemente: forme predominante de relief, mod de formare, tipuri de roci, distribuția spațială a altitudinilor, gradul de fragmentare, orientarea culmilor și văilor principale, tipuri genetice de relief, alte aspecte specifice ale reliefului.

Nota 2: Punctajul complet va fi acordat numai dacă cele două deosebiri și asemănarea, vor fi prezentate comparativ și nu separat. **6 puncte**

E. Precizați două cauze ale prezenței reliefului glaciar în Munții Alpi. **4 puncte**

Examenul de bacalaureat 2008
Proba D, E, F
Proba scrisă la Geografie
Europa – România – Uniunea Europeană

- Toate subiectele sunt obligatorii. Se acordă 10 puncte din oficiu.
- Timpul efectiv de lucru este de 3 ore.

SUBIECTUL I**(30 puncte)**

Harta de mai sus se referă la subiectul I A – E. Pe hartă sunt marcate state cu litere și orașe-capitală cu numere.

A. Precizați:

1. numele statelor marcate, pe hartă, cu numerele H și I;
2. numele orașelor-capitală marcate, pe hartă, cu numerele 3 și 13.

4 puncte

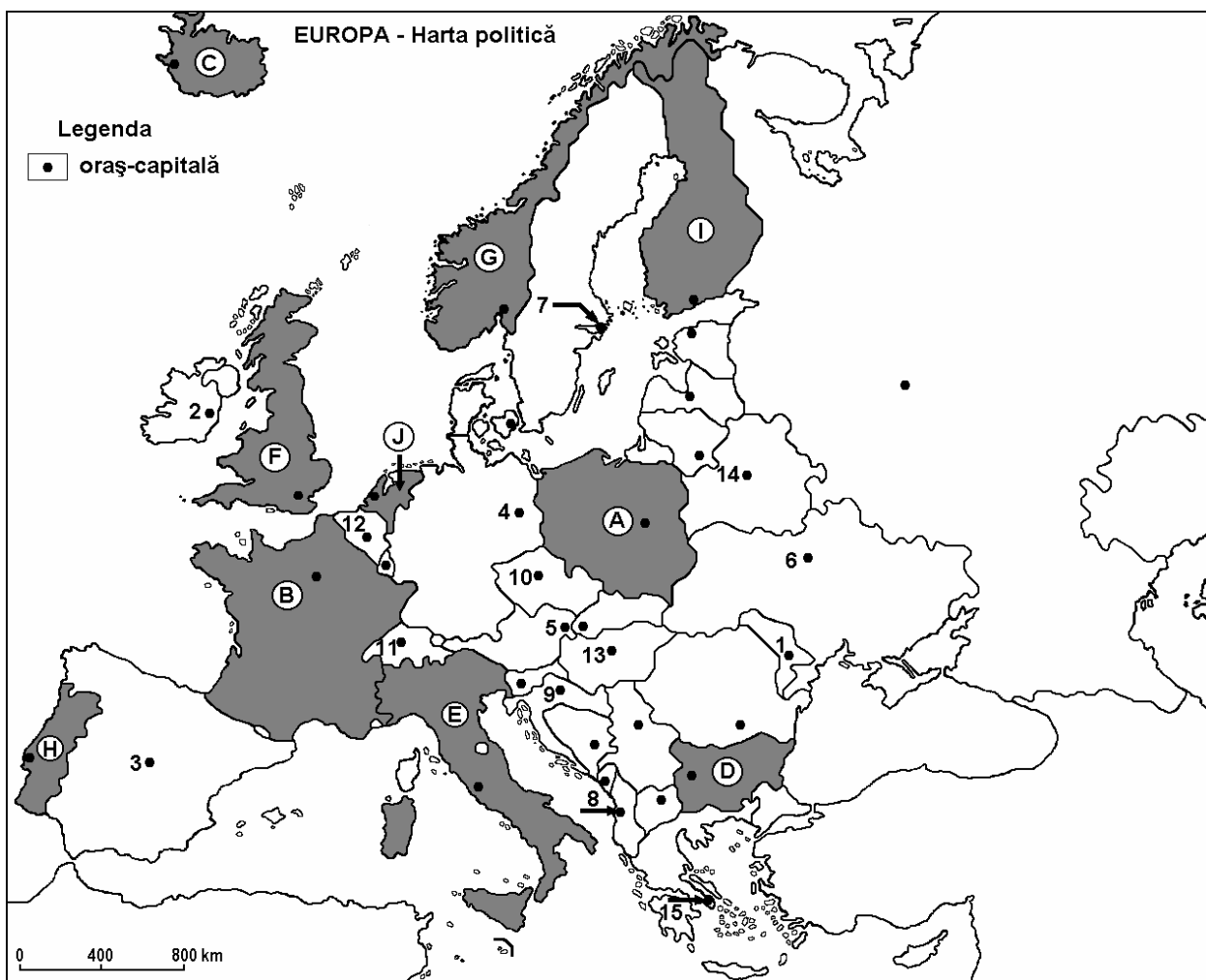
B. Scrieți, pe foaia de examen, răspunsurile corecte care completează propozițiile de mai jos:

1. Orașul-capitală, marcat pe hartă, cu numărul 12, este traversat de râul ...
2. În partea centrală a statului marcat, pe hartă, cu litera F sunt situați Munții ...
3. Statul a cărui capitală este marcată, pe hartă, cu numărul 14, se numește ...

6 puncte

Examenul de bacalaureat 2008
Proba D, E, F
Proba scrisă la Geografie
Europa – România – Uniunea Europeană

- Toate subiectele sunt obligatorii. Se acordă 10 puncte din oficiu.
- Timpul efectiv de lucru este de 3 ore.

SUBIECTUL I**(30 puncte)**

Harta de mai sus se referă la subiectul I A – E. Pe hartă sunt marcate state cu litere și orașe–capitală cu numere.

A. Precizați:

1. numele statelor marcate, pe hartă, cu literele **A** și **D**;
2. numele orașelor-capitală marcate, pe hartă, cu numerele **12** și **14**.

4 puncte

B. Scrieți, pe foaia de examen, răspunsurile corecte care completează propozițiile de mai jos:

1. Statul marcat, pe hartă, cu litera **A**, are ieșire la Marea ...
2. Capitala statului marcat, pe hartă, cu litera **H**, se numește ...
3. Statul marcat, pe hartă, cu litera **G**, ocupă partea vestică a Peninsulei ...

6 puncte

C. Scrieți, pe foaia de examen, litera corespunzătoare răspunsului corect pentru fiecare dintre afirmațiile de mai jos:

1. Munții Penini sunt situați pe teritoriul statului marcat, pe hartă, cu litera:
a. A b. C c. F d. G **2 puncte**
2. Orașul marcat, pe hartă, cu numărul **8**, este capitala statului:
a. Albania b. Croația c. Macedonia d. Muntenegru **2 puncte**
3. Fluviul Po (Pad) străbate partea nordică a statului marcat, pe hartă, cu litera:
a. D b. E c. F d. J **2 puncte**
4. Cea mai mare densitate a populației dintre statele marcate pe hartă, se găsește în statul marcat, pe hartă, cu litera:
a. C b. F c. G d. I **2 puncte**
5. Important port maritim european, Rotterdam, se află pe teritoriul statului marcat, pe hartă, cu litera:
a. C b. F c. G d. J **2 puncte**

D. Precizați trei asemănări între **clima** statului marcat, pe hartă, cu litera **G** și **clima** statului marcat cu litera **I**.

Nota 1: Asemănările se pot referi la oricare dintre următoarele elemente de climă: tip de climă, temperaturi medii anuale, precipitații medii anuale, vânturi, factori ce influențează clima, amplitudine termică.

Nota 2: Punctajul complet va fi acordat numai dacă cele trei asemănări vor fi prezentate comparativ și nu separat.

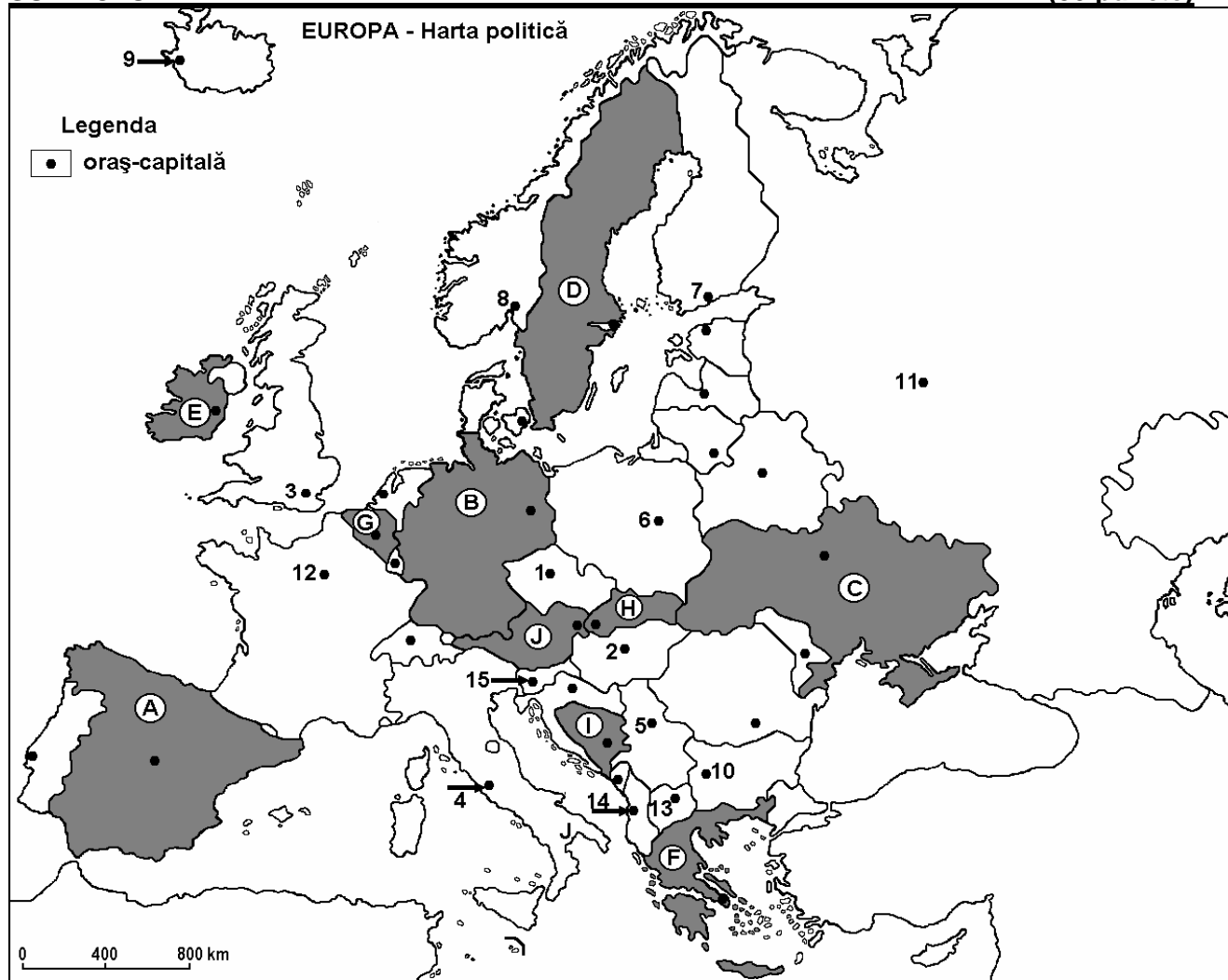
6 puncte

E. Precizați două argumente ce să demonstreze următoarea afirmație: „Statul marcat pe hartă cu litera **B** este un adevărat model de sistem de transport diversificat, funcțional și modern”.

4 puncte

Examenul de bacalaureat 2008
Proba D, E, F
Proba scrisă la Geografie
Europa – România – Uniunea Europeană

- Toate subiectele sunt obligatorii. Se acordă 10 puncte din oficiu.
- Timpul efectiv de lucru este de 3 ore.

SUBIECTUL I**(30 puncte)**

Harta de mai sus se referă la subiectul I A – E. Pe hartă sunt marcate state cu litere și orașe-capitală cu numere.

A. Precizați:

1. numele statelor marcate, pe hartă, cu literele H și J;
2. numele orașelor-capitală marcate, pe hartă, cu numerele 1 și 5.

4 puncte**B. Scrieți, pe foaia de examen, răspunsurile corecte care completează propozițiile de mai jos:**

1. Orașul capitală, marcat pe hartă, cu numărul 2, este traversat de fluviul ...
2. Capitala statului marcat, pe hartă, cu litera F, se numește ...
3. Capitala statului Islanda este marcată, pe hartă, cu numărul ...

6 puncte**C. Scrieți, pe foaia de examen, litera corespunzătoare răspunsului corect pentru fiecare dintre afirmațiile de mai jos:**

- 1 Orașul Sarajevo este capitala statului marcat, pe hartă, cu litera:

a. A

b. B

c. C

d. I

2 puncte

2. Cei mai înalți munți din lanțul carpatic, Munții Tatra, se găsesc pe teritoriul statului marcat, pe hartă, cu litera:
- | | | | | |
|------|------|------|------|-----------------|
| a. G | b. H | c. I | d. J | 2 puncte |
|------|------|------|------|-----------------|
3. Dintre următoarele râuri, cel ce traversează statul marcat, pe hartă, cu litera B, se numește:
- | | | | | |
|--------|----------|---------|----------|-----------------|
| a. Don | b. Loara | c. Main | d. Nipru | 2 puncte |
|--------|----------|---------|----------|-----------------|
4. Orașul marcat, pe hartă, cu numărul 8 se numește:
- | | | | | |
|--------------|-------------|---------|--------------|-----------------|
| a. Copenhaga | b. Helsinki | c. Oslo | d. Stockholm | 2 puncte |
|--------------|-------------|---------|--------------|-----------------|
5. Statul statul marcat, pe hartă, cu litera G se numește:
- | | | | | |
|-----------|------------------|--------------|-----------|-----------------|
| a. Belgia | b. Liechtenstein | c. Luxemburg | d. Olanda | 2 puncte |
|-----------|------------------|--------------|-----------|-----------------|

D. Precizați trei asemănări între **clima** statului marcat, pe hartă, cu litera **A** și **clima** statului marcat, pe hartă, cu litera **F**.

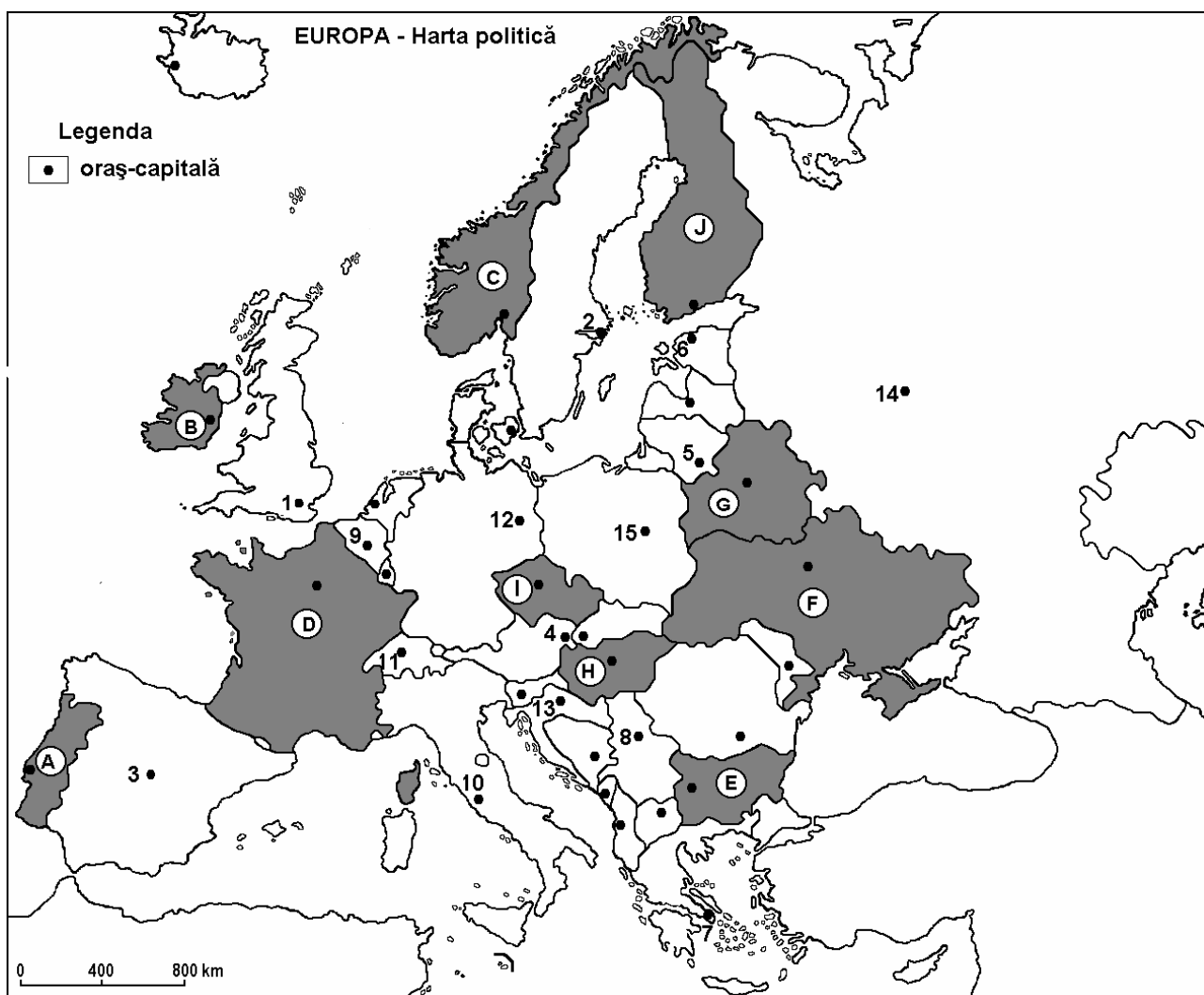
Nota 1: Asemănările se pot referi la oricare dintre următoarele elemente de climă: temperaturi medii anuale, precipitații medii anuale, vânturi, influență climatică, etaj climatic, factori ce influențează clima.

Nota 2: Punctajul complet va fi acordat numai dacă cele trei asemănări vor fi prezentate comparativ și nu separat. **6 puncte**

E. Precizați două cauze care determină discrepanțele privind repartiția teritorială a populației pe teritoriul statului, marcat pe hartă, cu litera **A**. **4 puncte**

Examenul de bacalaureat 2008
Proba D, E, F
Proba scrisă la Geografie
Europa – România – Uniunea Europeană

- Toate subiectele sunt obligatorii. Se acordă 10 puncte din oficiu.
- Timpul efectiv de lucru este de 3 ore.

SUBIECTUL I**(30 puncte)**

Harta de mai sus se referă la subiectul I A – C. Pe hartă sunt marcate state cu litere și orașe –capitală cu numere.

A. Precizați:

1. numele statelor marcate, pe hartă, cu literele **G** și **I**;
2. numele orașelor-capitală marcate, pe hartă, cu numerele **4** și **8**.

4 puncte

B. Scrieți, pe foaia de examen, răspunsurile corecte care completează propozițiile de mai jos:

1. Orașul marcat, pe hartă, cu numărul **2**, este capitala statului numit...
2. Orașul marcat, pe hartă, cu numărul **5**, este capitala statului numit...
3. Orașul capitală marcat, pe hartă, cu numărul **12**, se numește....

6 puncte

C. Scrieți, pe foaia de examen, litera corespunzătoare răspunsului corect pentru fiecare dintre afirmațiile de mai jos:

1. Climatul temperat – continental este specific statelor marcate, pe hartă, cu literele:

a. A și G	b. B și F	c. C și D	d. F și G	2 puncte
-----------	-----------	-----------	-----------	-----------------
2. Țărmlul cu fiorduri este specific statului marcat, pe hartă, cu litera:

a. A	b. C	c. D	d. E	2 puncte
------	------	------	------	-----------------
3. Fluviul Sena traversează statul marcat, pe hartă, cu litera:

a. B	b. C	c. D	d. F	2 puncte
------	------	------	------	-----------------
4. Capitala statului Grecia este marcată, pe hartă, cu numărul:

a. 1	b. 3	c. 5	d. 7	2 puncte
------	------	------	------	-----------------
5. Munții Carpați se află pe teritoriul statului marcat, pe hartă, cu litera:

a. C	b. D	c. F	d. G	2 puncte
------	------	------	------	-----------------

D. Precizați trei deosebiri între **relieful** Peninsulei Scandinavia și **relieful** Peninsulei Iberice.

Nota 1: Deosebirile se pot referi la oricare dintre următoarele aspecte ale **reliefului**: mod de formare, tipuri de roci, distribuția spațială a altitudinilor, gradul de fragmentare, orientarea culmilor și văilor principale, tipuri genetice de relief, alte aspecte specifice ale reliefului.

Nota 2: Punctajul complet va fi acordat numai dacă cele trei deosebiri vor fi prezentate comparativ și nu separat.

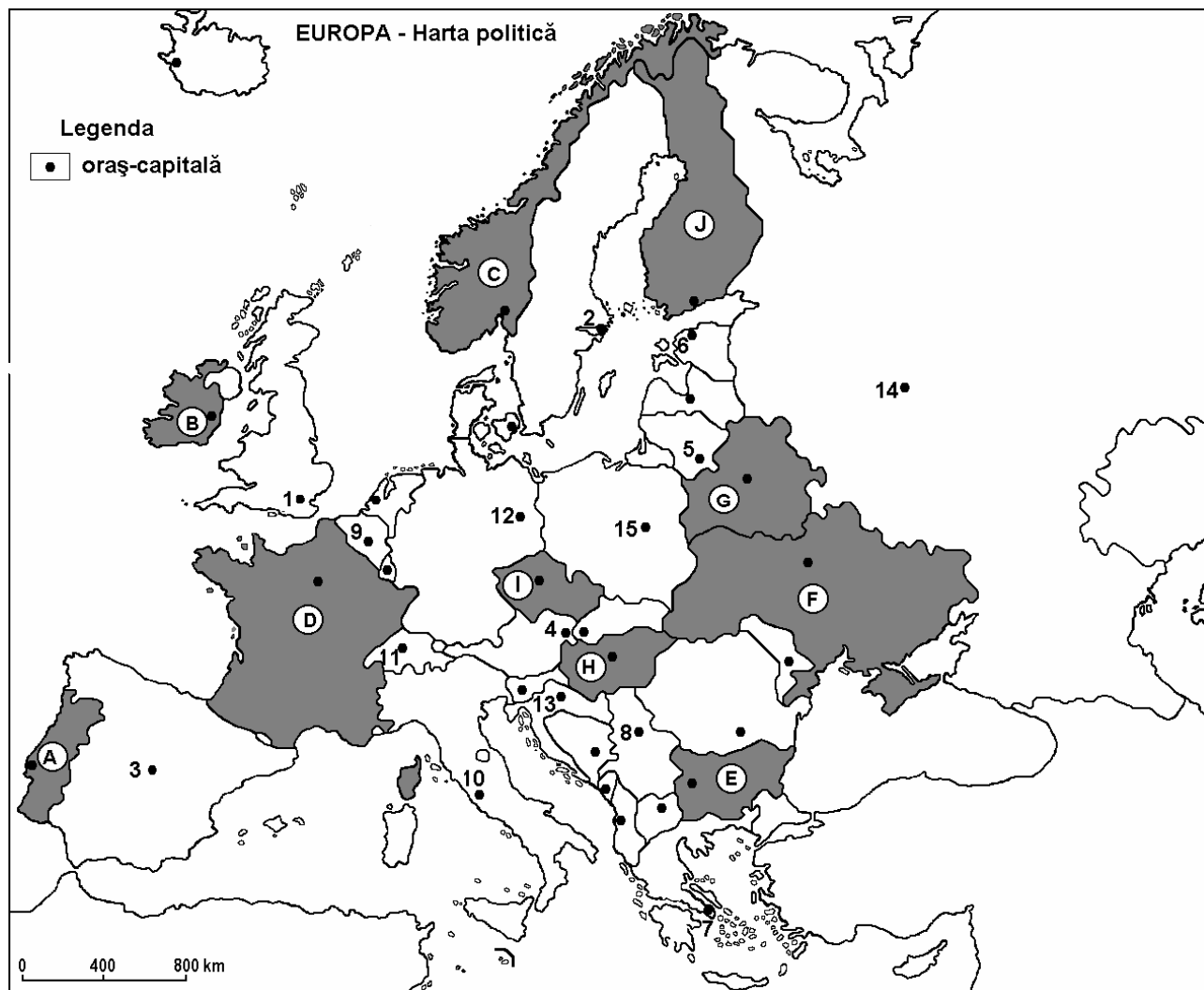
6 puncte

E. Precizați două argumente pentru a susține faptul că vânturile de vest aduc precipitații bogate pe fațadele vestice ale continentului european.

4 puncte

Examenul de bacalaureat 2008
Proba D, E, F
Proba scrisă la Geografie
Europa – România – Uniunea Europeană

- Toate subiectele sunt obligatorii. Se acordă 10 puncte din oficiu.
- Timpul efectiv de lucru este de 3 ore.

SUBIECTUL I**(30 puncte)**

Harta de mai sus se referă la subiectul I A – C. Pe hartă sunt marcate state cu litere și orașe –capitală cu numere.

A. Precizați:

1. numele statelor marcate, pe hartă, cu literele **A** și **B**;
2. numele orașelor-capitală marcate, pe hartă, cu numerele **9** și **14**.

4 puncte

B. Scrieți, pe foaia de examen, răspunsurile corecte care completează propozițiile de mai jos:

1. Orașul marcat, pe hartă, cu numărul **3** este capitala statului numit ...
2. Orașul marcat, pe hartă, cu numărul **15** este capitala statului numit ...
3. Orașul - capitală marcat, pe hartă, cu numărul **13** se numește ...

6 puncte

C. Scrieți, pe foaia de examen, litera corespunzătoare răspunsului corect pentru fiecare dintre afirmațiile de mai jos:

1. Climatul temperat – continental este specific statului marcat, pe hartă, cu litera:

a. A	b. C	c. D	d. F	2 puncte
------	------	------	------	-----------------
2. Dublin este capitala statului marcat, pe hartă, cu litera:

a. A	b. B	c. I	d. J	2 puncte
------	------	------	------	-----------------
3. Munții Balcani se desfășoară pe teritoriul statului marcat, pe hartă, cu litera:

a. D	b. E	c. F	d. G	2 puncte
------	------	------	------	-----------------
4. Fluviul Dunărea traversează statele marcate, pe hartă, cu literele:

a. A și I	b. E și H	c. E și I	d. F și G	2 puncte
-----------	-----------	-----------	-----------	-----------------
5. Munții Carpați se desfășoară pe teritoriul statului marcat, pe hartă, cu litera:

a. C	b. D	c. F	d. G	2 puncte
------	------	------	------	-----------------

D. Precizați două deosebiri și o asemănare, între **clima** Peninsulei Scandinavia și **clima** Peninsulei Iberice.

Nota 1: Deosebirile și asemănările se pot referi la oricare dintre următoarele elemente de **climă**: tipul de climat, temperaturi medii anuale, precipitații medii anuale, vânturi, etaj climatic.

Nota 2: Punctajul complet va fi acordat numai dacă deosebirile și asemănările vor fi prezentate comparativ și nu separat.

6 puncte

E. Precizați doi factori care determină mobilitatea teritorială a populației în Europa.

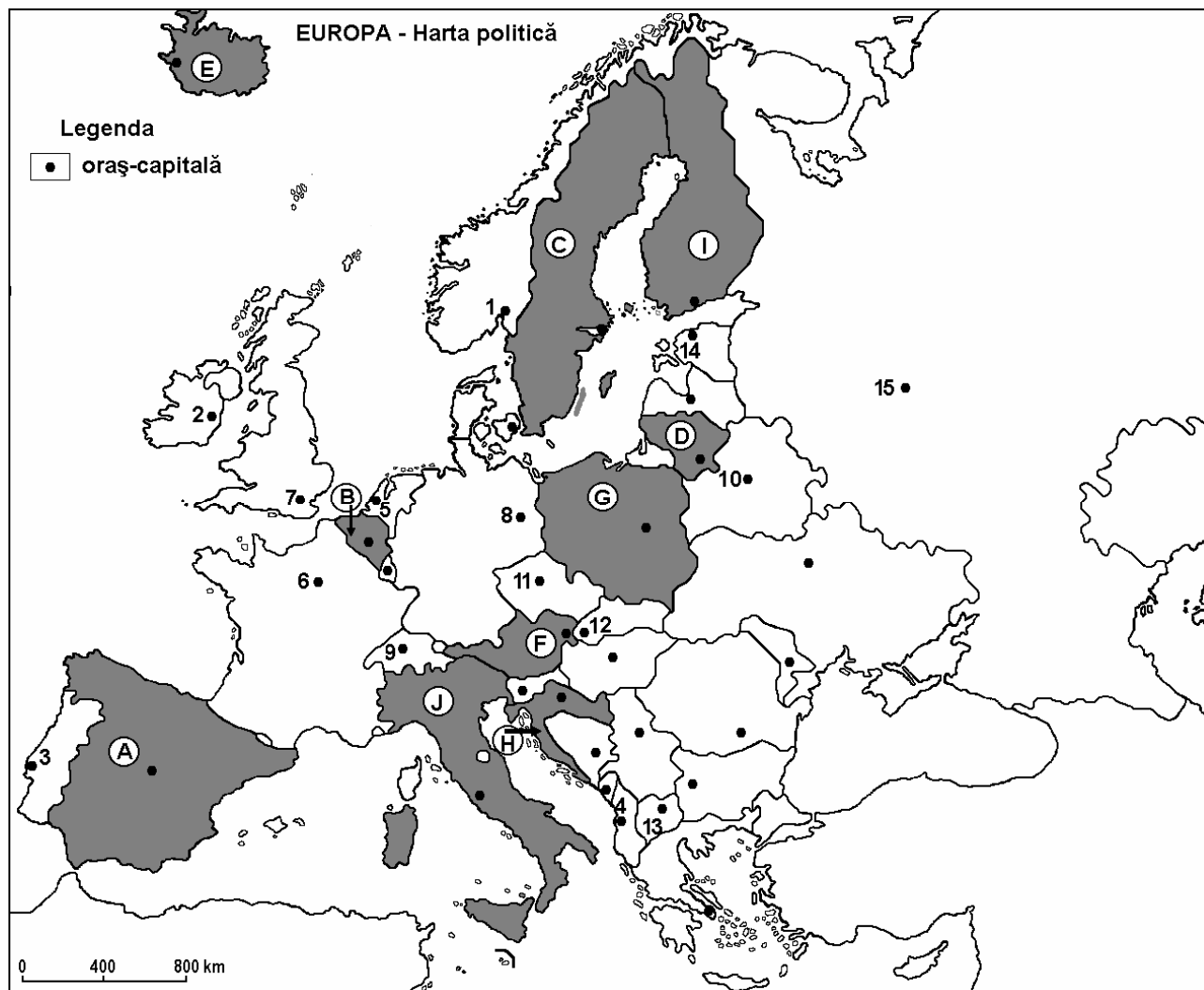
4 puncte

Examenul de bacalaureat 2008
Proba D, E, F
Proba scrisă la GEOGRAFIE
Europa–România–Uniunea Europeană

- Toate subiectele sunt obligatorii. Se acordă 10 puncte din oficiu.
- Timpul efectiv de lucru este de 3 ore.

SUBIECTUL I

(30 puncte)



Harta de mai sus se referă la subiectul I A – C. Pe hartă sunt marcate state cu litere și orașe –capitală cu numere.

A. Precizați:

1. numele statelor marcate, pe hartă, cu literele **F** și **I**;
2. numele orașelor-capitală marcate, pe hartă, cu numerele **4** și **11**.

4 puncte

B. Scrieți, pe foaia de examen, răspunsurile corecte care completează propozițiile de mai jos:

1. Orașul marcat, pe hartă, cu numărul **1** este capitala statului numit ...
2. Orașul marcat, pe hartă, cu numărul **12** este capitala statului numit ...
3. Capitala marcată, pe hartă, cu numărul **13**, se numește ...

6 puncte

C. Scrieți, pe foaia de examen, litera corespunzătoare răspunsului corect pentru fiecare dintre afirmațiile de mai jos:

- | | | | | | |
|---|-----------|-----------|-----------|-----------------|--|
| 1. Climatul mediteranean este specific statelor marcate, pe hartă, cu literele: | | | | | |
| a. A și F | b. A și J | c. B și F | d. F și J | 2 puncte | |
| 2. Câmpia Padului se află pe teritoriul statului marcat, pe hartă, cu litera: | | | | | |
| a. A | b. C | c. G | d. J | 2 puncte | |
| 3. Fluviul Vistula străbate statul marcat, pe hartă, cu litera: | | | | | |
| a. B | b. D | c. F | d. G | 2 puncte | |
| 4. Orașul Reykjavik este capitala statului marcat, pe hartă, cu litera: | | | | | |
| a. D | b. E | c. H | d. I | 2 puncte | |
| 5. Port la Marea Baltică este orașul – capitală marcat, pe hartă, cu numărul: | | | | | |
| a. 4 | b. 5 | c. 7 | d. 14 | 2 puncte | |

D. Precizați trei deosebiri între **clima** Europei de Est și **clima** Europei de Vest.

Nota 1: Deosebirile se pot referi la oricare dintre următoarele elemente de **climă**: tipul de climat, temperaturi medii anuale, precipitații medii anuale, vânturi, amplitudine termică.

Nota 2: Punctajul complet va fi acordat numai dacă cele trei deosebiri vor fi prezentate comparativ și nu separat.

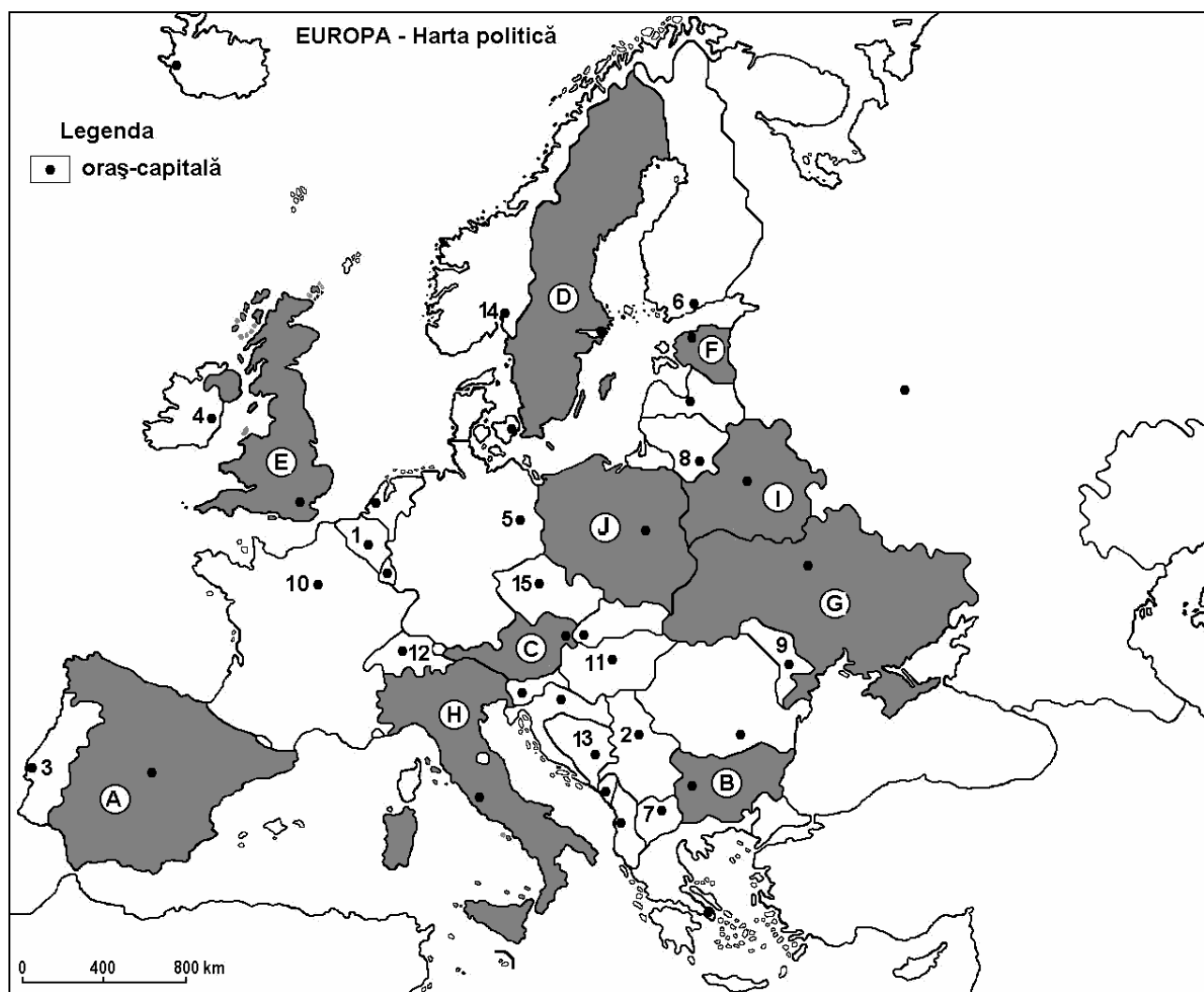
6 puncte

E. Prezentați doi factori care determină distribuția spațială a râurilor și orientarea acestora pe teritoriul Europei.

4 puncte

Examenul de bacalaureat 2008
Proba D, E, F
Proba scrisă la Geografie
Europa – România – Uniunea Europeană

- Toate subiectele sunt obligatorii. Se acordă 10 puncte din oficiu.
- Timpul efectiv de lucru este de 3 ore.

SUBIECTUL I**(30 puncte)**

Harta de mai sus se referă la subiectele I A – C. Pe hartă sunt marcate state cu litere și orașe –capitală cu numere.

A. Precizați:

1. numele statelor marcate, pe hartă, cu literele **A** și **H**;
2. numele orașelor-capitală marcate, pe hartă, cu numerele **2** și **10**.

4 puncte**B. Scrieți, pe foaia de examen, răspunsurile corecte care completează propozițiile de mai jos:**

1. Orașul marcat, pe hartă, cu numărul **1** este capitala statului numit ...
2. Capitala statului marcat, pe hartă, cu litera **F** este orașul numit ...
3. Orașul marcat, pe hartă, cu numărul **3** este capitala statului numit ...

6 puncte

C. Scrieți, pe foaia de examen, litera corespunzătoare răspunsului corect pentru fiecare dintre afirmațiile de mai jos:

1. Orașul Minsk este capitala statului marcat, pe hartă, cu litera:

a. D	b. F	c. H	d. I	2 puncte
------	------	------	------	-----------------
2. Munții Balcani se desfașoară pe teritoriul statului marcat, pe hartă, cu litera:

a. B	b. C	c. F	d. G	2 puncte
------	------	------	------	-----------------
3. Fluviul Vistula traversează statul marcat, pe hartă, cu litera:

a. A	b. E	c. H	d. J	2 puncte
------	------	------	------	-----------------
4. Munții Penini se desfășoară pe teritoriul statului marcat, pe hartă, cu litera:

a. C	b. E	c. G	d. I	2 puncte
------	------	------	------	-----------------
5. Pădurile de conifere ocupă suprafețe extinse în statul marcat, pe hartă, cu litera:

a. A	b. D	c. G	d. J	2 puncte
------	------	------	------	-----------------

D. Precizați trei deosebiri între **relieful** Munților Urali și **relieful** Munților Carpați.

Nota 1: Deosebirile se pot referi la oricare dintre următoarele aspecte ale **reliefului**: mod de formare, tipuri de roci, distribuția spațială a altitudinilor, gradul de fragmentare, orientarea culmilor și a văilor principale, tipuri genetice de relief, alte aspecte specifice ale reliefului.

Nota 2: Punctajul complet va fi acordat numai dacă cele trei deosebiri vor fi prezentate comparativ și nu separat.

6 puncte

E. Prezentați două argumente prin care să explicați repartiția neuniformă a precipitațiilor pe teritoriul Europei.

4 puncte

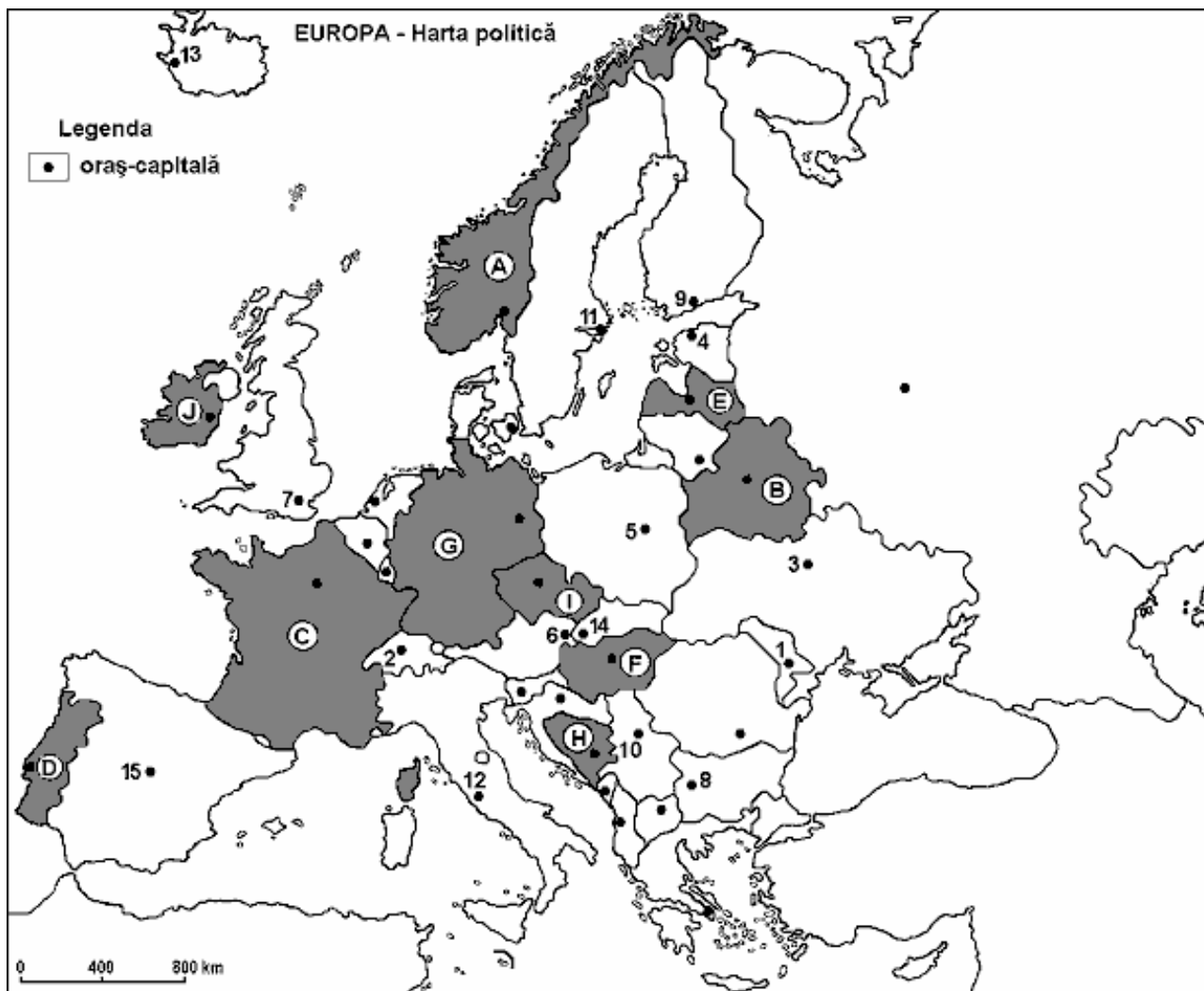
:

Examenul de bacalaureat 2008
Proba D, E, F
Proba scrisă la Geografie
Europa – România – Uniunea Europeană

- Toate subiectele sunt obligatorii. Se acordă 10 puncte din oficiu.
- Timpul efectiv de lucru este de 3 ore.

SUBIECTUL I

(30 puncte)



Harta de mai sus se referă la subiectele I A – C. Pe hartă sunt marcate state cu litere și oraș – capitală cu numere.

A. Precizați:

1. numele statelor marcate, pe hartă, cu literele **C și D**;
2. numele orașelor-capitală marcate, pe hartă, cu numerele **9 și 12**.

4 puncte

B. Scrieți, pe foaia de examen, răspunsurile corecte care completează propozițiile de mai jos:

1. Orașul marcat, pe hartă, cu numărul **11** este capitala statului numit ...
2. Orașul-capitală marcat, pe hartă, cu numărul **5** este traversat de fluviul numit ...
3. Statul marcat, pe hartă, cu litera **B** se numește ...

6 puncte

C. Scrieți, pe foaia de examen, litera corespunzătoare răspunsului corect pentru fiecare dintre afirmațiile de mai jos:

1. Podișul Bavariei este situat pe teritoriul statului marcat, pe hartă, cu litera:

a. C	b. E	c. G	d. H	2 puncte
------	------	------	------	-----------------
2. Climatul temperat-oceanic este specific statului marcat, pe hartă, cu litera:

a. B	b. E	c. H	d. J	2 puncte
------	------	------	------	-----------------
3. Fluviul Tamisa traversează orașul-capitală marcat, pe hartă, cu numărul:

a. 5	b. 7	c. 10	d. 15	2 puncte
------	------	-------	-------	-----------------
4. Capitala statului Islanda este marcată, pe hartă, cu numărul:

a. 2	b. 4	c. 13	d. 14	2 puncte
------	------	-------	-------	-----------------
5. Vegetația mediteraneană este specifică statului marcat, pe hartă, cu litera:

a. A	b. D	c. F	d. I	2 puncte
------	------	------	------	-----------------

D. Precizați trei deosebiri între **clima** Peninsulei Scandinavia și **clima** Peninsulei Italia.

Nota 1: Deosebirile se pot referi la oricare dintre următoarele elemente de **climă**: tipul de climă, temperaturi medii anuale, precipitații medii anuale, vânturi, amplitudine termică.

Nota 2: Punctajul complet va fi acordat numai dacă cele trei deosebiri vor fi prezentate comparativ și nu separat.

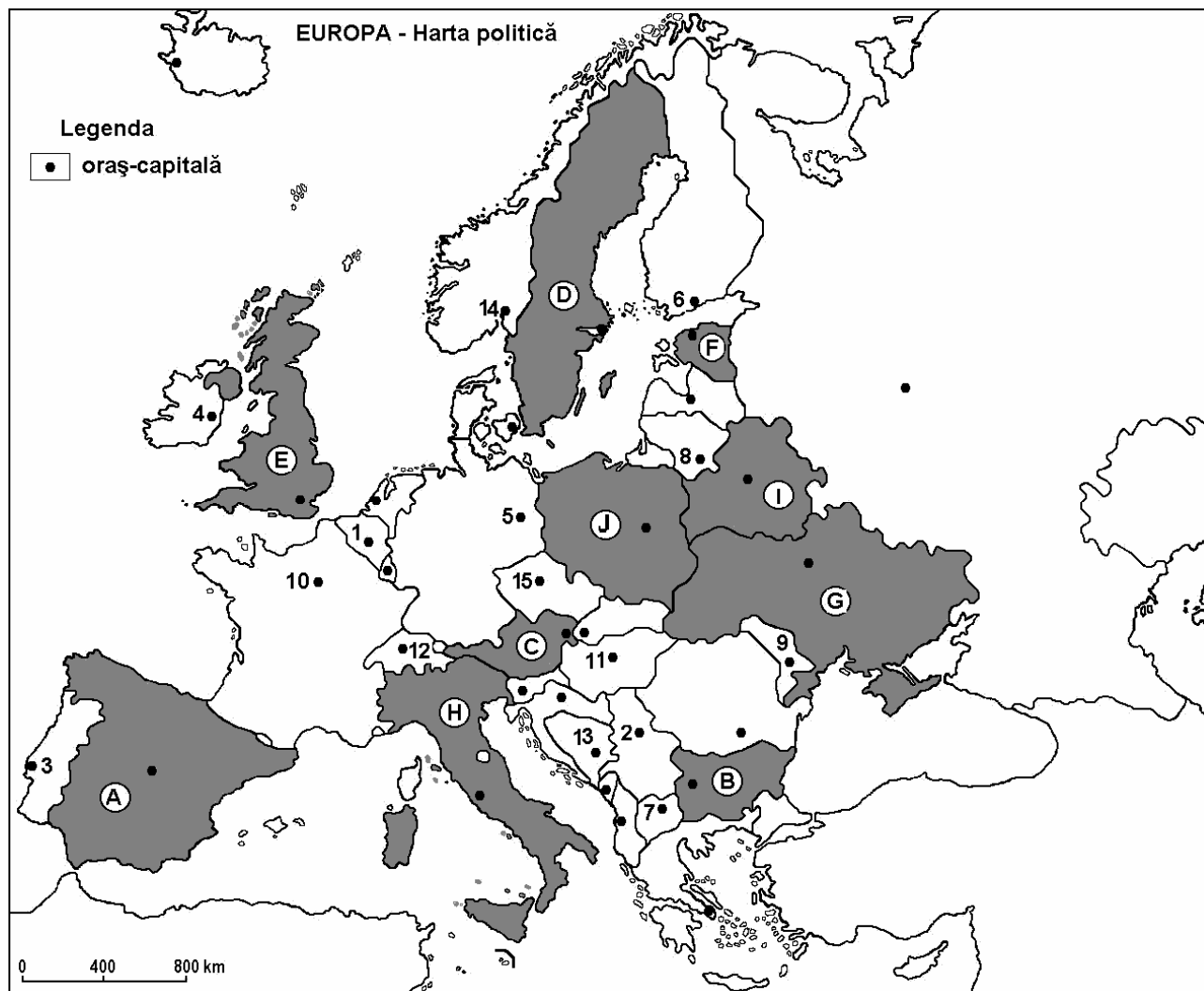
6 puncte

E. Prezentați două cauze care determină fenomenul de îmbătrânire demografică a populației din țările vestice ale Europei.

4 puncte

Examenul de bacalaureat 2008
Proba D, E, F
Proba scrisă la Geografie
Europa – România – Uniunea Europeană

- Toate subiectele sunt obligatorii. Se acordă 10 puncte din oficiu.
- Timpul efectiv de lucru este de 3 ore.

SUBIECTUL I**(30 puncte)**

Harta de mai sus se referă la subiectele I A– C. Pe hartă sunt marcate state cu litere și orașe – capitală cu numere.

A. Precizați:

1. numele statelor marcate, pe hartă, cu literele **B** și **E**;
2. numele orașelor-capitală marcate, pe hartă, cu numerele **1** și **3**.

4 puncte

B. Scrieți, pe foaia de examen, răspunsurile corecte care completează propozițiile de mai jos:

1. Orașul marcat, pe hartă, cu numărul **11** este capitala statului numit ...
2. Capitala statului marcat, pe hartă, cu litera **G** este orașul numit ...
3. Orașul marcat, pe hartă, cu numărul **5** este capitala statului numit ...

6 puncte

C. Scrieți, pe foaia de examen, litera corespunzătoare răspunsului corect pentru fiecare dintre afirmațiile de mai jos:

- | | | | | | |
|---|-------------|-------------|--------------|--------------|-----------------|
| 1. Orașul Varșovia este capitala statului marcat, pe hartă, cu litera: | a. A | b. D | c. F | d. J | 2 puncte |
| 2. Munții Apenini se desfășoară pe teritoriul statului marcat, pe hartă, cu litera: | a. B | b. E | c. H | d. I | 2 puncte |
| 3. Capitala statului Finlanda este orașul marcat, pe hartă, cu numărul: | a. 4 | b. 6 | c. 8 | d. 14 | 2 puncte |
| 4. Fluviul Sena traversează orașul-capitală marcat, pe hartă, cu numărul: | a. 2 | b. 5 | c. 10 | d. 12 | 2 puncte |
| 5. Climatul temperat-oceanic caracterizează statul marcat, pe hartă, cu litera: | a. C | b. E | c. G | d. H | 2 puncte |

D. Precizați două deosebiri și o asemănare între **relieful** Munților Scandinaviei și **relieful** Munților Alpi.

Nota 1: Deosebirile și asemănarea se pot referi la oricare dintre următoarele aspecte ale **reliefului**: mod de formare, tipuri de roci, distribuția spațială a altitudinilor, gradul de fragmentare, orientarea culmilor și văilor principale, tipuri genetice de relief, alte aspecte specifice ale reliefului.

Nota 2: Punctajul complet va fi acordat numai dacă cele două deosebiri și asemănarea vor fi prezentate comparativ și nu separat.

6 puncte

E. Prezentați două consecințe ale sporului natural foarte redus din Europa.

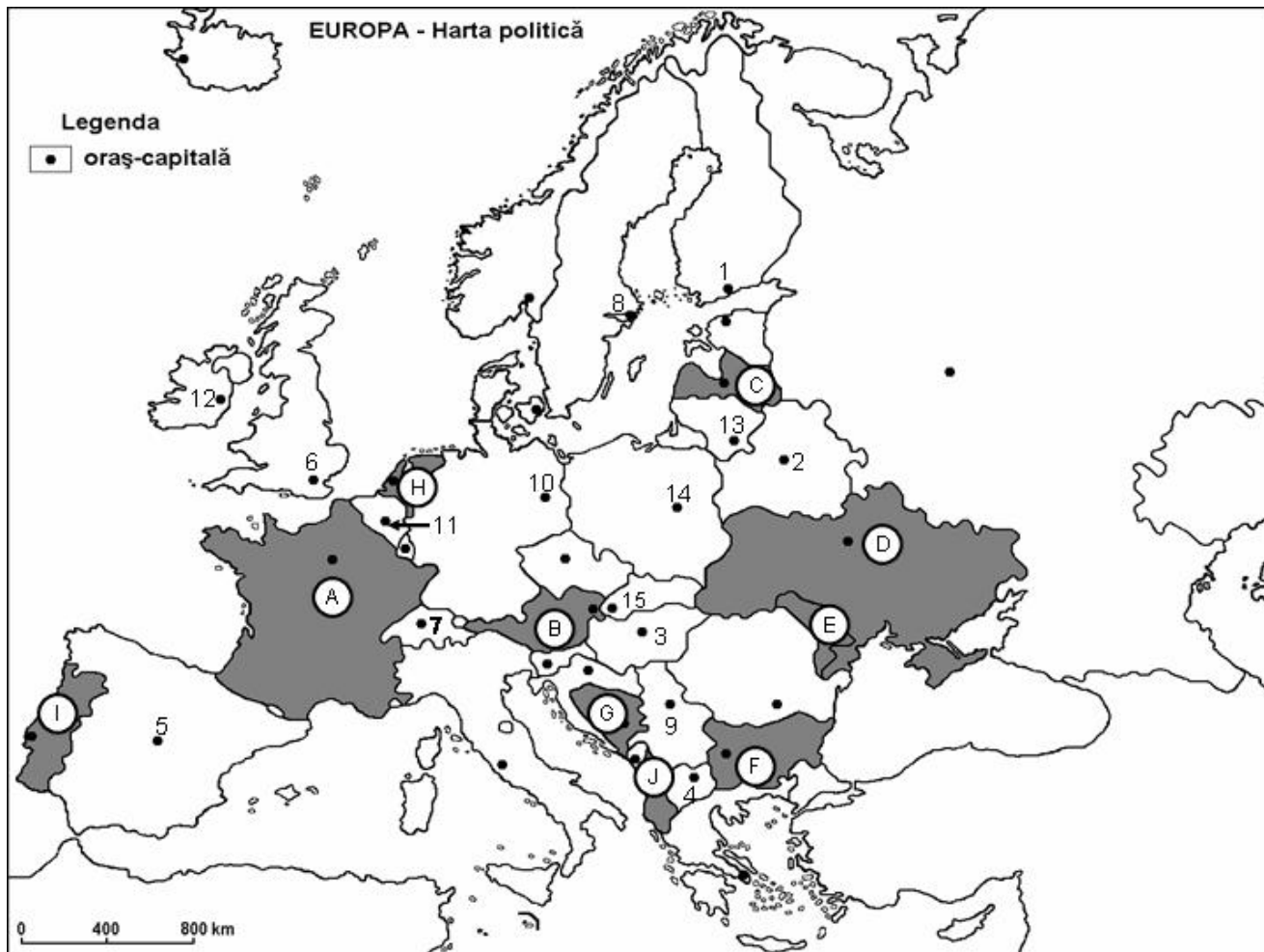
4 puncte

Examenul de bacalaureat 2008
Proba D, E, F
Proba scrisă la GEOGRAFIE
Europa–România–Uniunea Europeană

- Toate subiectele sunt obligatorii. Se acordă 10 puncte din oficiu.
- Timpul efectiv de lucru este de 3 ore.

SUBIECTUL I

(30 puncte)



Harta de mai sus se referă la subiectele A – C. Pe hartă sunt marcate state cu litere și oraș –capitală cu numere.

A. Precizați:

1. numele statelor marcate, pe hartă, cu literele **A** și **D**;
2. numele orașelor-capitală marcate, pe hartă, cu numerele **7** și **14**.

4 puncte

B. Scrieți, pe foaia de examen, răspunsurile corecte care completează propozițiile de mai jos:

1. Orașul marcat, pe hartă, cu numărul **13** se numește ...
2. Statul marcat, pe hartă, cu litera **I** se numește ...
3. Orașul marcat, pe hartă, cu numărul **5** este capitala statului numit ...

6 puncte

C. Scrieți, pe foaia de examen, litera corespunzătoare răspunsului corect pentru fiecare dintre afirmațiile de mai jos:

1. Orașul marcat, pe hartă, cu numărul **2** este capitala statului:

a. Austria	b. Belarus	c. Moldova	d. Ucraina	2 puncte
------------	------------	------------	------------	-----------------
2. Statul marcat, pe hartă, cu litera **F** se numește:

a. Belarus	b. Belgia	c. Bulgaria	d. Macedonia	2 puncte
------------	-----------	-------------	--------------	-----------------
3. Capitala Ungariei este orașul marcat, pe hartă, cu numărul:

a. 1	b. 2	c. 3	d. 9	2 puncte
------	------	------	------	-----------------
4. Statul marcat, pe hartă, cu litera **B** se numește:

a. Austria	b. Cehia	c. Slovacia	d. Slovenia	2 puncte
------------	----------	-------------	-------------	-----------------
5. Are deschidere la Marea Nordului statul marcat, pe hartă, cu litera:

a. D	b. E	c. H	d. I	2 puncte
------	------	------	------	-----------------

D. Precizați trei asemănări între relieful **Câmpiei Padului** și relieful **Câmpiei Panonice**.

Nota 1: Asemănările se pot referi la oricare dintre următoarele aspecte ale **reliefului**: mod de formare, tipuri de roci pe care s-a format relieful, altitudini, fragmentare, tipuri de relief, alte aspecte specifice ale reliefului.

Nota 2: Punctajul complet va fi acordat numai dacă cele trei asemănări vor fi prezentate comparativ și nu separat. **6 puncte**

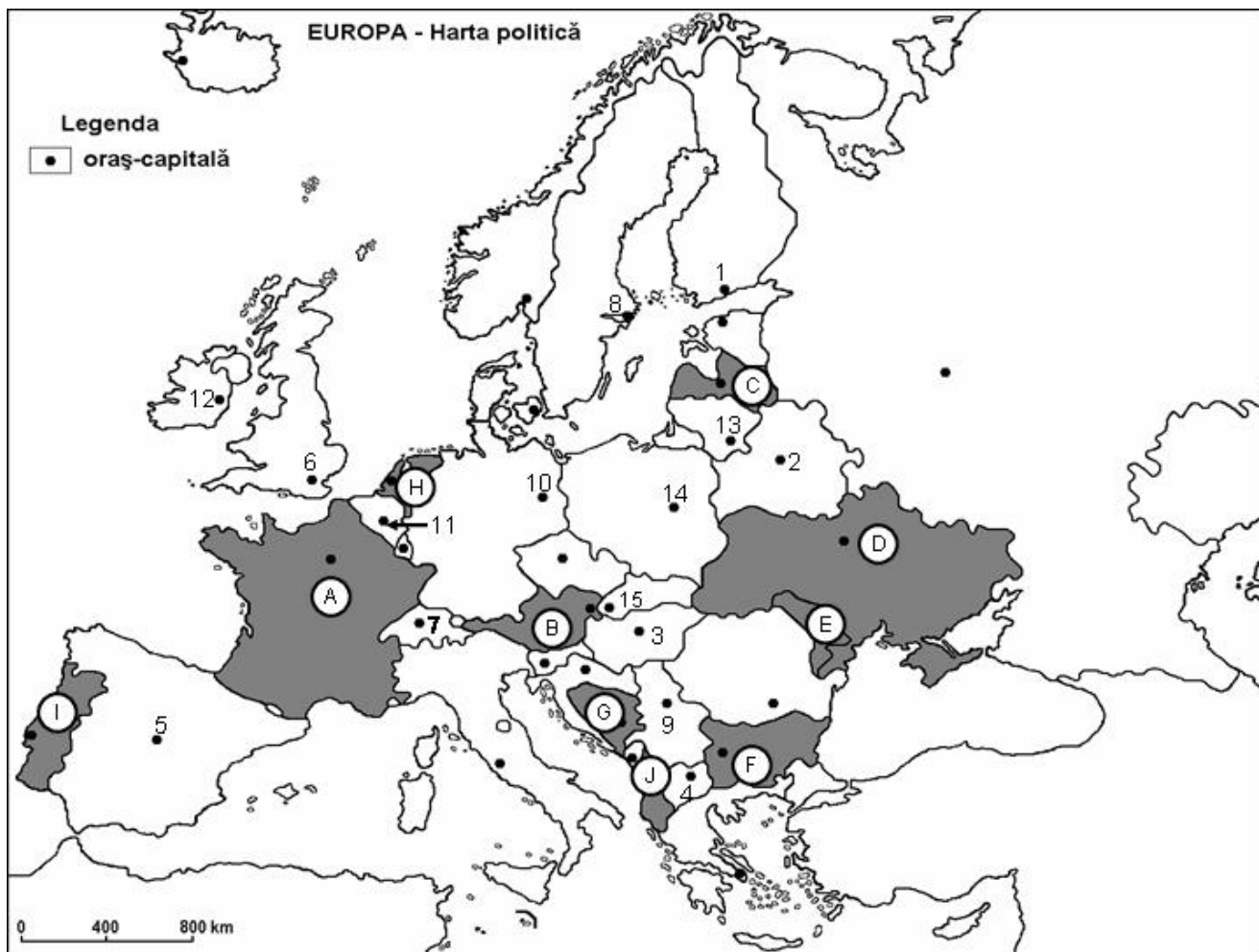
E. Prezentați două cauze care explică potențialul agricol ridicat al unor țări ca România, Ucraina, Republica Moldova etc. **4 puncte**

Examenul de bacalaureat 2008
Proba D, E, F
Proba scrisă la GEOGRAFIE
Europa–România–Uniunea Europeană

- Toate subiectele sunt obligatorii. Se acordă 10 puncte din oficiu.
- Timpul efectiv de lucru este de 3 ore.

SUBIECTUL I

(30 puncte)



Harta de mai sus se referă la subiectul I A – C. Pe hartă sunt marcate state cu litere și orașe –capitală cu numere.

A. Precizați:

1. numele statelor marcate, pe hartă, cu literele **C** și **H**;
2. numele orașelor-capitală marcate, pe hartă, cu numerele **5** și **9**.

4 puncte

B. Scrieți, pe foaia de examen, răspunsurile corecte care completează propozițiile de mai jos:

1. Orașul marcat, pe hartă, cu numărul **6** se numește...
2. Statul marcat, pe hartă, cu litera **G** se numește...
3. Orașul marcat, pe hartă, cu numărul **10** este capitala statului numit...

6 puncte

C. Scrieți, pe foaia de examen, litera corespunzătoare răspunsului corect pentru fiecare dintre afirmațiile de mai jos:

1. Orașul marcat, pe hartă, cu numărul **15** este capitala statului:

a. Austria	b. Belgia	c. Cehia	d. Slovacia	2 puncte
------------	-----------	----------	-------------	-----------------
2. Statul marcat, pe hartă, cu litera **J** se numește:

a. Albania	b. Belgia	c. Bulgaria	d. Macedonia	2 puncte
------------	-----------	-------------	--------------	-----------------
3. Capitala Elveției este orașul marcat, pe hartă, cu numărul:

a. 3	b. 7	c. 11	d. 15	2 puncte
------	------	-------	-------	-----------------
4. Statul marcat, pe hartă, cu litera **D** se numește:

a. Belarus	b. Bulgaria	c. Moldova	d. Ucraina	2 puncte
------------	-------------	------------	------------	-----------------
5. Are deschidere la Marea Neagră statul marcat, pe hartă, cu litera:

a. B	b. C	c. E	d. F	2 puncte
------	------	------	------	-----------------

D. Precizați trei asemănări între clima **Peninsulei Italice** și clima **Peninsulei Iberice**.

Nota 1: Asemănările se pot referi la oricare dintre următoarele elemente de **climă**: temperaturi medii anuale, precipitații medii anuale, vânturi, tip de climă, amplitudine termică.

Nota 2: Punctajul complet va fi acordat numai dacă cele trei asemănări vor fi prezentate comparativ și nu separat

6 puncte

E. Prezentați două cauze care determină valorile mari ale densității populației de-a lungul Rinului.

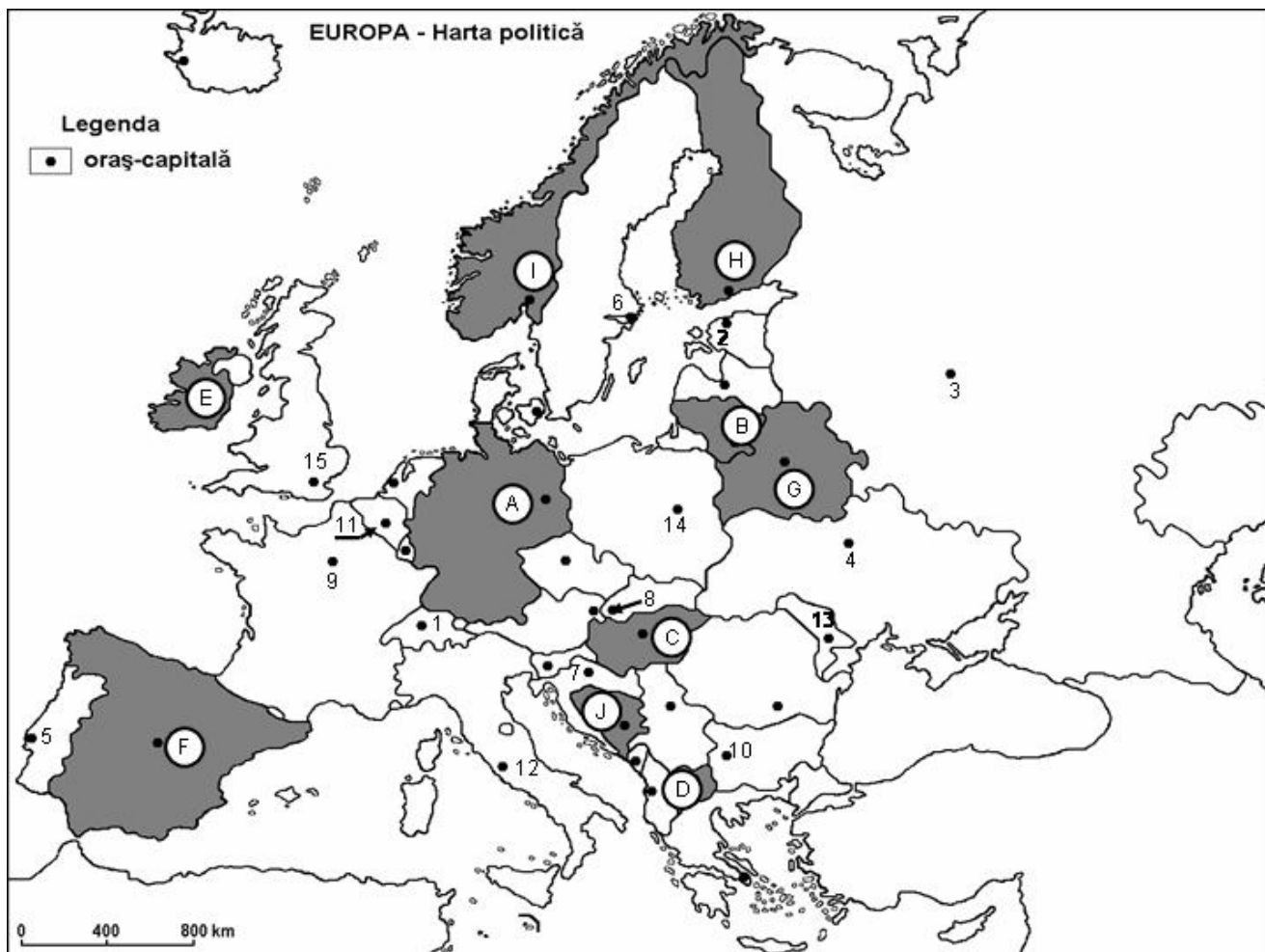
4 puncte

Examenul de bacalaureat 2008
Proba D, E, F
Proba scrisă la GEOGRAFIE
Europa–România–Uniunea Europeană

- Toate subiectele sunt obligatorii. Se acordă 10 puncte din oficiu.
- Timpul efectiv de lucru este de 3 ore.

SUBIECTUL I

(30 puncte)



Harta de mai sus se referă la subiectele A – C. Pe hartă sunt marcate state cu litere și orașe –capitală cu numere.

A. Precizați:

1. numele statelor marcate, pe hartă, cu literele **E** și **F**;
2. numele orașelor-capitală marcate, pe hartă, cu numerele **5** și **10**.

4 puncte

B. Scrieți, pe foaia de examen, răspunsurile corecte care completează propozițiile de mai jos:

1. Orașul marcat, pe hartă, cu numărul **12** se numește ...
2. Statul marcat, pe hartă, cu litera **B** se numește ...
3. Orașul marcat, pe hartă, cu numărul **11** este capitala statului numit ...

6 puncte

C. Scrieți, pe foaia de examen, litera corespunzătoare răspunsului corect pentru fiecare dintre afirmațiile de mai jos:

1. Orașul marcat, pe hartă, cu numărul **1** este capitala statului:
a. Austria **b.** Belgia **c.** Cehia **d.** Elveția **2 puncte**
2. Statul marcat, pe hartă, cu litera **G** se numește:
a. Belarus **b.** Letonia **c.** Lituania **d.** Polonia **2 puncte**
3. Capitala Croației este orașul marcat, pe hartă, cu numărul:
a. 1 **b.** 7 **c.** 8 **d.** 10 **2 puncte**
4. Statul marcat, pe hartă, cu litera **I** se numește:
a. Danemarca **b.** Finlanda **c.** Norvegia **d.** Suedia **2 puncte**
5. Are deschidere la Marea Baltică statul marcat, pe hartă, cu litera:
a. B **b.** C **c.** D **d.** F **2 puncte**

D. Precizați trei deosebiri între **clima** Peninsulei Balcanice și **clima** Peninsulei Scandinave.

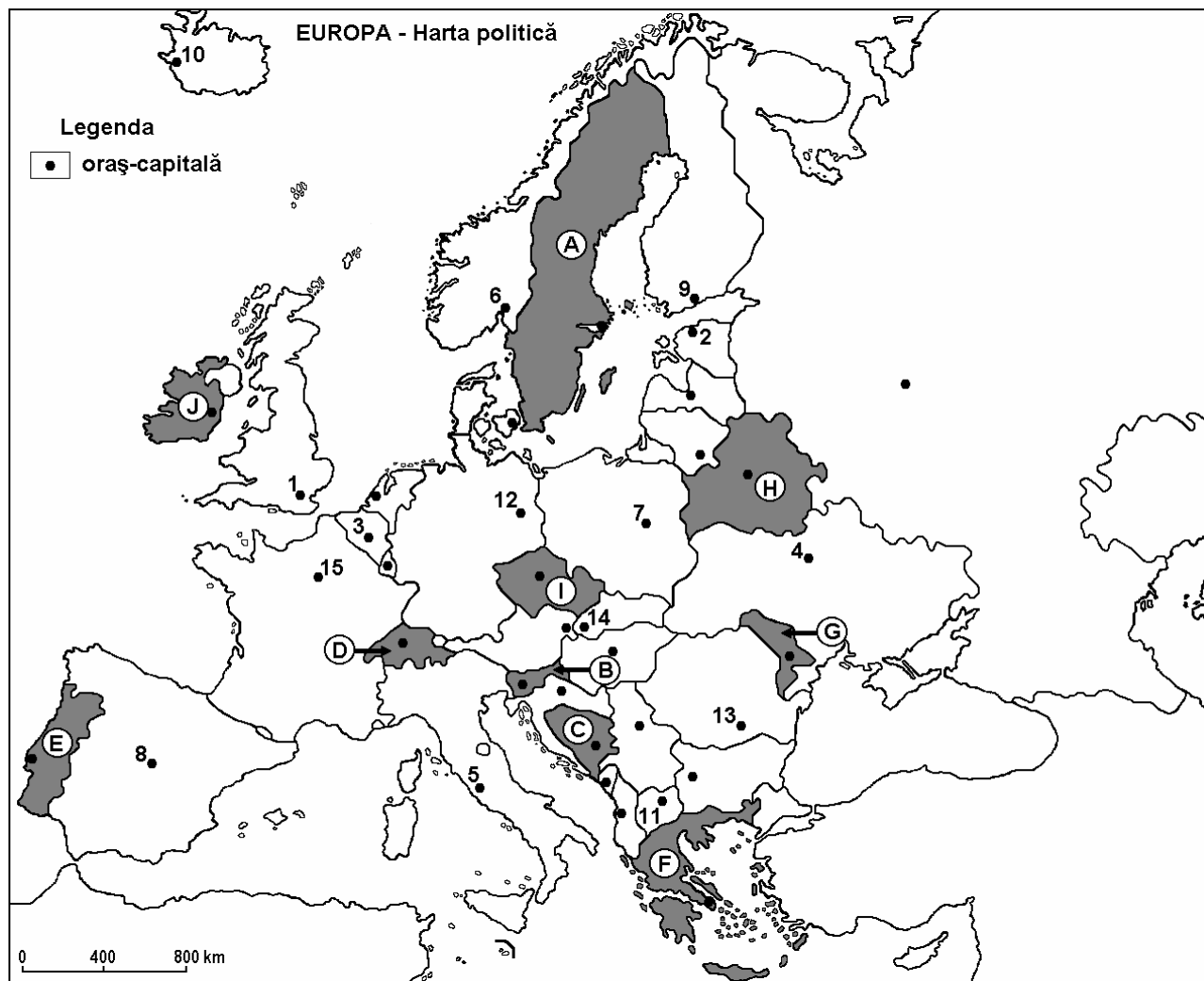
Nota 1: Deosebirile se pot referi la oricare dintre următoarele elemente de **climă**: temperaturi medii anuale, precipitații medii anuale, vânturi, tip de climă, amplitudine termică.

Nota 2: Punctajul complet va fi acordat numai dacă cele trei deosebiri vor fi prezentate comparativ și nu separat. **6 puncte**

E. Prezentați două premise naturale care favorizează cultura viței de vie în Peninsula Italică și Peninsula Iberică. **4 puncte**

Examenul de bacalaureat 2008
Proba D, E, F
Proba scrisă la Geografie
Europa – România – Uniunea Europeană

- Toate subiectele sunt obligatorii. Se acordă 10 puncte din oficiu.
- Timpul efectiv de lucru este de 3 ore.

SUBIECTUL I**(30 puncte)**

Harta de mai sus se referă la subiectul I A – D. Pe hartă sunt marcate state cu litere de la A la J și orașe–capitală cu numere de la 1 la 15.

A. Precizați:

1. numele statelor marcate, pe hartă, cu numerele A și G;
2. numele orașelor–capitală marcate, pe hartă, cu numerele 3 și 7.

4 puncte

B. Scrieți, pe foaia de examen, răspunsurile corecte care completează propozițiile de mai jos:

1. Capitala statului marcat, pe hartă, cu litera E este orașul numit ...
2. Orașul - capitală marcat, pe hartă, cu numărul 15 este străbătut de fluviul numit...
3. Statul marcat, pe hartă, cu litera C se numește ...

6 puncte

C. Scrieți, pe foaia de examen, litera corespunzătoare răspunsului corect pentru fiecare dintre afirmațiile de mai jos:

1. Statul marcat, pe hartă, cu litera **F** îi este specific climatul:

a. mediteranean (subtropical)	b. temperat continental	
c. temperat oceanic	d. subpolar (rece)	2 puncte
2. Statul marcat, pe hartă, cu litera **D** este străbătut de lanțul montan numit:

a. Alpi	b. Apenini	c. Carpați	d. Pirinei	2 puncte
---------	------------	------------	------------	-----------------
3. Statul marcat, pe hartă, cu litera **J** are capitala în orașul:

a. Berna	b. Dublin	c. Minsk	d. Paris	2 puncte
----------	-----------	----------	----------	-----------------
4. Fluviul Vistula străbate orașul-capitală marcat, pe hartă, cu numărul:

a. 2	b. 4	c. 7	d. 10	2 puncte
------	------	------	-------	-----------------
5. Orașul - capitală marcat, pe hartă, cu numărul **8** se numește:

a. Barcelona	b. Madrid	c. Monaco	d. Valletta	2 puncte
--------------	-----------	-----------	-------------	-----------------

D. Precizați trei deosebiri între **clima** statului marcat, pe hartă cu litera **E** și **clima** statului marcat, pe hartă, cu litera **H**.

Nota 1: Deosebirile se pot referi la oricare dintre următoarele elemente de **climă**: tip de climă, temperaturi medii anuale, precipitații medii anuale, vânturi, amplitudine termică.

Nota 2: Punctajul complet va fi acordat numai dacă cele trei deosebiri vor fi prezentate comparativ și nu separat.

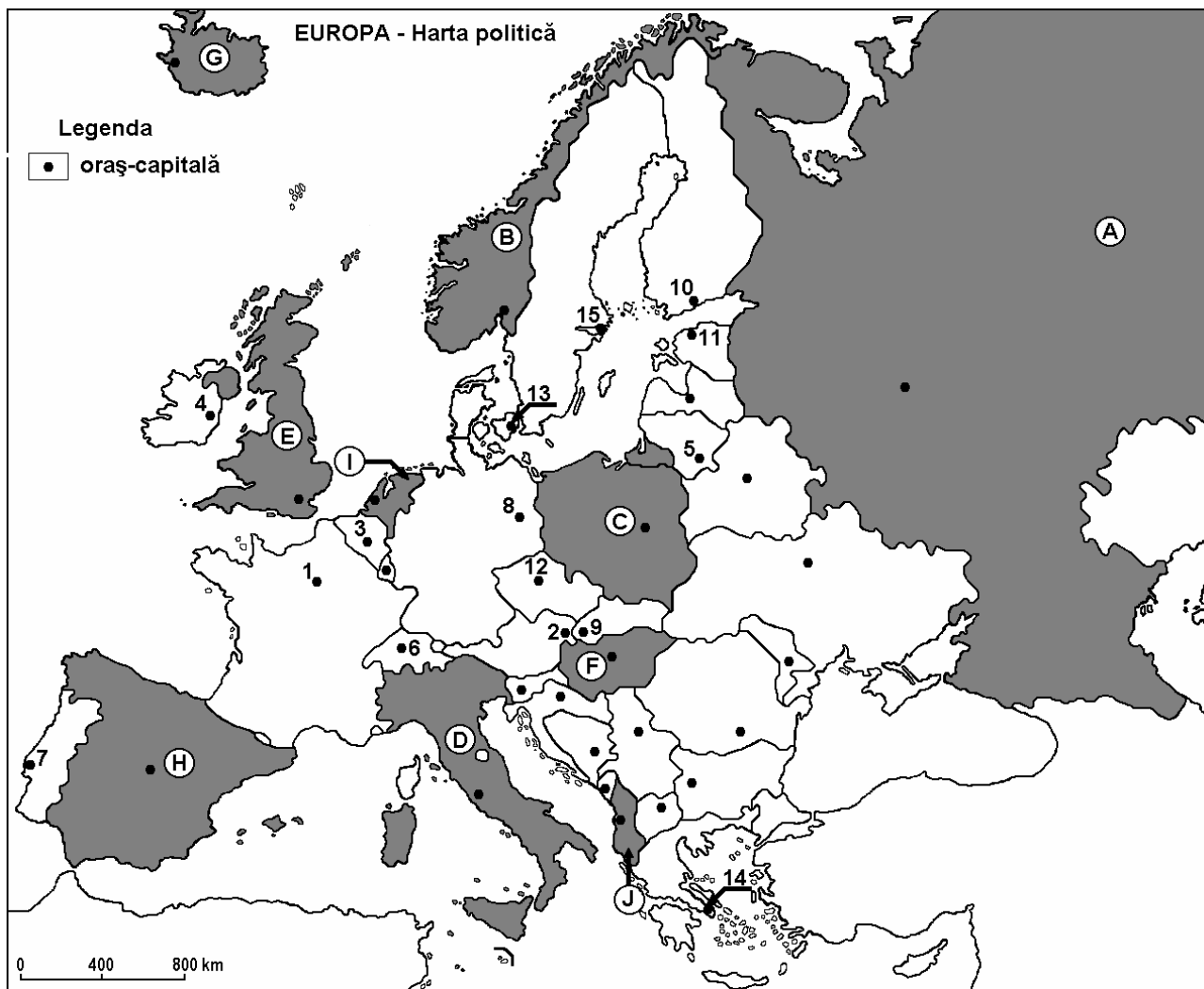
6 puncte

E. Prezentați două argumente pentru a demonstra două contraste economice între nordul și sudul Italiei.

4 puncte

Examenul de bacalaureat 2008
Proba D, E, F
Proba scrisă la Geografie
Europa – România – Uniunea Europeană

- Toate subiectele sunt obligatorii. Se acordă 10 puncte din oficiu.
- Timpul efectiv de lucru este de 3 ore.

SUBIECTUL I**(30 puncte)**

Harta de mai sus se referă la subiectul I A – D. Pe hartă sunt marcate state cu litere de la A la J și orașe-capitală cu numere de la 1 la 15.

A. Precizați:

1. numele statelor marcate, pe hartă, cu numerele I și J;
2. numele orașelor-capitală marcate, pe hartă, cu numerele 5 și 6.

4 puncte

B. Scrieți, pe foaia de examen, răspunsurile corecte care completează propozițiile de mai jos:

1. Statul european cu cea mai mare suprafață este marcat, pe hartă, cu litera ...
2. Este situat în Peninsula Scandinavă statul marcat, pe hartă, cu litera ...
3. Orașul - capitală marcat, pe hartă, cu numărul 12 se numește ...

6 puncte

C. Scrieți, pe foaia de examen, litera corespunzătoare răspunsului corect pentru fiecare dintre afirmațiile de mai jos:

1. Are un climat temperat oceanic statul marcat, pe hartă, cu litera:
a. D b. E c. F d. J **2 puncte**
2. Orașul - capitala Copenhaga este marcat, pe hartă, cu numărul:
a. 3 b. 9 c. 10 d. 13 **2 puncte**
3. Statul marcat, pe hartă, cu litera **C** are deschidere la Marea:
a. Albă b. Azov c. Baltică d. Neagră **2 puncte**
4. Statul papal independent, Vatican, este o enclavă în capitala statului marcat, pe hartă, cu litera:
a. D b. E c. H d. J **2 puncte**
5. Orașul-capitală marcat, pe hartă, cu numărul **2** este traversat de fluviul:
a. Dunăre b. Sena c. Tamisa d. Volga **2 puncte**

D. Precizați trei asemănări între **clima** statului marcat, pe hartă cu litera **E** și **clima** statului marcat, pe hartă, cu litera **I**.

Nota 1: Asemănările se pot referi la oricare dintre următoarele elemente de **climă**: tipul de climă, temperaturi medii anuale, precipitații medii anuale, vânturi, amplitudine termică.

Nota 2: Punctajul complet va fi acordat numai dacă cele trei asemănări vor fi prezentate comparativ și nu separat.

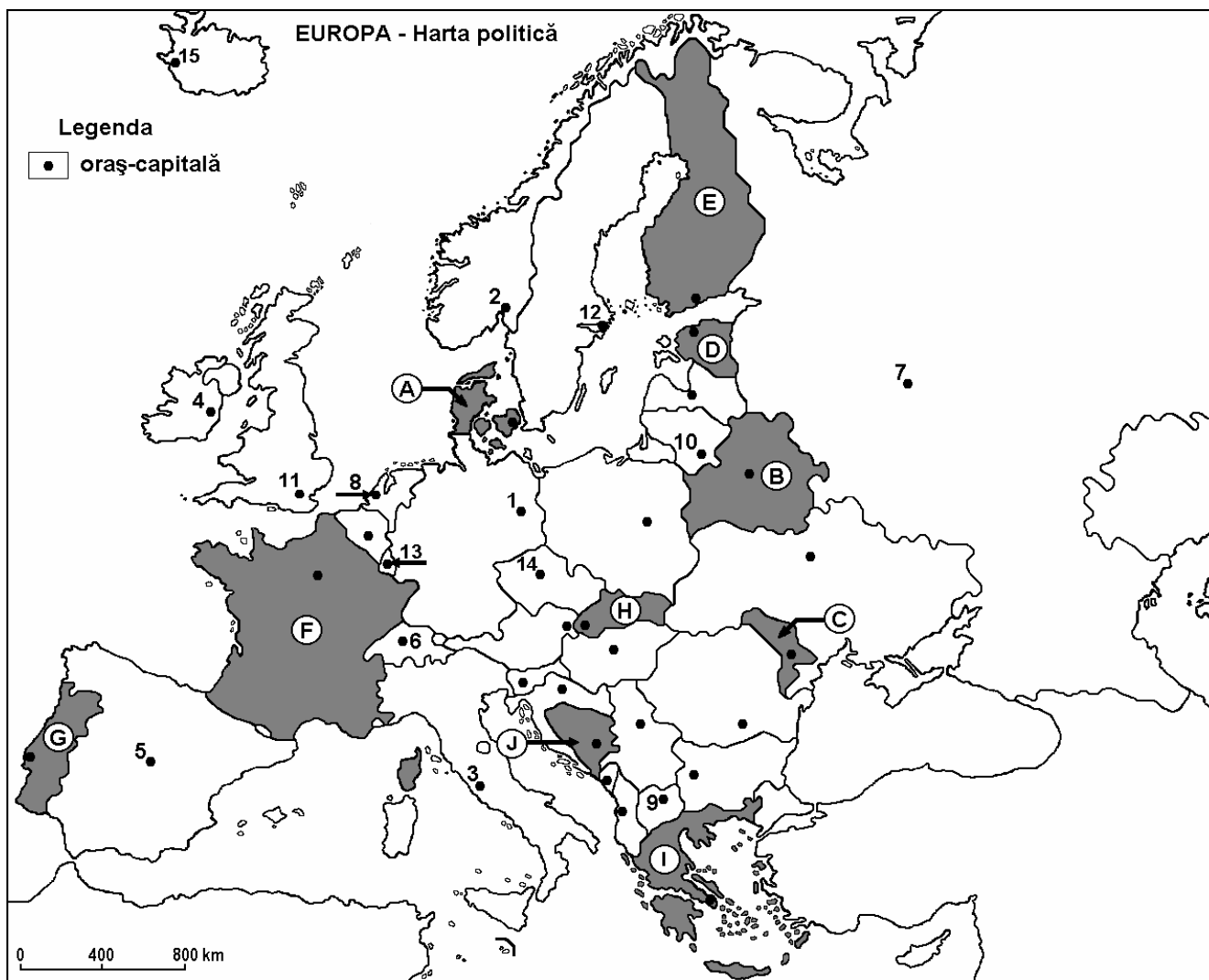
6 puncte

E. Prezentați două argumente care să susțină afirmația: "Pe fațada maritimă a Europei Occidentale se află principalul ansamblu portuar al lumii."

4 puncte

Examenul de bacalaureat 2008
Proba D, E, F
Proba scrisă la Geografie
Europa – România – Uniunea Europeană

- Toate subiectele sunt obligatorii. Se acordă 10 puncte din oficiu.
- Timpul efectiv de lucru este de 3 ore.

SUBIECTUL I**(30 puncte)**

Harta de mai sus se referă la subiectul I A – D. Pe hartă sunt marcate state cu litere de la A la J și orașe-capitală cu numere de la 1 la 15.

A. Precizați:

1. numele statelor marcate, pe hartă, cu numerele **C** și **E**;
2. numele orașelor-capitală marcate, pe hartă, cu numerele **3** și **7**.

4 puncte

B. Scrieți, pe foaia de examen, răspunsurile corecte care completează propozițiile de mai jos:

1. Statul marcat, pe hartă, cu litera **G** are capitala în orașul numit ...
2. Cehia are capitala în orașul marcat, pe hartă, cu numărul ...
3. Orașul - capitală Berna este marcat, pe hartă, cu numărul ...

6 puncte

C. Scrieți, pe foaia de examen, litera corespunzătoare răspunsului corect pentru fiecare dintre afirmațiile de mai jos:

1. Este situat în Peninsula Iutlanda, o mare parte din teritoriul statului marcat, pe hartă, cu litera:
a. A b. E c. G d. I **2 puncte**
2. Orașul Sarajevo este capitala statului marcat, pe hartă, cu litera:
a. F b. H c. I d. J **2 puncte**
3. Are deschidere la Marea Baltică statul marcat, pe hartă, cu litera:
a. D b. F c. G d. I **2 puncte**
4. Orașul - capitală Reykjavik este marcat, pe hartă, cu numărul:
a. 2 b. 7 c. 12 d. 15 **2 puncte**
5. Vegetația de taiga (pădure de conifere) și tundra sunt specifice statului marcat, pe hartă, cu litera:
a. E b. F c. I d. J **2 puncte**

D. Precizați trei asemănări între **clima** statului marcat, pe hartă cu litera **F** și **clima** statului marcat, pe hartă cu litera **G**.

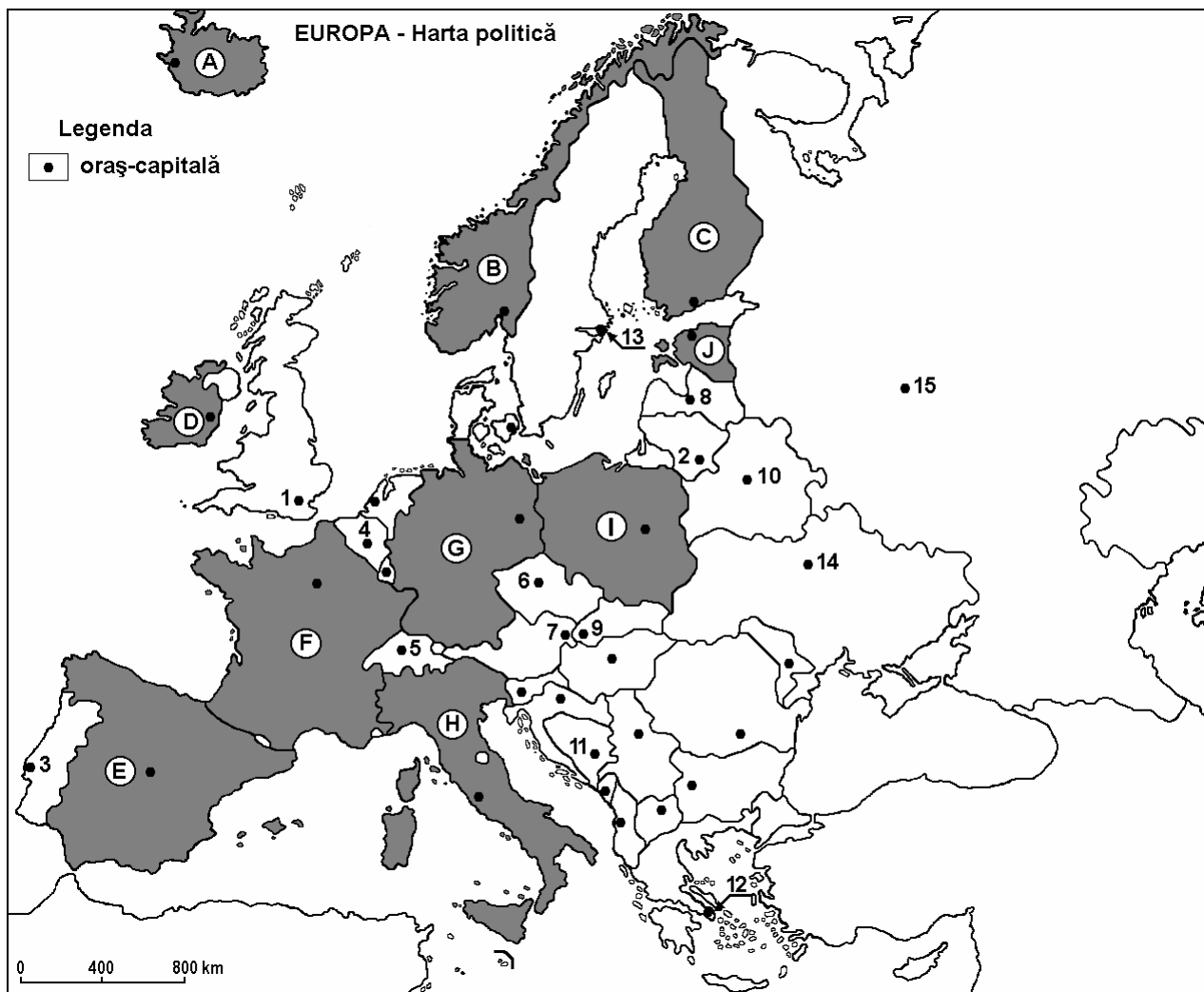
Nota 1: Asemănările se pot referi la oricare dintre următoarele elemente de **climă**: tip de climă, temperaturi medii anuale, precipitații medii anuale, vânturi, amplitudine termică.

Nota 2: Punctajul complet va fi acordat numai dacă cele trei asemănări vor fi prezentate comparativ și nu separat. **6 puncte**

E. Prezentați doi factori care influențează distribuția spațială neuniformă a populației în spațiul european. **4 puncte**

Examenul de bacalaureat 2008
Proba D, E, F
Proba scrisă la Geografie
Europa – România – Uniunea Europeană

- Toate subiectele sunt obligatorii. Se acordă 10 puncte din oficiu.
- Timpul efectiv de lucru este de 3 ore.

SUBIECTUL I**(30 puncte)**

Harta de mai sus se referă la subiectul I A – D. Pe hartă sunt marcate state cu litere și orașe-capitală cu numere.

A. Precizați:

1. numele statelor marcate, pe hartă, cu numerele A și I;
2. numele orașelor-capitală marcate, pe hartă, cu numerele 4 și 5.

4 puncte**B. Scrieți, pe foaia de examen, răspunsurile corecte care completează propozițiile de mai jos:**

1. Statul a cărui capitală este orașul marcat, pe hartă, cu numărul 3, se numește ...
2. Munții Apenini se desfășoară pe teritoriul statului marcat, pe hartă, cu litera ...
3. Fluviul care traversează orașele marcate, pe hartă, cu numerele 7 și 9, se numește ...

6 puncte

C. Scrieți, pe foaia de examen, litera corespunzătoare răspunsului corect pentru fiecare dintre afirmațiile de mai jos:

1. Capitala statului marcat, pe hartă, cu litera **E** este:

a. Lisabona	b. Londra	c. Madrid	d. Paris	2 puncte
-------------	-----------	-----------	----------	-----------------
2. Fluviul Tamisa străbate orașul - capitală marcat, pe hartă, cu numărul:

a. 1	b. 2	c. 8	d. 11	2 puncte
------	------	------	-------	-----------------
3. Climatul mediteranean se întâlnește în sudul statului marcat, pe hartă, cu litera:

a. C	b. D	c. F	d. G	2 puncte
------	------	------	------	-----------------
4. Are ieșire la Marea Baltică statul marcat, pe hartă, cu litera:

a. D	b. E	c. H	d. J	2 puncte
------	------	------	------	-----------------
5. Capitala Cehiei este orașul marcat, pe hartă, cu numărul:

a. 3	b. 6	c. 10	d. 14	2 puncte
------	------	-------	-------	-----------------

D. Precizați trei deosebiri între **clima** statului marcat cu litera **B** și **clima** statului marcat cu litera **H**.
Nota 1: Deosebirile se pot referi la oricare dintre următoarele elemente de **climă**: tip de climă, temperaturi medii anuale, precipitații medii anuale, vânturi, amplitudine termică.
Nota 2: Punctajul complet va fi acordat numai dacă cele trei deosebiri vor fi prezentate comparativ și nu separat.
6 puncte

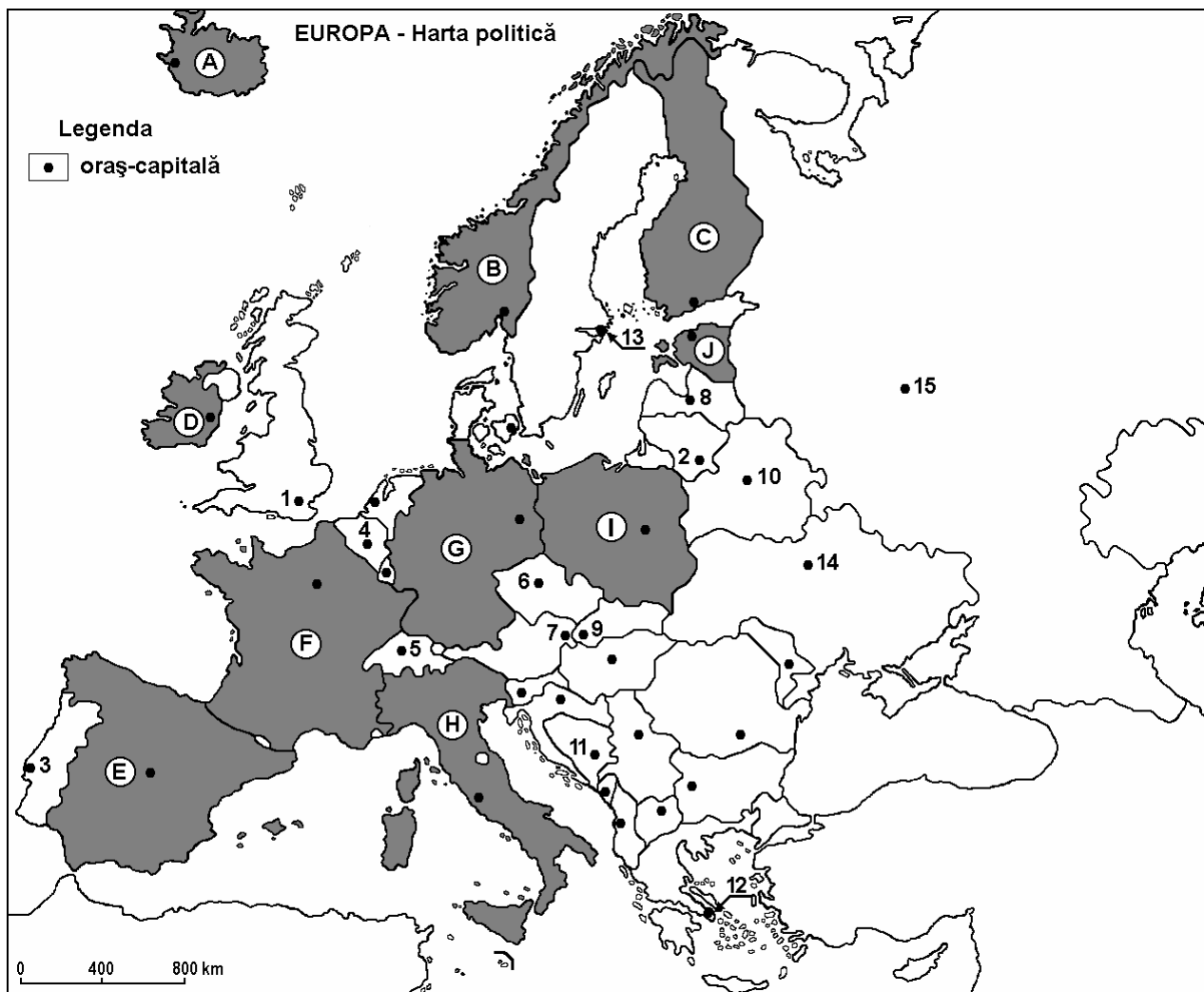
E. Precizați doi factori care au determinat prezența reliefului glaciar în Munții Alpi.
4 puncte

Examenul de bacalaureat 2008
Proba D, E, F
Proba scrisă la Geografie
Europa – România – Uniunea Europeană

- Toate subiectele sunt obligatorii. Se acordă 10 puncte din oficiu.
- Timpul efectiv de lucru este de 3 ore.

SUBIECTUL I

(30 puncte)



Harta de mai sus se referă la subiectul I A – D. Pe hartă sunt marcate state cu litere și oraș-capitală cu numere.

A. Precizați:

1. numele statelor marcate, pe hartă, cu numerele **F** și **G**;
2. numele orașelor-capitală marcate, pe hartă, cu numerele **6** și **7**.

4 puncte

B. Scrieți, pe foaia de examen, răspunsurile corecte care completează propozițiile de mai jos:

1. Statul a cărui capitală este orașul marcat, pe hartă, cu numărul **4**, se numește ...
2. Vulcanul Etna se află pe teritoriul statului marcat, pe hartă, cu litera ...
3. Fluviul care traversează orașul marcat, pe hartă, cu numărul **9**, se numește ...

6 puncte

C. Scrieți, pe foaia de examen, litera corespunzătoare răspunsului corect pentru fiecare dintre afirmațiile de mai jos:

- | | | | | | |
|--|--------------|--------------|--------------|--------------|-----------------|
| 1. Climatul temperat – oceanic este specific statului marcat, pe hartă, cu litera: | a. C | b. D | c. H | d. J | 2 puncte |
| 2. Tundra este o zonă de vegetație specifică statului marcat, pe hartă, cu litera: | a. A | b. E | c. F | d. I | 2 puncte |
| 3. Capitala Elveției este orașul marcat, pe hartă, cu numărul: | a. 2 | b. 3 | c. 5 | d. 8 | 2 puncte |
| 4. Fluviul Tamisa străbate orașul – capitală marcat, pe hartă, cu numărul: | a. 1 | b. 10 | c. 11 | d. 13 | 2 puncte |
| 5. Capitala celui mai întins stat de pe Glob este orașul marcat, pe hartă, cu numărul: | a. 10 | b. 12 | c. 14 | d. 15 | 2 puncte |

D. Precizați trei deosebiri între **clima** statului marcat cu litera **B** și **clima** statului marcat cu litera **E**.

Nota 1: Deosebirile se pot referi la oricare dintre următoarele elemente de **climă**: tip de climă, temperaturi medii anuale, precipitații medii anuale, vânturi, amplitudine termică.

Nota 2: Punctajul complet va fi acordat numai dacă cele trei deosebiri vor fi prezentate comparativ și nu separat.

6 puncte

E. Prezentați două cauze care au determinat degradarea terenurilor în mediul temperat – continental.

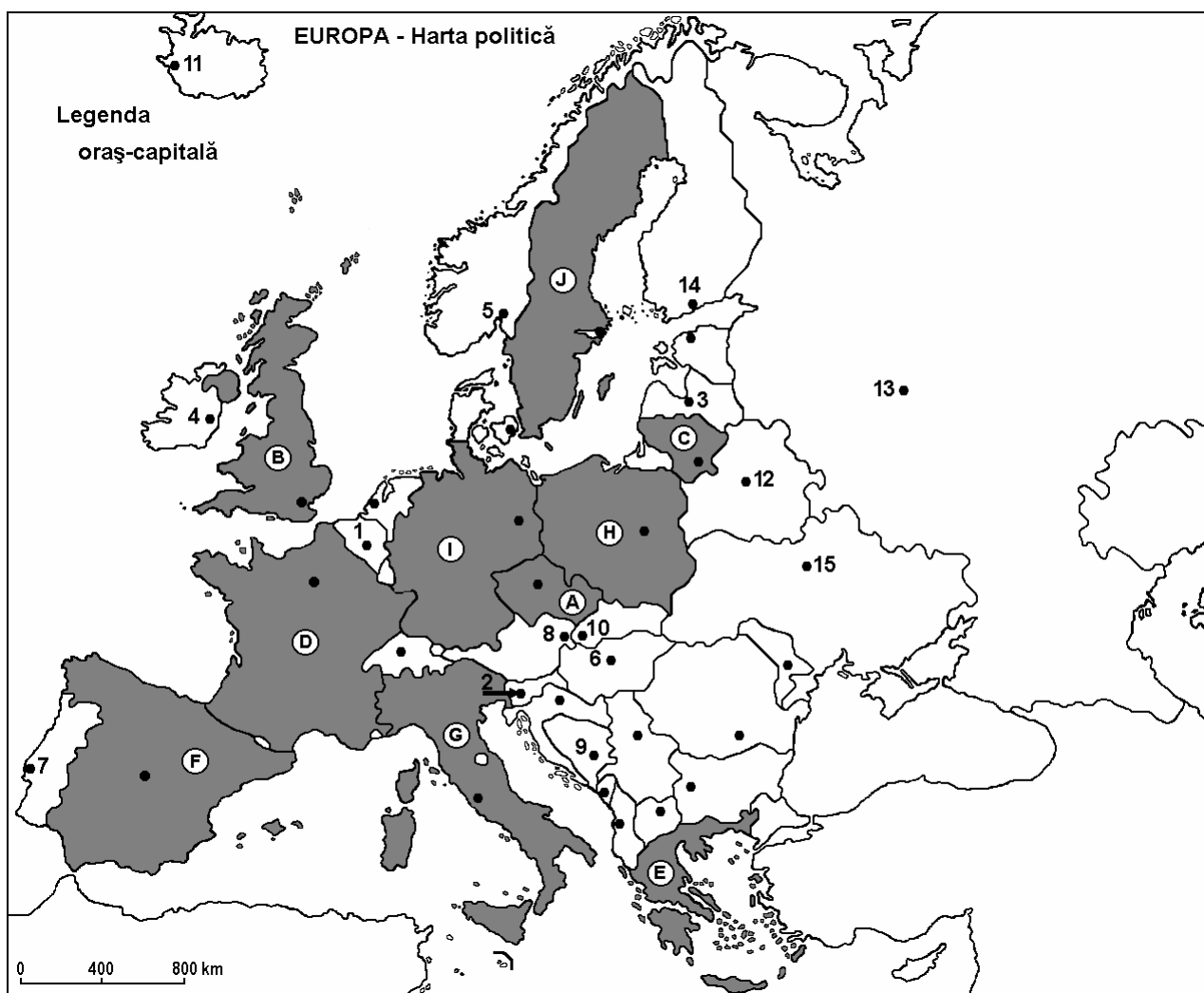
4 puncte

Examenul de bacalaureat 2008
Proba D, E, F
Proba scrisă la Geografie
Europa – România – Uniunea Europeană

- Toate subiectele sunt obligatorii. Se acordă 10 puncte din oficiu.
- Timpul efectiv de lucru este de 3 ore.

SUBIECTUL I

(30 puncte)



Harta de mai sus se referă la subiectul I A – D. Pe hartă sunt marcate state cu litere și oraș-capitală cu numere.

A. Precizați:

1. numele statelor marcate, pe hartă, cu numerele **A** și **H**;
2. numele orașelor-capitală marcate, pe hartă, cu numerele **7** și **13**.

4 puncte

B. Scrieți, pe foaia de examen, răspunsurile corecte care completează propozițiile de mai jos:

1. Orașul marcat, pe hartă, cu numărul **8** este capitala statului numit ...
2. Dunărea izvorăște de pe teritoriul statului marcat, pe hartă, cu litera ...
3. Munții Apenini se află pe teritoriul statului marcat, pe hartă, cu litera ...

6 puncte

C. Scrieți, pe foaia de examen, litera corespunzătoare răspunsului corect pentru fiecare dintre afirmațiile de mai jos:

1. Capitala statului Finlanda este orașul marcat, pe hartă, cu numărul:
a. 11 b. 12 c. 14 d. 15 **2 puncte**
2. Climatul mediteranean este specific statului marcat, pe hartă, cu litera:
a. B b. C c. E d. J **2 puncte**
3. Statul marcat, pe hartă, cu litera **D** este:
a. Belgia b. Franța c. Olanda d. Spania **2 puncte**
4. Este situat în mediul temperat – oceanic orașul marcat, pe hartă, cu numărul:
a. 4 b. 6 c. 9 d. 10 **2 puncte**
5. Orașul – capitală Oslo este marcat, pe hartă, cu numărul:
a. 1 b. 2 c. 3 d. 5 **2 puncte**

D. Precizați trei asemănări între **clima** statului marcat, pe hartă, cu litera **F** și **clima** statului marcat cu litera **G**.

Nota 1: Asemănările se pot referi la oricare dintre următoarele elemente de **climă**: tip de climă, temperaturi medii anuale, precipitații medii anuale, vânturi, amplitudine termică.

Nota 2: Punctajul complet va fi acordat numai dacă cele trei asemănări vor fi prezentate comparativ și nu separat. **6 puncte**

E. Prezentați două elemente care definesc peisajul montan.

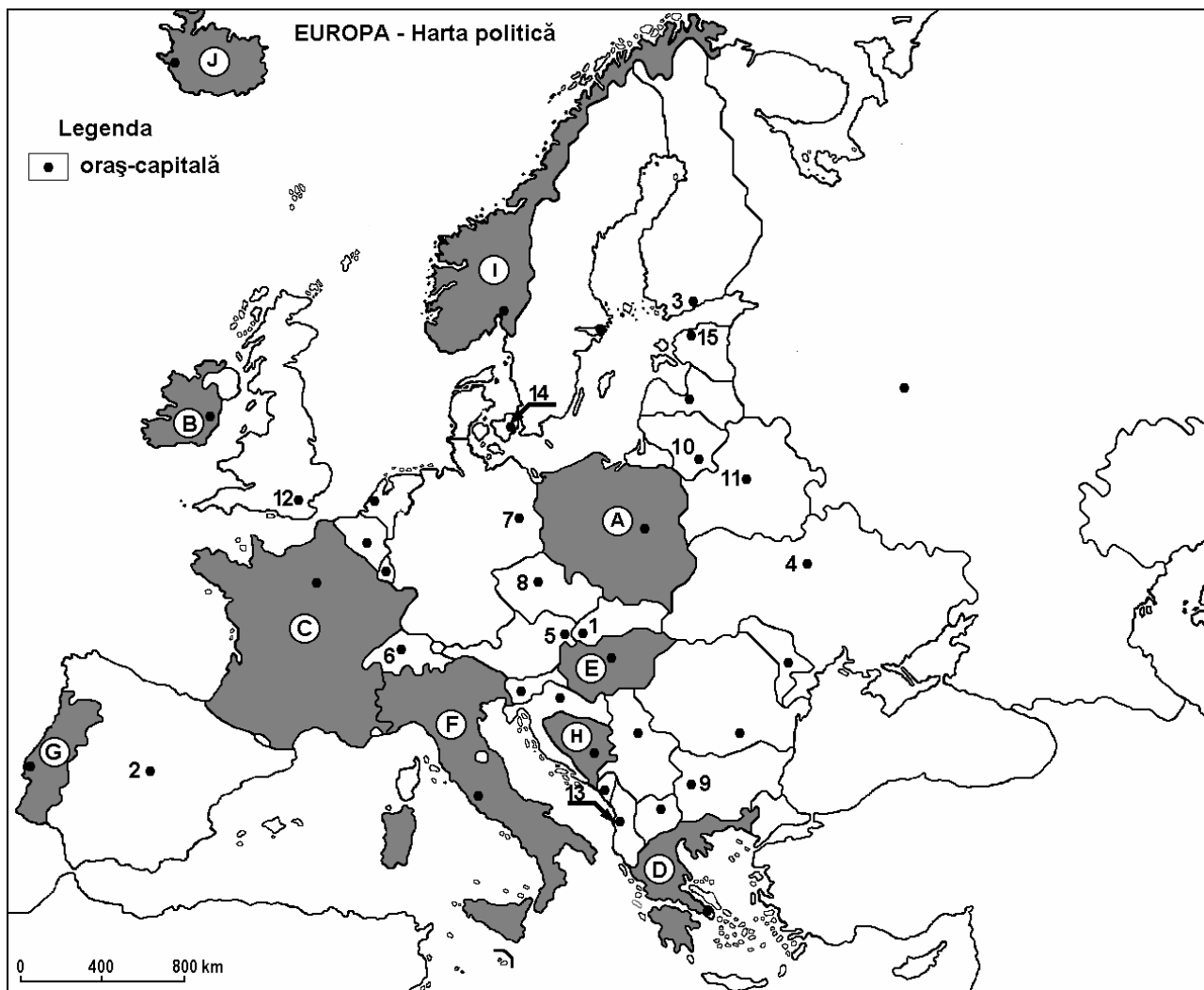
4 puncte

Examenul de bacalaureat 2008
Proba D, E, F
Proba scrisă la GEOGRAFIE
Europa–România–Uniunea Europeană

- Toate subiectele sunt obligatorii. Se acordă 10 puncte din oficiu.
- Timpul efectiv de lucru este de 3 ore.

SUBIECTUL I

(30 puncte)



Harta de mai sus se referă la subiectele I A-C . Pe hartă sunt marcate state cu litere și orașe –capitală cu numere.

A. Precizați:

1. numele statelor marcate, pe hartă, cu literele **A** și **B**;
2. numele orașelor-capitală marcate, pe hartă, cu numerele **3** și **4**.

4 puncte

B. Scrieți, pe foaia de examen, răspunsurile corecte care completează propozițiile de mai jos:

1. Prin capitalele marcate, pe hartă, cu numerele **1** și **5** trece fluviul ...
2. Capitala Ucrainei este orașul marcat, pe hartă, cu numărul ...
3. Statul marcat, pe hartă, cu litera **D** se află în climat de tip ...

6 puncte

C. Scrieți, pe foaia de examen, litera corespunzătoare răspunsului corect pentru fiecare dintre afirmațiile de mai jos:

1. Varșovia este capitala statului marcat, pe hartă, cu litera:

a. A	b. B	c. C	d. E	2 puncte
------	------	------	------	-----------------
2. Face parte din familia limbilor fino-ugrice limba vorbită de locuitorii statului a cărei capitală este marcată, pe hartă, cu numărul:

a. 1	b. 3	c. 4	d. 5	2 puncte
------	------	------	------	-----------------
3. Fluviul Sena traversează capitala statului marcat, pe hartă, cu litera:

a. B	b. C	c. D	d. E	2 puncte
------	------	------	------	-----------------
4. Câmpia Padului se întinde în partea de nord a statului marcat, pe hartă, cu litera:

a. A	b. B	c. E	d. F	2 puncte
------	------	------	------	-----------------
5. Cu numărul **6** este marcată, pe hartă, capitala statului numit:

a. Austria	b. Bulgaria	c. Cehia	d. Elveția	2 puncte
------------	-------------	----------	------------	-----------------

D. Precizați două deosebiri și o asemănare între **relieful** Munților Scandinaviei și **relieful** Munților Alpi.

Nota 1: Deosebirile și asemănarea se pot referi la oricare dintre următoarele aspecte ale **reliefului**: mod de formare, tipuri de roci, altitudini, fragmentare, tipuri de relief, alte aspecte specifice ale reliefului.

Nota 2: Punctajul complet va fi acordat numai dacă cele două deosebiri și asemănarea vor fi prezentate comparativ și nu separat.

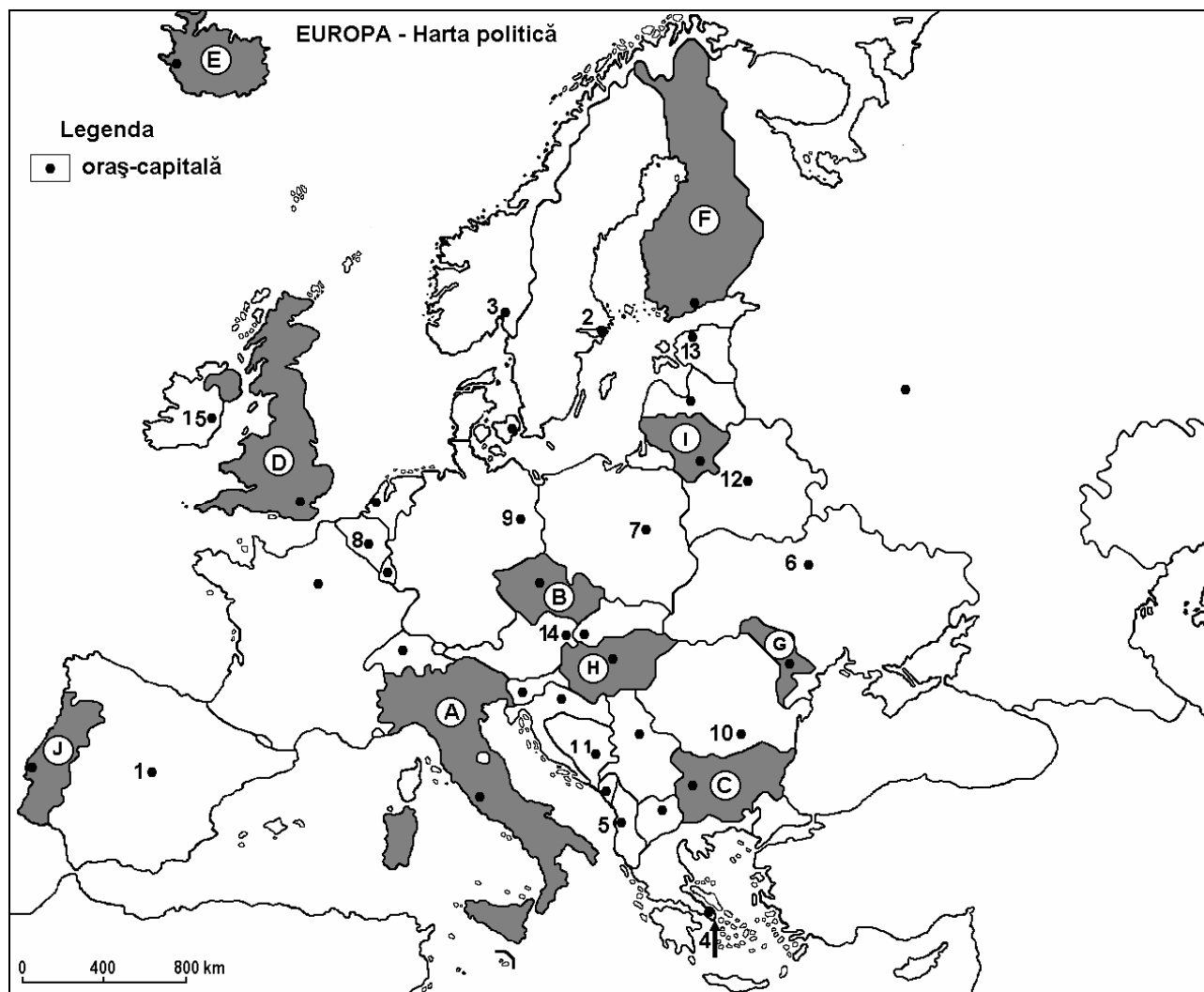
6 puncte

E. Prezentați două argumente prin care să susțineți afirmația: „În determinarea climei Europei intervin mai mulți factori genetici”.

4 puncte

Examenul de bacalaureat 2008
Proba D, E, F
Proba scrisă la GEOGRAFIE
Europa–România–Uniunea Europeană

- Toate subiectele sunt obligatorii. Se acordă 10 puncte din oficiu.
- Timpul efectiv de lucru este de 3 ore.

SUBIECTUL I**(30 puncte)**

Harta de mai sus se referă la subiectele I A-D. Pe hartă sunt marcate state cu litere și orașe –capitală cu numere.

A. Precizați:

1. numele statelor marcate, pe hartă, cu literele **B** și **E**;
2. numele orașelor-capitală marcate, pe hartă, cu numerele **1** și **3**.

4 puncte**B. Scrieți, pe foaia de examen, răspunsurile corecte care completează propozițiile de mai jos:**

1. Are ieșire la Marea Neagră statul marcat, pe hartă, cu litera ...
2. Praga este capitala statului marcat, pe hartă, cu litera ...
3. San Marino este o enclavă situată pe teritoriul statului marcat, pe hartă, cu litera ...

6 puncte

C. Scrieți, pe foaia de examen, litera corespunzătoare răspunsului corect pentru fiecare dintre afirmațiile de mai jos:

1. Cu numărul **5** este marcată, pe hartă, capitala statului numit:
a. Albania **b.** Cipru **c.** Grecia **d.** Macedonia **2 puncte**
2. Relieful vulcanic și gheizerele sunt specifice statului marcat, pe hartă, cu litera:
a. B **b.** D **c.** E **d.** F **2 puncte**
3. Munții Apenini se întind, pe direcție nord-sud pe teritoriul statului marcat, pe hartă, cu litera:
a. A **b.** C **c.** D **d.** F **2 puncte**
4. Fluviul care străbate capitala statului marcat, pe hartă, cu litera **D** se numește:
a. Elba **b.** Rhin **c.** Sena **d.** Tamisa **2 puncte**
5. În partea de nord a statului marcat, pe hartă, cu litera **F** vegetația este reprezentată de:
a. maquis **b.** pustă **c.** stepă **d.** tundră **2 puncte**

D. Precizați trei deosebiri între **clima** statului marcat, pe hartă, cu litera **A** și **clima** statului marcat, pe hartă, cu litera **D**.

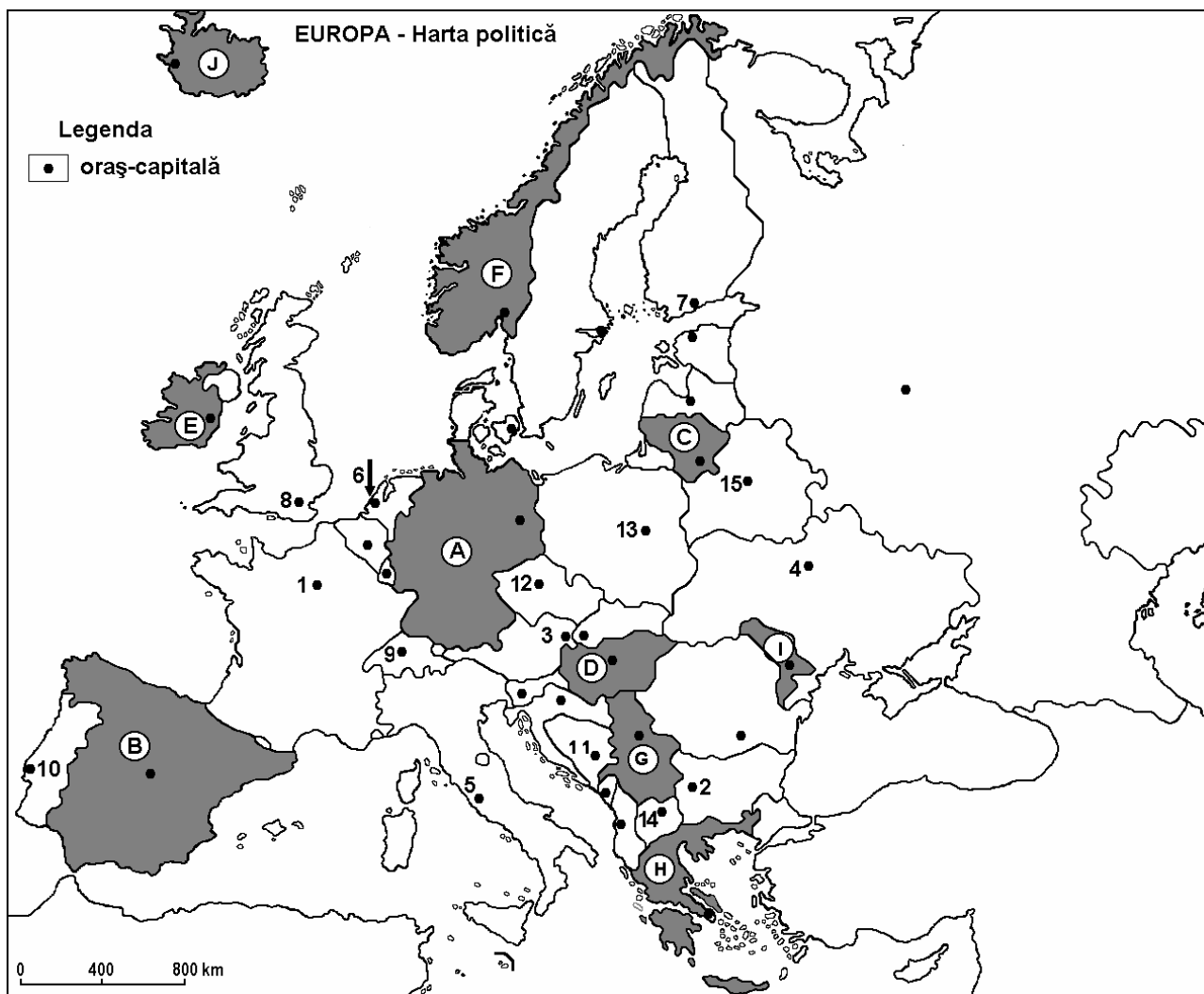
Nota 1: Deosebirile se pot referi la oricare dintre următoarele elemente de **climă**: tipul de climă, temperaturi medii anuale, precipitații medii anuale, vânturi, amplitudine termică.

Nota 2: Punctajul complet va fi acordat numai dacă cele trei deosebiri vor fi prezentate comparativ și nu separat. **6 puncte**

E. Prezentați două cauze ale tendinței de îmbătrânire demografică a Europei. **4 puncte**

Examenul de bacalaureat 2008
Proba D, E, F
Proba scrisă la GEOGRAFIE
Europa–România–Uniunea Europeană

- Toate subiectele sunt obligatorii. Se acordă 10 puncte din oficiu.
- Timpul efectiv de lucru este de 3 ore.

SUBIECTUL I**(30 puncte)**

Harta de mai sus se referă la subiectele A-C. Pe hartă sunt marcate state cu litere și orașe – capitală cu numere.

A. Precizați:

1. numele statelor marcate, pe hartă, cu literele **C** și **E**;
2. numele orașelor-capitală marcate, pe hartă, cu numerele **4** și **6**.

4 puncte

B. Scrieți, pe foaia de examen, răspunsurile corecte care completează propozițiile de mai jos:

1. Podișul interior de tip Mesetă este specific statului marcat, pe hartă, cu litera ...
2. Fluviul Dunărea traversează orașul capitală marcat, pe hartă, cu numărul ...
3. Statul marcat, pe hartă, cu litera **F** se numește ...

6 puncte

C. Scrieți, pe foaia de examen, litera corespunzătoare răspunsului corect pentru fiecare dintre afirmațiile de mai jos:

1. Fluviul Elba stăbate statul marcat, pe hartă, cu litera:

a. A b. B c. D d. F **2 puncte**

2. În Peninsula Scandinavică este situată capitala marcată, pe hartă, cu numărul:

a. 1 b. 3 c. 4 d. 7 **2 puncte**

3. Lacul Balaton este situat în statul marcat, pe hartă, cu litera:

a. A b. D c. E d. F **2 puncte**

4. Statul a cărui suprafață a fost recuperată de sub apele mării în proporție de 50% are capitala marcată, pe hartă, cu numărul:

a. 1 b. 4 c. 5 d. 6 **2 puncte**

5. Orașele Barcelona și Valencia se află în statul marcat, pe hartă, cu litera:

a. A b. B c. E d. F **2 puncte**

D. Precizați două deosebiri și o asemănare între **relieful** Munților Alpi și **relieful** Munților Ural.

Nota 1 Deosebirile și asemănarea se pot referi la oricare dintre următoarele aspecte ale **reliefului**: mod de formare, tipuri de roci, altitudini, fragmentare, tipuri de relief, alte aspecte specifice ale reliefului.

Nota 2: Punctajul complet va fi acordat numai dacă deosebirile și asemănarea vor fi prezentate comparativ și nu separat. **6 puncte**

E. Prezentați două cauze care explică emigrarea populației dinspre fostele țări iugoslave.

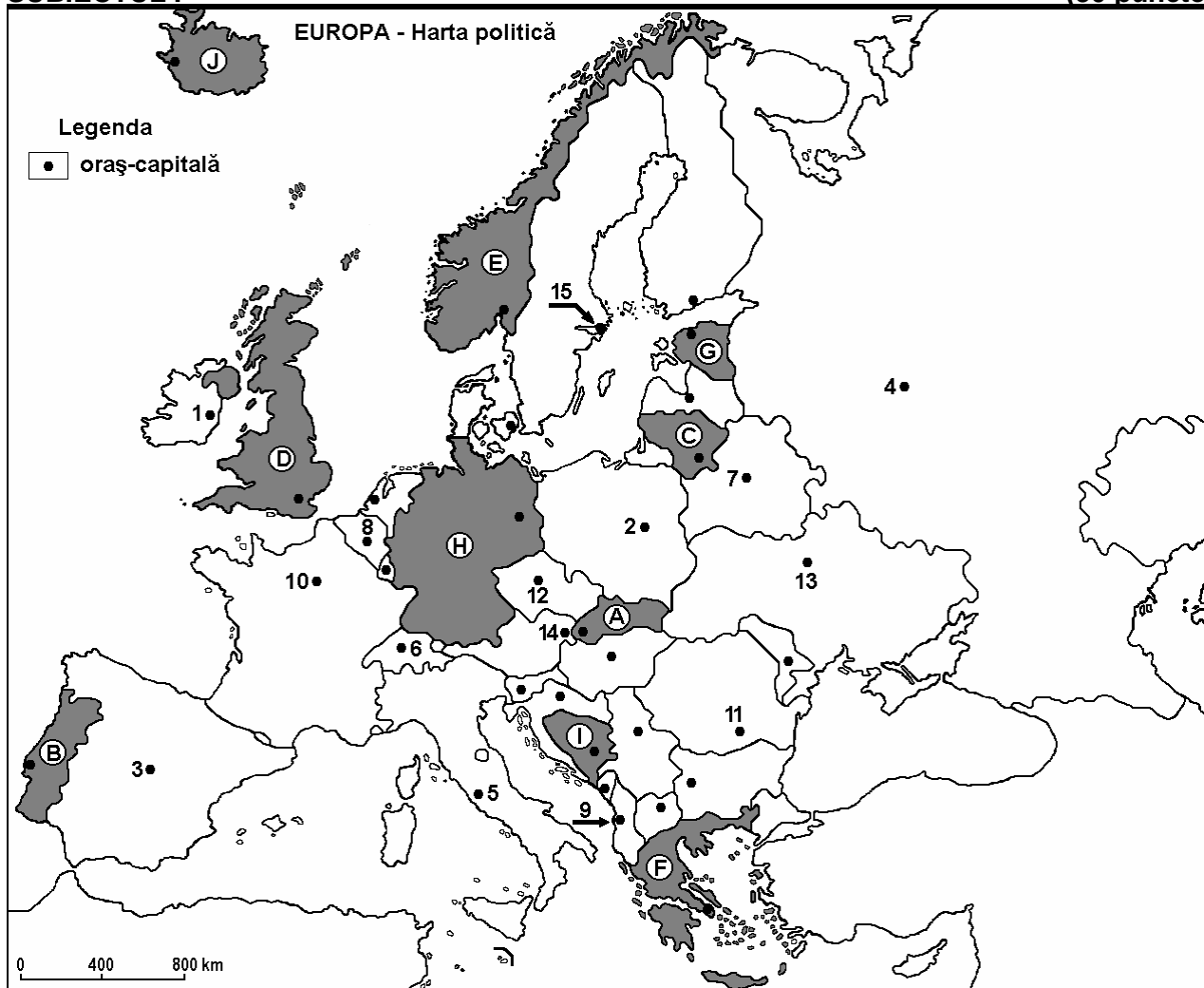
4 puncte

Examenul de bacalaureat 2008
Proba D, E, F
Proba scrisă la GEOGRAFIE
Europa–România–Uniunea Europeană

- Toate subiectele sunt obligatorii. Se acordă 10 puncte din oficiu.
- Timpul efectiv de lucru este de 3 ore.

SUBIECTUL I

(30 puncte)



Harta de mai sus se referă la subiectele A – C. Pe hartă sunt marcate state cu litere și orașe – capitală cu numere.

A. Precizați:

1. numele statelor marcate, pe hartă, cu literele C și F;
2. numele orașelor-capitală marcate, pe hartă, cu numerele 3 și 15.

4 puncte

B. Scrieți, pe foaia de examen, răspunsurile corecte care completează propozițiile de mai jos:

1. Orașul marcat, pe hartă, cu numărul 14 este traversat de fluviul numit ...
2. Capitala statului marcat, pe hartă, cu litera H se numește ...
3. Podișul Meseta se desfășoară pe teritoriul statului a cărui capitală este marcată, pe hartă, cu numărul ...

6 puncte

C. Scrieți, pe foaia de examen, litera corespunzătoare răspunsului corect pentru fiecare dintre afirmațiile de mai jos:

1. Țărmurile cu fiorduri sunt caracteristice statului marcat, pe hartă, cu litera:

a. B	b. C	c. E	d. F	2 puncte
------	------	------	------	-----------------
2. Orașul Berna este marcat, pe hartă, cu numărul:

a. 6	b. 7	c. 12	d. 15	2 puncte
------	------	-------	-------	-----------------
3. Minereuri de fier de bună calitate se exploatează din statul a cărui capitală este marcată, pe hartă, cu numărul:

a. 6	b. 8	c. 14	d. 15	2 puncte
------	------	-------	-------	-----------------
4. Vegetația arbustivă sempervirescentă este specifică pentru statul marcat, pe hartă, cu litera:

a. B	b. C	c. H	d. J	2 puncte
------	------	------	------	-----------------
5. Orașul marcat, pe hartă, cu numărul **8** este capitala statului:

a. Belgia	b. Liechtenstein	c. Luxemburg	d. Olanda	2 puncte
-----------	------------------	--------------	-----------	-----------------

D. Precizați două deosebiri și o asemănare între **clima** Peninsulei Iutlanda și **clima** Peninsulei Balcanice.

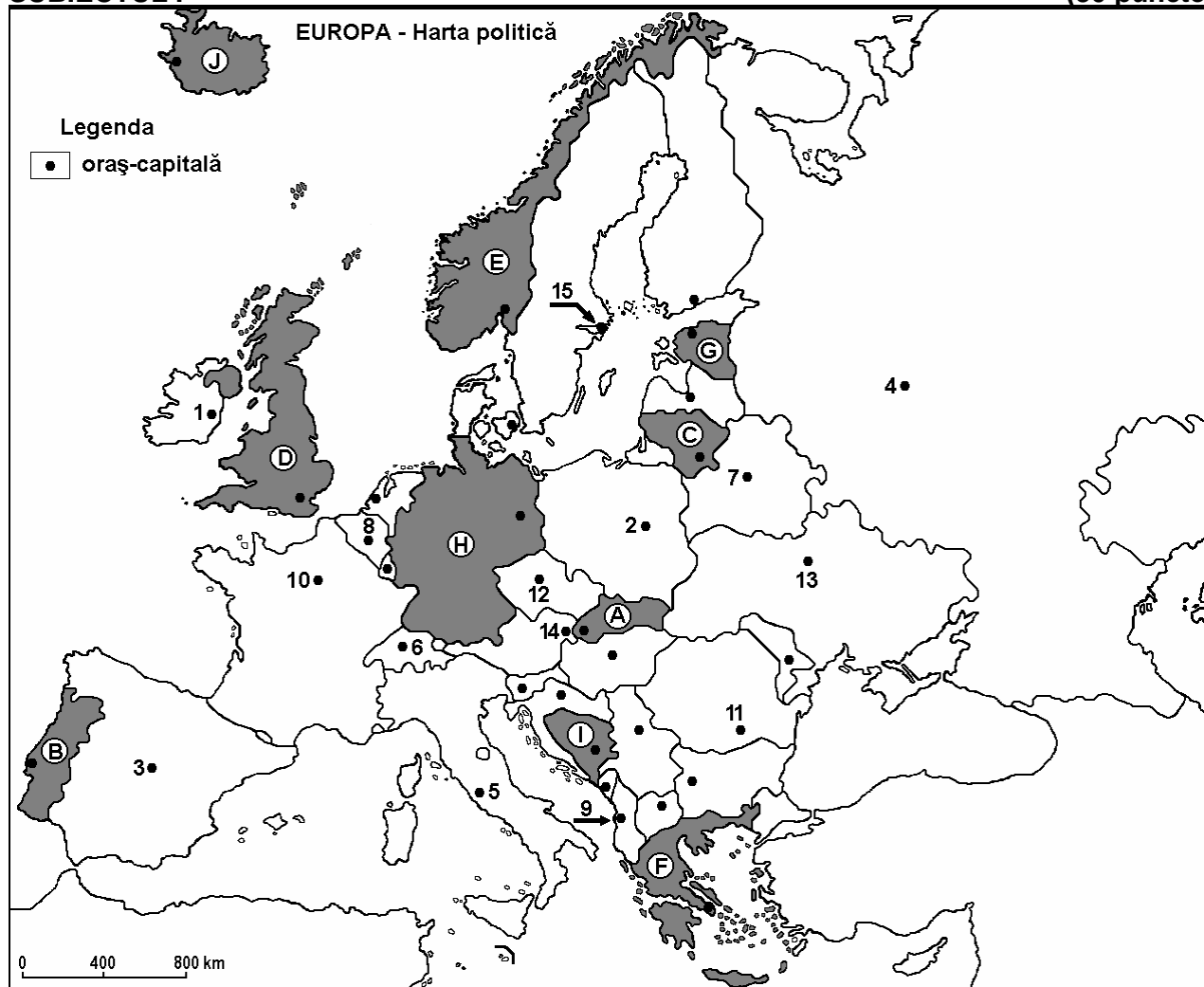
Nota 1: Deosebirile și asemănarea se pot referi la oricare dintre următoarele elemente de **climă**: tip de climă, temperaturi medii anuale, precipitații medii anuale, vânturi, amplitudine termică.

Nota 2: Punctajul complet va fi acordat numai dacă deosebirile și asemănarea vor fi prezentate comparativ și nu separat. **6 puncte**

E. Prezentați două argumente pentru a susține afirmația: Europa este considerată leagănul turismului. **4 puncte**

Examenul de bacalaureat 2008
Proba D, E, F
Proba scrisă la GEOGRAFIE
Europa–România–Uniunea Europeană

- Toate subiectele sunt obligatorii. Se acordă 10 puncte din oficiu.
- Timpul efectiv de lucru este de 3 ore.

SUBIECTUL I**(30 puncte)**

Harta de mai sus se referă la subiectele A – C. Pe hartă sunt marcate state cu litere și orașe – capitală cu numere.

A. Precizați:

1. numele statelor marcate, pe hartă, cu literele **A** și **I**;
2. numele orașelor-capitală marcate, pe hartă, cu numerele **2** și **8**.

4 puncte

B. Scrieți, pe foaia de examen, răspunsurile corecte care completează propozițiile de mai jos:

1. Capitala statului marcat, pe hartă, cu litera **B** este traversată de fluviul numit ...
2. Este situat în Peninsula Scandinavică statul marcat pe hartă cu litera ...
3. Capitala statului marcat, pe hartă, cu litera **A** se numește ...

6 puncte

C. Scrieți, pe foaia de examen, litera corespunzătoare răspunsului corect pentru fiecare dintre afirmațiile de mai jos:

1. Un climat temperat oceanic specific are statul marcat, pe hartă, cu litera:

a. A	b. D	c. F	d. I	2 puncte
------	------	------	------	-----------------
2. Orașul Varșovia este marcat, pe hartă, cu numărul:

a. 2	b. 7	c. 12	d. 13	2 puncte
------	------	-------	-------	-----------------
3. Statul marcat, pe hartă, cu litera **C** are deschidere la Marea:

a. Albă	b. Baltică	c. Neagră	d. Nordului	2 puncte
---------	------------	-----------	-------------	-----------------
4. În statul marcat, pe hartă, cu litera **H** un râu cu regim complex este:

a. Donul	b. Rinul	c. Tibrul	d. Vistula	2 puncte
----------	----------	-----------	------------	-----------------
5. Formațiunea arbustivă sempervirescentă specifică statului marcat, pe hartă, cu litera **F** este numită:

a. frigana	b. garriga	c. maquis	d. tomillares	2 puncte
------------	------------	-----------	---------------	-----------------

D. Precizați două deosebiri și o asemănare între **clima** Peninsulei Scandinavice și **clima** Peninsulei Iberice.

Nota 1: Deosebirile și asemănarea se pot referi la oricare dintre următoarele elemente de **climă**: tip de climă, temperaturi medii anuale, precipitații medii anuale, vânturi, amplitudine termică.

Nota 2: Punctajul complet va fi acordat numai dacă deosebirile și asemănarea vor fi prezentate comparativ și nu separat. **6 puncte**

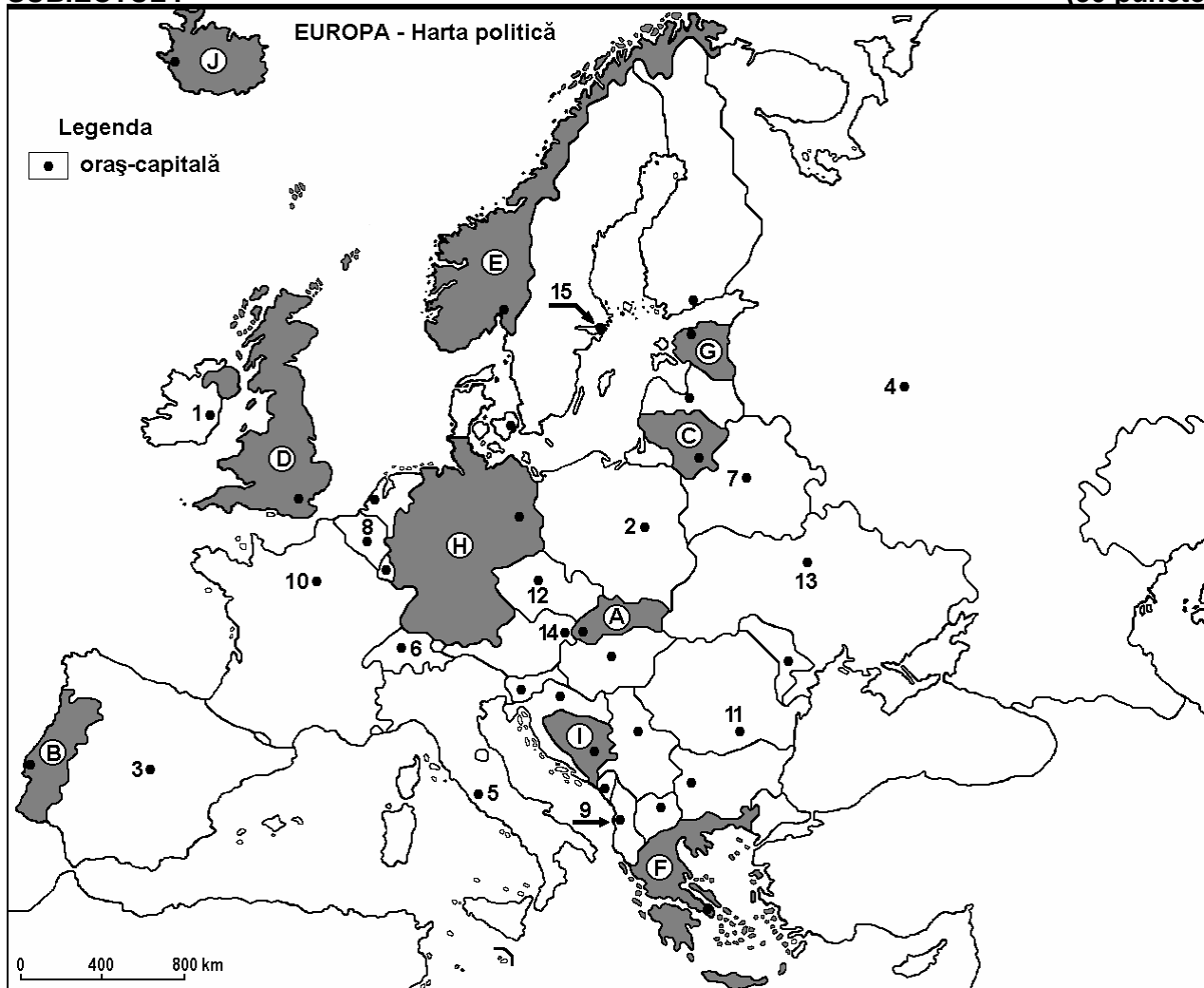
E. Explicați influența climatică a Mării Negre asupra zonei litorale, precizând două efecte ale acestei influențe. **4 puncte**

Examenul de bacalaureat 2008
Proba D, E, F
Proba scrisă la GEOGRAFIE
Europa–România–Uniunea Europeană

- Toate subiectele sunt obligatorii. Se acordă 10 puncte din oficiu.
- Timpul efectiv de lucru este de 3 ore.

SUBIECTUL I

(30 puncte)



Harta de mai sus se referă la subiectele A – C. Pe hartă sunt marcate state cu litere și orașe – capitală cu numere.

A. Precizați:

1. numele statelor marcate, pe hartă, cu literele **C** și **J**;
2. numele orașelor-capitală marcate, pe hartă, cu numerele **6** și **15**.

4 puncte

B. Scrieți, pe foaia de examen, răspunsurile corecte care completează propozițiile de mai jos:

1. Capitala statului marcat, pe hartă, cu litera **A** este traversată de fluviul numit ...
2. Statul marcat, pe hartă, cu litera **F** se numește ...
3. Capitala statului marcat, pe hartă, cu litera **E** se numește

6 puncte

C. Scrieți, pe foaia de examen, litera corespunzătoare răspunsului corect pentru fiecare dintre afirmațiile de mai jos:

1. Un climat mediteranean specific se întâlnește în statul marcat, pe hartă, cu litera:

a. A	b. D	c. F	d. H	2 puncte
------	------	------	------	-----------------
2. Orașul Kiev este marcat, pe hartă, cu numărul:

a. 2	b. 7	c. 12	d. 13	2 puncte
------	------	-------	-------	-----------------
3. Statul marcat, pe hartă, cu litera G are deschidere la Marea:

a. Albă	b. Baltică	c. Neagră	d. Nordului	2 puncte
---------	------------	-----------	-------------	-----------------
4. În statul marcat, pe hartă, cu litera D un râu cu regim simplu, de tip atlantic, este:

a. Donul	b. Elba	c. Rhône	d. Tamisa	2 puncte
----------	---------	----------	-----------	-----------------
5. Vegetația de tundră este specifică părții de nord a statului marcat, pe hartă, cu litera:

a. D	b. E	c. G	d. I	2 puncte
------	------	------	------	-----------------

D. Precizați două deosebiri și o asemănare între **clima** Peninsulei Italice și **clima** Peninsulei Iberice.

Nota 1: Deosebirile și asemănarea se pot referi la oricare dintre următoarele elemente de **climă**: tip de climă, temperaturi medii anuale, precipitații medii anuale, vânturi, amplitudine termică.

Nota 2: Punctajul complet va fi acordat numai dacă deosebirile și asemănarea vor fi prezentate comparativ și nu separat. **6 puncte**

E. Precizați tipul de regim hidrologic al fiecăruia dintre fluviile: Dunăre, Tibru, Volga, Rhône.

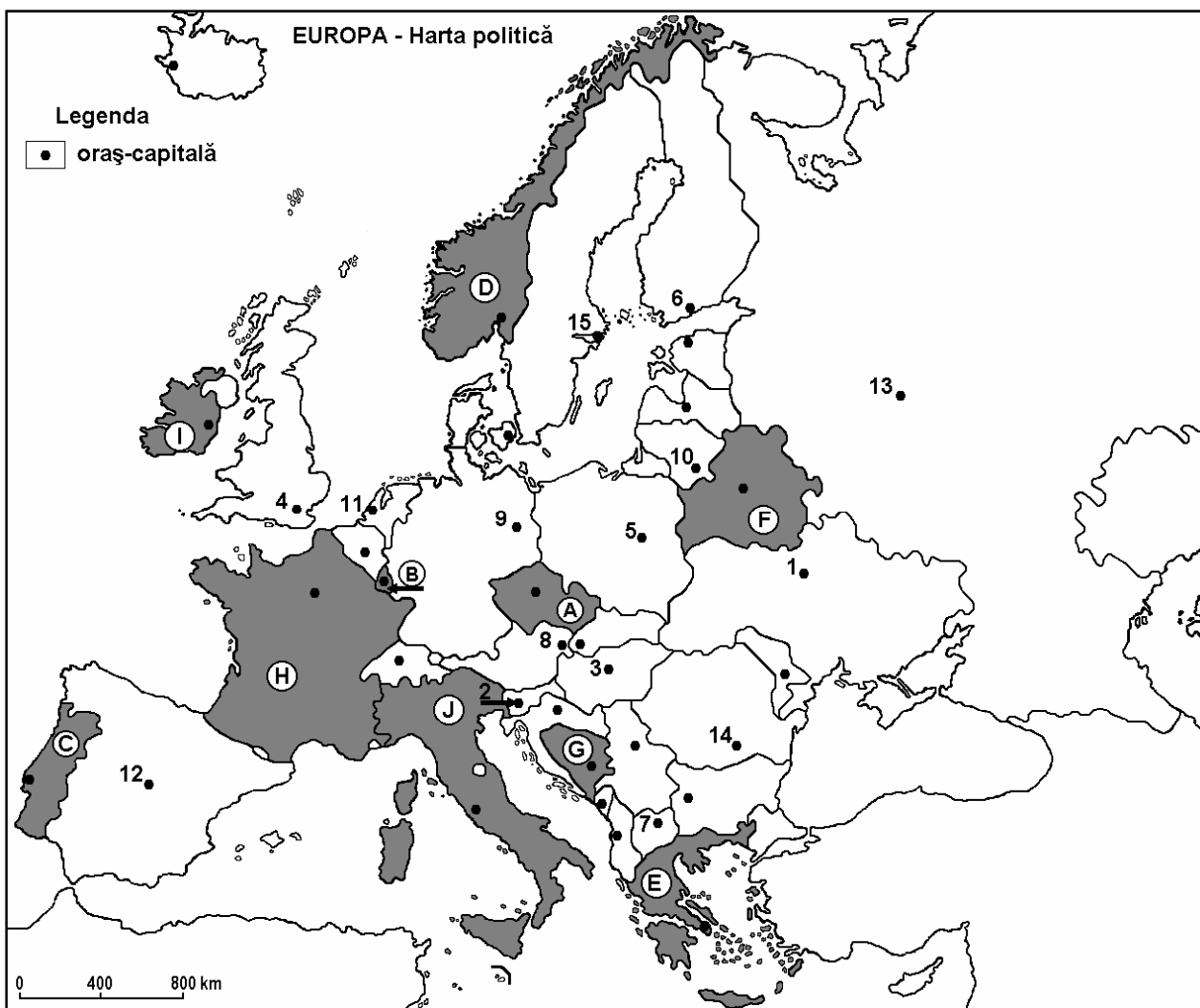
4 puncte

Examenul de bacalaureat 2008
Proba D, E, F
Proba scrisă la Geografie
Europa – România – Uniunea Europeană

- Toate subiectele sunt obligatorii. Se acordă 10 puncte din oficiu.
- Timpul efectiv de lucru este de 3 ore.

SUBIECTUL I

(30 puncte)



Harta de mai sus se referă la subiectul I A – D. Pe hartă sunt marcate state cu litere și oraș-capitală cu numere.

A. Precizați:

1. numele statelor marcate, pe hartă, cu literele **A** și **G**;
2. numele orașelor-capitală marcate, pe hartă, cu numerele **12** și **13**.

4 puncte

B. Scrieți, pe foaia de examen, răspunsurile corecte care completează propozițiile de mai jos:

1. Capitala statului marcat, pe hartă, cu litera **C** se numește ...
2. Fluviul Tamisa străbate orașul - capitală marcat, pe hartă, cu numărul ...
3. Statul marcat, pe hartă, cu litera **E** se numește ...

6 puncte

C. Scrieți, pe foaia de examen, litera corespunzătoare răspunsului corect pentru fiecare dintre afirmațiile de mai jos:

1. Regiunea turistică Coasta de Azur este situată pe teritoriul statului marcat, pe hartă, cu litera:

a. A	b. C	c. F	d. H	2 puncte
------	------	------	------	-----------------
2. Câmpia Padului este situată pe teritoriul statului marcat, pe hartă, cu litera:

a. A	b. D	c. E	d. J	2 puncte
------	------	------	------	-----------------
3. Orașul-capitală Viena este marcat, pe hartă, cu numărul:

a. 5	b. 7	c. 8	d. 14	2 puncte
------	------	------	-------	-----------------
4. Statul al cărei capitală este orașul marcat, pe hartă, cu numărul **15** are deschidere la Marea:

a. Albă	b. Baltică	c. Egee	d. Neagră	2 puncte
---------	------------	---------	-----------	-----------------
5. Țărmuri cu fiorduri sunt specifice zonelor litorale ale statului marcat, pe hartă, cu litera:

a. A	b. C	c. D	d. G	2 puncte
------	------	------	------	-----------------

D. Precizați trei deosebiri între **clima** statului marcat, pe hartă, cu litera **I** și **clima** statului marcat, pe hartă, cu litera **F**.

Nota 1: Deosebirile se pot referi la oricare dintre următoarele elemente de **climă**: temperaturi medii anuale, precipitații medii anuale, vânturi, tip de climă, amplitudine termică.

Nota 2: Punctajul complet va fi acordat numai dacă cele trei deosebiri vor fi prezentate comparativ și nu separat.

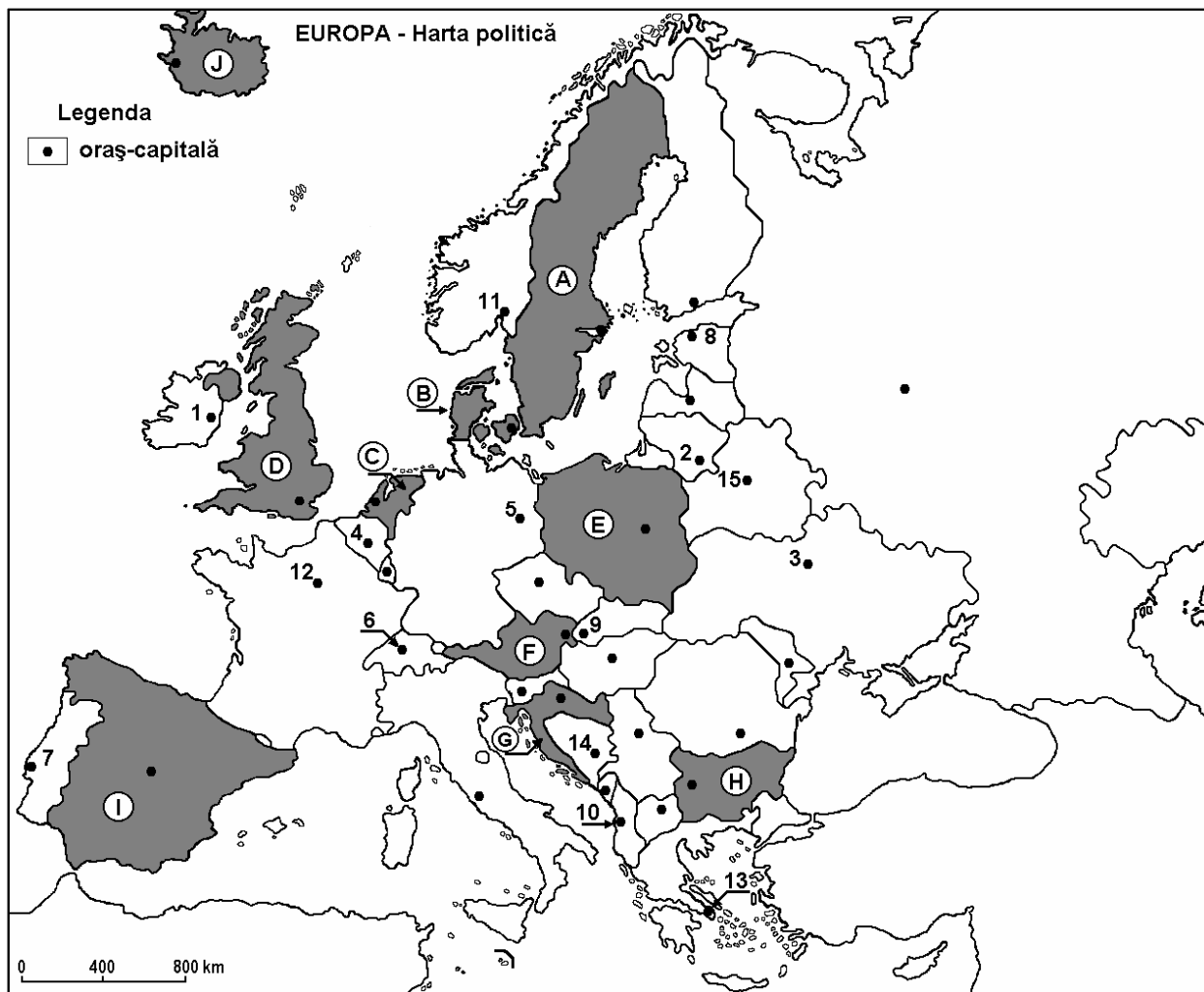
6 puncte

E. Menționați două argumente care susțin afirmația: „Europa Mediteraneană, reprezintă o importantă regiune turistică a Europei”.

4 puncte

Examenul de bacalaureat 2008
Proba D, E, F
Proba scrisă la Geografie
Europa – România – Uniunea Europeană

- Toate subiectele sunt obligatorii. Se acordă 10 puncte din oficiu.
- Timpul efectiv de lucru este de 3 ore.

SUBIECTUL I**(30 puncte)**

Harta de mai sus se referă la subiectul I A – D. Pe hartă sunt marcate state cu litere și orașe-capitală cu numere.

A. Precizați:

1. numele statelor marcate, pe hartă, cu literele **E** și **F**;
2. numele orașelor-capitală marcate, pe hartă, cu numerele **3** și **10**.

4 puncte

B. Scrieți, pe foaia de examen, răspunsurile corecte care completează propozițiile de mai jos:

1. Viena este capitala statului marcat, pe hartă, cu litera ...
2. Capitala statului marcat, pe hartă, cu litera **B** se numește...
3. Fluviul Dunărea străbate orașul capitală marcat, pe hartă, cu numărul ...

6 puncte

C. Scrieți, pe foaia de examen, litera corespunzătoare răspunsului corect pentru fiecare dintre afirmațiile de mai jos:

1. Țărml cu canale (dalmatic) este specific statului marcat, pe hartă, cu litera:

a. F	b. G	c. H	d. I	2 puncte
------	------	------	------	-----------------
2. Orașul-capitală marcat, pe hartă, cu numărul **12** se numește:

a. Berlin	b. Madrid	c. Paris	d. Sofia	2 puncte
-----------	-----------	----------	----------	-----------------
3. Câmpia Andaluziei este situată pe teritoriul statului marcat, pe hartă, cu litera:

a. A	b. E	c. F	d. I	2 puncte
------	------	------	------	-----------------
4. Orașul marcat, pe hartă, cu numărul **15** este capitala statului numit:

a. Albania	b. Belarus	c. Norvegia	d. Spania	2 puncte
------------	------------	-------------	-----------	-----------------
5. Vegetația de tundră este specifică statului marcat, pe hartă, cu litera:

a. C	b. G	c. I	d. J	2 puncte
------	------	------	------	-----------------

D. Precizați trei deosebiri între **clima** statului marcat, pe hartă, cu litera **C** și **clima** statului marcat, pe hartă, cu litera **I**.

Nota 1: Deosebirile se pot referi la oricare dintre următoarele elemente de **climă**: temperaturi medii anuale, precipitații medii anuale, vânturi, tip de climă, amplitudine termică.

Nota 2: Punctajul complet va fi acordat numai dacă cele trei deosebiri vor fi prezentate comparativ și nu separat.

6 puncte

E. „Relieful Europei s-a format în perioade diferite”. Precizați două argumente care să susțină această afirmație.

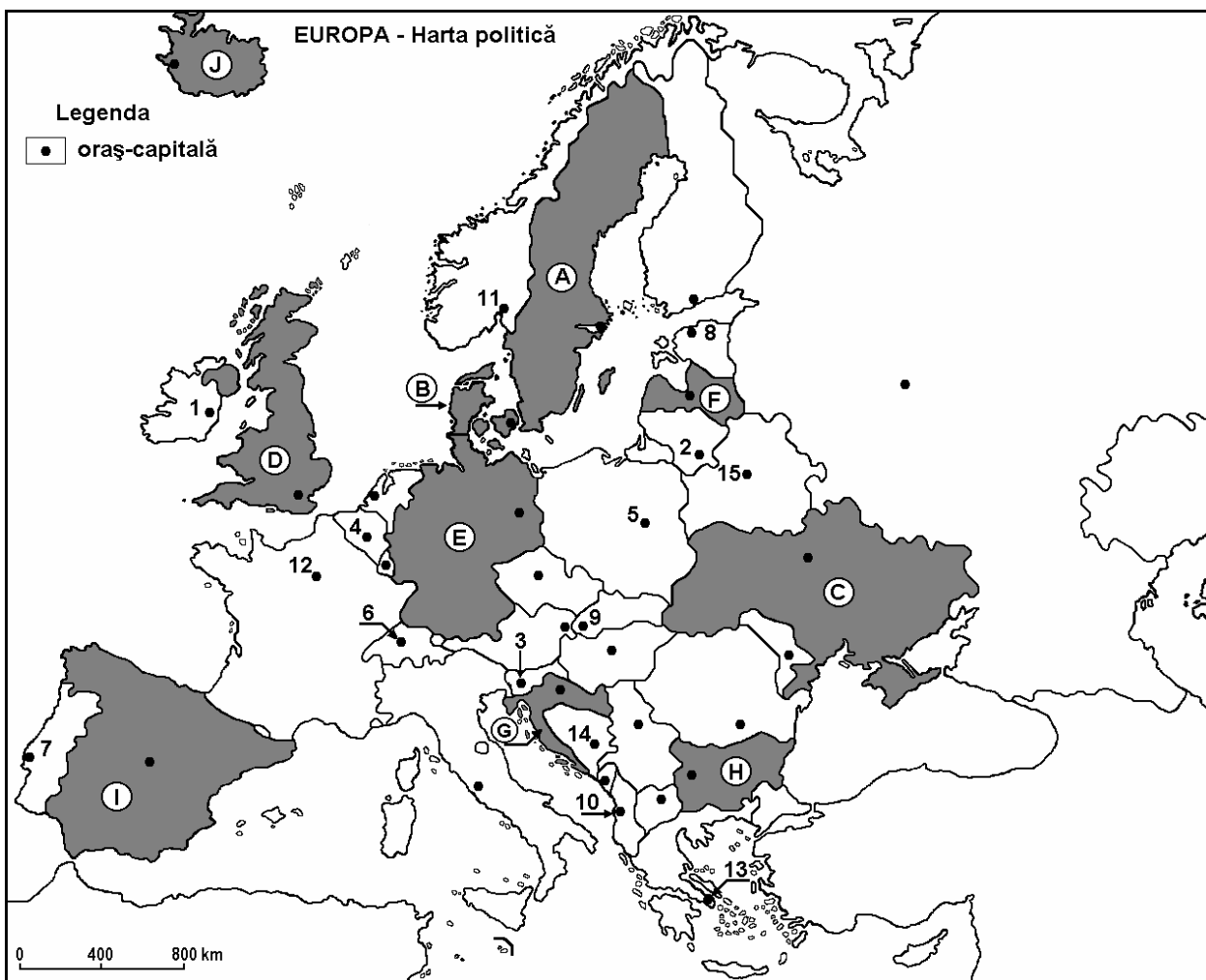
4 puncte

Examenul de bacalaureat 2008
Proba D, E, F
Proba scrisă la Geografie
Europa – România – Uniunea Europeană

- Toate subiectele sunt obligatorii. Se acordă 10 puncte din oficiu.
- Timpul efectiv de lucru este de 3 ore.

SUBIECTUL I

(30 puncte)



Harta de mai sus se referă la subiectul I A – D. Pe hartă sunt marcate state cu litere și oraș-capitală cu numere.

A. Precizați:

1. numele statelor marcate, pe hartă, cu literele **B** și **F**;
2. numele orașelor-capitală marcate, pe hartă, cu numerele **3** și **8**.

4 puncte

B. Scrieți, pe foaia de examen, răspunsurile corecte care completează propozițiile de mai jos:

1. Vulcanul Hekla este situat pe teritoriul statului marcat, pe hartă, cu litera ...
2. Capitala statului marcat, pe hartă, cu litera **G** se numește...
3. Fluviul Sena străbate orașul capitală marcat, pe hartă, cu numărul ...

6 puncte

C. Scrieți, pe foaia de examen, litera corespunzătoare răspunsului corect pentru fiecare dintre afirmațiile de mai jos:

1. Aglomerația urbană Rhin – Ruhr este situată pe teritoriul statului marcat, pe hartă, cu litera:

a. B	b. E	c. G	d. H	2 puncte
------	------	------	------	-----------------
2. Munții Stara Planina (Balcani) sunt situați pe teritoriul statului, marcat, pe hartă, cu litera:

a. B	b. C	c. D	d. H	2 puncte
------	------	------	------	-----------------
3. Statul marcat, pe hartă, cu litera **A** are capitala în orașul:

a. Atena	b. București	c. Londra	d. Stockholm	2 puncte
----------	--------------	-----------	--------------	-----------------
4. Kiev este capitala statului marcat, pe hartă, cu litera:

a. A	b. B	c. C	d. J	2 puncte
------	------	------	------	-----------------
5. Vegetație mediteraneană este specifică statului marcat, pe hartă, cu litera:

a. A	b. D	c. F	d. I	2 puncte
------	------	------	------	-----------------

D. Precizați trei deosebiri între **clima** statului marcat, pe hartă, cu litera **A** și **clima** statului marcat, pe hartă, cu litera **D**.

Nota 1: Deosebirile se pot referi la oricare dintre următoarele elemente de **climă**: temperaturi medii anuale, precipitații medii anuale, vânturi, tip de climă, amplitudine termică.

Nota 2: Punctajul complet va fi acordat numai dacă cele trei deosebiri vor fi prezentate comparativ și nu separat.

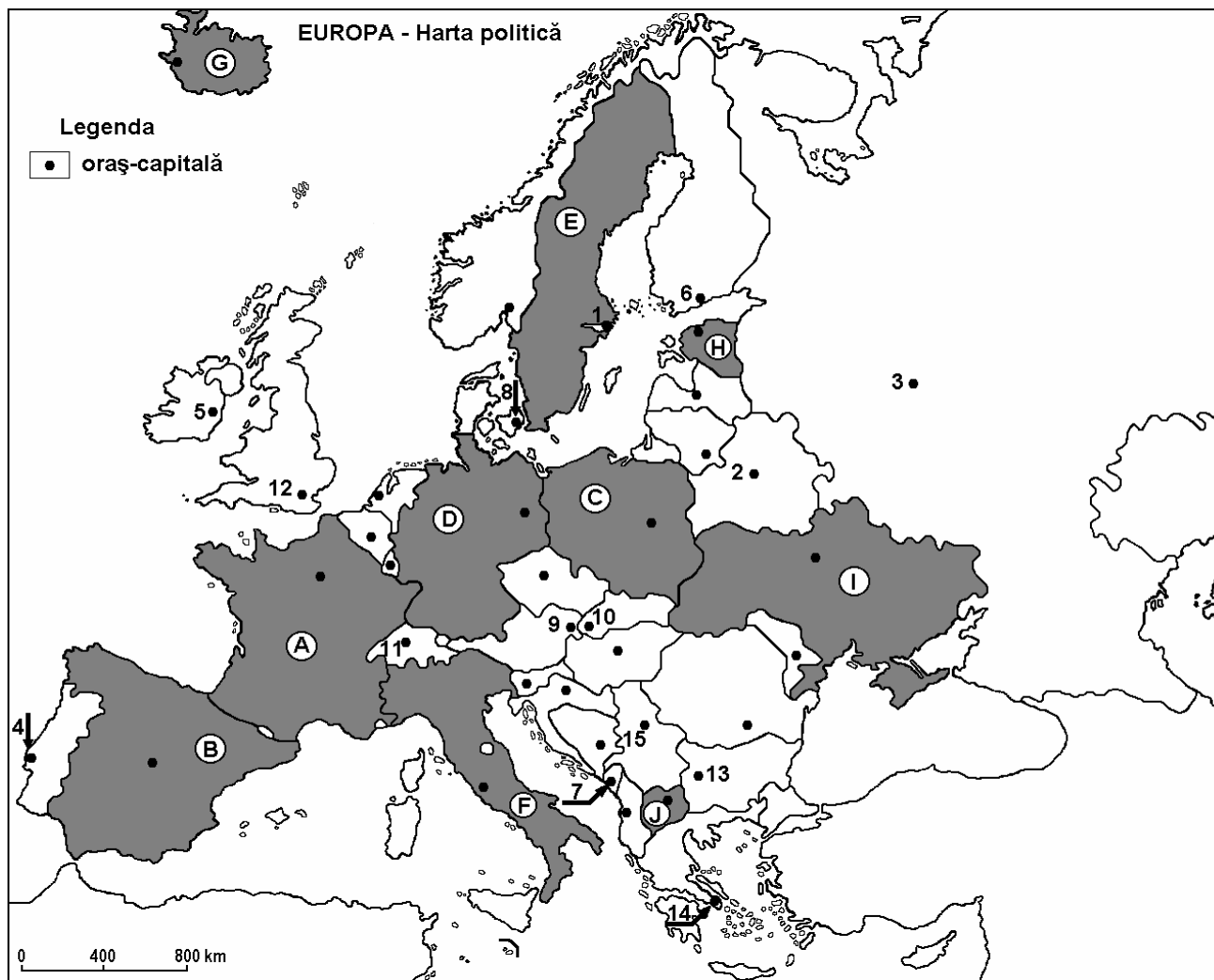
6 puncte

E. Prezentați două cauze care determină distribuția spațială variată a valorilor densității populației în Europa.

4 puncte

Examenul de bacalaureat 2008
Proba D, E, F
Proba scrisă la Geografie
Europa – România – Uniunea Europeană

- Toate subiectele sunt obligatorii. Se acordă 10 puncte din oficiu.
- Timpul efectiv de lucru este de 3 ore.

SUBIECTUL I**(30 puncte)**

Harta de mai sus se referă la subiectul I A – E. Pe hartă sunt marcate state cu litere și orașe-capitală cu numere.

A. Precizați:

1. numele statelor marcate, pe hartă, cu numerele D și J;
2. numele orașelor-capitală marcate, pe hartă, cu numerele 2 și 6.

4 puncte

B. Scrieți, pe foaia de examen, răspunsurile corecte care completează propozițiile de mai jos:

1. Capitala statului marcat pe hartă, cu litera F, este traversată de râul ...
2. Vulcanul Hekla este localizat în statul marcat, pe hartă, cu litera ...
3. Statul a cărui capitală este marcată, pe hartă, cu numărul 14, se numește ...

6 puncte

C. Scrieți, pe foaia de examen, litera corespunzătoare răspunsului corect pentru fiecare dintre afirmațiile de mai jos:

1. Tallin este capitala statului marcat, pe hartă, cu litera:

a. E b. H c. I d. J **2 puncte**

2. Râul Ebro (Ebru) își are izvorul pe teritoriul statului, marcat, pe hartă, cu litera:

a. A b. B c. D d. F **2 puncte**

3. Vegetație de stepă și silvostepă se găsește pe teritoriul statului marcat, pe hartă, cu litera:

a. F b. H c. I d. J **2 puncte**

4. Munții Vosgi se întind pe teritoriul statului marcat, pe hartă, cu litera:

a. A b. B c. C d. D **2 puncte**

5. Statul care se remarcă prin producția de cărbuni în Europa este cel marcat, pe hartă, cu litera:

a. A b. B c. F d. I **2 puncte**

D. Precizați trei asemănări între **clima** statului marcat, pe hartă, cu litera **B** și **clima** statului marcat, pe hartă, cu litera **F**.

Nota 1: Asemănările se pot referi la oricare dintre următoarele elemente de climă: temperaturi medii anuale, precipitații medii anuale, vânturi, tipuri de climă, factori ce influențează clima, amplitudine termică.

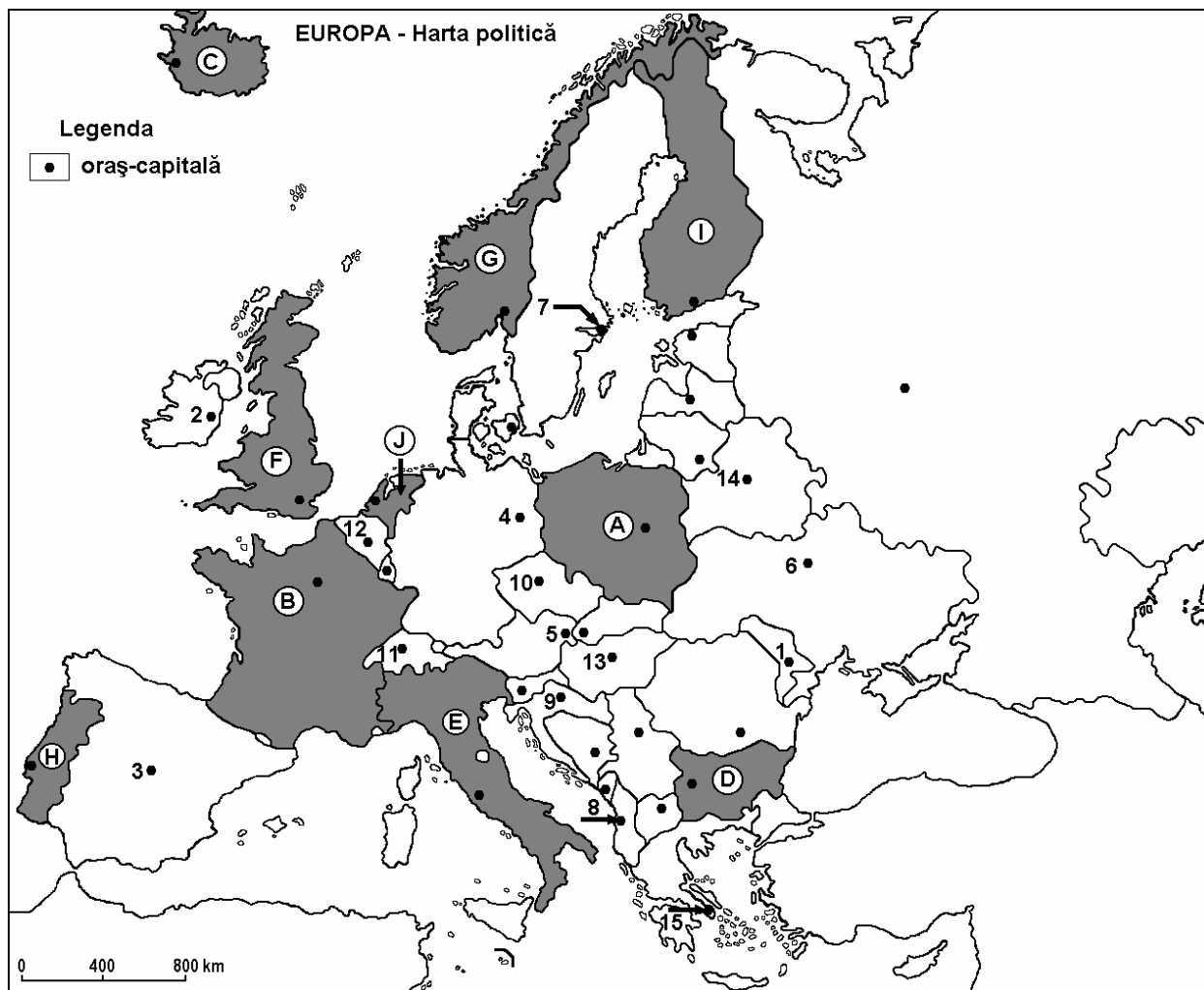
Nota 2: Punctajul complet va fi acordat numai dacă cele trei asemănări vor fi prezentate comparativ și nu separat. **6 puncte**

E. Precizați două argumente care să demonstreze faptul că partea de nord a statului marcat, pe hartă, cu litera **F**, este mai dezvoltată decât cea sudică, cunoscută drept *Mezzogiorno*.

4 puncte

Examenul de bacalaureat 2008
Proba D, E, F
Proba scrisă la Geografie
Europa – România – Uniunea Europeană

- Toate subiectele sunt obligatorii. Se acordă 10 puncte din oficiu.
- Timpul efectiv de lucru este de 3 ore.

SUBIECTUL I**(30 puncte)**

Harta de mai sus se referă la subiectul I A-D. Pe hartă sunt marcate state cu litere și oraș-capitală cu numere.

A. Precizați:

1. numele statelor marcate, pe hartă, cu literele **A** și **J**;
2. numele orașelor-capitală marcate, pe hartă, cu numerele **5** și **9**.

4 puncte**B. Scrieți, pe foaia de examen, răspunsurile corecte care completează propozițiile de mai jos:**

1. Statul marcat, pe hartă, cu litera **G** are ieșire, în nord, la Oceanul ...
2. Capitala statului marcat, pe hartă, cu litera **I** se numește...
3. Statul marcat, pe hartă, cu litera **H** ocupă partea vestică a Peninsulei numite...

6 puncte**C. Scrieți, pe foaia de examen, litera corespunzătoare răspunsului corect pentru fiecare dintre afirmațiile de mai jos:**

1. Munții Balcani (Stara Planina) se desfășoară pe teritoriul statului marcat, pe hartă, cu litera:

a. A**b. C****c. D****d. G****2 puncte**

2. Orașul marcat, pe hartă, cu numărul **9** este capitala statului:
a. Albania **b.** Croația **c.** Macedonia **d.** Muntenegru **2 puncte**
3. Fluviul Sena străbate teritoriul statului marcat, pe hartă, cu litera:
a. B **b.** E **c.** F **d.** J **2 puncte**
4. Cea mai mică densitate a populației dintre statele marcate, pe hartă, se înregistrează în statul marcat cu litera:
a. C **b.** E **c.** F **d.** H **2 puncte**
5. Important port maritim european, Marsilia, se află pe teritoriul statului marcat, pe hartă, cu litera:
a. A **b.** B **c.** D **d.** J **2 puncte**

D. Precizați trei asemănări între **clima** statului marcat, pe hartă, cu litera **B** și **clima** statului marcat cu litera **E**.

Nota 1: Asemănările se pot referi la oricare dintre următoarele elemente de climă: temperaturi medii anuale, precipitații medii anuale, vânturi, tipul de climă, etaj climatic, factori ce influențează clima, amplitudine termică.

Nota 2: Punctajul complet va fi acordat numai dacă cele trei asemănări vor fi prezentate comparativ și nu separat. **6 puncte**

E. Precizați două argumente care să susțină afirmația: „Europa este un continent cu activitate turistică dezvoltată”.

4 puncte

3. Statul marcat, pe hartă, cu litera **A**, este traversat de râul numit:
a. Elba b. Guadalquivir c. Ron d. Sena **2 puncte**
4. Între statele marcate, pe hartă, cu literele **B** și **G** se găsește statul numit:
a. Andorra b. Cipru c. Malta d. Luxemburg **2 puncte**
5. Cele mai mici temperaturi medii anuale se înregistrează în capitala marcată, pe hartă, cu numărul:
a. 9 b. 10 c. 13 d. 14 **2 puncte**

D. Precizați trei asemănări între **clima** statului marcat, pe hartă, cu litera **C** și **clima** statului marcat, pe hartă, cu litera **H**.

Nota 1: Asemănările se pot referi la oricare dintre următoarele elemente de climă: temperaturi medii anuale, precipitații medii anuale, vânturi, tipul de climă, etaj climatic, factori ce influențează clima, amplitudine termică.

Nota 2: Punctajul complet va fi acordat numai dacă cele trei asemănări vor fi prezentate comparativ și nu separat. **6 puncte**

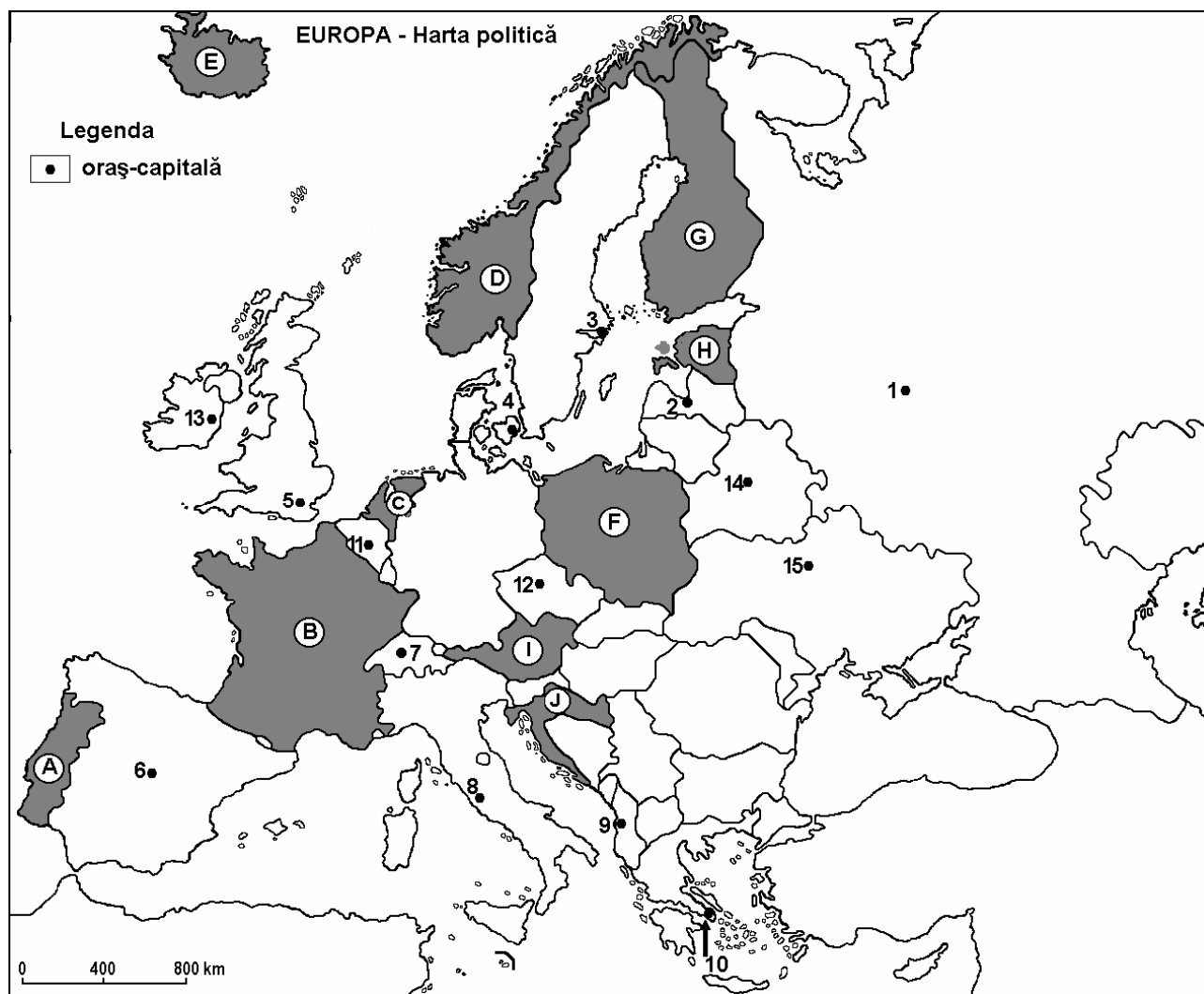
E. Precizați două argumente care să demonstreze faptul că statul marcat, pe hartă, cu litera **F** cunoaște o dezvoltare spectaculoasă, cu toate că până în anul 1981 era una dintre cele mai sărace țări din Europa. **4 puncte**

Examenul de bacalaureat 2008
Proba D, E, F
Proba scrisă la Geografie
Europa – România – Uniunea Europeană

- Toate subiectele sunt obligatorii. Se acordă 10 puncte din oficiu.
- Timpul efectiv de lucru este de 3 ore.

SUBIECTUL I

(30 puncte)



Harta de mai sus se referă la subiectul I A - C. Pe hartă sunt marcate state cu litere și orașe –capitală cu numere.

A. Precizați:

1. numele statelor marcate, pe hartă, cu literele **H** și **I**;
2. numele orașelor-capitală marcate, pe hartă, cu numerele **6** și **13**.

4 puncte

B. Scrieți, pe foaia de examen, răspunsurile corecte care completează propozițiile de mai jos:

1. Statul marcat, pe hartă, cu litera **A** este situat în Peninsula ...
2. Relieful de poldere este specific statului marcat, pe hartă, cu litera ...
3. Cel mai mare aeroport al orașului marcat, pe hartă, cu numărul **5** este numit ...

6 puncte

C. Scrieți, pe foaia de examen, litera corespunzătoare răspunsului corect pentru fiecare dintre afirmațiile de mai jos:

1. Munții Alpi ocupă jumătatea vestică a teritoriului statului marcat, pe hartă, cu litera:

a. B	b. F	c. I	d. J	2 puncte
------	------	------	------	-----------------
2. Orașul marcat, pe hartă, cu numărul **10** este localizat pe țărmul mării:

a. Egee	b. Nordului	c. Marmara	d. Tireniană	2 puncte
---------	-------------	------------	--------------	-----------------
3. Orașul marcat, pe hartă, cu numărul **9** este capitala statului numit:

a. Albania	b. Bulgaria	c. Croația	d. Serbia	2 puncte
------------	-------------	------------	-----------	-----------------
4. Orașul Roma este marcat, pe hartă, cu numărul:

a. 3	b. 4	c. 8	d. 12	2 puncte
------	------	------	-------	-----------------
5. Capitala statului Belarus este marcată, pe hartă, cu numărul:

a. 11	b. 12	c. 14	d. 15	2 puncte
-------	-------	-------	-------	-----------------

D. Precizați două asemănări și o deosebire între **relieful** Munților Carpați și **relieful** Munților Pirinei.

Nota 1: Asemănările și deosebirile se pot referi la oricare dintre următoarele aspecte ale **reliefului**: mod de formare, tipuri de roci, distribuția spațială a altitudinilor, gradul de fragmentare, orientarea culmilor și văilor principale, tipuri genetice de relief, alte aspecte specifice ale reliefului.

Nota 2: Punctajul complet va fi acordat numai dacă cele două asemănări și deosebirea vor fi prezentate comparativ și nu separat.

6 puncte

E. Precizați două cauze ale valorile negative (între - 4,7‰ și - 6,2‰) ale bilanțului natural al populației statelor est – europene.

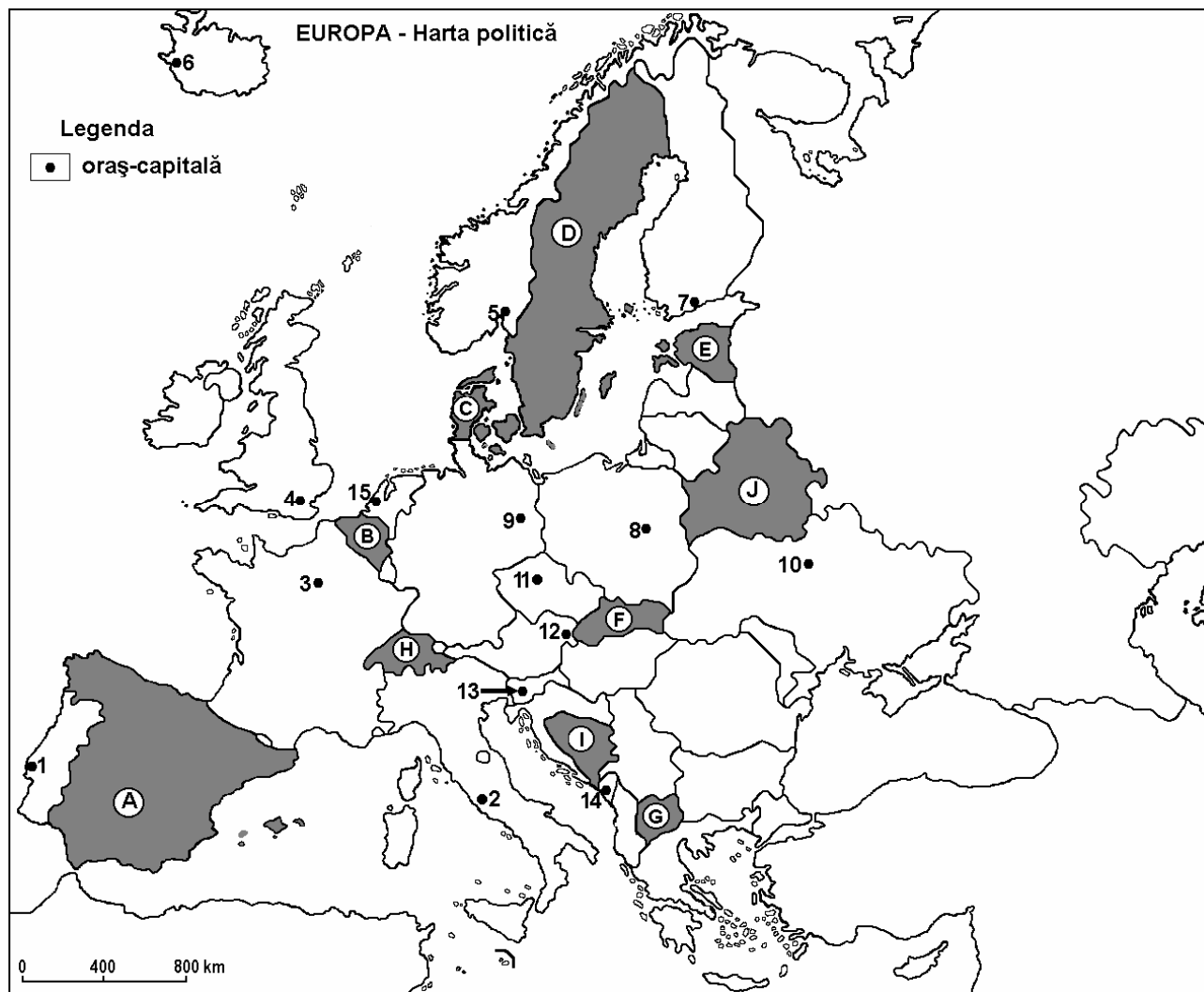
4 puncte

Examenul de bacalaureat 2008
Proba D, E, F
Proba scrisă la Geografie
Europa – România – Uniunea Europeană

- Toate subiectele sunt obligatorii. Se acordă 10 puncte din oficiu.
- Timpul efectiv de lucru este de 3 ore.

SUBIECTUL I

(30 puncte)



Harta de mai sus se referă la subiectul I A - C. Pe hartă sunt marcate state cu litere și orașe –capitală cu numere.

A. Precizați:

1. numele statelor marcate, pe hartă, cu literele **B** și **F**;
2. numele orașelor-capitală marcate, pe hartă, cu numerele **10** și **15**.

4 puncte

B. Scrieți, pe foaia de examen, răspunsurile corecte care completează propozițiile de mai jos:

1. Orașul marcat pe hartă cu numărul **8** se numește ...
2. Fluviul care traversează orașul marcat, pe hartă, cu numărul **3** se numește ...
3. Statul marcat, pe hartă, cu litera **E** are ieșire directă la Marea ...

6 puncte

C. Scrieți, pe foaia de examen, litera corespunzătoare răspunsului corect pentru fiecare dintre afirmațiile de mai jos:

1. Relief predominant de câmpie au țările marcate, pe hartă, cu literele:

a. B și D	b. C și E	c. C și G	d. E și F	2 puncte
-----------	-----------	-----------	-----------	-----------------
2. Capitala Sloveniei este orașul marcat, pe hartă, cu numărul:

a. 9	b. 11	c. 12	d. 13	2 puncte
------	-------	-------	-------	-----------------
3. Statul marcat, pe hartă, cu litera **I** se numește:

a. Bosnia și Herțegovina	b. Croația	c. Muntenegru	d. Serbia	2 puncte
--------------------------	------------	---------------	-----------	-----------------
4. Capitala statului marcat, pe hartă, cu litera **E** se numește:

a. Helsinki	b. Riga	c. Tallin	d. Vilnius	2 puncte
-------------	---------	-----------	------------	-----------------
5. Este localizat în fiordul cu același nume orașul marcat, pe hartă, cu numărul:

a. 4	b. 5	c. 6	d. 7	2 puncte
------	------	------	------	-----------------

D. Precizați trei deosebiri între **climatul** temperat-oceanic și **climatul** mediteranean din Europa.

Nota 1: Deosebirile se pot referi la oricare dintre următoarele elemente de **climă**: temperaturi medii anuale, precipitații medii anuale, vânturi, amplitudine termică.

Nota 2: Punctajul complet va fi acordat numai dacă cele trei deosebiri vor fi prezentate comparativ și nu separat.

6 puncte

E. Prezentați două argumente care să susțină afirmația: „Europa se confruntă cu fenomenul de îmbătrânire demografică”.

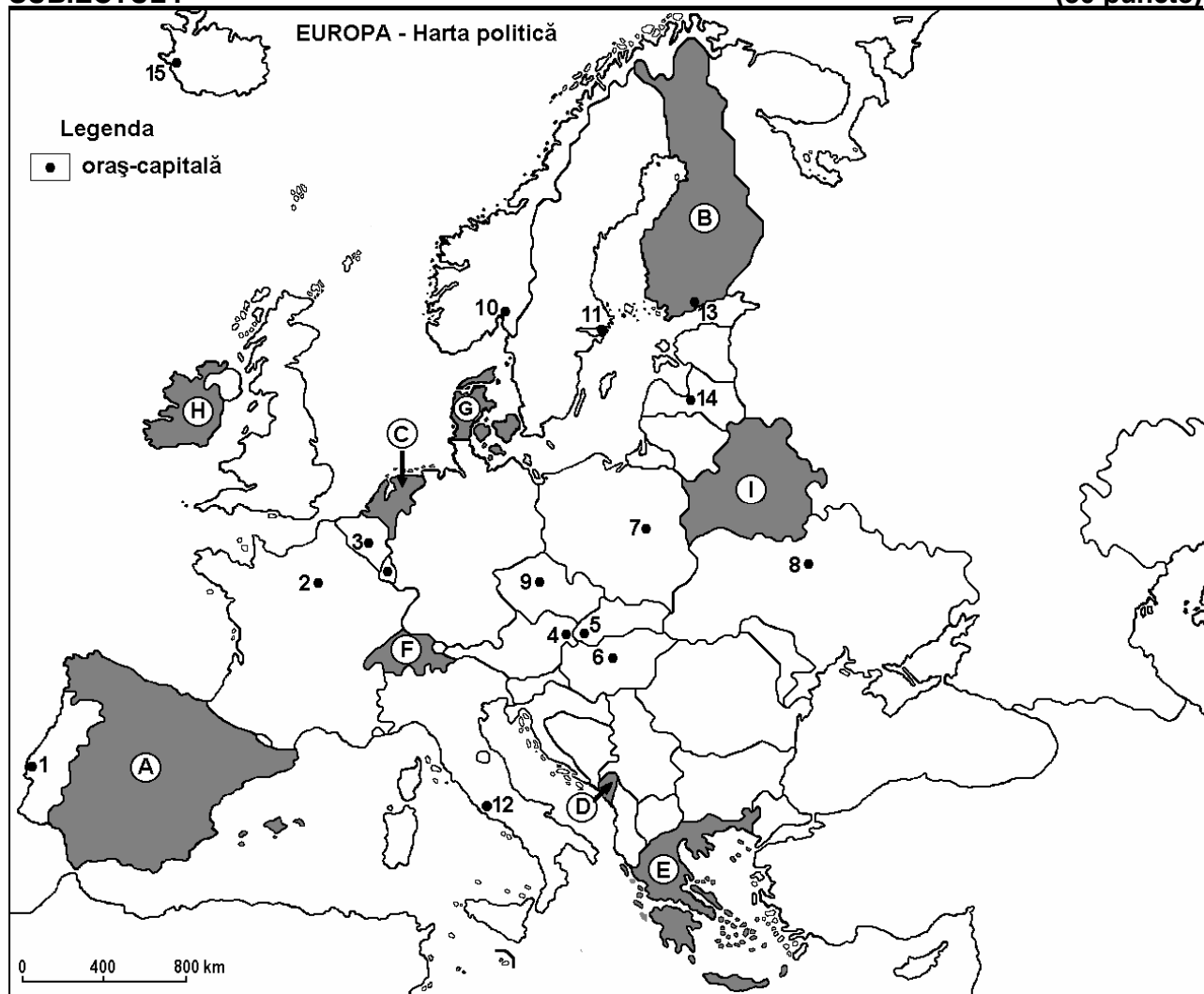
4 puncte

Examenul de bacalaureat 2008
Proba D, E, F
Proba scrisă la Geografie
Europa – România – Uniunea Europeană

- Toate subiectele sunt obligatorii. Se acordă 10 puncte din oficiu.
- Timpul efectiv de lucru este de 3 ore.

SUBIECTUL I

(30 puncte)



Harta de mai sus se referă la subiectul I, punctele A - E. Pe hartă sunt marcate state cu litere și orașe –capitală cu numere.

A. Precizați:

1. numele statelor marcate, pe hartă, cu literele **D** și **I**;
2. numele orașelor-capitală marcate, pe hartă, cu numerele **8** și **15**.

4 puncte

B. Scrieți, pe foaia de examen, răspunsurile corecte care completează propozițiile de mai jos:

1. Orașul Praga este marcat, pe hartă, cu numărul ...
2. Statul marcat, pe hartă, cu litera **B** se numește ...
3. Climatul specific statului marcat, pe hartă, cu litera **H** este cel ...

6 puncte

C. Scrieți, pe foaia de examen, litera corespunzătoare răspunsului corect pentru fiecare dintre afirmațiile de mai jos:

1. Lacul la care este riveran orașul marcat, pe hartă, cu numărul **11** este de origine:
a. artificială **b.** glaciară **c.** tectonică **d.** vulcanică **2 puncte**
2. Fluviile care traversează statul marcat, pe hartă, cu litera **E** au un regim de scurgere:
a. atlantic **b.** central - european **c.** complex **d.** mediteranean **2 puncte**
3. Orașele marcate pe hartă cu numerele **4**, **5** și **6** au ca trăsătură comună:
a. așezarea în aceeași unitate de relief **b.** climatul oceanic
c. numărul de locuitori **d.** sunt străbătute de Dunăre **2 puncte**
4. Cel mai recent stat apărut pe harta Europei este cel marcat, pe hartă, cu litera:
a. A **b.** D **c.** F **d.** G **2 puncte**
5. Capitala Uniunii Europene se află în orașul marcat, pe hartă, cu numărul:
a. 2 **b.** 3 **c.** 4 **d.** 12 **2 puncte**

D. Precizați trei deosebiri între **mediul geografic** caracteristic statului marcat, pe hartă, cu litera **C** și cel al statului marcat, pe hartă, cu litera **E**.

Nota 1: Deosebirile se pot referi la oricare dintre următoarele elemente: așezare geografică, climă (temperaturi medii anuale, precipitații medii anuale, vânturi, etaj climatic), caracteristicile vegetației, caracteristicile faunei, caracteristicile solurilor sau caracteristicile impactului antropic.

Nota 2: Punctajul complet va fi acordat numai dacă deosebirile vor fi prezentate comparativ și nu separat. **6 puncte**

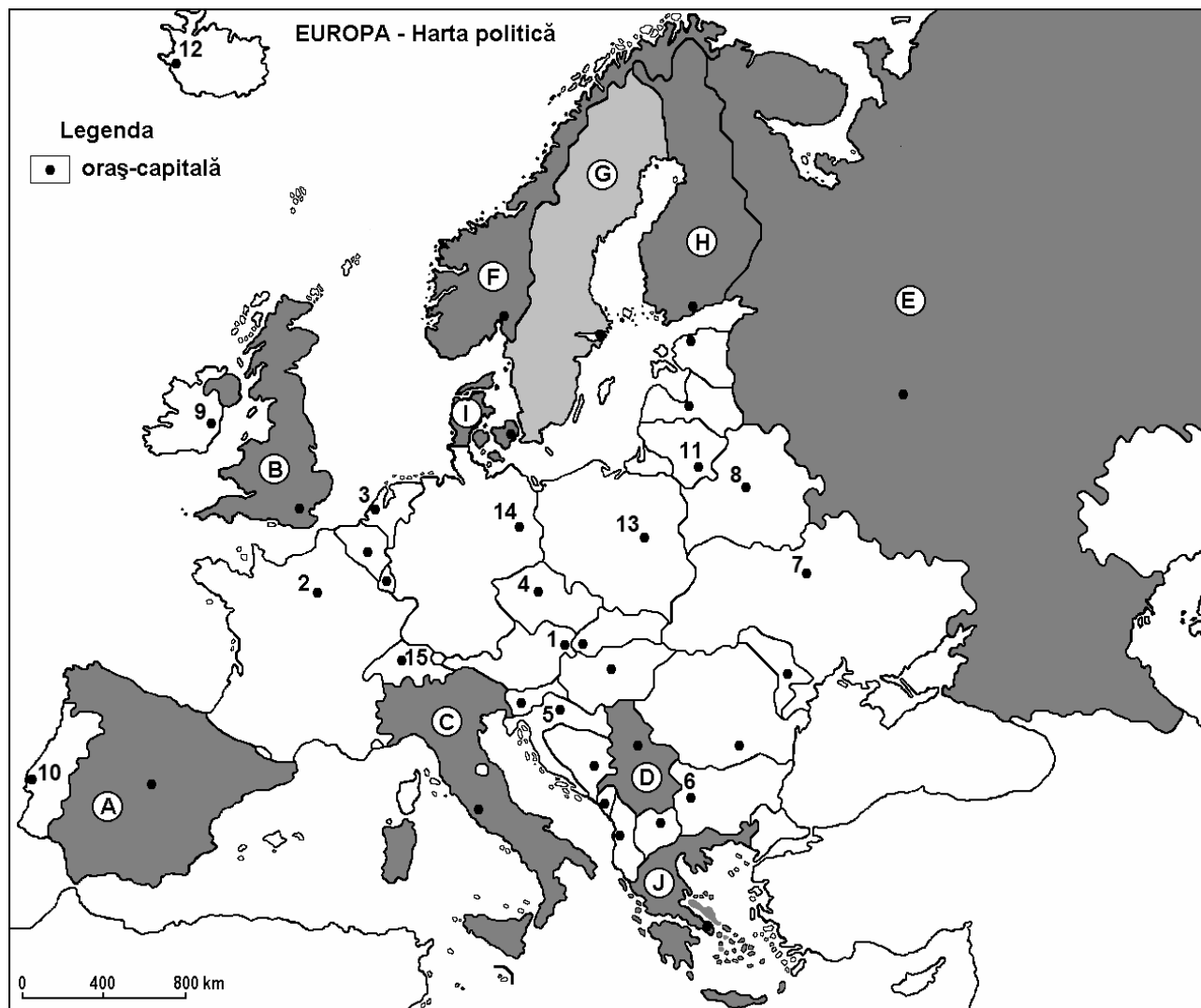
E. Oferiți două argumente în sprijinul afirmației: „Vegetația caracteristică statului marcat, pe hartă, cu litera **G** este cea a pădurilor foioase”. **4 puncte**

Examenul de bacalaureat 2008
Proba D, E, F
Proba scrisă la Geografie
Europa – România – Uniunea Europeană

- Toate subiectele sunt obligatorii. Se acordă 10 puncte din oficiu.
- Timpul efectiv de lucru este de 3 ore.

SUBIECTUL I

(30 puncte)



Harta de mai sus se referă la subiectul I A – D. Pe hartă sunt marcate state cu litere și orașe – capitală cu numere.

A. Precizați:

1. numele statelor marcate, pe hartă, cu literele **B** și **H**;
2. numele orașelor-capitală marcate, pe hartă, cu numerele **2** și **5**.

4 puncte

B. Scrieți, pe foaia de examen, răspunsurile corecte care completează propozițiile de mai jos:

1. Orașul marcat, pe hartă, cu numărul **11** este capitala statului ...
2. Statul marcat, pe hartă, cu litera **I** este situat în Peninsula ...
3. Orașul marcat, pe hartă, cu numărul **13** se numește ...

6 puncte

C. Scrieți, pe foaia de examen, litera corespunzătoare răspunsului corect pentru fiecare dintre afirmațiile de mai jos:

1. Orașul marcat, pe hartă, cu numărul **7** este capitala statului:

a. Danemarca	b. Norvegia	c. Suedia	d. Ucraina	2 puncte
--------------	-------------	-----------	------------	-----------------
2. Cele mai vechi suprafețe de uscat, formate prin cutare, se găsesc pe teritoriul statului notat, pe hartă, cu litera:

a. C	b. D	c. G	d. J	2 puncte
------	------	------	------	-----------------
3. Vulcanismul activ este prezent în statul marcat, pe hartă, cu litera:

a. C	b. D	c. H	d. J	2 puncte
------	------	------	------	-----------------
4. Munții Pirinei se află în nordul statului marcat, pe hartă, cu litera:

a. A	b. B	c. C	d. D	2 puncte
------	------	------	------	-----------------
5. Climatul subpolar se întâlnește în statul marcat, pe hartă, cu litera:

a. A	b. D	c. H	d. I	2 puncte
------	------	------	------	-----------------

D. Precizați trei deosebiri între **relieful** statului marcat, pe hartă, cu litera **H** și **relieful** statului marcat, pe hartă, cu litera **J**.

Nota 1: Deosebirile se pot referi la oricare dintre următoarele aspecte ale **reliefului**: trepte și forme de relief, mod de formare, tipuri de roci, distribuția spațială a altitudinilor, gradul de fragmentare, orientarea culmilor și văilor principale, tipuri genetice de relief, alte aspecte specifice ale reliefului.

Nota 2: Punctajul complet va fi acordat numai dacă cele trei deosebiri vor fi prezentate comparativ și nu separat.

6 puncte

E. Explicați formarea fiordurilor în Peninsula Scandinavă.

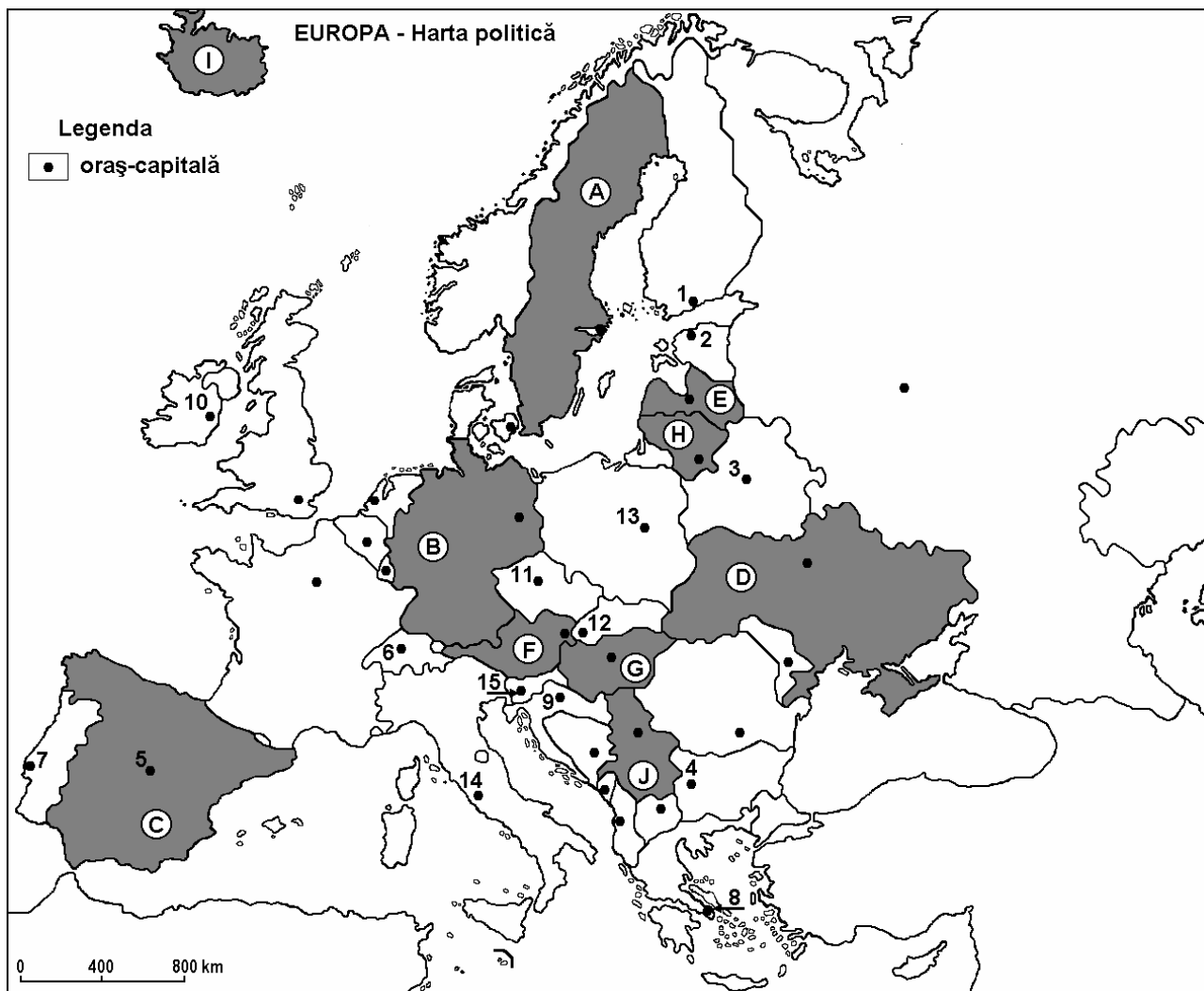
4 puncte

Examenul de bacalaureat 2008
Proba D, E, F
Proba scrisă la Geografie
Europa – România – Uniunea Europeană

- Toate subiectele sunt obligatorii. Se acordă 10 puncte din oficiu.
- Timpul efectiv de lucru este de 3 ore.

SUBIECTUL I

(30 puncte)



Harta de mai sus se referă la subiectul I A – D. Pe hartă sunt marcate state cu litere și orașe –capitală cu numere.

A. Precizați:

1. numele statelor marcate, pe hartă, cu literele **J** și **D**;
2. numele orașelor-capitală marcate, pe hartă, cu numerele **2** și **3**.

4 puncte

B. Scrieți, pe foaia de examen, răspunsurile corecte care completează propozițiile de mai jos:

1. Megalopolisul Rhur – Rin se află pe teritoriul statului marcat, pe hartă, cu litera ...
2. Statul marcat, pe hartă, cu litera **F** se numește ...
3. S-au format în timpul orogenezei caledonice munții de pe teritoriul statului marcat, pe hartă, cu litera ...

6 puncte

C. Scrieți, pe foaia de examen, litera corespunzătoare răspunsului corect pentru fiecare dintre afirmațiile de mai jos:

1. Climatul mediteranean este specific statului marcat, pe hartă, cu litera:

a. B	b. C	c. F	d. H	2 puncte
------	------	------	------	-----------------
2. Capitala statului marcat, pe hartă, cu litera **H** se numește:

a. Riga	b. Stockholm	c. Tallin	d. Vilnius	2 puncte
---------	--------------	-----------	------------	-----------------
3. Orașul marcat, pe hartă, cu numărul **14** este străbătut de râul:

a. Don	b. Dunăre	c. Tibru	d. Volga	2 puncte
--------	-----------	----------	----------	-----------------
4. În statul marcat, pe hartă, cu litera **J** majoritatea populației este de religie:

a. catolică	b. greco-catolică	c. ortodoxă	d. reformată	2 puncte
-------------	-------------------	-------------	--------------	-----------------
5. Vistula trece prin orașul marcat, pe hartă, cu numărul:

a. 11	b. 13	c. 14	d. 15	2 puncte
-------	-------	-------	-------	-----------------

D. Precizați trei deosebiri între **relieful** statului marcat, pe hartă, cu litera **G** și **relieful** statului marcat, pe hartă, cu litera **D**.

Nota 1: Deosebirile se pot referi la oricare dintre următoarele aspecte ale **reliefului**: trepte și forme de relief, mod de formare, tipuri de roci, distribuția spațială a altitudinilor, gradul de fragmentare, orientarea culmilor și văilor principale, tipuri genetice de relief, alte aspecte specifice ale reliefului.

Nota 2: Punctajul complet va fi acordat numai dacă cele trei deosebiri vor fi prezentate comparativ și nu separat.

6 puncte

E. În ultimul secol s-a produs o puternică îmbătrânire a populației în statele din vestul Europei. Precizați o cauză și două exemple de state unde este caracteristic acest fenomen.

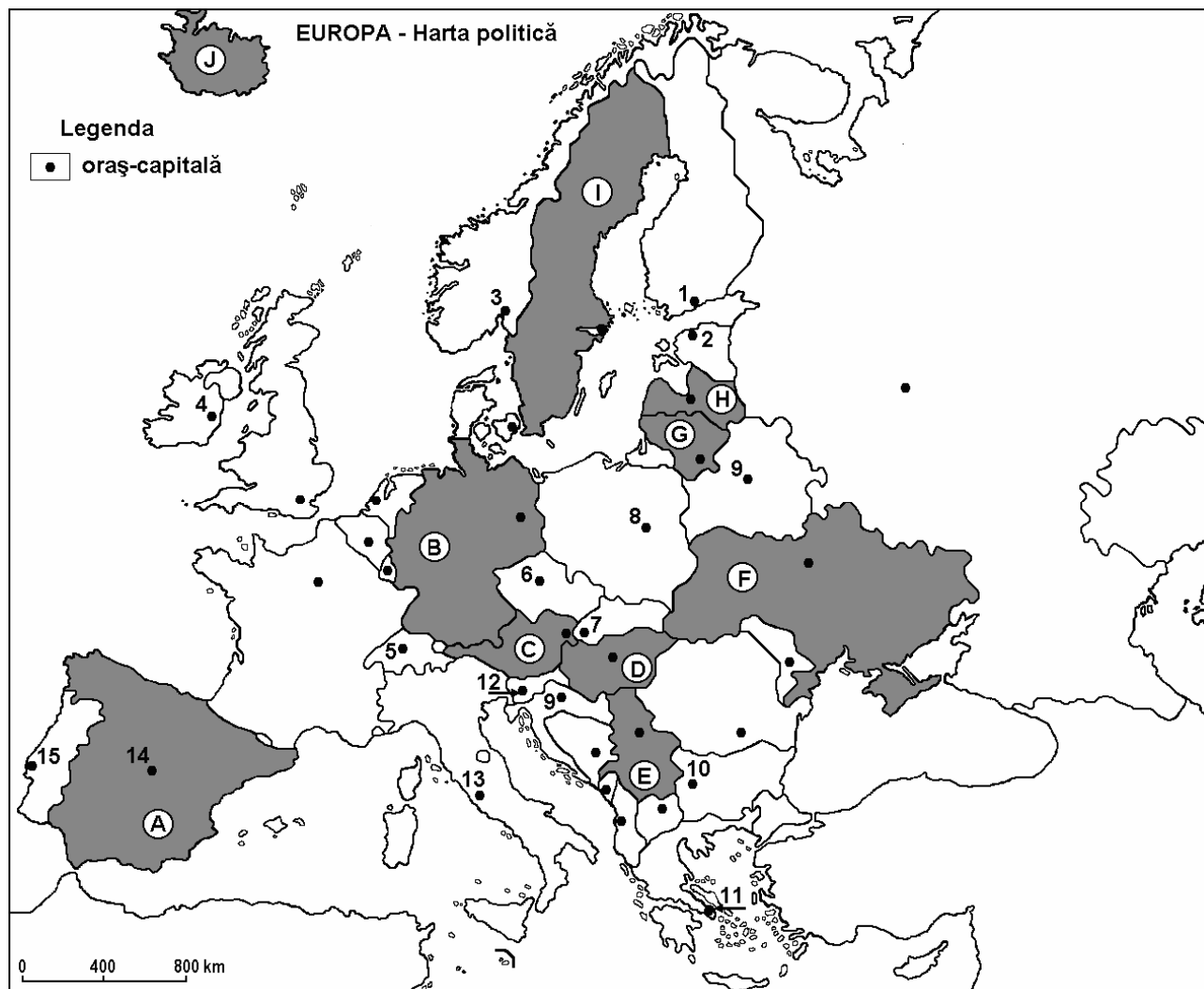
4 puncte

Examenul de bacalaureat 2008
Proba D, E, F
Proba scrisă la Geografie
Europa – România – Uniunea Europeană

- Toate subiectele sunt obligatorii. Se acordă 10 puncte din oficiu.
- Timpul efectiv de lucru este de 3 ore.

SUBIECTUL I

(30 puncte)



Harta de mai sus se referă la subiectul I A – D Pe hartă sunt marcate state cu litere și oraș-capitală cu numere.

A. Precizați:

1. numele orașelor - capitală marcate, pe hartă, cu numerele 1 și 14;
2. numele statelor marcate, pe hartă, cu literele I și B.

4 puncte

B. Scrieți, pe foaia de examen, răspunsurile corecte care completează propozițiile de mai jos:

1. Statul marcat, pe hartă, cu litera **A** se numește
2. Orașul marcat, pe hartă, cu numărul 7 se numește
3. Statul marcat, pe hartă, cu litera **C** se numește

6 puncte

C. Scrieți, pe foaia de examen, litera corespunzătoare răspunsului corect pentru fiecare dintre afirmațiile de mai jos:

1. Relief predominant de câmpie este specific statului marcat, pe hartă, cu litera:
a. A b. C c. E d. G **2 puncte**
2. Climatul temperat continental cu nuanțe excesive este caracteristic statului marcat, pe hartă, cu litera:
a. A b. B c. F d. I **2 puncte**
3. Fluviul Dunărea își are izvoarele într-o unitate montană din statul marcat, pe hartă, cu litera:
a. A b. B c. C d. D **2 puncte**
4. Pădurile de conifere ocupă suprafețe întinse în statul marcat pe hartă, cu litera:
a. E b. F c. G d. I **2 puncte**
5. Energia geotermală este intens valorificată în satul marcat, pe hartă, cu litera:
a. B b. H c. I d. J **2 puncte**

D. Precizați două deosebiri și o asemănare între **clima** statului marcat, pe hartă, cu litera **D** și **clima** statului marcat, pe hartă, cu litera **E**.

Nota 1: Deosebirile și asemănarea se pot referi la oricare dintre următoarele elemente de **climă**: tip de climă, temperaturi medii anuale, precipitații medii anuale, vânturi, etaj climatic.

Nota 2: Punctajul complet va fi acordat numai dacă asemănarea și deosebirile vor fi prezentate comparativ și nu separat.

6 puncte

E. Prezentați două cauze care explică lipsa fluviilor lungi în Peninsula Scandinavică.

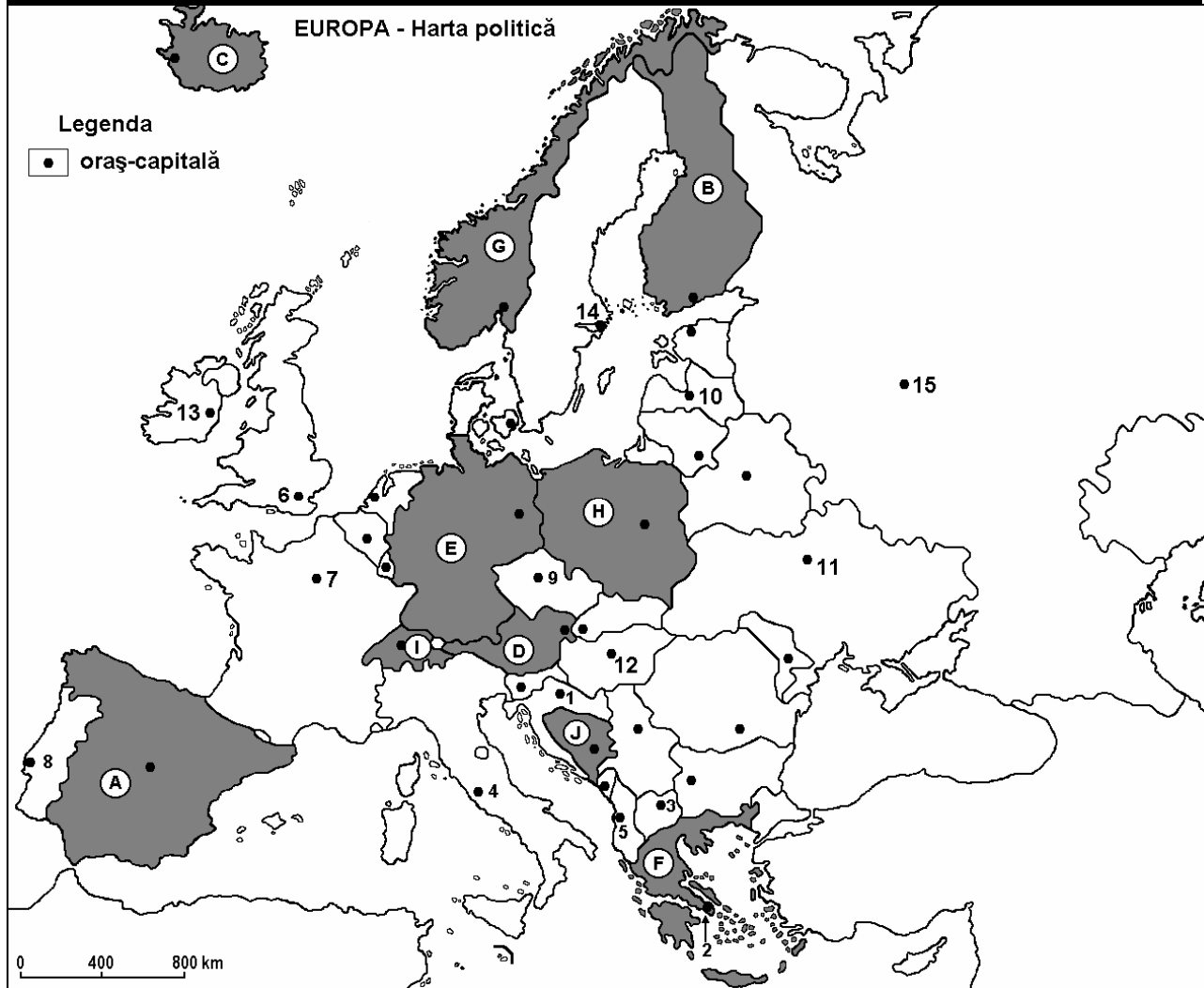
4 puncte

Examenul de bacalaureat 2008
Proba D, E, F
Proba scrisă la GEOGRAFIE
Europa–România–Uniunea Europeană

- Toate subiectele sunt obligatorii. Se acordă 10 puncte din oficiu.
- Timpul efectiv de lucru este de 3 ore.

SUBIECTUL I

(30 puncte)



Harta de mai sus se referă la subiectul I A-C. Pe hartă sunt marcate state cu litere și orașe – capitală cu numere.

A. Precizați:

1. numele statelor marcate, pe hartă, cu literele **B** și **F**.
2. numele orașelor-capitală marcate, pe hartă, cu numerele **4** și **9**.

4 puncte

B. Scrieți, pe foaia de examen, răspunsurile corecte care completează propozițiile de mai jos:

1. Orașul-capitală marcat, pe hartă, cu numărul **8** se numește ...
2. Statul marcat, pe hartă, cu litera **C**, se numește ...
3. Capitala statului marcat, pe hartă, cu litera **D** este străbătută de fluviul ...

6 puncte

C. Scrieți, pe foaia de examen, litera corespunzătoare răspunsului corect pentru fiecare dintre afirmațiile de mai jos:

1. Orașul marcat, pe hartă, cu numărul **7** este o mare metropolă a Uniunii Europene și se numește:
a. Londra **b.** Madrid **c.** Paris **d.** Roma **2 puncte**
2. Statul marcat, pe hartă, cu litera **E** este cel mai urbanizat din Europa și se numește:
a. Franța **b.** Germania **c.** Italia **d.** Spania **2 puncte**
3. Statul marcat, pe hartă, cu litera **H** este străbătut de râul:
a. Driva de Vest **b.** Elba **c.** Rin **d.** Vistula **2 puncte**
4. Pe teritoriul statelor **D** și **I** se află Munții:
a. Alpi **b.** Apenini **c.** Balcani **d.** Carpați **2 puncte**
5. Cele mai vechi orașe europene din spațiul mediteraneean sunt marcate, pe hartă, cu cifrele:
a. 1 și 6 **b.** 2 și 4 **c.** 3 și 5 **d.** 5 și 8 **2 puncte**

D. Precizați două deosebiri și o asemănare între **relieful** Munților Caucaz și **relieful** Munților Scandinaviei.

Nota 1: Deosebirile și asemănarea se pot referi la oricare dintre următoarele aspecte ale **reliefului**: mod de formare, tipuri de roci pe care s-a format relieful, altitudini, fragmentare, tipuri genetice de relief.

Nota 2: Punctajul complet va fi acordat numai dacă cele două deosebiri și asemănarea vor fi prezentate comparativ și nu separat. **6 puncte**

E. Menționați două cauze care au determinat ponderi mai ridicate ale populației vârstnice în Rusia decât în Franța.

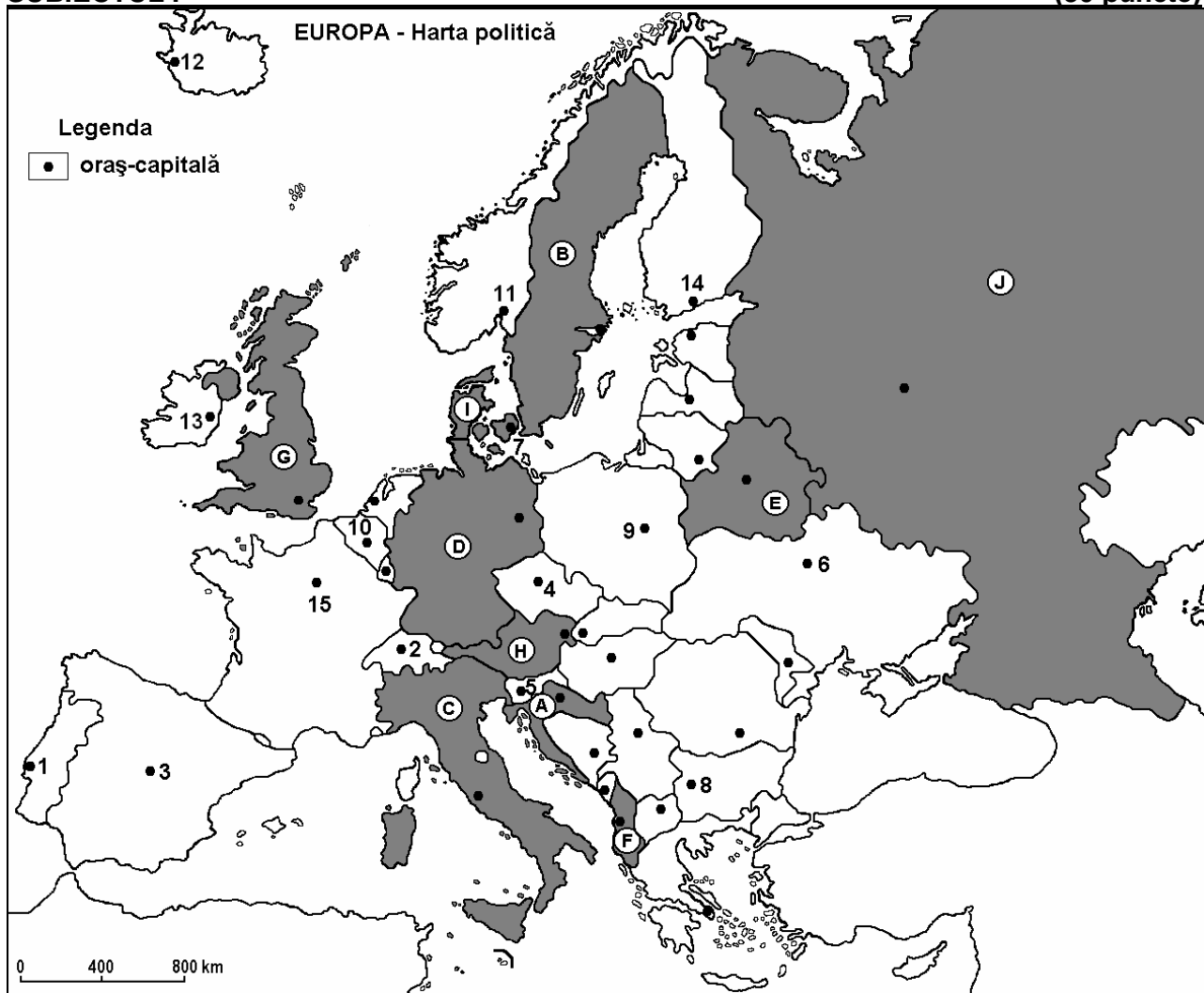
4 puncte

Examenul de bacalaureat 2008
Proba D, E, F
Proba scrisă la GEOGRAFIE
Europa–România–Uniunea Europeană

- Toate subiectele sunt obligatorii. Se acordă 10 puncte din oficiu.
- Timpul efectiv de lucru este de 3 ore.

SUBIECTUL I

(30 puncte)



Harta de mai sus se referă la subiectul I A-C. Pe hartă sunt marcate state cu litere și orașe - capitală cu numere.

A. Precizați:

1. numele statelor marcate, pe hartă, cu literele **B** și **H**;
2. numele orașelor-capitală marcate, pe hartă, cu numerele **10** și **3**.

4 puncte

B. Scrieți, pe foaia de examen, răspunsurile corecte care completează propozițiile de mai jos:

1. Statul marcat, pe hartă, cu litera **D** se numește
2. Forma de guvernământ a statului marcat, pe hartă, cu litera **I** este ...
3. Râul Tejo străbate orașul - capitală marcat, pe hartă, cu numărul **1** numit ...

6 puncte

C. Scrieți, pe foaia de examen, litera corespunzătoare răspunsului corect pentru fiecare dintre afirmațiile de mai jos:

1. Statul cu cea mai ridicată rată a natalității este marcat, pe hartă, cu litera:

a. B	b. C	c. F	d. G	2 puncte
------	------	------	------	-----------------
2. Orașul Berna este marcat, pe hartă, cu numărul:

a. 2	b. 4	c. 5	d. 6	2 puncte
------	------	------	------	-----------------
3. Statul cu cele mai lungi rețele de petroducte este marcat, pe hartă, cu litera **J** și se numește:

a. Belarus	b. Danemarca	c. Letonia	d. Rusia	2 puncte
------------	--------------	------------	----------	-----------------
4. Orașul Varșovia este marcat, pe hartă, cu numărul:

a. 7	b. 8	c. 9	d. 10	2 puncte
------	------	------	-------	-----------------
5. Reykjavik este cea mai nordică capitală Europeană fiind marcat, pe hartă, cu numărul:

a. 11	b. 12	c. 13	d. 14	2 puncte
-------	-------	-------	-------	-----------------

D. Precizați două asemănări și o deosebire între **relieful** Masivului Central Francez și **relieful** Munților Pădurea Neagră.

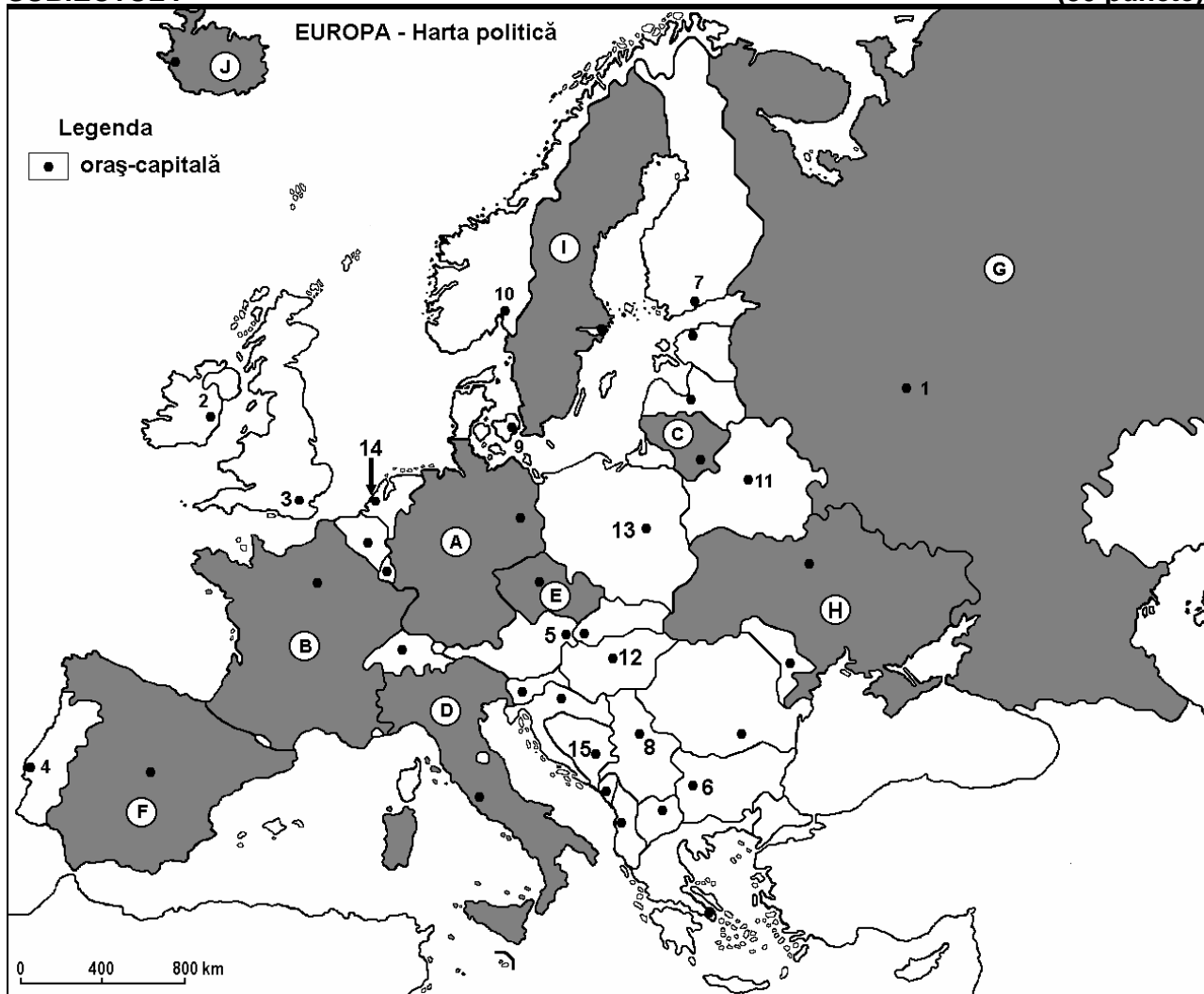
Nota 1: Asemănările și deosebirea se pot referi la oricare dintre următoarele aspecte ale **reliefului**: mod de formare, tipuri de roci pe care s-a format relieful, altitudini, fragmentare, tipuri genetice de relief.

Nota 2: Punctajul complet va fi acordat numai dacă cele două asemănări și deosebirea vor fi prezentate comparativ și nu separat. **6 puncte**

E. Prezentați două cauze care au stat la baza creșterii numărului populației Europei în cea de-a doua jumătate a secolului al XVIII-lea. **4 puncte**

Examenul de bacalaureat 2008
Proba D, E, F
Proba scrisă la GEOGRAFIE
Europa–România–Uniunea Europeană

- Toate subiectele sunt obligatorii. Se acordă 10 puncte din oficiu.
- Timpul efectiv de lucru este de 3 ore.

SUBIECTUL I**(30 puncte)**

Harta de mai sus se referă la subiectul I A-C. Pe hartă sunt marcate state cu litere și orașe capitală cu numere.

A. Precizați:

1. numele statelor marcate, pe hartă, cu literele **C** și **E**;
2. numele orașelor-capitală marcate, pe hartă, cu numerele **2** și **4**.

4 puncte**B. Scrieți, pe foaia de examen, răspunsurile corecte care completează propozițiile de mai jos:**

1. Munții Alpi au altitudinea cea mai mare pe teritoriul statului marcat, pe hartă, cu litera ...
2. Capitala statului Belarus este marcată, pe hartă, cu numărul ...
3. Statul marcat, pe hartă, cu litera **D** se numește ...

6 puncte**C. Scrieți, pe foaia de examen, litera corespunzătoare răspunsului corect pentru fiecare dintre afirmațiile de mai jos:**

1. La granița dintre statele **B** și **F** se află statul:

a. Andorra**b. Liechtstein****c. Monaco****d. San Marino****2 puncte**

-
2. Cel mai mare oraș-capitală ca număr de locuitori din Europa este marcat, pe hartă, cu numărul:
a. 1 b. 3 c. 5 d. 6 2 puncte
3. Orașul-capitală marcat, pe hartă, cu numărul **14** se numește:
a. Amsterdam b. Bruxelles c. Copenhaga d. Luxembourg 2 puncte
4. Lacul Ladoga se află pe teritoriul statului marcat, pe hartă, cu litera:
a. C b. G c. H d. J 2 puncte
5. Orașul Helsinki este marcat, pe hartă, cu numărul:
a. 7 b. 8 c. 9 d. 10 2 puncte

D. Precizați trei asemănări între **relieful** Câmpiei Europei de Est și **relieful** Câmpiei Nord-Europene.

Nota 1: Deosebirile se pot referi la oricare dintre următoarele aspecte ale **reliefului**: mod de formare, tipuri de roci pe care s-a format relieful, altitudini, fragmentare, tipuri genetice de relief.

Nota 2: Punctajul complet va fi acordat numai dacă cele trei asemănări vor fi prezentate comparativ și nu separat. **6 puncte**

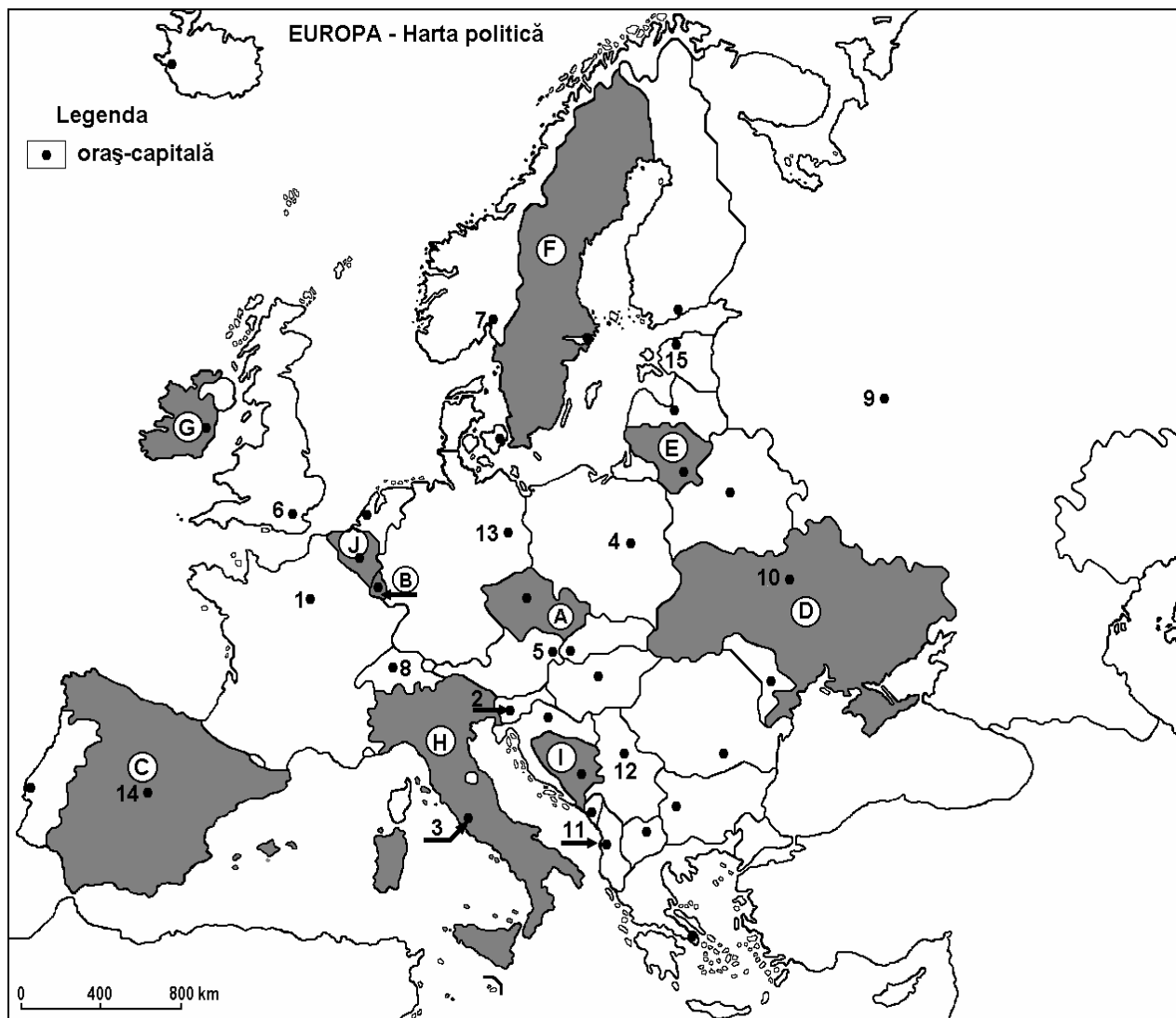
E. Prezentați două argumente pentru a justifica importanța geopolitică a Dunării din antichitate până în prezent. **4 puncte**

Examenul de bacalaureat 2008
Proba D, E, F
Proba scrisă la GEOGRAFIE
Europa–România–Uniunea Europeană

- Toate subiectele sunt obligatorii. Se acordă 10 puncte din oficiu.
- Timpul efectiv de lucru este de 3 ore.

SUBIECTUL I

(30 puncte)



Harta de mai sus se referă la subiectul I A – C. Pe hartă sunt marcate state cu litere și orașe – capitală cu numere.

A. Precizați:

1. numele statelor marcate, pe hartă, cu literele **E** și **G**;
2. numele orașelor - capitală marcate, pe hartă, cu numerele **4** și **10**.

4 puncte

B. Scrieți, pe foaia de examen, răspunsurile corecte care completează propozițiile de mai jos:

1. Are ieșire la Marea Nordului statul marcat, pe hartă, cu litera ...
2. Orașul marcat, pe hartă, cu numărul **6** este capitala statului numit ...
3. În nordul statului marcat, pe hartă, cu litera **H** se află Munții ...

6 puncte

C. Scrieți, pe foaia de examen, litera corespunzătoare răspunsului corect pentru fiecare dintre afirmațiile de mai jos:

- | | | | | | |
|--|---------------------|-------------------|-------------------|----------------------|-----------------|
| 1. Statul marcat, pe hartă, cu litera F este situat în Peninsula: | a. Balcanică | b. Iberică | c. Italică | d. Scandinavă | 2 puncte |
| 2. Insula Sardinia aparține statului marcat, pe hartă, cu litera: | a. A | b. C | c. H | d. I | 2 puncte |
| 3. Orașul - capitală Viena este marcat, pe hartă, cu numărul: | a. 2 | b. 4 | c. 5 | d. 13 | 2 puncte |
| 4. Clima subpolară este caracteristică părții nordice a statului marcat, pe hartă, cu litera: | a. E | b. F | c. G | d. J | 2 puncte |
| 5. Vegetația de stepă și silvostepă este specifică pe teritoriul statului marcat, pe hartă, cu litera: | a. A | b. B | c. D | d. E | 2 puncte |

D. Precizați două deosebiri și o asemănare între **relieful** Munților Apenini și **relieful** Munților Ural.

Nota 1: Deosebirile și asemănarea se pot referi la oricare dintre următoarele aspecte ale **reliefului**: mod de formare, tipuri de roci predominante, altitudini, grad de fragmentare, tipuri genetice de relief, alte aspecte specifice ale reliefului.

Nota 2: Punctajul complet va fi acordat numai dacă asemănarea și deosebirile vor fi prezentate comparativ și nu separat.

6 puncte

E. Prezentați două cauze care au condus la apariția, dispariția sau modificarea teritoriului unor state europene.

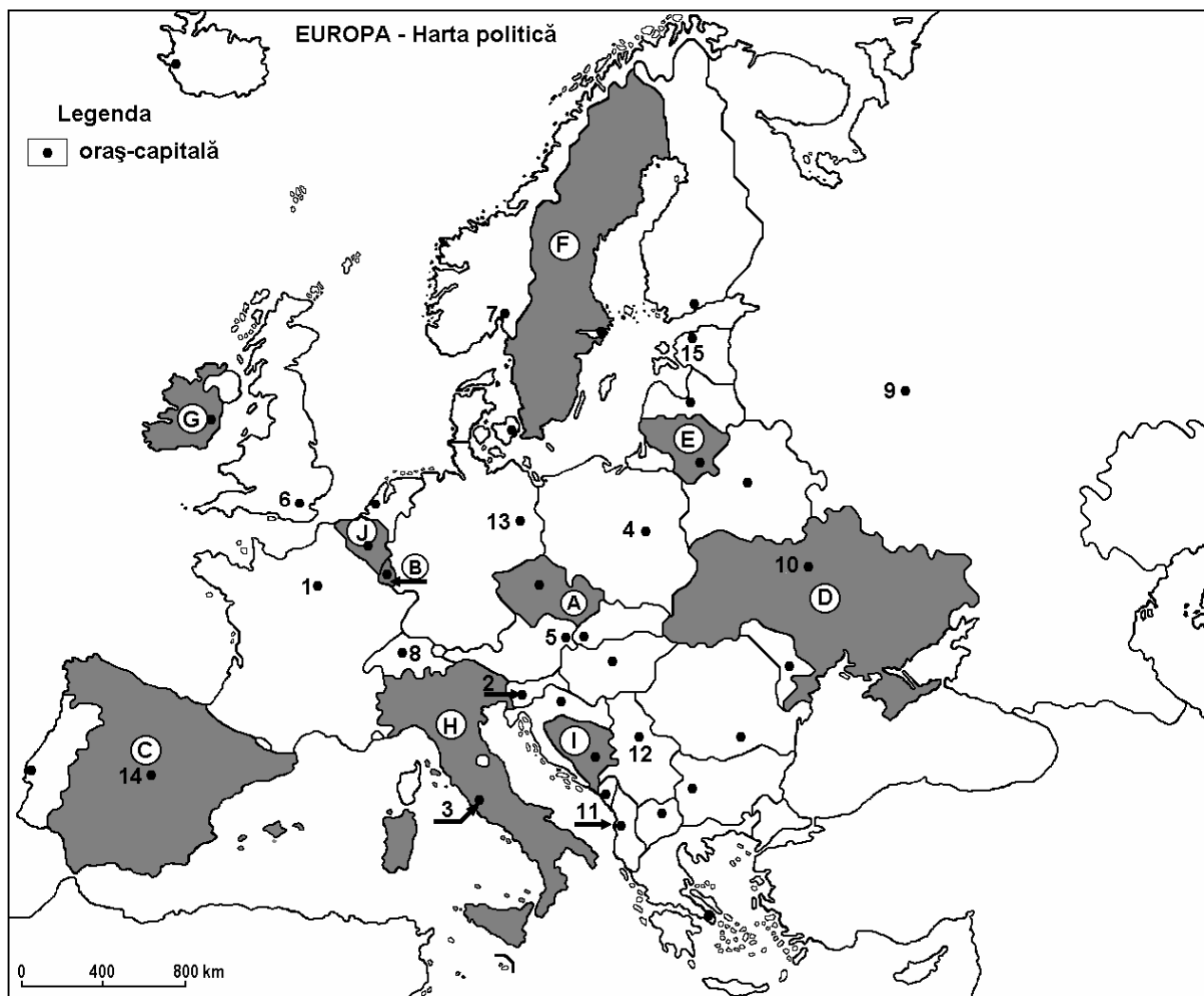
4 puncte

Examenul de bacalaureat 2008
Proba D, E, F
Proba scrisă la GEOGRAFIE
Europa–România–Uniunea Europeană

- Toate subiectele sunt obligatorii. Se acordă 10 puncte din oficiu.
- Timpul efectiv de lucru este de 3 ore.

SUBIECTUL I

(30 puncte)



Harta de mai sus se referă la subiectul I A - C. Pe hartă sunt marcate state cu litere și orașe – capitală cu numere.

A. Precizați:

1. numele statelor marcate, pe hartă, cu literele **A** și **F**;
2. numele orașelor-capitală marcate, pe hartă, cu numerele **7** și **14**.

4 puncte

B. Scrieți, pe foaia de examen, răspunsurile corecte care completează propozițiile de mai jos:

1. Vegetație de tundră există pe teritoriul statului marcat, pe hartă, cu litera.....
2. Râu Tibru traversează capitala marcată, pe hartă, cu numărul.....
3. Câmpia Padului este situată pe teritoriul statului marcat, pe hartă, cu litera.....

6 puncte

C. Scrieți, pe foaia de examen, litera corespunzătoare răspunsului corect pentru fiecare dintre afirmațiile de mai jos:

1. Orașul marcat, pe hartă, cu numărul **1** este capitala statului numit:

a. Andorra	b. Franța	c. Luxemburg	d. Spania	2 puncte
------------	-----------	--------------	-----------	-----------------
2. Zăcămintele de minereu de fier se exploatează din subsolul statului marcat, pe hartă, cu litera:

a. A	b. B	c. D	d. E	2 puncte
------	------	------	------	-----------------
3. Orașul - capitală marcat, pe hartă, cu numărul **6** este traversat de fluviul numit:

a. Elba	b. Oder	c. Tamisa	d. Vistula	2 puncte
---------	---------	-----------	------------	-----------------
4. Statul marcat, pe hartă, cu litera **J** aparține regiunii geografice numite:

a. Europa Centrală	b. Europa Nordică	c. Europa Sudică	d. Europa Vestică	2 puncte
--------------------	-------------------	------------------	-------------------	-----------------
5. În nord - estul statului marcat, pe hartă, cu litera **C** se află Munții:

a. Alpi	b. Apenini	c. Pindului	d. Pirinei	2 puncte
---------	------------	-------------	------------	-----------------

D. Precizați trei deosebiri între **clima** Peninsulei Scandinavice și **clima** Peninsulei Iberice.

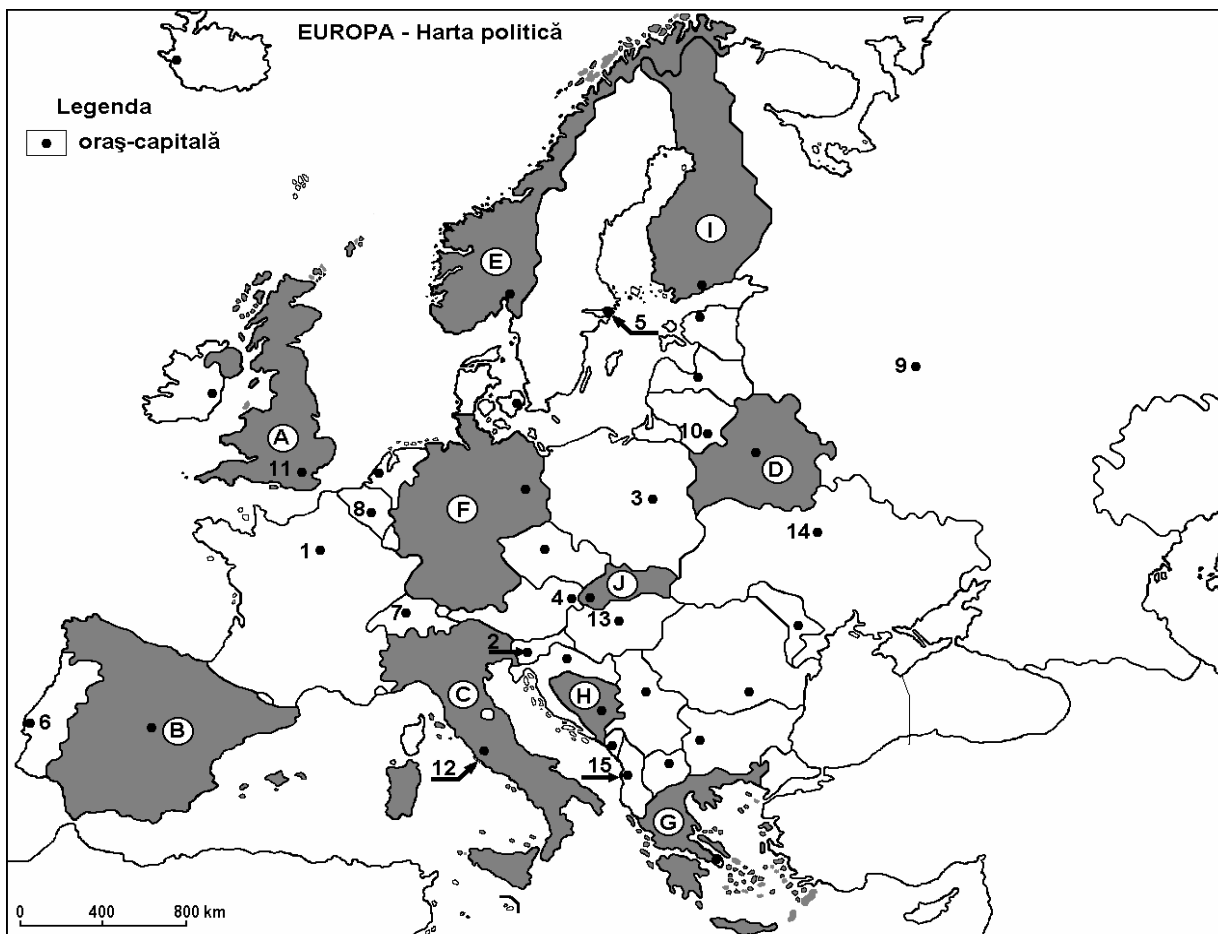
Nota 1: Deosebirile se pot referi la oricare dintre următoarele elemente de **climă**: tipul de climă, temperaturi medii anuale, precipitații medii anuale, vânturi caracteristice, factorii genetici ai climatei, amplitudine termică.

Nota 2: Punctajul complet va fi acordat numai dacă cele trei deosebiri vor fi prezentate comparativ și nu separat. **6 puncte**

E. Prezentați două cauze care au determinat deplasări ale populației cu caracter temporar sau definitiv în Europa. **4 puncte**

Examenul de bacalaureat 2008
Proba D, E, F
Proba scrisă la GEOGRAFIE
Europa–România–Uniunea Europeană

- Toate subiectele sunt obligatorii. Se acordă 10 puncte din oficiu.
- Timpul efectiv de lucru este de 3 ore.

SUBIECTUL I**(30 puncte)**

Harta de mai sus se referă la subiectul I A – C. Pe hartă sunt marcate state cu litere și orașe – capitală cu numere.

A. Precizați:

1. numele statelor marcate, pe hartă, cu literele **C** și **D**;
2. numele orașelor-capitală marcate, pe hartă, cu numerele **3** și **12**.

4 puncte**B. Scrieți, pe foaia de examen, răspunsurile corecte care completează propozițiile de mai jos:**

1. Orașul marcat, pe hartă, cu numărul **6** este capitala statului numit ...
2. Alpii Scandinaviei sunt situați pe teritoriul statului marcat, pe hartă, cu litera ...
3. Este traversat de fluviul Sena orașul -capitală marcat, pe hartă, cu numărul ...

6 puncte

C. Scrieți, pe foaia de examen, litera corespunzătoare răspunsului corect pentru fiecare dintre afirmațiile de mai jos:

1. Munții Alpi sunt situați în nordul statului marcat, pe hartă, cu litera:

a. B	b. C	c. F	d. J	2 puncte
------	------	------	------	-----------------
2. Curentul maritim cald al Golfului influențează clima statului marcat, pe hartă, cu litera:

a. B	b. C	c. E	d. I	2 puncte
------	------	------	------	-----------------
3. Orașul marcat, pe hartă, cu numărul **15** este capitala statului numit:

a. Albania	b. Croația	c. Grecia	d. Slovenia	2 puncte
------------	------------	-----------	-------------	-----------------
4. Fluviul Dunărea traversează capitalele marcate, pe hartă cu numerele:

a. 2 și 4	b. 2 și 7	c. 4 și 7	d. 4 și 13	2 puncte
-----------	-----------	-----------	------------	-----------------
5. Orașul - capitală Vilnius este marcat, pe hartă, cu numărul:

a. 3	b. 5	c. 10	d. 14	2 puncte
------	------	-------	-------	-----------------

D. Precizați două deosebiri și o asemănare între **relieful** Munților Pirinei și **relieful** Munților Apenini.

Nota 1: Deosebirile și asemănarea se pot referi la oricare dintre următoarele aspecte ale **reliefului**: mod de formare, tipuri de roci predominante, altitudini, grad de fragmentare, tipuri genetice de relief.

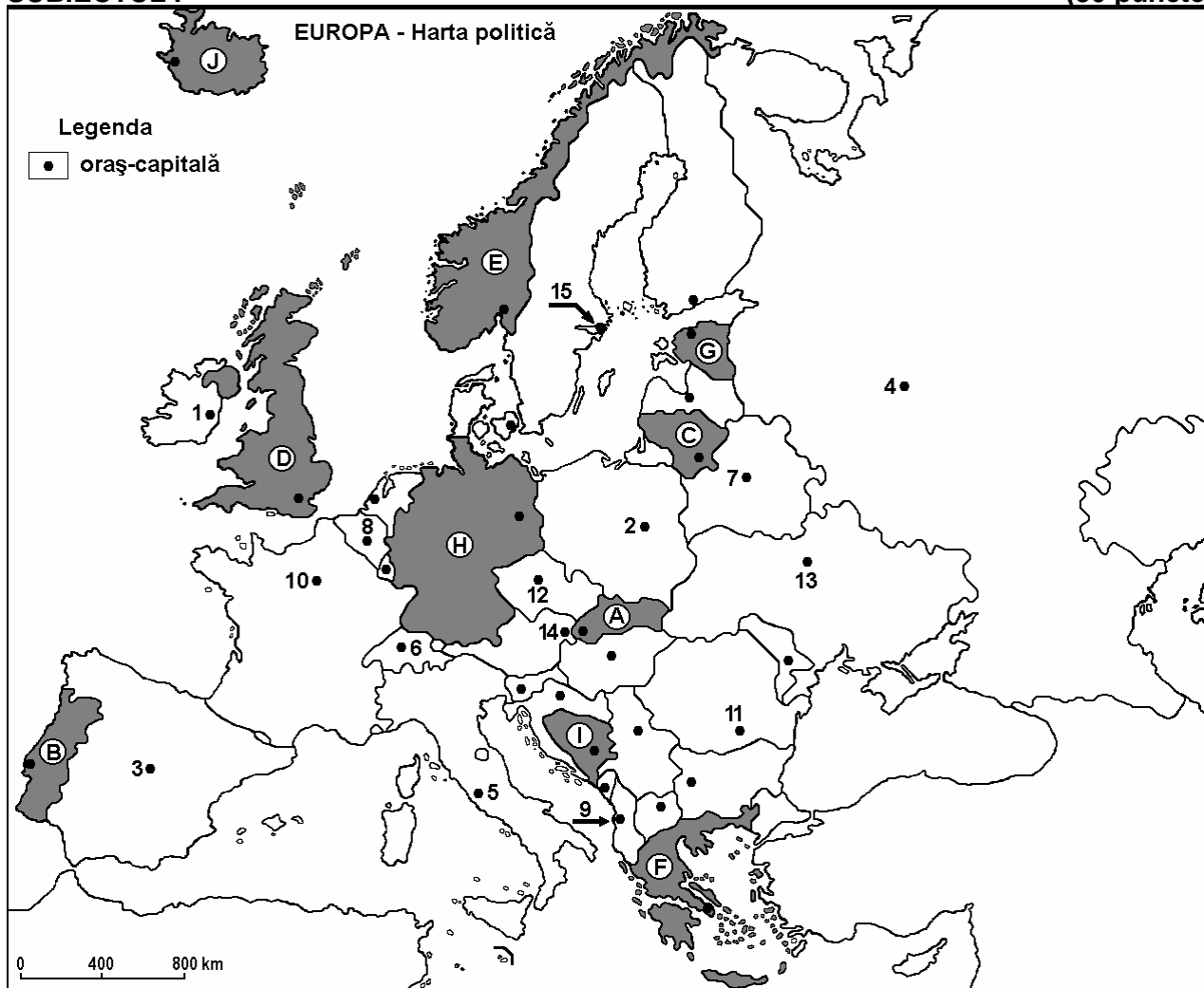
Nota 2: Punctajul complet va fi acordat numai dacă asemănarea și deosebirile vor fi prezentate comparativ și nu separat. **6 puncte**

E. Prezentați doi factori care au determinat formarea deltei fluviului Dunărea.

4 puncte

Examenul de bacalaureat 2008
Proba D, E, F
Proba scrisă la GEOGRAFIE
Europa–România–Uniunea Europeană

- Toate subiectele sunt obligatorii. Se acordă 10 puncte din oficiu.
- Timpul efectiv de lucru este de 3 ore.

SUBIECTUL I**(30 puncte)**

Harta de mai sus se referă la subiectul I A – C. Pe hartă sunt marcate state cu litere și orașe – capitală cu numere.

A. Precizați:

1. numele statelor marcate, pe hartă, cu literele **B** și **C**;
2. numele orașelor-capitală marcate, pe hartă, cu numerele **4** și **14**.

4 puncte**B. Scrieți, pe foaia de examen, răspunsurile corecte care completează propozițiile de mai jos:**

1. Capitala statului marcat, pe hartă, cu litera **D** este traversată de fluviul numit...
2. Capitala statului marcat, pe hartă, cu litera **F** se numește...
3. Munții Apenini se desfășoară pe teritoriul statului a cărui capitală este marcată, pe hartă, cu numărul...

6 puncte

C. Scrieți, pe foaia de examen, litera corespunzătoare răspunsului corect pentru fiecare dintre afirmațiile de mai jos:

1. Țărmurile cu fiorduri sunt caracteristice statului marcat, pe hartă, cu litera:

a. B	b. C	c. E	d. F	2 puncte
------	------	------	------	-----------------
2. Orașul Varșovia este marcat, pe hartă, cu numărul:

a. 2	b. 3	c. 7	d. 11	2 puncte
------	------	------	-------	-----------------
3. Țările a căror capitale sunt marcate, pe hartă, cu numerele **3** și **10** au în comun:

a. Munții Alpi	b. Munții Carpați	c. Munții Pirinei	d. Podișul Boemiei	2 puncte
----------------	-------------------	-------------------	--------------------	-----------------
4. Vegetația de tundră este specifică statului marcat, pe hartă, cu litera:

a. A	b. C	c. I	d. J	2 puncte
------	------	------	------	-----------------
5. Extrag zăcăminte de petrol și gaze naturale din Marea Nordului, statele marcate, pe hartă, cu literele:

a. B și C	b. B și H	c. D și E	d. G și J	2 puncte
-----------	-----------	-----------	-----------	-----------------

D. Precizați două deosebiri și o asemănare între **clima** Peninsulei Scandinave și **clima** Peninsulei Iberice.

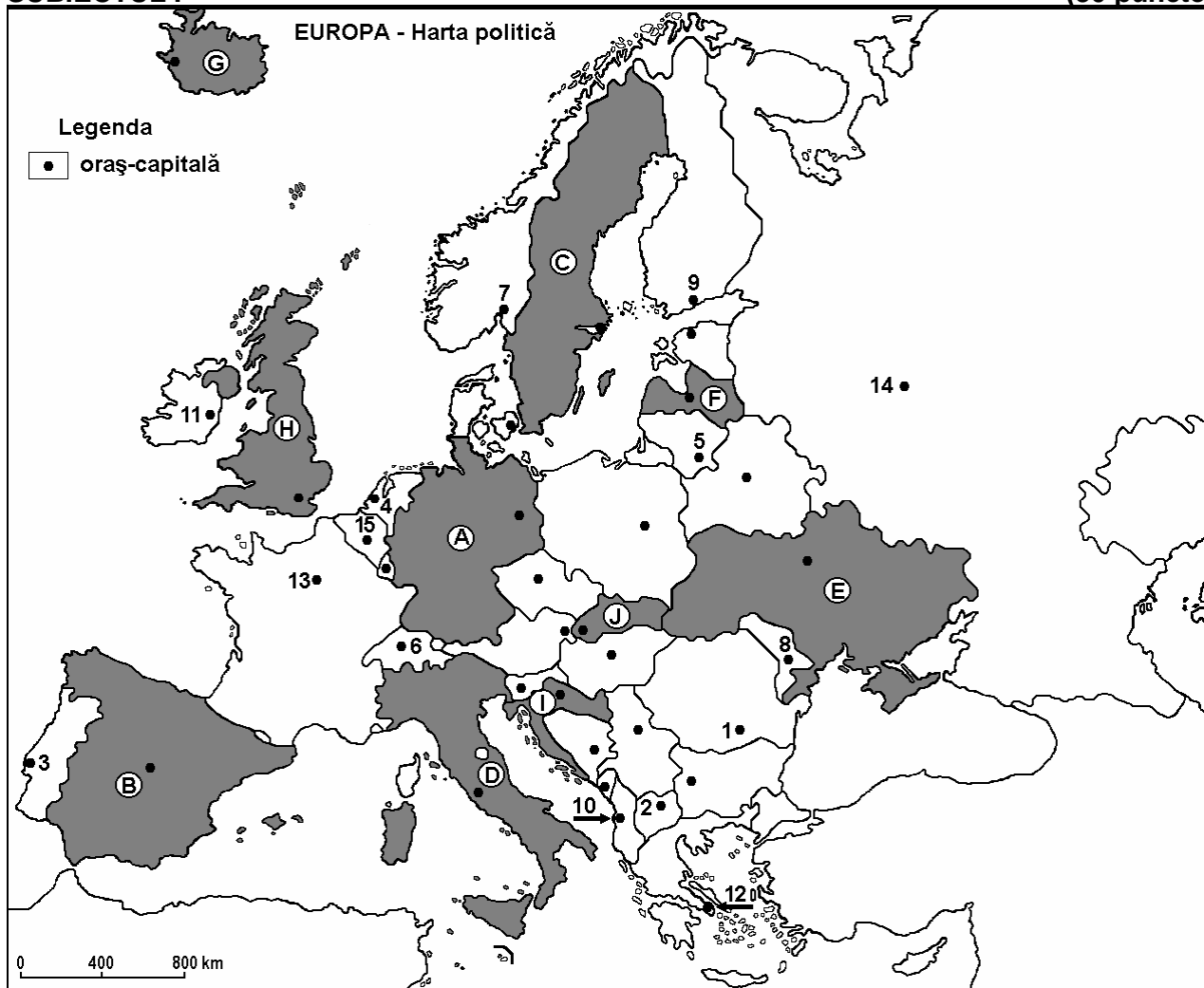
Nota 1: Deosebirile și asemănarea se pot referi la oricare dintre următoarele elemente de **climă**: temperaturi medii anuale, precipitații medii anuale, vânturi, etaj climatic, tipul climatic, amplitudine termică.

Nota 2: Punctajul complet va fi acordat numai dacă deosebirile și asemănarea vor fi prezentate comparativ și nu separat. **6 puncte**

E. Prezentați două cauze ale densității reduse a populației din spațiul montan. **4 puncte**

Examenul de bacalaureat 2008
Proba D, E, F
Proba scrisă la GEOGRAFIE
Europa–România–Uniunea Europeană

- Toate subiectele sunt obligatorii. Se acordă 10 puncte din oficiu.
- Timpul efectiv de lucru este de 3 ore.

SUBIECTUL I**(30 puncte)**

Harta de mai sus se referă la subiectul I A – D. Pe hartă sunt marcate state cu litere și orașe – capitală cu numere.

A. Precizați:

1. numele statelor marcate, pe hartă, cu literele **C** și **J**;
2. numele orașelor-capitală marcate, pe hartă, cu numerele **7** și **10**.

4 puncte

B. Scrieți, pe foaia de examen, răspunsurile corecte care completează propozițiile de mai jos:

1. Statele ale căror capitale sunt marcate, pe hartă, cu numerele **5** și **9** au ieșire directă la Marea ...
2. Capitala statului marcat, pe hartă, cu litera **I** se numește ...
3. Peninsula Crimeea aparține statului marcat, pe hartă, cu litera ...

6 puncte

C. Scrieți, pe foaia de examen, litera corespunzătoare răspunsului corect pentru fiecare dintre afirmațiile de mai jos:

1. Țărmlul dalmatin este specific statului marcat, pe hartă, cu litera:

a. A	b. B	c. C	d. I	2 puncte
------	------	------	------	-----------------
2. Orașul - capitală marcat, pe hartă, cu numărul 6 se numește:

a. Berlin	b. Berna	c. Geneva	d. Viena	2 puncte
-----------	----------	-----------	----------	-----------------
3. Munții Carpați se desfășoară pe teritoriul statelor marcate, pe hartă, cu literele:

a. A și B	b. A și D	c. D și J	d. E și J	2 puncte
-----------	-----------	-----------	-----------	-----------------
4. Podișul Bavariei se desfășoară pe teritoriul statului marcat, pe hartă, cu litera:

a. A	b. C	c. I	d. J	2 puncte
------	------	------	------	-----------------
5. Polderle sunt caracteristice în statul a cărui capitală este marcată, pe hartă, cu numărul:

a. 3	b. 4	c. 7	d. 11	2 puncte
------	------	------	-------	-----------------

D. Precizați trei asemănări între **clima** statului marcat pe hartă cu litera **D** și **clima** statului marcat pe hartă cu litera **I**.

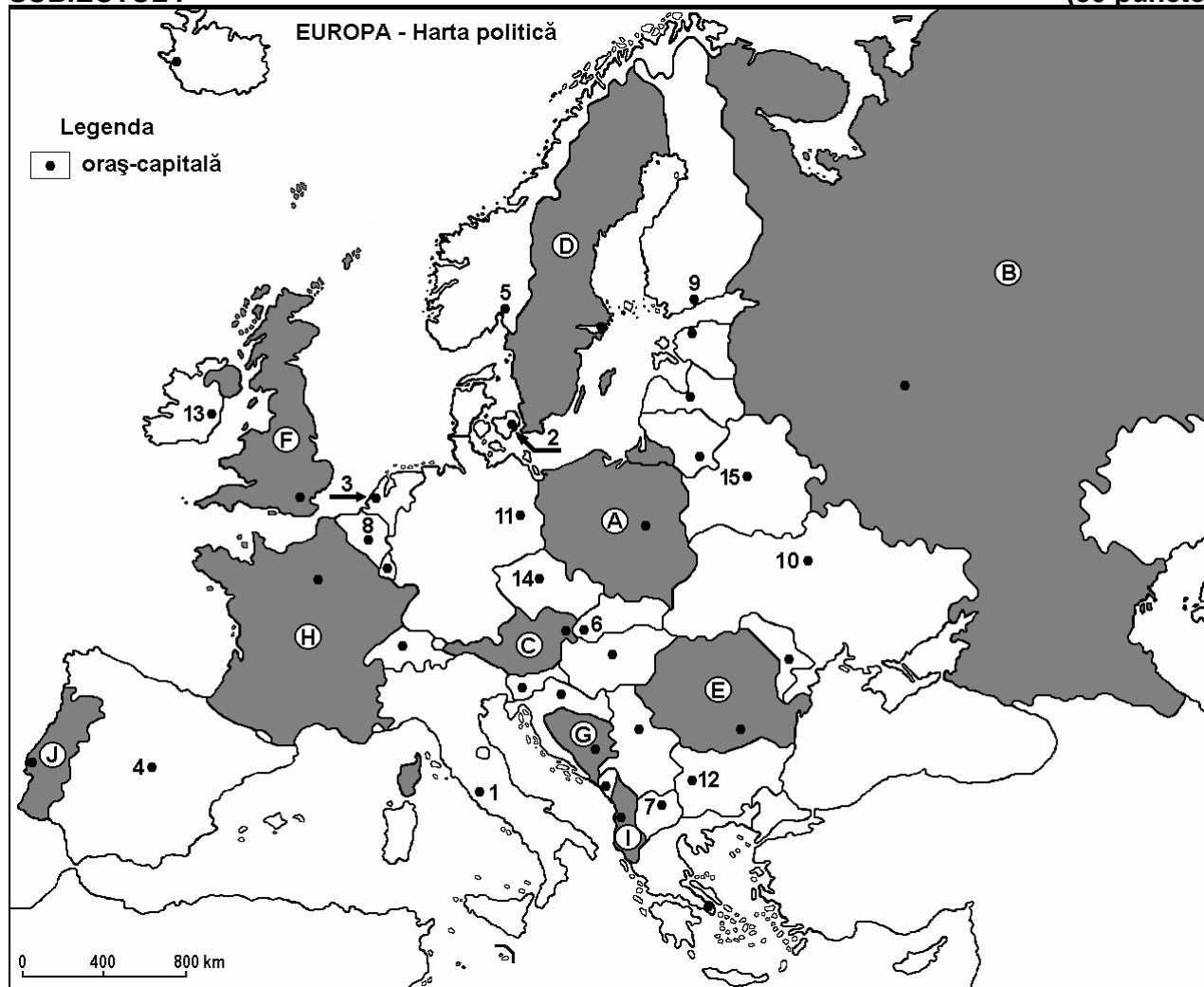
Nota 1: Asemănările se pot referi la oricare dintre următoarele elemente de **climă**: temperaturi medii anuale, precipitații medii anuale, vânturi, etaj climatic, tip climatic, amplitudine termică.

Nota 2: Punctajul complet va fi acordat numai dacă asemănările vor fi prezentate comparativ și nu separat. **6 puncte**

E. Țărmlul cu lagune este caracteristic pentru o serie de mări ale Europei. Precizați un factor care contribuie la geneza lagunelor precum și o mare unde este prezent acest tip de țărml. **4 puncte**

Examenul de bacalaureat 2008
Proba D, E, F
Proba scrisă la GEOGRAFIE
Europa–România–Uniunea Europeană

- Toate subiectele sunt obligatorii. Se acordă 10 puncte din oficiu.
- Timpul efectiv de lucru este de 3 ore.

SUBIECTUL I**(30 puncte)**

Harta de mai sus se referă la subiectul I A – D. Pe hartă sunt marcate state cu litere și orașe – capitală cu numere.

A. Precizați:

1. numele statelor marcate, pe hartă, cu literele **B** și **I**;
2. numele orașelor-capitală marcate, pe hartă, cu numerele **2** și **15**.

4 puncte**B. Scrieți, pe foaia de examen, răspunsurile corecte care completează propozițiile de mai jos:**

1. Capitala marcată, pe hartă, cu numărul **6** este traversată de fluviul numit ...
2. Capitala statului marcat, pe hartă, cu litera **D** se numește ...
3. Munții Penini se desfășoară pe teritoriul statului marcat, pe hartă, cu litera ...

6 puncte

C. Scrieți, pe foaia de examen, litera corespunzătoare răspunsului corect pentru fiecare dintre afirmațiile de mai jos:

1. Vulcanii Etna și Vezuviu sunt situați pe teritoriul statului a cărui capitală este marcată, pe hartă, cu numărul:

a. 1 b. 4 c. 13 d. 14 **2 puncte**

2. Orașul-capitală Helsinki este marcat, pe hartă, cu numărul:

a. 5 b. 8 c. 9 d. 10 **2 puncte**

3. Eurotunelul face legătura între țările marcate, pe hartă, cu literele:

a. A și D b. B și D c. D și F d. H și F **2 puncte**

4. Capul Roca este situat pe teritoriul statului marcat, pe hartă, cu litera:

a. B b. D c. F d. J **2 puncte**

5. Bazinul carbonifer Silezia Superioară se află în statul marcat, pe hartă, cu litera:

a. A b. B c. C d. F **2 puncte**

D. Precizați trei deosebiri între **clima** statului marcat pe hartă cu litera **B** și **clima** statului marcat pe hartă cu litera **H**.

Nota 1: Deosebirile se pot referi la oricare dintre următoarele elemente de climă: temperaturi medii anuale, precipitații medii anuale, vânturi, etaj climatic, tip climatic, amplitudine termică.

Nota 2: Punctajul complet va fi acordat numai dacă deosebirile vor fi prezentate comparativ și nu separat. **6 puncte**

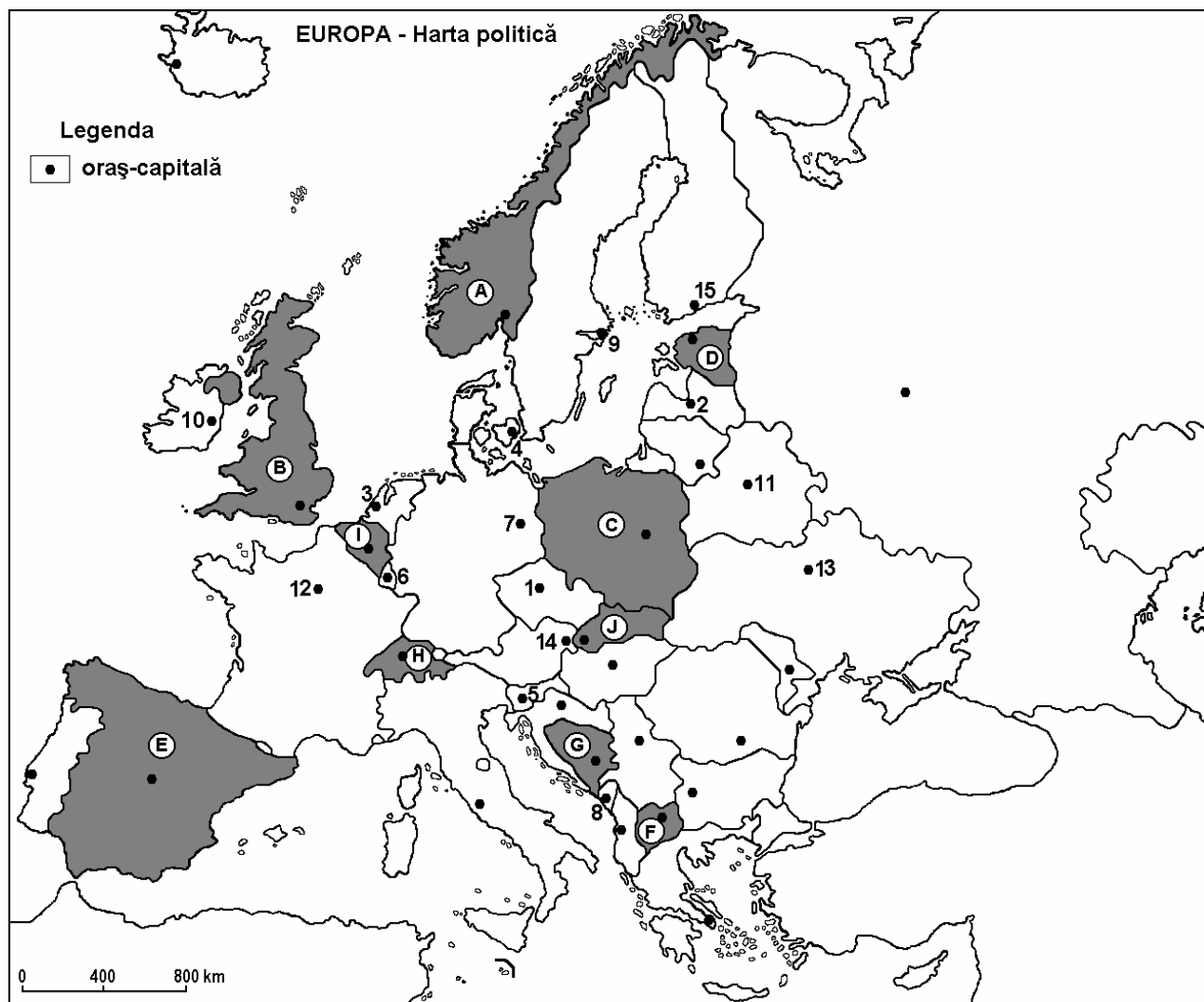
E. Precizați două cauze ale creșterii populației urbane din Europa. **4 puncte**

Examenul de bacalaureat 2008
Proba D, E, F
Proba scrisă la Geografie
Europa – România – Uniunea Europeană

- Toate subiectele sunt obligatorii. Se acordă 10 puncte din oficiu.
- Timpul efectiv de lucru este de 3 ore.

SUBIECTUL I

(30 puncte)



Harta de mai sus se referă la subiectul I A-C. Pe hartă sunt marcate state cu litere și orașe – capitală cu numere.

A. Precizați:

1. numele statelor marcate, pe hartă, cu literele **A** și **J**;
2. numele orașelor-capitală marcate, pe hartă, cu numerele **11** și **15**.

4 puncte

B. Scrieți, pe foaia de examen, răspunsurile corecte care completează propozițiile de mai jos:

1. Capitala statului marcat pe hartă cu litera **F** se numește ...
2. Podișul interior de tip Mesetă este specific statului marcat, pe hartă, cu litera ...
3. Forma de guvernământ a statului marcat, pe hartă, cu litera **A** este ...

6 puncte

C. Scrieți, pe foaia de examen, litera corespunzătoare răspunsului corect pentru fiecare dintre afirmațiile de mai jos:

1. Orașul Praga este marcat, pe hartă, cu numărul:

a. 1 b. 5 c. 6 d. 14 **2 puncte**

2. Vegetația de tundră este specifică statului marcat, pe hartă, cu litera:

a. A b. C c. I d. J **2 puncte**

3. Țărmurile cu fiorduri sunt caracteristice statului marcat pe hartă cu litera:

a. B b. D c. E d. I **2 puncte**

4. Orașul capitală marcat pe hartă cu numărul 12 este traversat de râul:

a. Dunăre b. Tamisa c. Sena d. Volga **2 puncte**

5. Fluviul Vistula străbate teritoriul statului marcat, pe hartă, cu litera:

a. A b. C c. D d. E **2 puncte**

D. Precizați două asemănări și o deosebire între **relieful** Munților Pirinei și **relieful** Munților Alpi.

Nota 1: Asemănările și deosebirea se pot referi la oricare dintre următoarele aspecte ale **reliefului**: mod de formare, tipuri de roci pe care s-a format relieful, altitudini, fragmentare, tipuri genetice de relief.

Nota 2: Punctajul complet va fi acordat numai dacă cele două asemănări și deosebirea vor fi prezentate comparativ și nu separat. **6 puncte**

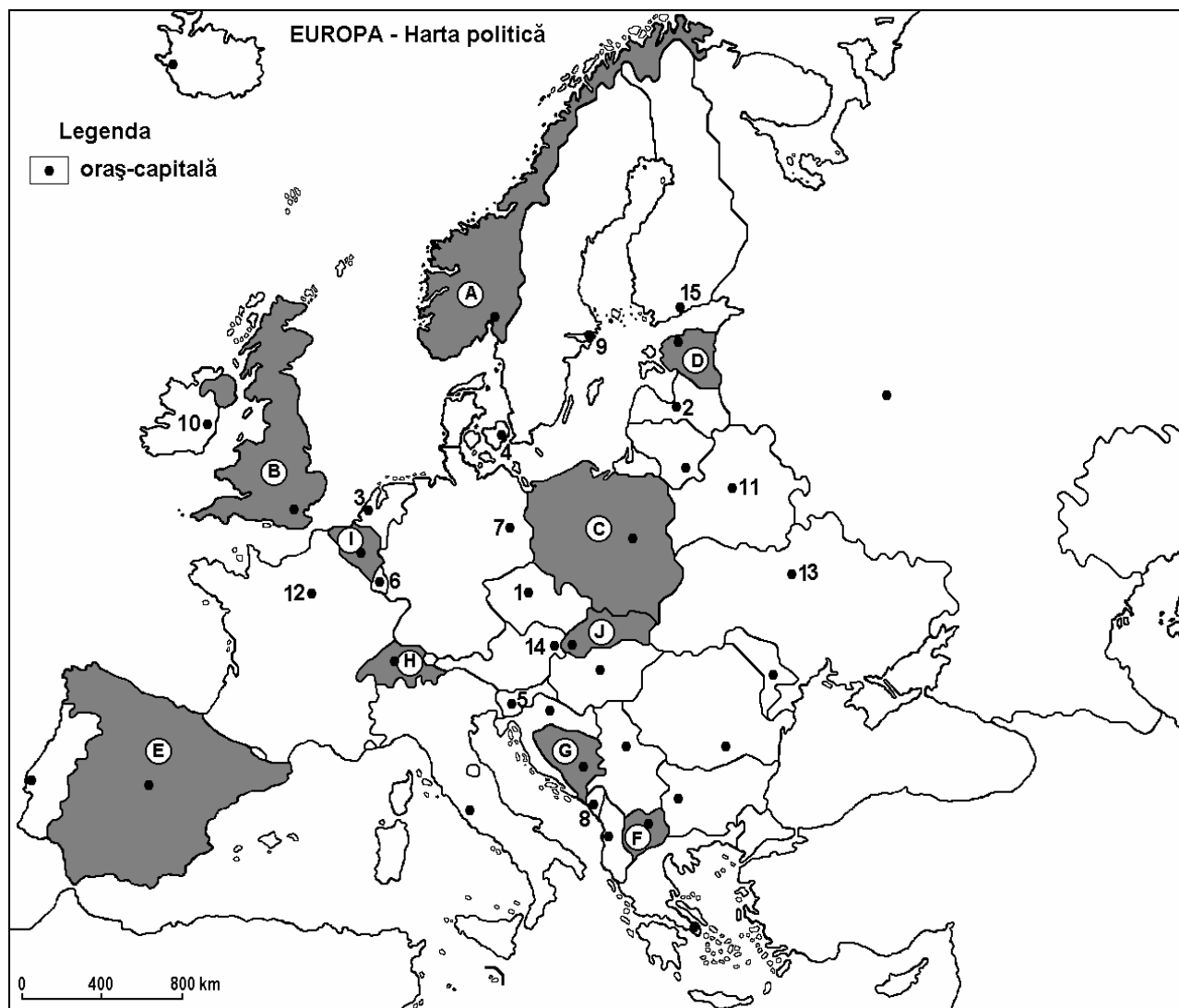
E. Prezentați două cauze ale tendinței de îmbătrânire demografică a Europei. **4 puncte**

Examenul de bacalaureat 2008
Proba D, E, F
Proba scrisă la Geografie
Europa – România – Uniunea Europeană

- Toate subiectele sunt obligatorii. Se acordă 10 puncte din oficiu.
- Timpul efectiv de lucru este de 3 ore.

SUBIECTUL I

(30 puncte)



Harta de mai sus se referă la subiectul I A-C. Pe hartă sunt marcate state cu litere și oraș-capitală cu numere.

A. Precizați:

1. numele statelor marcate, pe hartă, cu literele **B** și **D**;
2. numele orașelor-capitală marcate, pe hartă, cu numerele **1** și **10**.

4 puncte

B. Scrieți, pe foaia de examen, răspunsurile corecte care completează propozițiile de mai jos:

1. Capitala statului marcat pe hartă cu litera **G** se numește ...
2. Asociațiile vegetale de tip maquis compun vegetația statului marcat, pe hartă, cu litera ...
3. Are ieșire la marea Adriatică statul marcat, pe hartă, cu litera ...

6 puncte

C. Scrieți, pe foaia de examen, litera corespunzătoare răspunsului corect pentru fiecare dintre afirmațiile de mai jos:

1. Statul marcat, pe hartă, cu litera **J** are capitala la:
a. Bratislava b. Budapesta c. Praga d. Viena **2 puncte**
2. Orașul Ljubljana este marcat, pe harta, cu numărul:
a. 1 b. 5 c. 8 d. 14 **2 puncte**
3. Țărmurile cu fiorduri sunt caracteristice statului marcat, pe hartă, cu litera:
a. A b. D c. E d. I **2 puncte**
4. Orașul-capitală marcat, pe hartă, cu numărul **13** este traversat de râul:
a. Don b. Nipru c. Nistru d. Volga **2 puncte**
5. Fluviul Vistula străbate teritoriul statului marcat, pe hartă, cu litera:
a. A b. C c. D d. E **2 puncte**

D. Precizați două asemănări și o deosebire între **relieful** Munților Carpați și **relieful** Munților Alpi.

Nota 1: Asemănările și deosebirea se pot referi la oricare dintre următoarele aspecte ale **reliefului**: mod de formare, tipuri de roci pe care s-a format relieful, altitudini, fragmentare, tipuri genetice de relief.

Nota 2: Punctajul complet va fi acordat numai dacă cele două asemănări și deosebirea vor fi prezentate comparativ și nu separat. **6 puncte**

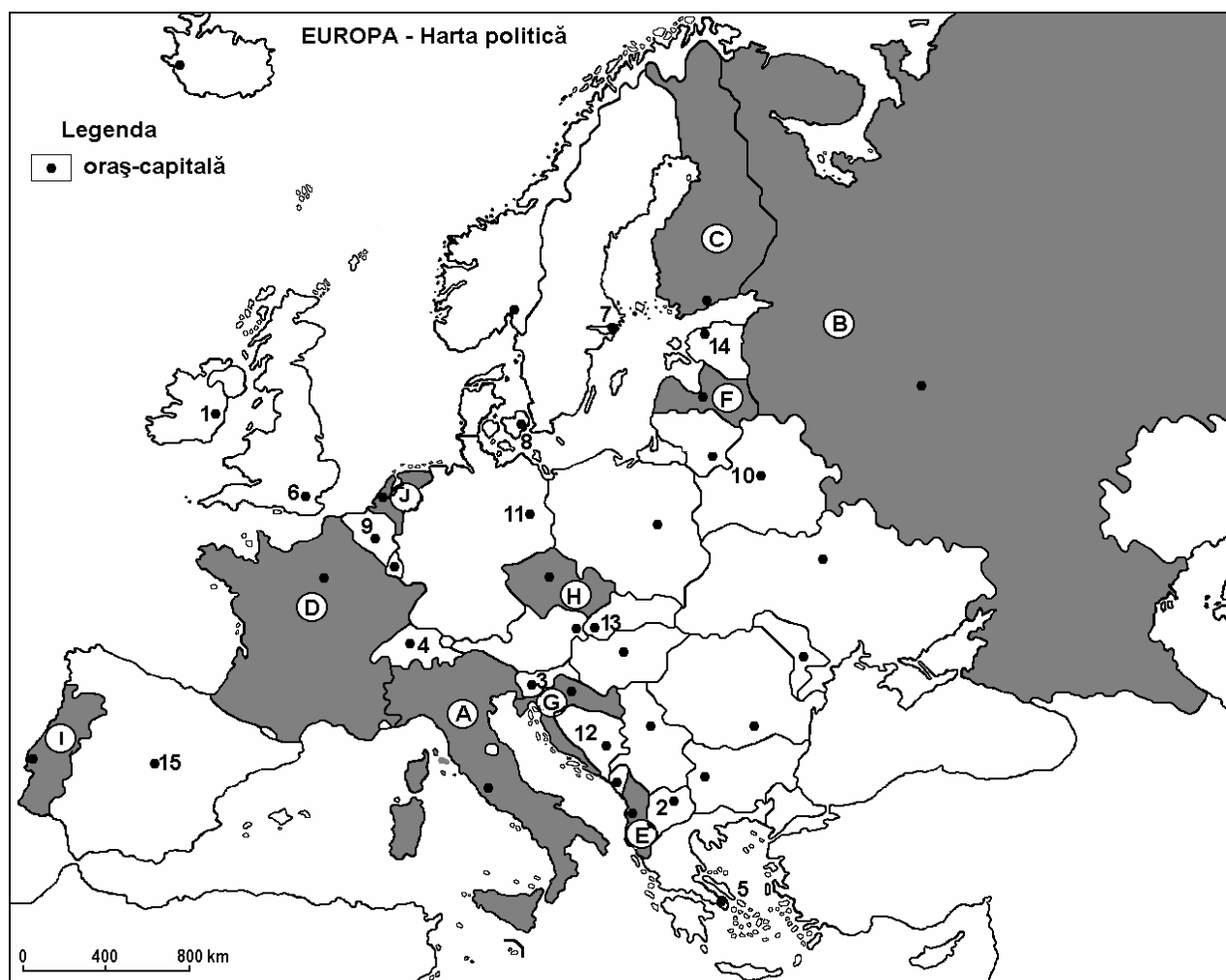
E. Prezentați două motive pentru care Bazinul Mării Mediterane este considerat cea mai importantă zonă turistică a Europei. **4 puncte**

Examenul de bacalaureat 2008
Proba D, E, F
Proba scrisă la Geografie
Europa – România – Uniunea Europeană

- Toate subiectele sunt obligatorii. Se acordă 10 puncte din oficiu.
- Timpul efectiv de lucru este de 3 ore.

SUBIECTUL I

(30 puncte)



Harta de mai sus se referă la subiectul I A - C. Pe hartă sunt marcate state cu litere și orașe –capitală cu numere.

A. Precizați:

1. numele statelor marcate, pe hartă, cu numerele **C** și **E**;
2. numele orașelor-capitală marcate, pe hartă, cu numerele **2** și **14**.

4 puncte

B. Scrieți, pe foaia de examen, răspunsurile corecte care completează propozițiile de mai jos:

1. Statul marcat, pe hartă, cu litera **G** se numește ...
2. Orașul marcat, pe hartă, cu numărul **13** este capitala statului numit ...
3. Orașul marcat, pe hartă, cu numărul **10** se numește ...

6 puncte

C. Scrieți, pe foaia de examen, litera corespunzătoare răspunsului corect pentru fiecare dintre afirmațiile de mai jos:

1. Munți hercinici se află pe teritoriul statului marcat, pe hartă, cu litera:

a. A	b. C	c. D	d. J	2 puncte
------	------	------	------	-----------------
2. Statul marcat, pe hartă, cu litera **H** are capitala la:

a. Berlin	b. Bratislava	c. Praga	d. Viena	2 puncte
-----------	---------------	----------	----------	-----------------
3. Statul marcat, pe hartă, cu litera **F** se numește:

a. Belarus	b. Estonia	c. Letonia	d. Lituania	2 puncte
------------	------------	------------	-------------	-----------------
4. Pădurile de conifere ocupă suprafețe mari pe teritoriul statului, marcat pe hartă, cu litera:

a. B	b. E	c. I	d. J	2 puncte
------	------	------	------	-----------------
5. Orașul-capitală marcat, pe hartă, cu numărul **9** se numește:

a. Amsterdam	b. Bruxelles	c. Copenhaga	d. Luxembourg	2 puncte
--------------	--------------	--------------	---------------	-----------------

D. Precizați două deosebiri și o asemănare între **clima** peninsulei Iberice și **clima** peninsulei Scandinave.

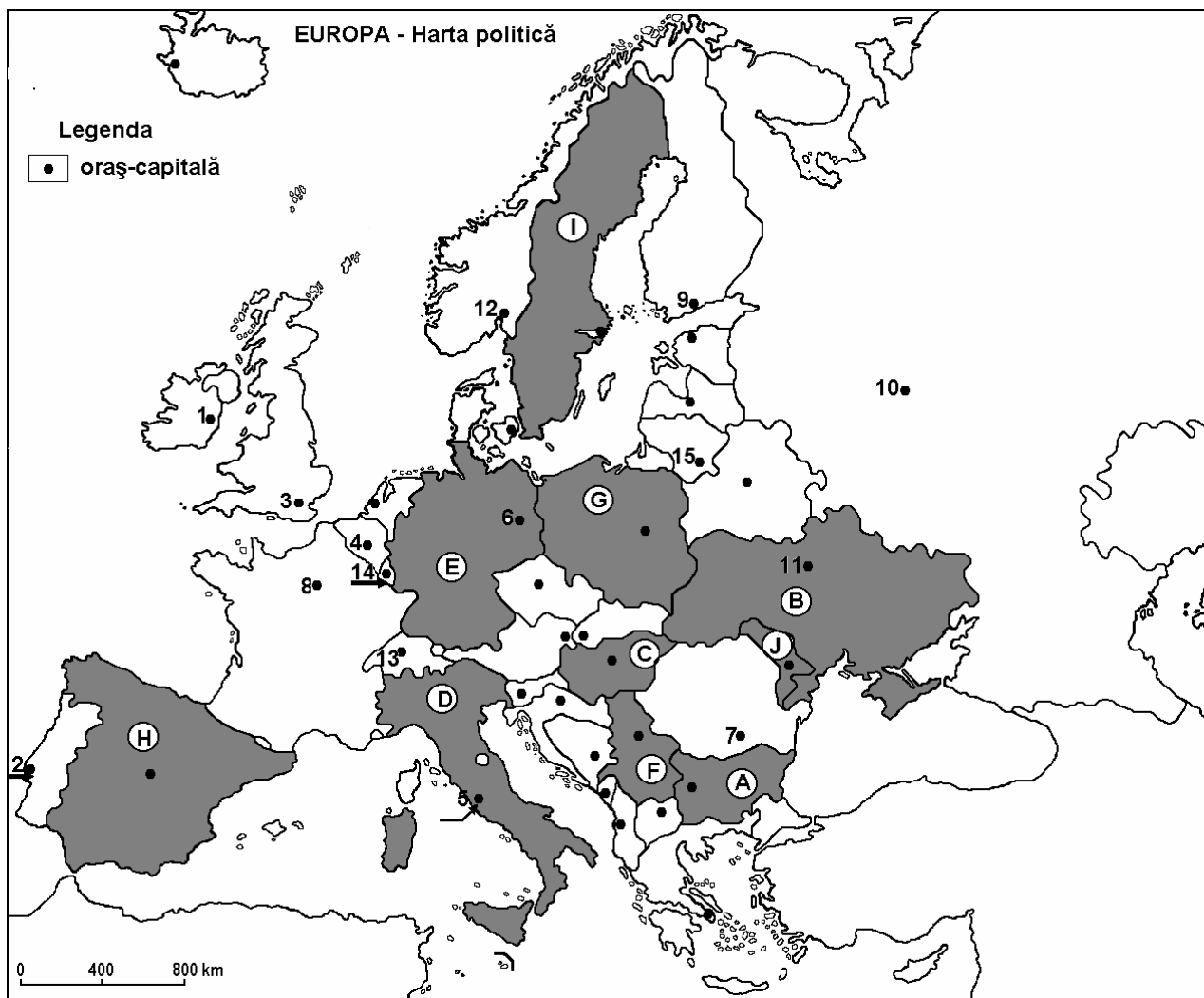
Nota 1: Deosebirile și asemănarea se pot referi la oricare dintre următoarele elemente de **climă**: tip de climă, temperaturi medii anuale, precipitații medii anuale, vânturi, influență climatică, amplitudine termică.

Nota 2: Punctajul complet va fi acordat numai dacă cele două deosebiri și asemănarea vor fi prezentate comparativ și nu separat. **6 puncte**

E. Prezentați două cauze care au determinat explozia demografică a populației Europei în a doua jumătate a secolului al XVIII-lea. **4 puncte**

Examenul de bacalaureat 2008
Proba D, E, F
Proba scrisă la GEOGRAFIE
Europa-România-Uniunea Europeană

- Toate subiectele sunt obligatorii. Se acordă 10 puncte din oficiu.
- Timpul efectiv de lucru este de 3 ore.

SUBIECTUL I**(30 puncte)**

Harta de mai sus se referă la subiectul I A, B, C, D. Pe hartă sunt marcate state cu litere și orașe-capitală cu numere.

A. Precizați:

1. numele statelor marcate, pe hartă, cu literele **E** și **J**;
2. numele orașelor-capitală marcate, pe hartă, cu numerele **10** și **14**.

4 puncte**B. Scrieți, pe foaia de examen, răspunsurile corecte care completează propozițiile de mai jos:**

1. Munții tineri din statul marcat, pe hartă, cu litera **D** s-au format prin încrețirea scoarței în orogeneza ... **2 puncte**
2. Orașul-capitală marcat, pe hartă cu numărul **8** se numește ... **2 puncte**
3. Capitala statului marcat, pe hartă, cu litera **G** se numește **2 puncte**

C. Scrieți, pe foaia de examen, litera corespunzătoare răspunsului corect pentru fiecare dintre afirmațiile de mai jos:

1. Orașul Lisabona este marcat, pe hartă, cu numărul:
a. 2 b. 4 c. 5 d. 13 **2 puncte**
2. Țara a cărei capitală este marcată, pe hartă, cu numărul 12 se numește:
a. Belgia b. Irlanda c. Norvegia d. Spania **2 puncte**
3. Este notat, pe hartă, cu litera F statul numit:
a. Austria b. Bulgaria c. Elveția d. Serbia **2 puncte**
4. Munții Apenini se află pe teritoriul statului marcat, pe hartă, cu litera:
a. A b. B c. C d. D **2 puncte**
5. Vegetația mediteraneană de tip maquis, garriga se află în sudul statului marcat cu litera:
a. B b. C c. E d. H **2 puncte**

D. Precizați trei deosebiri între **clima** statului marcat, pe hartă, cu litera D și **clima** statului marcat, pe hartă, cu litera I.

Nota 1: Deosebirile se pot referi la oricare dintre următoarele elemente de **climă**: tipul de climă, etaj climatic, factori genetici, temperaturi medii anuale, precipitații medii anuale, vânturi.

Nota 2: Punctajul complet va fi acordat numai dacă cele două unități de relief vor fi tratate comparativ și nu separat.

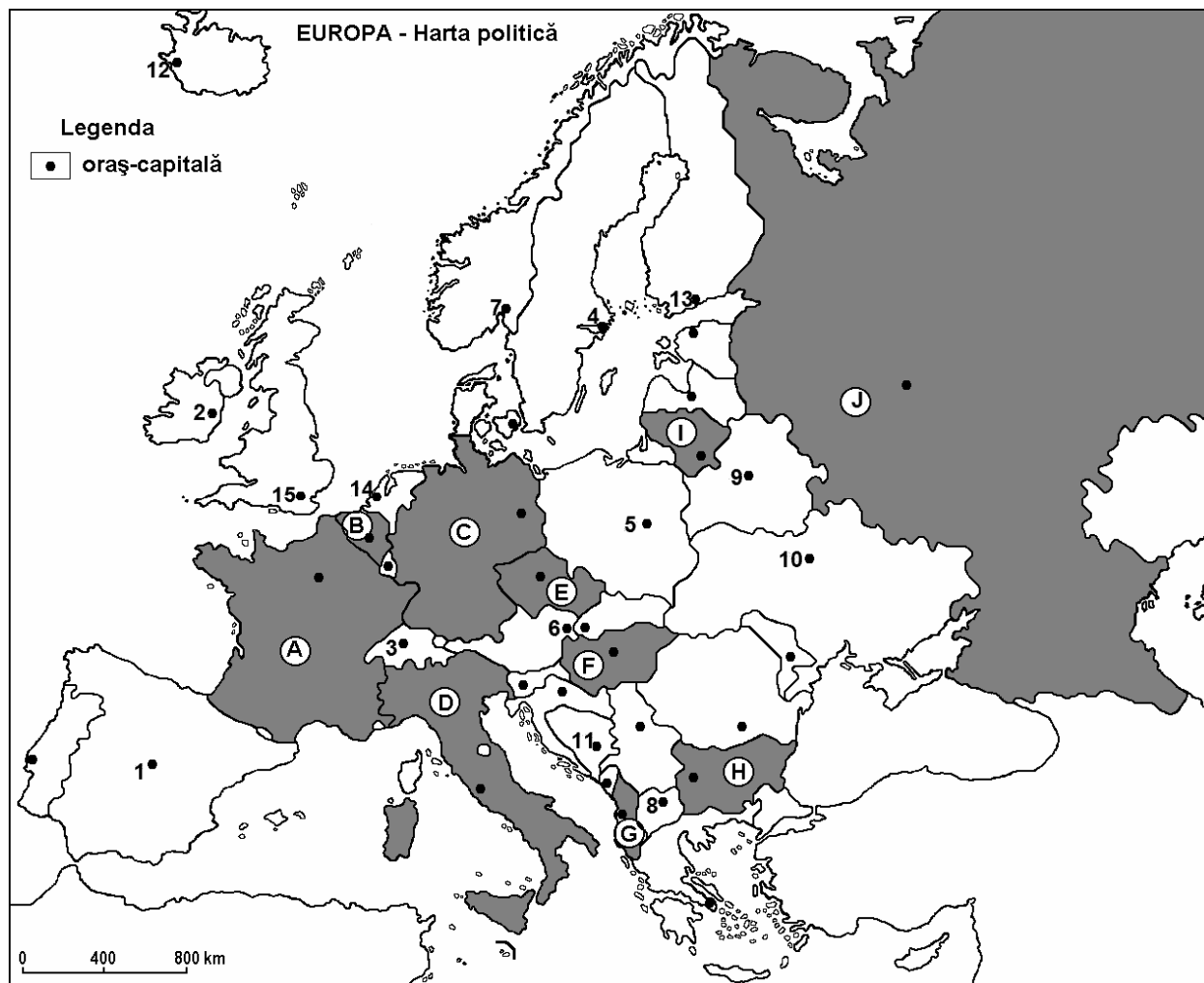
6 puncte

E. Prezentați două cauze pentru a explica faptul că densitatea populației în Olanda și Belgia este mai mare de 300 loc./km² în timp ce în Europa de Nord-Est și în extremitatea nordică a continentului este mai mică de 50 loc./km², chiar sub 1 loc./km².

4 puncte

Examenul de bacalaureat 2008
Proba D, E, F
Proba scrisă la GEOGRAFIE
Europa-România-Uniunea Europeană

- Toate subiectele sunt obligatorii. Se acordă 10 puncte din oficiu.
- Timpul efectiv de lucru este de 3 ore.

SUBIECTUL I**30 puncte**

Harta de mai sus se referă la subiectul I A, B, C, D. Pe hartă sunt marcate state cu litere și orașe-capitală cu numere.

A. Precizați:

1. numele statelor marcate, pe hartă, cu literele **E** și **G**;
2. numele orașelor-capitală marcate pe hartă cu numerele **2** și **5**.

4 puncte

B. Scrieți pe foaia de examen, răspunsurile corecte care completează propozițiile de mai jos:

1. Orașul marcat, pe hartă, cu numărul **13** este capitala statului numit ... **2 puncte**
2. Orașul marcat, pe hartă, cu numărul **15** este traversat de râul numit ... **2 puncte**
3. Orașul marcat, pe hartă, cu numărul **1** este situat în statul numit ... **2 puncte**

C. Scrieți, pe foaia de examen, litera corespunzătoare răspunsului corect pentru fiecare dintre afirmațiile de mai jos:

1. Țara a cărei capitală este marcată, pe hartă, cu numărul **10** este delimitată la sud de:
a. Marea Baltică **b.** Marea Neagră **c.** Serbia **d.** Turcia **2 puncte**
2. Fluviul Volga traversează statul marcat, pe hartă, cu litera:
a. E **b.** F **c.** H **d.** J **2 puncte**
3. Vegetația de stepă este bine reprezentată în statul marcat, pe hartă, cu litera:
a. A **b.** B **c.** D **d.** J **2 puncte**
4. O câmpie fluvio-glaciară, presărată cu morene, se află pe teritoriul statului marcat, pe hartă, cu litera:
a. C **b.** D **c.** F **d.** H **2 puncte**
5. Viticultura ocupă spații extinse în statul marcat, pe hartă, cu litera:
a. A **b.** B **c.** E **d.** I **2 puncte**

D. Precizați trei deosebiri între **clima** statului marcat, pe hartă cu litera **A** și **clima** statului marcat cu litera **J**. **6 puncte**

Nota 1: Deosebirile se pot referi la oricare dintre următoarele elemente de **climă**: tipul de climă, etaj climatic, factori genetici, temperaturi medii anuale, precipitații medii anuale, vânturi, amplitudine termică.

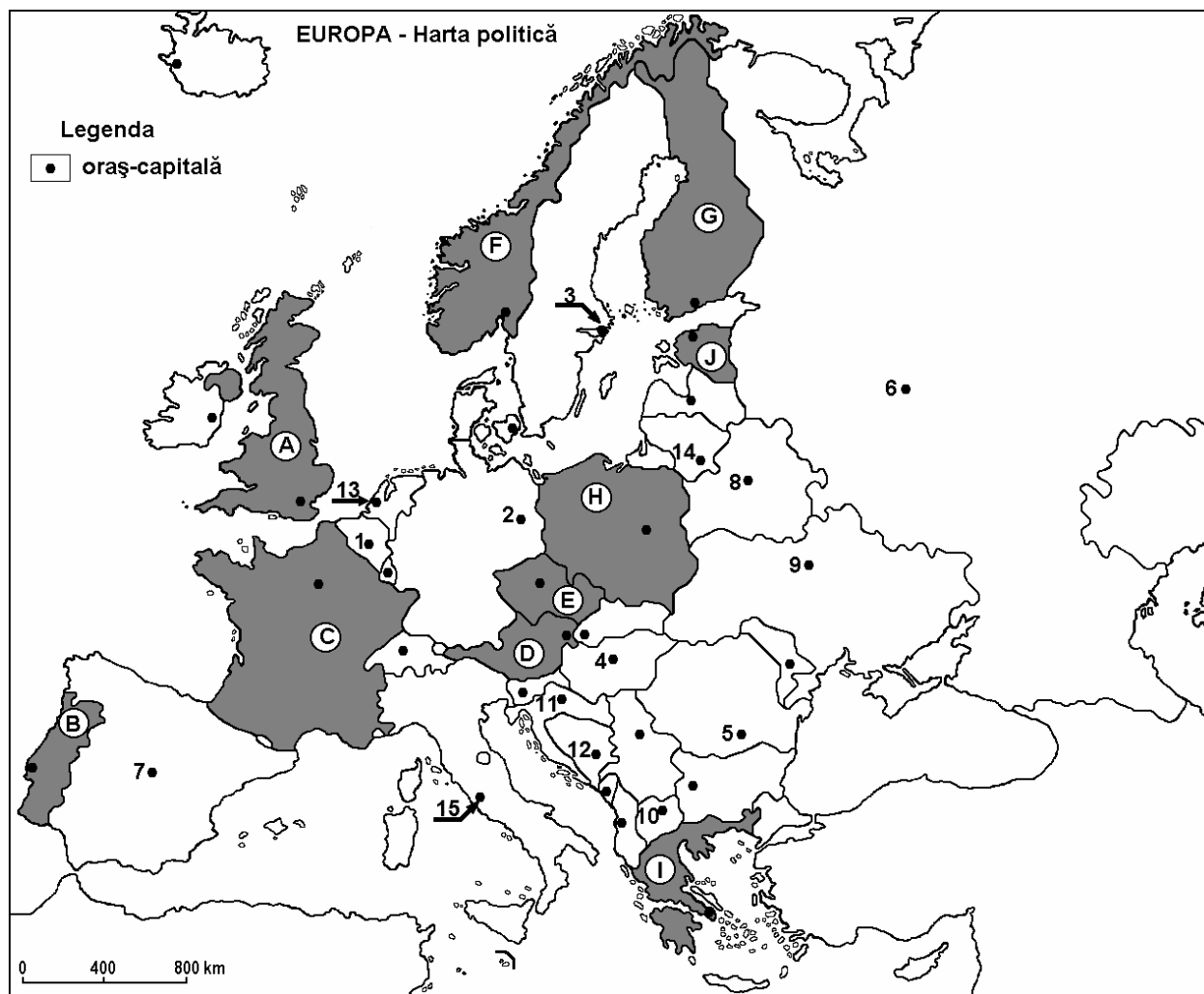
Nota 2: Punctajul complet va fi acordat numai dacă cele două unități de relief vor fi tratate comparativ și nu separat.

E. Explicați, prin două argumente, prezența circurilor și a lacurilor glaciare în Munții Alpi.

4 puncte

Examenul de bacalaureat 2008
Proba D, E, F
Proba scrisă la GEOGRAFIE
Europa-România-Uniunea Europeană

- Toate subiectele sunt obligatorii. Se acordă 10 puncte din oficiu.
- Timpul efectiv de lucru este de 3 ore.

SUBIECTUL I**30 puncte**

Harta de mai sus se referă la subiectul I A, B, C, D. Pe hartă sunt marcate state cu litere și oraș-capitală cu numere.

A. Precizați:

1. numele statelor marcate, pe hartă, cu literele **F** și **J**;
2. numele orașelor-capitală marcate, pe hartă, cu numerele **2** și **12**.

4 puncte**B. Scrieți, pe foaia de examen, răspunsurile corecte care completează propozițiile de mai jos:**

1. Munții Ural se află pe teritoriul statului a cărui capitală este marcată, pe hartă, cu numărul ...
2. Orașul-capitală marcat, pe hartă, cu numărul **8** se numește
3. Vârful Mont Blanc (de 4807 m) se află pe teritoriul statului marcat, pe hartă, cu litera ...

2puncte**2puncte****2 puncte**

C. Scrieți, pe foaia de examen, litera corespunzătoare răspunsului corect pentru fiecare dintre afirmațiile de mai jos:

1. Climatul temperat oceanic se manifestă pe teritoriul statului marcat, pe hartă, cu litera:
a. C b. D c. E d. H **2 puncte**
2. Insula Sardinia aparține statului a cărui capitală este marcată, pe hartă, cu numărul:
a. 7 b. 12 c. 13 d. 15 **2 puncte**
3. Lacul de origine tectonică Balaton se află pe teritoriul statului a cărui capitală este marcată, pe hartă, cu numărul:
a. 4 b. 6 c. 9 d. 11 **2 puncte**
4. Tundra se dezvoltă pe teritoriul statului a cărui capitală este marcată, pe hartă, cu numărul:
a. 2 b. 6 c. 10 d. 11 **2 puncte**
5. Curentul cald al Golfului se manifestă pe țărmul vestic al statului marcat, pe hartă, cu litera:
a. A b. G c. I d. J **2 puncte**

D. Precizați trei asemănări între **clima** statului marcat, pe hartă cu litera **B** și **clima** statului marcat cu litera **C**.

Nota 1: Asemănările se pot referi la oricare dintre următoarele elemente de **climă**: tipul de climă, etaj climatic, factori genetici, temperaturi medii anuale, precipitații medii anuale, vânturi, amplitudine termică.

Nota 2: Punctajul complet va fi acordat numai dacă cele două unități de relief vor fi tratate comparativ și nu separat.

6puncte

E. Explicați, aducând două argumente, transformările continue și accelerate ce au loc în mediul temperat – continental al Europei.

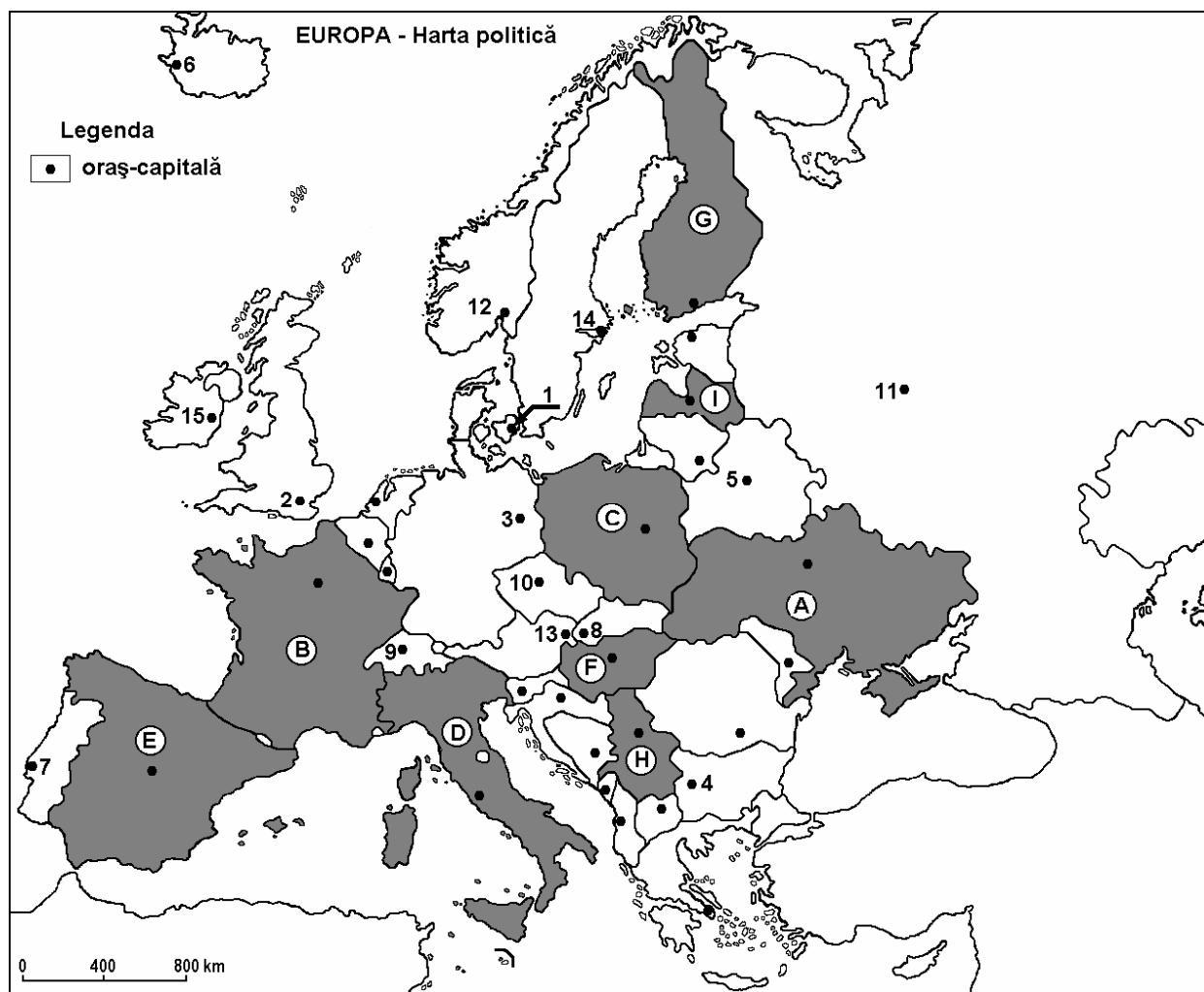
4 puncte

Examenul de bacalaureat 2008
Proba D, E, F
Proba scrisă la Geografie
Europa – România – Uniunea Europeană

- Toate subiectele sunt obligatorii. Se acordă 10 puncte din oficiu.
- Timpul efectiv de lucru este de 3 ore.

SUBIECTUL I

(30 puncte)



Harta de mai sus se referă la subiectul I A – C. Pe hartă sunt marcate state cu litere și orașe-capitală cu numere.

A. Precizați:

1. numele statului marcat, pe hartă, cu litera I;
2. numele orașelor-capitală marcate, pe hartă, cu numerele 4, 9 și 14.

4 puncte

B. Scrieți, pe foaia de examen, răspunsurile corecte care completează propozițiile de mai jos:

1. Capitala Danemarcei este orașul marcat, pe hartă, cu numărul ...
2. Vulcani activi sunt pe teritoriul țării marcate, pe hartă, cu litera ...
3. Are ieșire la Marea Neagră țara marcată, pe hartă, cu litera ...

6 puncte

C. Scrieți, pe foaia de examen, litera corespunzătoare răspunsului corect pentru fiecare dintre afirmațiile de mai jos:

1. Este traversat de fluviul Tamisa orașul capitală marcat, pe hartă, cu numărul:

a. 2	b. 12	c. 14	d. 15	2 puncte
------	-------	-------	-------	-----------------
2. Lacul Balaton se găsește pe teritoriul țării marcate, pe hartă, cu litera:

a. C	b. F	c. H	d. I	2 puncte
------	------	------	------	-----------------
3. Munții Pirinei sunt situați la granița dintre statele marcate, pe hartă, cu literele:

a. A și C	b. B și D	c. B și E	d. F și H	2 puncte
-----------	-----------	-----------	-----------	-----------------
4. Pădurile de conifere au o largă extindere pe teritoriul țării marcate, pe hartă, cu litera:

a. C	b. E	c. F	d. G	2 puncte
------	------	------	------	-----------------
5. Capitala Germaniei este orașul marcat, pe hartă, cu numărul:

a. 3	b. 10	c. 13	d. 14	2 puncte
------	-------	-------	-------	-----------------

D. Precizați două deosebiri și o asemănare între **relieful** Câmpiei Nord Europene și **relieful** Câmpiei Europei de Est.

Nota 1: Deosebirile și asemănarea se pot referi la oricare dintre următoarele aspecte ale **reliefului**: mod de formare, tipuri de roci, distribuția spațială a altitudinilor, înclinare, orientarea văilor principale, tipuri genetice de relief, alte aspecte specifice ale reliefului.

Nota 2: Punctajul complet va fi acordat numai dacă cele două deosebiri și asemănarea vor fi prezentate comparativ și nu separat. **6 puncte**

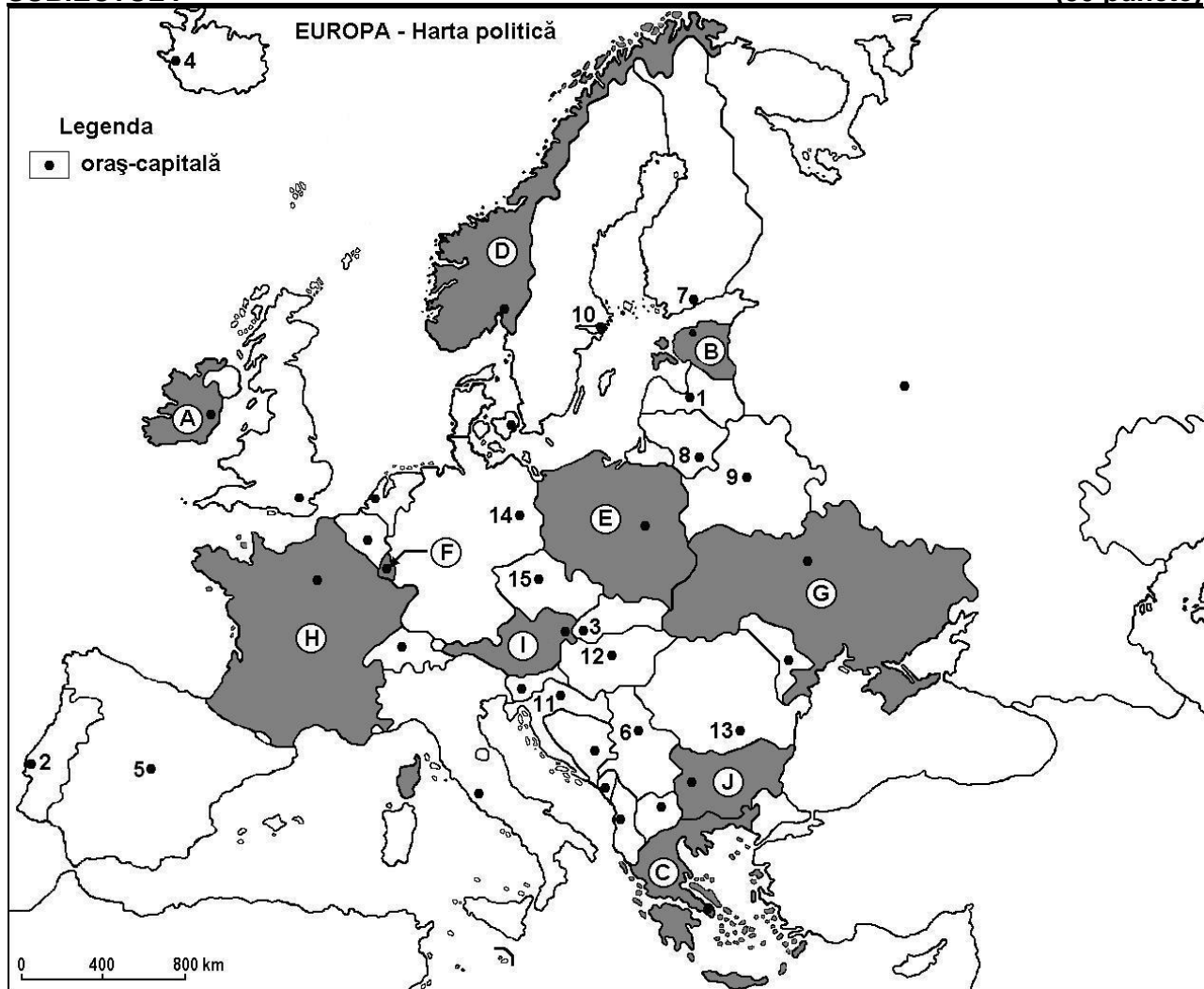
E. Prezentați două argumente care să evidențieze importanța economică a axei de navigație fluvială Rin - Main - Dunăre la nivelul continentului european. **4 puncte**

Examenul de bacalaureat 2008
Proba D, E, F
Proba scrisă la Geografie
Europa – România – Uniunea Europeană

- Toate subiectele sunt obligatorii. Se acordă 10 puncte din oficiu.
- Timpul efectiv de lucru este de 3 ore.

SUBIECTUL I

(30 puncte)



Harta de mai sus se referă la subiectul I A – E. Pe hartă sunt marcate state cu litere și oraș-capitală cu numere.

A. Precizați:

1. numele statului marcat, pe hartă, cu litera **F**;
2. numele orașelor - capitală marcate, pe hartă, cu numerele **1, 9, 11**.

4 puncte

B. Scrieți, pe foaia de examen, răspunsurile corecte care completează propozițiile de mai jos:

1. Orașul Bratislava este marcat, pe hartă, cu numărul ...
2. Statul marcat, pe hartă, cu litera **E** are ieșire la Marea ...
3. Munții Alpii Scandinaviei se află pe teritoriul statului marcat, pe hartă, cu litera ...

6 puncte

C. Scrieți, pe foaia de examen, litera corespunzătoare răspunsului corect pentru fiecare dintre afirmațiile de mai jos:

1. Are un climat predominant mediteranean statul marcat, pe hartă, cu litera:

a. A	b. C	c. F	d. G	2 puncte
------	------	------	------	-----------------
2. Sunt stăbătute de Munții Alpi statele marcate, pe hartă, cu literele:

a. D și F	b. E și F	c. E și G	d. H și I	2 puncte
-----------	-----------	-----------	-----------	-----------------
3. Stepa se întâlnește pe teritoriul statului marcat, pe hartă, cu litera:

a. A	b. D	c. E	d. G	2 puncte
------	------	------	------	-----------------
4. Capitala Islandei este orașul marcat, pe hartă, cu numărul:

a. 2	b. 4	c. 12	d. 15	2 puncte
------	------	-------	-------	-----------------
5. Capitala Finlandei este orașul marcat, pe hartă, cu numărul:

a. 7	b. 8	c. 10	d. 14	2 puncte
------	------	-------	-------	-----------------

D. Precizați o asemănare și două deosebiri între **clima** statului marcat, pe hartă, cu litera **A** și **clima** statului marcat pe hartă cu litera **D**.

Nota 1: Deosebirile și asemănarea se pot referi la oricare dintre următoarele elemente de **climă**: temperaturi medii anuale, precipitații medii anuale, vânturi cu frecvență ridicată, tip de climă specific.

Nota 2: Punctajul complet va fi acordat numai dacă asemănarea și deosebirile vor fi prezentate comparativ și nu separat. **6 puncte**

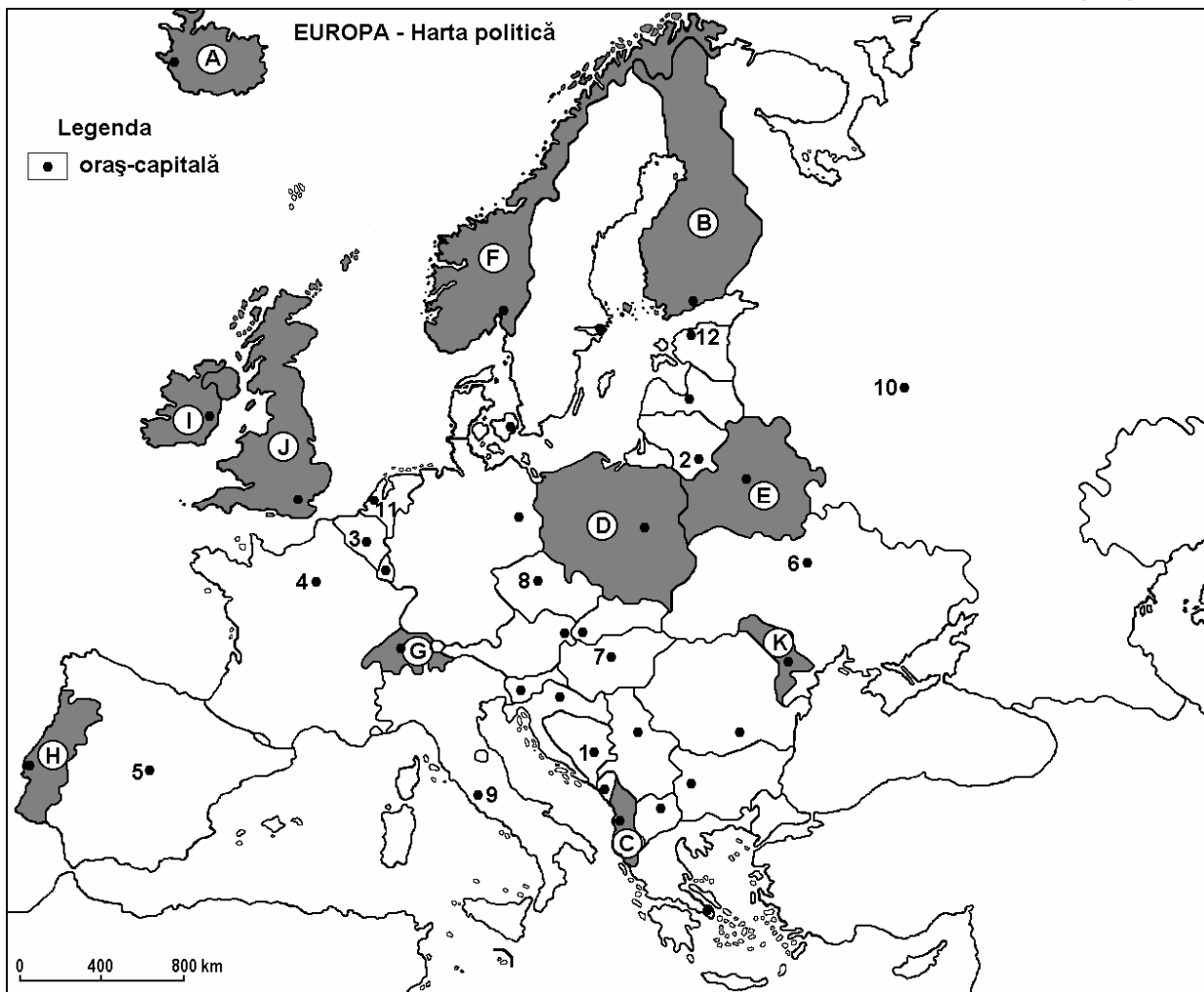
E. Precizați doi factori care explică diversitatea valorilor bilanțului radiativ în statul marcat, pe hartă, cu litera **H**. **4 puncte**

Examenul de bacalaureat 2008
Proba D, E, F
Proba scrisă la Geografie
Europa – România – Uniunea Europeană

- Toate subiectele sunt obligatorii. Se acordă 10 puncte din oficiu.
- Timpul efectiv de lucru este de 3 ore.

SUBIECTUL I

(30 puncte)



Harta de mai sus se referă la subiectul I A – C. Pe hartă sunt marcate state cu litere și orașe-capitală cu numere.

A. Precizați:

1. numele statului marcat, pe hartă, cu litera I;
2. numele orașelor-capitală marcate, pe hartă, cu numerele 2, 3, 8.

4 puncte

B. Scrieți, pe foaia de examen, răspunsurile corecte care completează propozițiile de mai jos:

1. Relief vulcanic se află pe teritoriul statului marcat, pe hartă, cu litera ...
2. Are ieșire la Marea Mediterană statul marcat, pe hartă, cu litera ...
3. Este străbătut de fluviul Dunărea orașul capitală marcat, pe hartă, cu numărul ...

6 puncte

C. Scrieți, pe foaia de examen, litera corespunzătoare răspunsului corect pentru fiecare dintre afirmațiile de mai jos:

1. Un important bazin carbonifer se află pe teritoriul statului marcat, pe hartă, cu litera:

a. D	b. F	c. H	d. K	2 puncte
------	------	------	------	-----------------
2. Hidroenergia este bine valorificată (100% producția de energie electrică) de statul marcat, pe hartă, cu litera:

a. B	b. E	c. F	d. J	2 puncte
------	------	------	------	-----------------
3. Orașul cu cel mai mare număr de locuitori din Europa este marcat, pe hartă, cu numărul:

a. 3	b. 5	c. 6	d. 10	2 puncte
------	------	------	-------	-----------------
4. Ghețari montani se întâlnesc pe teritoriul statului marcat, pe hartă, cu litera:

a. D	b. G	c. I	d. J	2 puncte
------	------	------	------	-----------------
5. Fluviul Tibru străbate orașul marcat, pe hartă, cu numărul:

a. 1	b. 7	c. 8	d. 9	2 puncte
------	------	------	------	-----------------

D. Precizați două deosebiri și o asemănare între **relieful** Munților Alpi și **relieful** Munților Alpii Scandinaviei.

Nota 1: Deosebirile și asemănarea se pot referi la oricare dintre următoarele aspecte ale **reliefului**: mod de formare, tipuri de roci, distribuția spațială a altitudinilor, gradul de fragmentare, orientarea culmilor și a văilor principale, tipuri genetice de relief, alte aspecte specifice ale reliefului.

Nota 2: Punctajul complet va fi acordat numai dacă cele două deosebiri și asemănarea vor fi prezentate comparativ și nu separat. **6 puncte**

E. Precizați doi factori care explică diversitatea învelișului biopedogeografic din Europa.

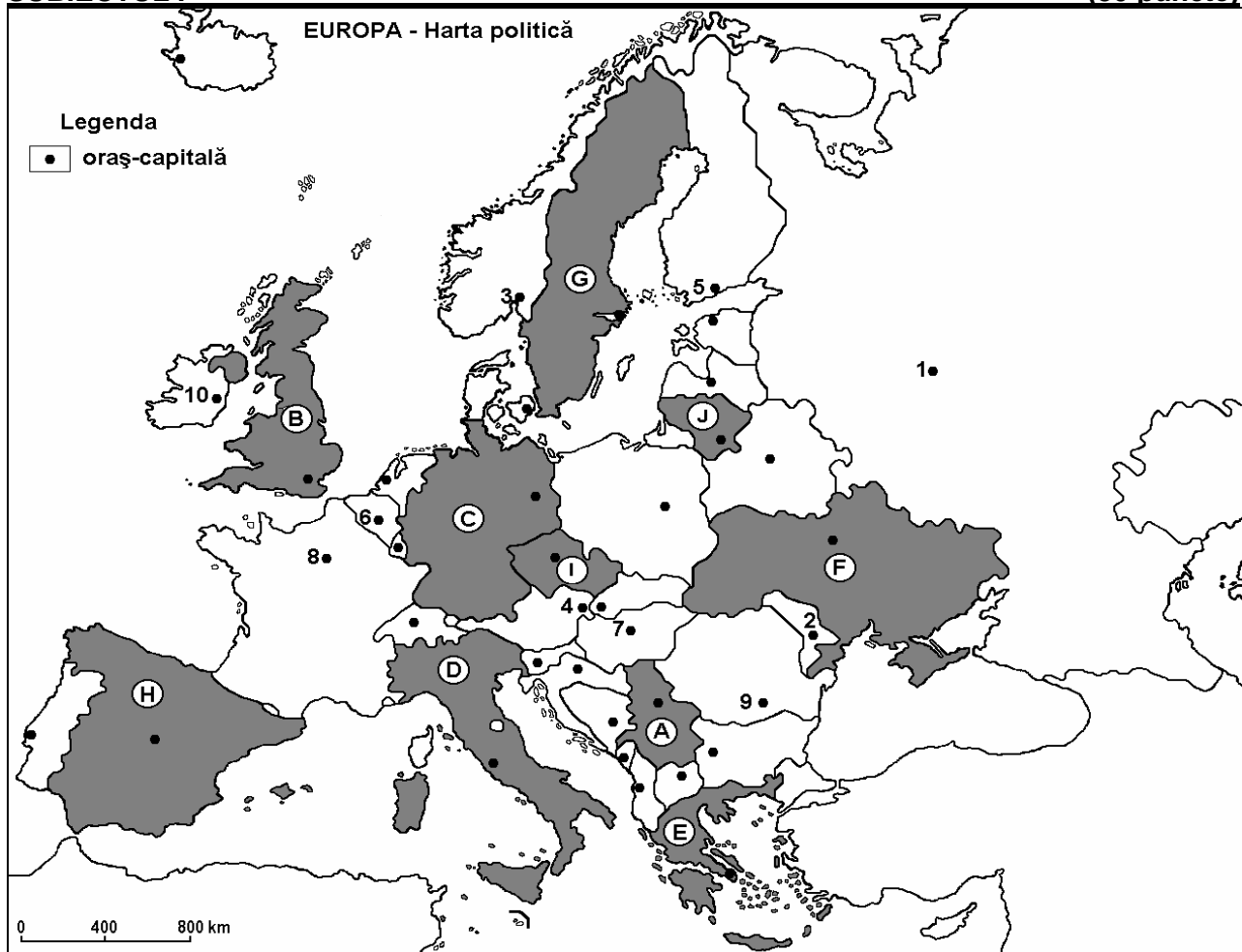
4 puncte

Examenul de bacalaureat 2008
Proba D, E, F
Proba scrisă la Geografie
Europa – România – Uniunea Europeană

- Toate subiectele sunt obligatorii. Se acordă 10 puncte din oficiu.
- Timpul efectiv de lucru este de 3 ore.

SUBIECTUL I

(30 puncte)



Harta de mai sus se referă la subiectul I A – C. Pe hartă sunt marcate state cu litere și orașe – capitală cu numere de la 1 la 10.

A. Precizați:

1. numele statelor marcate, pe hartă, cu literele **D** și **I**;
2. numele orașelor – capitală marcate, pe hartă, cu numerele **4** și **6**.

4 puncte

B. Scrieți, pe foaia de examen, răspunsurile corecte care completează propozițiile de mai jos:

1. Orașul marcat, pe hartă, cu numărul **7** se numește...
2. Statul marcat, pe hartă, cu litera **J** se numește...
3. Capitala statului marcat, pe hartă, cu litera **C** se numește...

6 puncte

C. Scrieți, pe foaia de examen, litera corespunzătoare răspunsului corect pentru fiecare dintre afirmațiile de mai jos:

1. Statul care ocupă cea mai mare parte din Peninsula Iberică este marcat, pe hartă, cu litera:

a. A	b. C	c. D	d. H	2 puncte
------	------	------	------	-----------------
2. Capitala statului marcat, pe hartă, cu litera **B**, este orașul denumit:

a. Londra	b. Madrid	c. Paris	d. Roma	2 puncte
-----------	-----------	----------	---------	-----------------
3. Vegetație de tip mediteranean se află pe teritoriul statului marcat, pe hartă, cu litera:

a. C	b. E	c. F	d. G	2 puncte
------	------	------	------	-----------------
4. Orașul marcat, pe hartă, cu numărul **10** este capitala statului:

a. Irlanda	b. Islanda	c. Marea Britanie	d. Olanda	2 puncte
------------	------------	-------------------	-----------	-----------------
5. Statul marcat, pe hartă, cu litera **G** se învecinează la vest cu:

a. Belarus	b. Danemarca	c. Finlanda	d. Norvegia	2 puncte
------------	--------------	-------------	-------------	-----------------

D. Precizați trei deosebiri între **clima** Italiei și **clima** Regatului Unit al Marii Britanii.

Nota 1: Deosebirile se pot referi la oricare dintre următoarele elemente de **climă**: tipul de climă, temperaturi medii anuale, precipitații medii anuale, vânturi, amplitudine termică.

Nota 2: Punctajul complet va fi acordat numai dacă cele trei deosebiri vor fi prezentate comparativ și nu separat.

6 puncte

E. Explicați prezența zonei de stepă și silvostepă din Europa de Est.

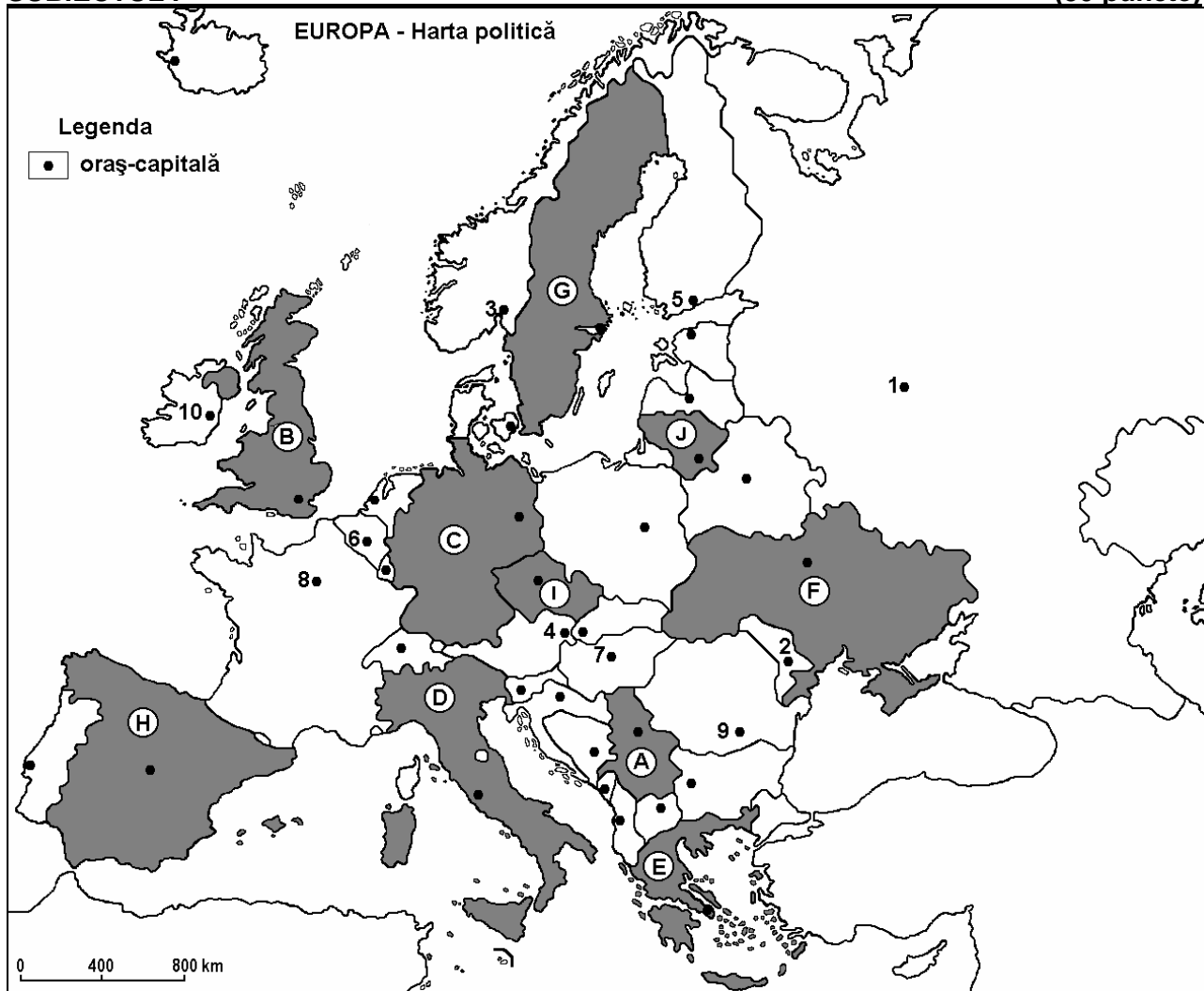
4 puncte

Examenul de bacalaureat 2008
Proba D, E, F
Proba scrisă la Geografie
Europa – România – Uniunea Europeană

- Toate subiectele sunt obligatorii. Se acordă 10 puncte din oficiu.
- Timpul efectiv de lucru este de 3 ore.

SUBIECTUL I

(30 puncte)



Harta de mai sus se referă la subiectul I A - C. Pe hartă sunt marcate state cu litere și orașe – capitală cu numere de la 1 la 10.

A. Precizați:

1. numele statelor marcate, pe hartă, cu literele **B** și **C**;
2. numele orașelor – capitală marcate, pe hartă, cu numerele **4** și **5**.

4 puncte

B. Scrieți, pe foaia de examen, răspunsurile corecte care completează propozițiile de mai jos:

1. Orașul marcat, pe hartă, cu numărul **8** este capitala statului denumit...
2. Statul marcat, pe hartă, cu litera **J** are ieșire la Marea...
3. Statul marcat, pe hartă, cu litera **G** se numește...

6 puncte

C. Scrieți, pe foaia de examen, litera corespunzătoare răspunsului corect pentru fiecare dintre afirmațiile de mai jos:

1. Câmpia Padului se află pe teritoriul statului marcat, pe hartă, cu litera:

a. A	b. B	c. D	d. E	2 puncte
------	------	------	------	-----------------
2. Statul marcat, pe hartă, cu litera **G** se învecinează în partea de est cu statul numit:

a. Danemarca	b. Finlanda	c. Norvegia	d. Polonia	2 puncte
--------------	-------------	-------------	------------	-----------------
3. De pe teritoriul statului marcat, pe hartă, cu litera **C** izvorăște fluviul:

a. Don	b. Dunăre	c. Rin	d. Volga	2 puncte
--------	-----------	--------	----------	-----------------
4. Orașul – capitală Moscova este marcat, pe hartă, cu numărul:

a. 1	b. 3	c. 4	d. 6	2 puncte
------	------	------	------	-----------------
5. Statului marcat, pe hartă, cu litera **E** îi aparține insula:

a. Corsica	b. Creta	c. Sardinia	d. Sicilia	2 puncte
------------	----------	-------------	------------	-----------------

D. Precizați două deosebiri și o asemănare între **relieful** Munților Scandinaviei (Alpilor Scandinaviei) și **relieful** Alpilor Dinarici.

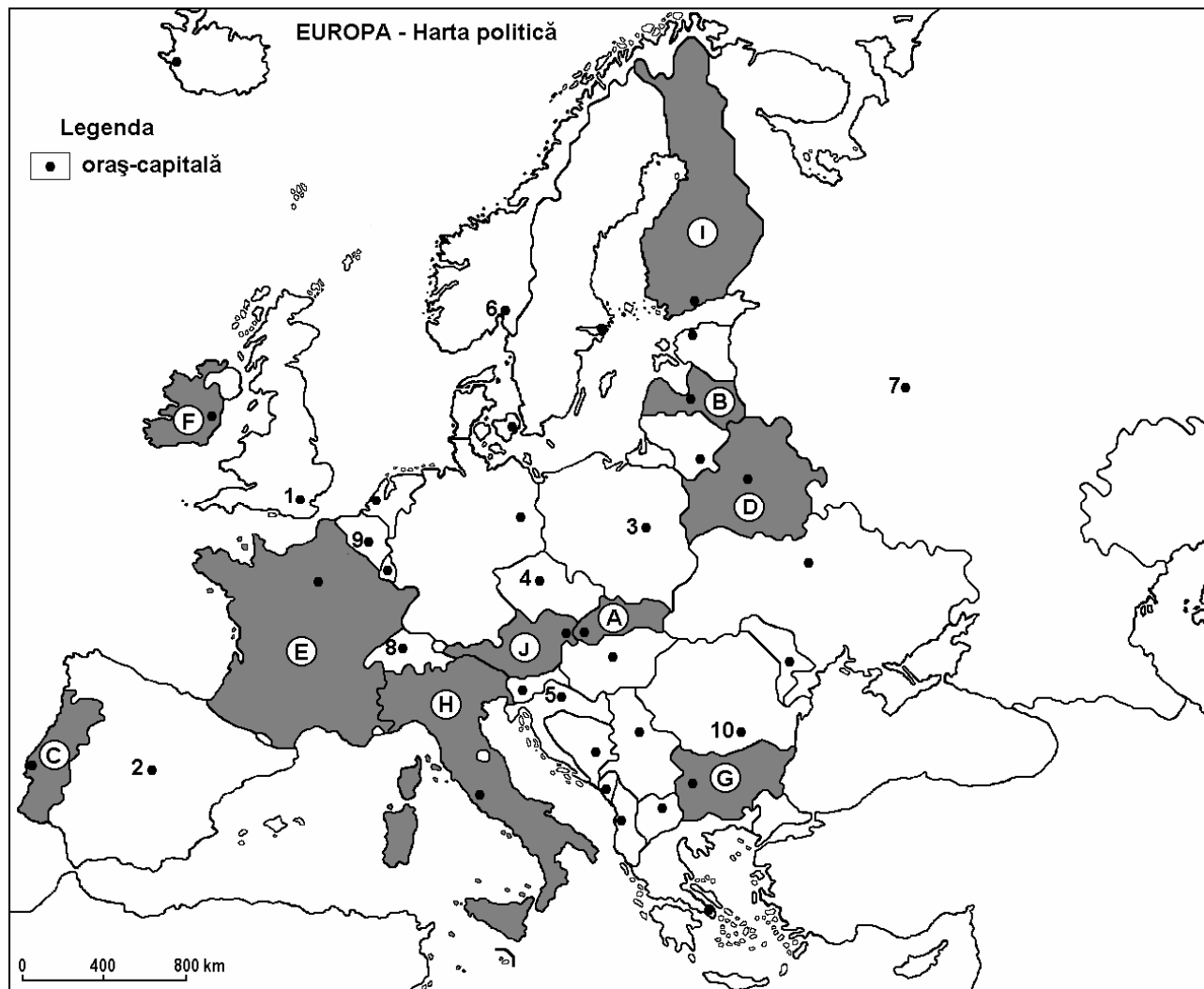
Nota 1: Deosebirile și asemănarea se pot referi la oricare dintre următoarele aspecte ale **reliefului**: mod de formare, tipuri de roci, distribuția spațială a altitudinilor, gradul de fragmentare, orientarea culmilor și a văilor principale, tipuri genetice de relief, alte aspecte specifice ale reliefului.

Nota 2: Punctajul complet va fi acordat numai dacă cele două deosebiri și asemănarea, vor fi prezentate comparativ și nu separat. **6 puncte**

E. Precizați două cauze care să explice diferențele mari de temperatură, care se înregistrează în cadrul climatului temperat – continental al Europei. **4 puncte**

Examenul de bacalaureat 2008
Proba D, E, F
Proba scrisă la Geografie
Europa – România – Uniunea Europeană

- Toate subiectele sunt obligatorii. Se acordă 10 puncte din oficiu.
- Timpul efectiv de lucru este de 3 ore.

SUBIECTUL I**(30 puncte)**

Harta de mai sus se referă la subiectul I A – C. Pe hartă sunt marcate state cu litere și orașe –capitală cu numere de la 1 la 10.

A. Precizați:

1. numele statelor marcate, pe hartă, cu numerele **A** și **C**;
2. numele orașelor – capitală marcate, pe hartă, cu numerele **1** și **3**.

4 puncte**B. Scrieți, pe foaia de examen, răspunsurile corecte care completează propozițiile de mai jos:**

1. Statul marcat, pe hartă, cu litera **B** are ieșire la Marea ...
2. Orașul marcat, pe hartă, cu numărul **7** este capitala statului numit ...
3. Statul marcat, pe hartă, cu litera **C** se învecinează la est cu statul numit ...

6 puncte

C. Scrieți, pe foaia de examen, litera corespunzătoare răspunsului corect pentru fiecare dintre afirmațiile de mai jos:

1 Orașul Minsk este capitala statului marcat, pe hartă, cu litera:

a. C b. D c. F d. I **2 puncte**

2. Orașul marcat, pe hartă, cu numărul 4 este capitala statului:

a. Austria b. Cehia c. Croația d. Slovacia **2 puncte**

3. Capitala statului marcat, pe hartă, cu litera F se numește:

a. Dublin b. Londra c. Paris d. Stockholm **2 puncte**

4. Statul marcat, pe hartă, cu litera I este situat în Peninsula:

a. Balcanică b. Iberică c. Italică d. Scandinavică **2 puncte**

5. Insulele Sardinia și Sicilia aparțin statului marcat, pe hartă, cu litera:

a. C b. E c. F d. H **2 puncte**

D. Precizați trei deosebiri între **clima** Europei Sudice (Mediterraneene) și **clima** Europei de Vest (Atlantice).

Nota 1: Deosebirile se pot referi la oricare dintre următoarele elemente de **climă**: tipul de climă, temperaturi medii anuale, precipitații medii anuale, vânturi, amplitudine termică.

Nota 2: Punctajul complet va fi acordat numai dacă cele trei deosebiri vor fi prezentate comparativ și nu separat.

6 puncte

E. Precizați două cauze care să explice diferențele mici de temperatură dintre vară și iarnă din cadrul climatului temperat – oceanic.

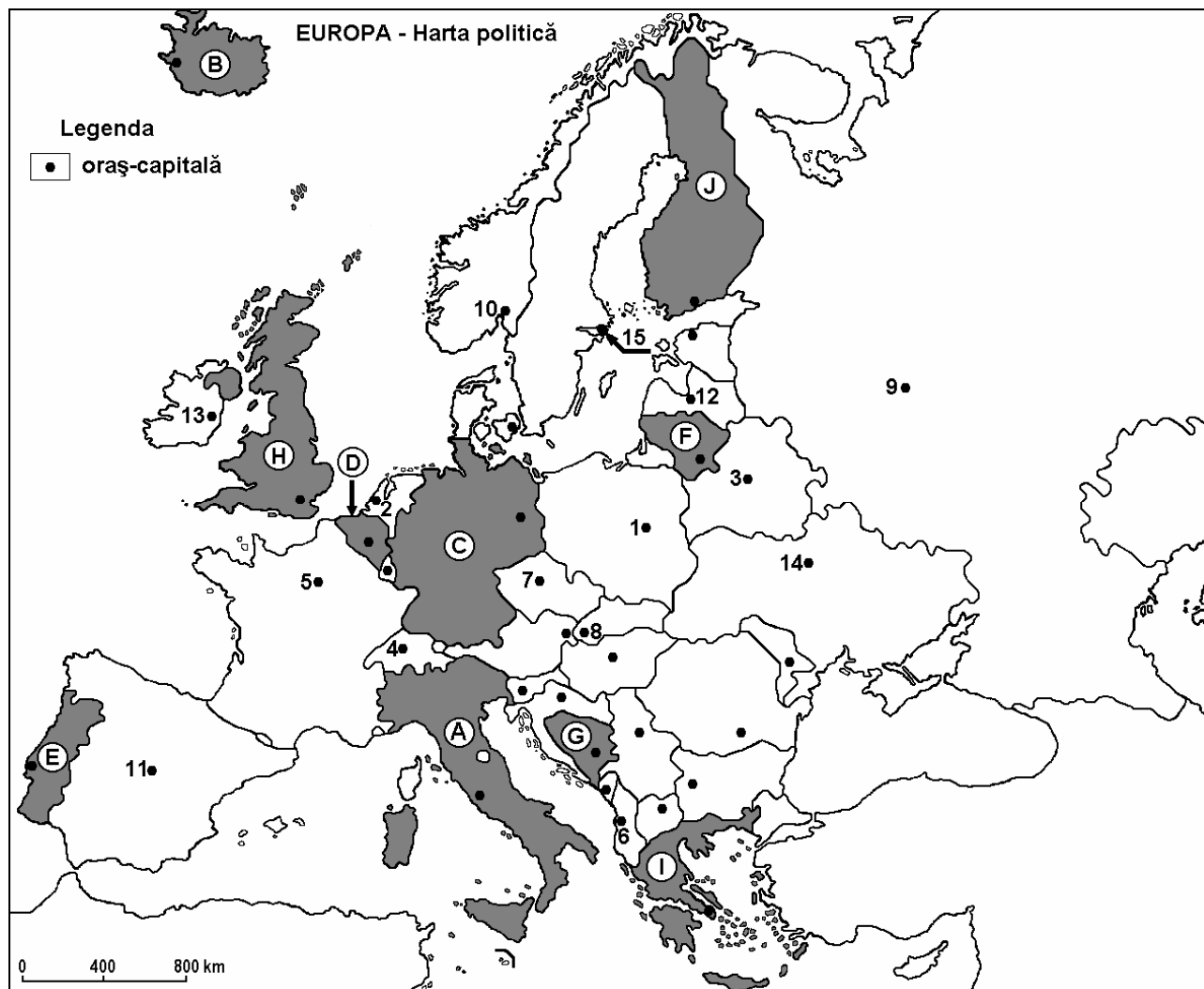
4 puncte

Examenul de bacalaureat 2008
Proba D, E, F
Proba scrisă la GEOGRAFIE
Europa–România–Uniunea Europeană

- Toate subiectele sunt obligatorii. Se acordă 10 puncte din oficiu.
- Timpul efectiv de lucru este de 3 ore.

SUBIECTUL I

(30 puncte)



Harta de mai sus se referă la subiectul I A – C. Pe hartă sunt marcate state cu litere și orașe – capitală cu numere.

A. Precizați:

1. numele statelor marcate, pe hartă, cu literele F și I;
2. numele orașelor-capitală marcate, pe hartă, cu numerele 3 și 7.

4 puncte

B. Scrieți, pe foaia de examen, răspunsurile corecte care completează propozițiile de mai jos:

1. Este capitala Slovaciei orașul marcat, pe hartă, cu numărul ...
2. Gibraltar este teritoriu dependent de statul marcat, pe hartă, cu litera ...
3. Capul Roca, extremitatea vestică a Europei, este localizat în statul marcat, pe hartă, cu litera ...

6 puncte

C. Scrieți, pe foaia de examen, litera corespunzătoare răspunsului corect pentru fiecare dintre afirmațiile de mai jos:

1. Este denumită „Orașul de pe Șapte Coline” capitala statului marcat, pe hartă, cu litera:

a. A	b. C	c. D	d. I	2 puncte
------	------	------	------	-----------------
2. Vegetație de tundră există în statul marcat, pe hartă, cu litera:

a. B	b. G	c. H	d. I	2 puncte
------	------	------	------	-----------------
3. Sunt localizate în regiunea geografică Europa Centrală, orașele marcate, pe hartă, cu numerele:

a. 1 și 4	b. 3 și 13	c. 5 și 14	d. 6 și 7	2 puncte
-----------	------------	------------	-----------	-----------------
4. Munții Harz sunt localizați în statul marcat, pe hartă, cu litera:

a. B	b. C	c. H	d. I	2 puncte
------	------	------	------	-----------------
5. Sunt capitale ale unor state – monarhii constituționale, orașele marcate, pe hartă, cu numerele:

a. 1 și 4	b. 2 și 7	c. 10 și 11	d. 13 și 15	2 puncte
-----------	-----------	-------------	-------------	-----------------

D. Precizați o asemănare și două deosebiri între relieful Munților Alpii Scandinaviei și relieful Munților Alpii Dinarici.

Nota 1: Asemănarea și deosebirile se pot referi la oricare dintre următoarele aspecte ale reliefului: mod de formare, tipuri de roci pe care s-a format relieful, altitudini, fragmentare, tipuri genetice de relief, orogeneză.

Nota 2: Punctajul complet va fi acordat numai dacă asemănarea și cele două deosebiri vor fi prezentate comparativ și nu separat.

6 puncte

E. Prezentați două argumente prin care să susțineți următoarea afirmație: „Strâmtoarea Bosfor are un rol important în dinamica și calitatea apelor Mării Negre”.

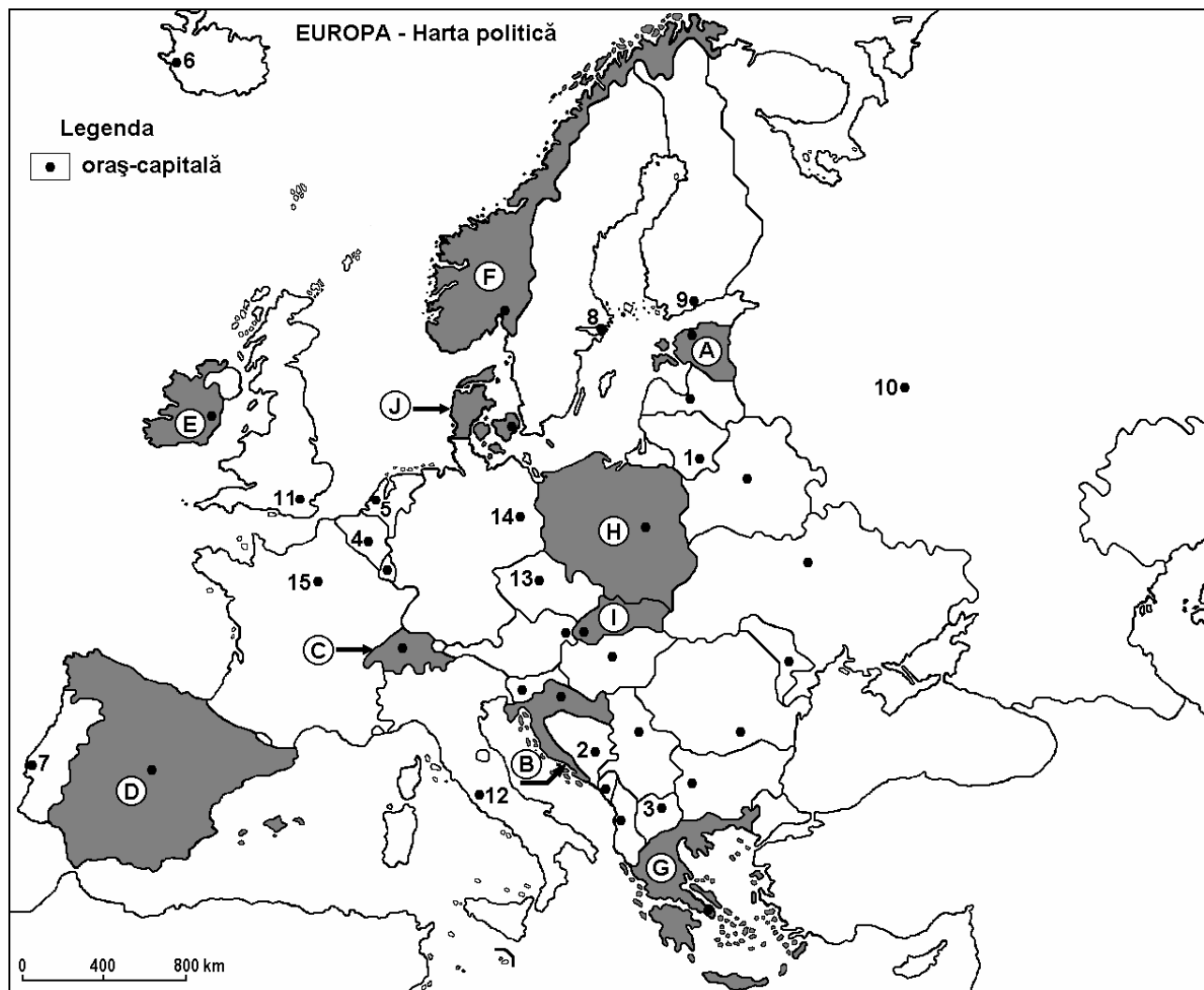
4 puncte

Examenul de bacalaureat 2008
Proba D, E, F
Proba scrisă la GEOGRAFIE
Europa–România–Uniunea Europeană

- Toate subiectele sunt obligatorii. Se acordă 10 puncte din oficiu.
- Timpul efectiv de lucru este de 3 ore.

SUBIECTUL I

(30 puncte)



Harta de mai sus se referă la subiectul I A – C. Pe hartă sunt marcate state cu litere și orașe – capitală cu numere.

A. Precizați:

1. numele statelor marcate, pe hartă, cu literele **C** și **H**;
2. numele orașelor - capitală marcate, pe hartă, cu numerele **1** și **4**.

4 puncte

B. Scrieți, pe foaia de examen, răspunsurile corecte care completează propozițiile de mai jos:

1. Este străbătut de fluviul Sena, orașul marcat, pe hartă, cu numărul ...
2. Munții Pindului sunt localizați în vestul statului marcat, pe hartă, cu litera ...
3. Portul maritim Copenhaga este localizat în statul marcat, pe hartă, cu litera ...

6 puncte

C. Scrieți, pe foaia de examen, litera corespunzătoare răspunsului corect pentru fiecare dintre afirmațiile de mai jos:

1. Este capitala unui stat – monarhie constituțională orașul marcat, pe hartă, cu numărul:

a. 3	b. 7	c. 8	d. 13	2 puncte
------	------	------	-------	-----------------
2. Insulele Baleare aparțin statului marcat, pe hartă, cu litera:

a. A	b. D	c. F	d. H	2 puncte
------	------	------	------	-----------------
3. Țărm de tip dalmatic, există în vestul statului marcat, pe hartă, cu litera:

a. A	b. B	c. E	d. J	2 puncte
------	------	------	------	-----------------
4. Sunt localizate în climatul oceanic, orașele marcate, pe hartă, cu numerele:

a. 4 și 13	b. 5 și 11	c. 7 și 10	d. 12 și 15	2 puncte
------------	------------	------------	-------------	-----------------
5. Resurse hidrologice mari și un grad ridicat de utilizare a hidroenergiei (aprox. 100%) le înregistrează statul marcat, pe hartă, cu litera:

a. A	b. B	c. D	d. F	2 puncte
------	------	------	------	-----------------

D. Precizați trei deosebiri între **relieful** Munților Apenini și **relieful** Munților Penini.

Nota 1: Deosebirile se pot referi la oricare dintre următoarele aspecte ale **reliefului**: mod de formare, tipuri de roci pe care s-a format relieful, altitudini, fragmentare, tipuri de relief, orogeneză.

Nota 2: Punctajul complet va fi acordat numai dacă cele trei deosebiri vor fi prezentate comparativ și nu separat.

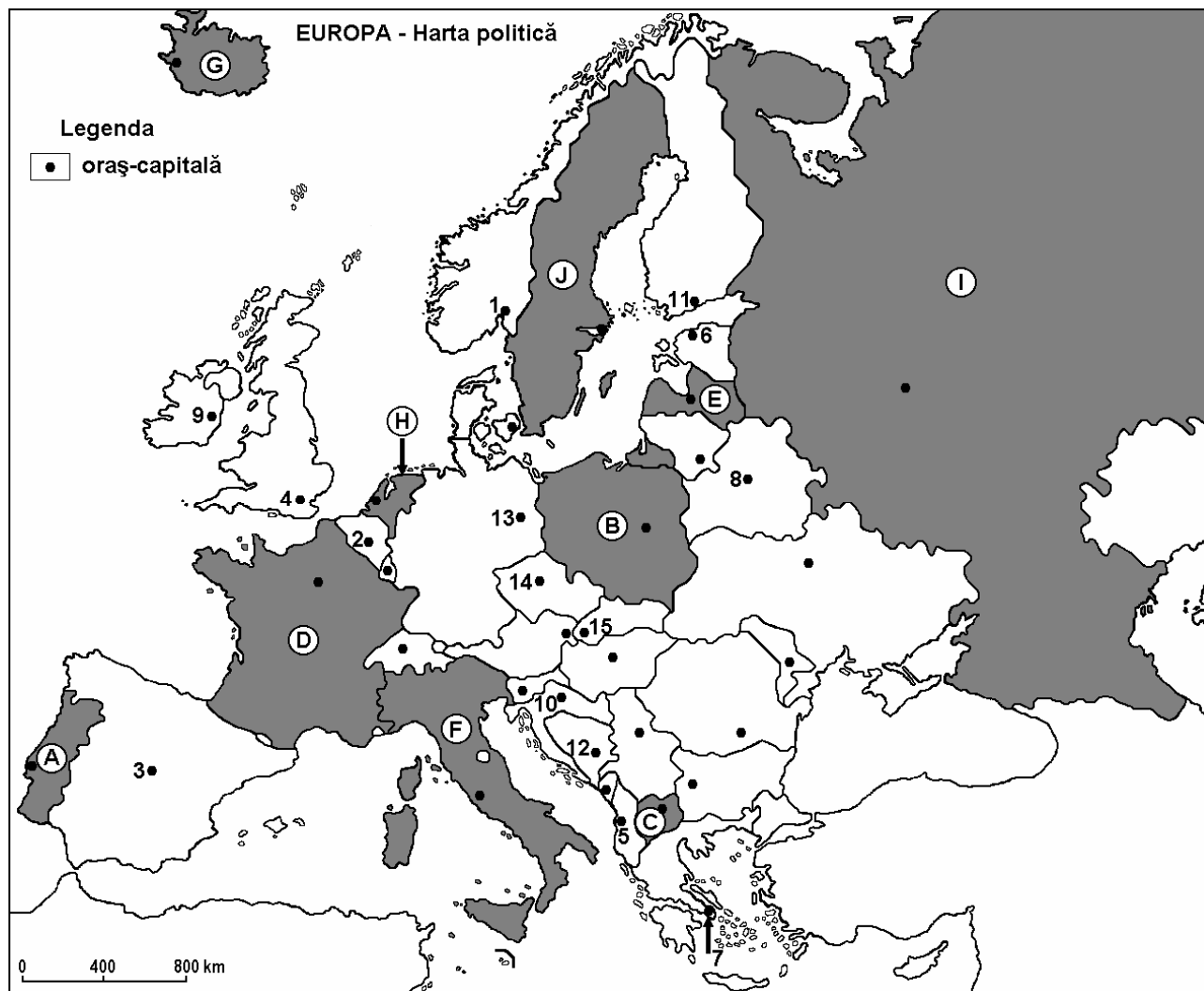
6 puncte

E. Prezentați două argumente prin care să susțineți afirmația: „Moscova este unul dintre cele mai mari centre de transport ale lumii.”

4 puncte

Examenul de bacalaureat 2008
Proba D, E, F
Proba scrisă la GEOGRAFIE
Europa–România–Uniunea Europeană

- Toate subiectele sunt obligatorii. Se acordă 10 puncte din oficiu.
- Timpul efectiv de lucru este de 3 ore.

SUBIECTUL I**(30 puncte)**

Harta de mai sus se referă la subiectul I A – C. Pe hartă sunt marcate state cu litere și orașe – capitală cu numere.

A. Precizați:

1. numele statelor marcate, pe hartă, cu literele **C** și **J**;
2. numele orașelor - capitală marcate, pe hartă, cu numerele **10** și **14**.

4 puncte**B. Scrieți, pe foaia de examen, răspunsurile corecte care completează propozițiile de mai jos:**

1. Orașele marcate, pe hartă, cu numerele **4** și **9** sunt localizate în tipul climatic ...
2. Lacurile glaciare Ladoga și Onega sunt localizate în statul marcat, pe hartă, cu litera ...
3. Capitala Uniunii Europene și Sediul NATO se află în orașul marcat, pe hartă, cu numărul ...

6 puncte

C. Scrieți, pe foaia de examen, litera corespunzătoare răspunsului corect pentru fiecare dintre afirmațiile de mai jos:

1. Orașul – port Rotterdam se află în statul marcat, pe hartă, cu litera:
a. A b. D c. E d. H **2 puncte**
2. Insula Sardinia aparține statului marcat, pe hartă, cu litera:
a. A b. D c. F d. H **2 puncte**
3. Este capitala unui stat – monarhie constituțională orașul marcat, pe hartă, numărul:
a. 3 b. 7 c. 11 d. 15 **2 puncte**
4. Vegetația arbustivă de tip maquis apare în statul marcat, pe hartă, cu litera:
a. B b. D c. H d. J **2 puncte**
5. Bazinul carbonifer Silezia este localizat în statul marcat, pe hartă, cu litera:
a. B b. D c. I d. J **2 puncte**

D. Precizați trei asemănări între **relieful** Munților Alpi și **relieful** Munților Pirinei.

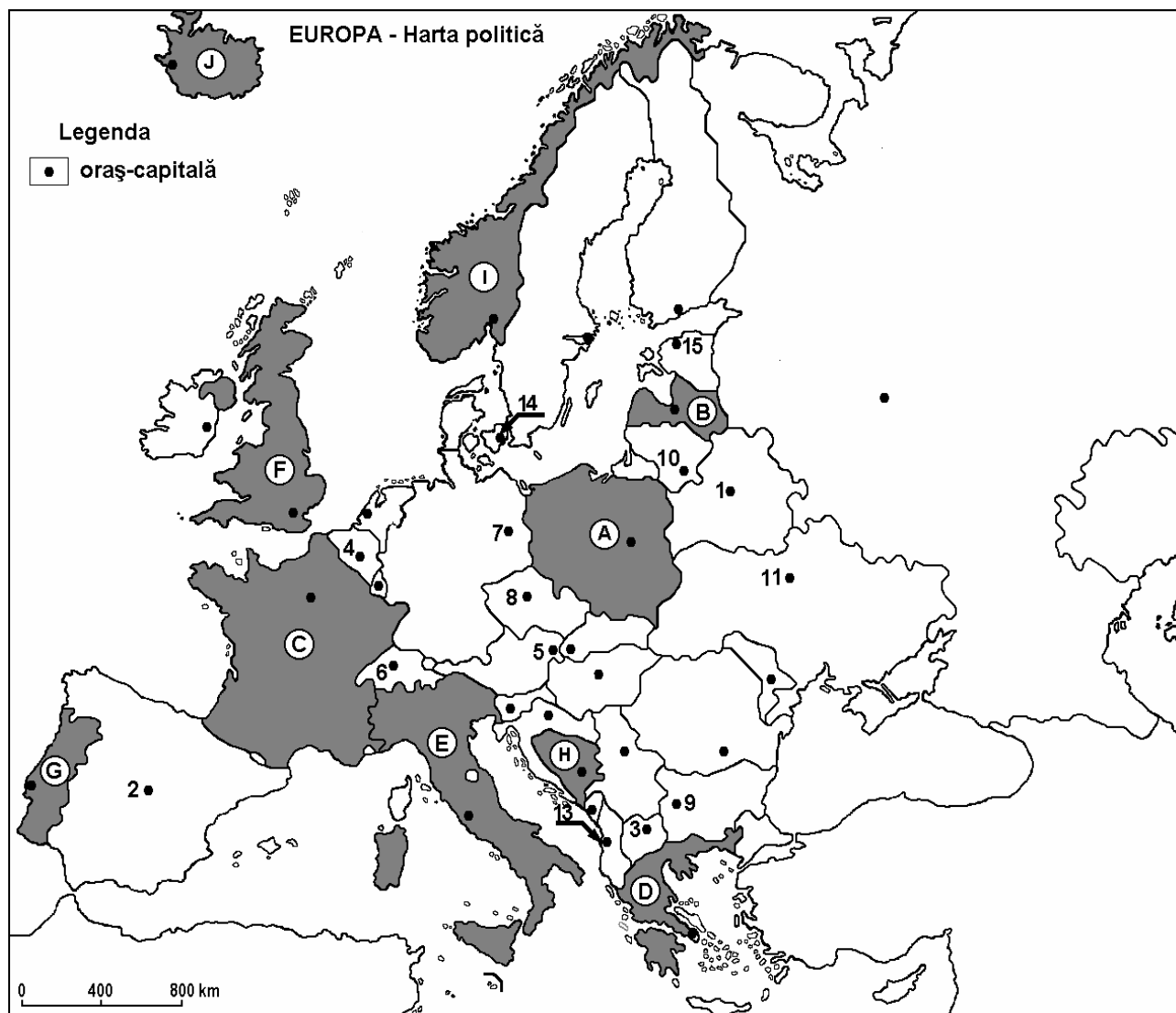
Nota 1: Asemănările se pot referi la oricare dintre următoarele aspecte ale **reliefului**: mod de formare, tipuri de roci pe care s-a format relieful, altitudini, fragmentare, tipuri de relief, orogeneză.

Nota 2: Punctajul complet va fi acordat numai dacă cele trei asemănări vor fi prezentate comparativ și nu separat. **6 puncte**

E. Prezentați două argumente prin care să susțineți afirmația: „Londra este unul din cele mai mari noduri de transport de pe Glob.” **4 puncte**

Examenul de bacalaureat 2008
Proba D, E, F
Proba scrisă la GEOGRAFIE
Europa–România–Uniunea Europeană

- Toate subiectele sunt obligatorii. Se acordă 10 puncte din oficiu.
- Timpul efectiv de lucru este de 3 ore.

SUBIECTUL I**(30 puncte)**

Harta de mai sus se referă la subiectul I A și B. Pe hartă sunt marcate state cu litere și oraș-capitală cu numere.

A. Precizați:

1. numele statelor marcate, pe hartă, cu literele **B** și **I**;
2. numele orașelor-capitală marcate, pe hartă, cu literele **5** și **9**.

4 puncte**B. Scrieți, pe foaia de examen, răspunsurile corecte care completează propozițiile de mai jos:**

1. Orașul Skopje este marcat, pe hartă, cu numărul ...
2. Sediul Comisiei Europene se află în orașul marcat, pe hartă, cu numărul ...
3. Fluviul Pad (Po) curge pe teritoriul statului marcat, pe hartă, cu litera ...

6 puncte

C. Scrieți, pe foaia de examen, litera corespunzătoare răspunsului corect pentru fiecare dintre afirmațiile de mai jos:

1. S-a format în orogeneza caledoniană unitatea de relief:

a. Alpii Scandinaviei	b. Masivul Central Francez	
c. Meseta Spaniolă	d. Munții Apenini	2 puncte
2. În Marea Baltică se varsă:

a. Peciora	b. Rhin	c. Sena	d. Vistula	2 puncte
-------------------	----------------	----------------	-------------------	-----------------
3. Capitala Republicii Moldova se numește:

a. Chișinău	b. Kiev	c. Minsk	d. Varșovia	2 puncte
--------------------	----------------	-----------------	--------------------	-----------------
4. Polonia a aderat la Uniunea Europeană în anul:

a. 2000	b. 2002	c. 2004	d. 2007	2 puncte
----------------	----------------	----------------	----------------	-----------------
5. Fluviul european cu cel mai mare trafic anual de mărfuri este:

a. Dunărea	b. Rhin	c. Tamisa	d. Volga	2 puncte
-------------------	----------------	------------------	-----------------	-----------------

D. Precizați două deosebiri și o asemănare între **relieful** Munților Alpi și **relieful** Munților Caucaz. *Deosebirile și asemănarea se pot referi la oricare dintre următoarele aspecte ale reliefului: mod de formare, tipuri de roci pe care s-a format relieful, distribuția spațială a altitudinilor, gradul de fragmentare, orientarea culmilor și a văilor principale, tipuri genetice de relief, alte aspecte specifice ale reliefului.*

Notă: Punctajul complet va fi acordat numai dacă cele două deosebiri și asemănarea vor fi prezentate comparativ și nu separat.

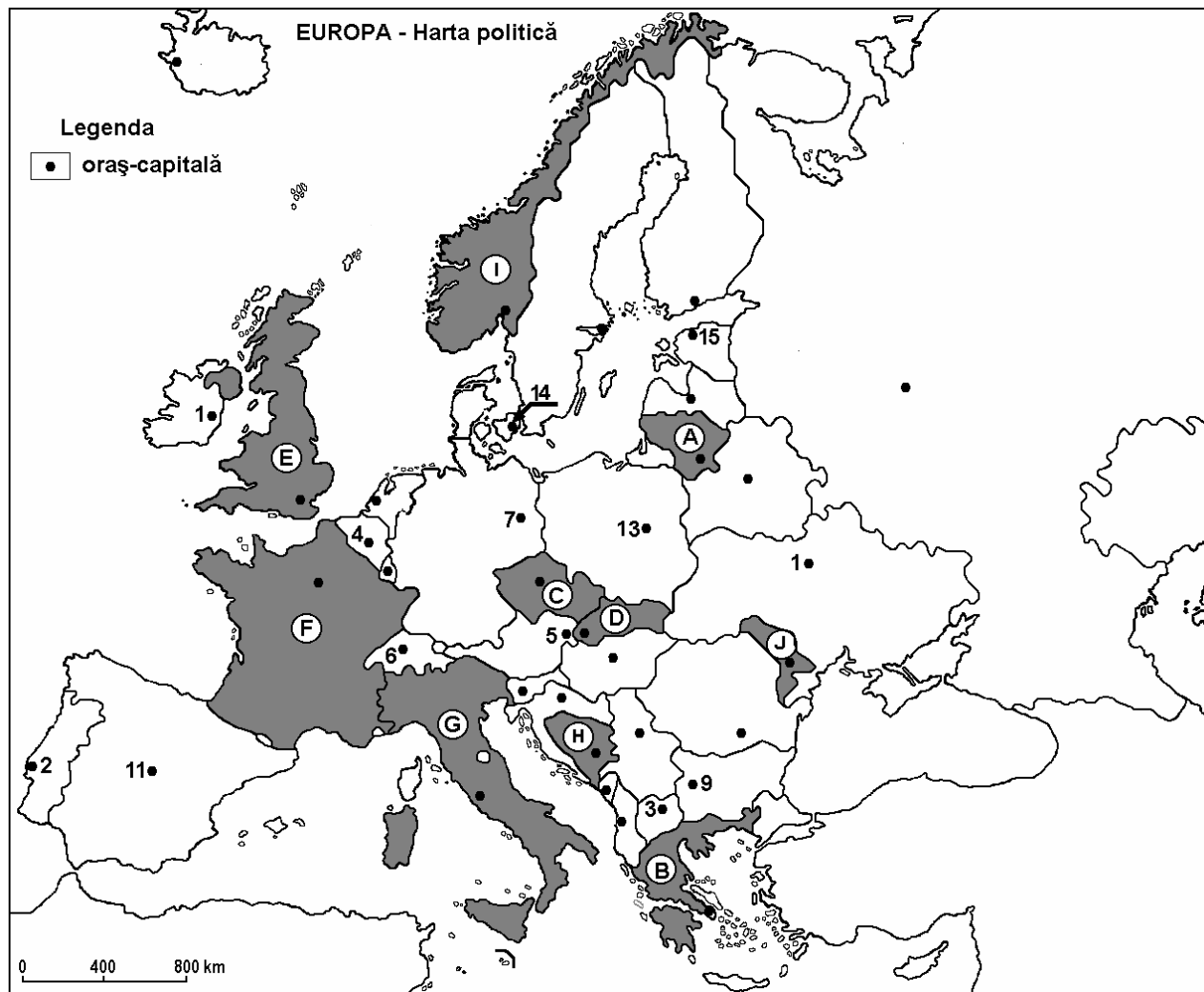
6 puncte

E. Explicați regimul de scurgere al râurilor din Europa de Est menționând doi factori determinanți.

4 puncte

Examenul de bacalaureat 2008
Proba D, E, F
Proba scrisă la GEOGRAFIE
Europa–România–Uniunea Europeană

- Toate subiectele sunt obligatorii. Se acordă 10 puncte din oficiu.
- Timpul efectiv de lucru este de 3 ore.

SUBIECTUL I**(30 puncte)**

Harta de mai sus se referă la subiectul I A și B. Pe hartă sunt marcate state cu litere și orașe-capitală cu numere.

A. Precizați:

1. numele statelor marcate, pe hartă, cu litera **A** și **F**;
2. numele orașelor-capitală marcate, pe hartă, cu numerele **1** și **3**.

4 puncte

B. Scrieți, pe foaia de examen, răspunsurile corecte care completează propozițiile de mai jos:

1. Numele statului care s-a divizat în anul 1990 în statele marcate, pe hartă, cu literele **C** și **D** a fost...
2. Pe Insula Sjaelland este localizat orașul capitală marcat, pe hartă, cu numărul ...
3. Alpii Dinarici se desfășoară și pe teritoriul statului marcat, pe hartă, cu litera ...

6 puncte

C. Scrieți, pe foaia de examen, litera corespunzătoare răspunsului corect pentru fiecare dintre afirmațiile de mai jos:

1. Cel mai extins stat european este:

a. Federația Rusă	b. Franța	c. Germania	d. Polonia	2 puncte
-------------------	-----------	-------------	------------	-----------------

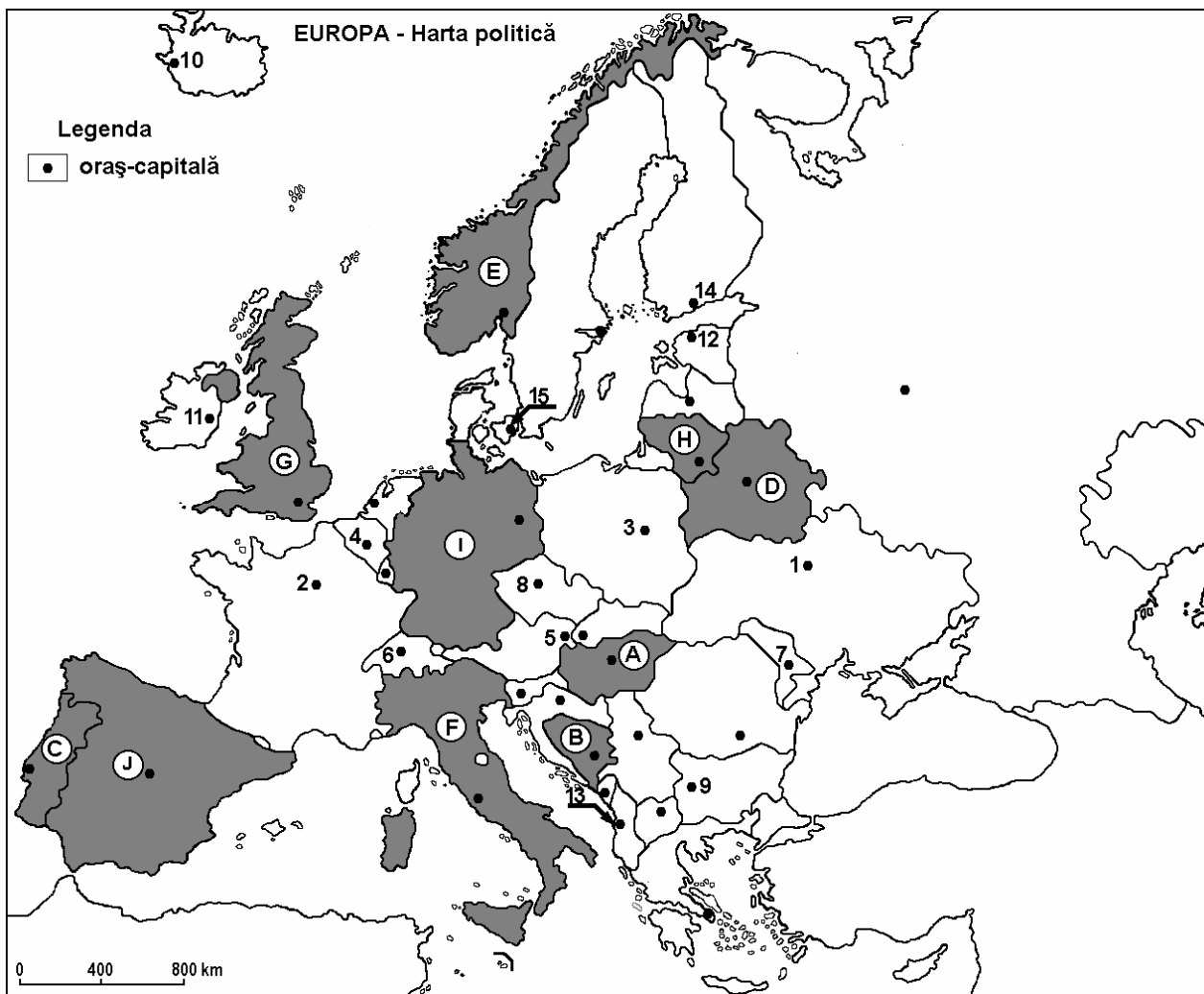
-
2. Fluviul Vistula se varsă în:
a. Marea Baltică **b.** Marea Caspică **c.** Marea Nordului **d.** Oceanul Atlantic
2 puncte
3. Moneda euro a fost introdusă în circulație în unele țări europene în anul:
a. 2000 **b.** 2002 **c.** 2004 **d.** 2006 **2 puncte**
4. Bazinul carbonifer Silezia este situat pe teritoriul statului:
a. Federația Rusă **b.** Germania **c.** Polonia **d.** Ucraina **2 puncte**
5. Nivelul de urbanizare al Europei este pus în evidență de ponderea populației urbane care reprezintă din populația totală:
a. 1/4 **b.** 1/2 **c.** 1/3 **d.** 4/5 **2 puncte**
- D.** Precizați trei deosebiri între **clima** temperat oceanică și **clima** temperat continentală, la nivelul continentului european.
Nota 1: Deosebirile se pot referi la oricare dintre următoarele aspecte ale **climei**: tip climatic, precipitații medii anuale, temperatura medie anuală, vânturi, amplitudine termică.
Nota 2: Punctajul complet va fi acordat numai dacă cele trei deosebiri vor fi prezentate comparativ și nu separat.
6 puncte
- E.** Prezentați patru caracteristici ale reliefului Câmpiei Europei de Est.
4 puncte

Examenul de bacalaureat 2008
Proba D, E, F
Proba scrisă la GEOGRAFIE
Europa–România–Uniunea Europeană

- Toate subiectele sunt obligatorii. Se acordă 10 puncte din oficiu.
- Timpul efectiv de lucru este de 3 ore.

SUBIECTUL I

(30 puncte)



Harta de mai sus se referă la subiectele I A – C. Pe hartă sunt marcate state cu litere și oraș-capitală cu numere.

A. Precizați:

1. numele statelor marcate, pe hartă, cu literele **B** și **C**;
2. numele orașelor marcate, pe hartă, cu numerele **9** și **11**.

4 puncte

B. Scrieți, pe foaia de examen, răspunsurile corecte care completează propozițiile de mai jos:

1. Orașul-capitală marcat, pe hartă, cu numărul **2** se numește ... **2 puncte**
2. Cel mai mic stat din Europa (ca suprafață și ca număr de locuitori) este enclava statului notat pe hartă cu litera ... **2 puncte**
3. Aeroportul Heathrow deservește capitala statului marcat pe hartă cu litera ... **2 puncte**

C. Scrieți, pe foaia de examen, litera corespunzătoare răspunsului corect pentru fiecare dintre afirmațiile de mai jos:

1. Capitala statului marcat, pe hartă, cu litera **H** este:

a. Riga	b. Tallinn	c. Varșovia	d. Vilnius	2 puncte
---------	------------	-------------	------------	-----------------
2. Pe teritoriul statului marcat, pe hartă, cu litera **F** se află Munții:

a. Alpii Scandinaviei	b. Apenini	c. Pirinei	d. Ural	2 puncte
-----------------------	------------	------------	---------	-----------------
3. Fluviul Guadalquivir traversează statul notat pe hartă cu litera:

a. A	b. E	c. H	d. J	2 puncte
------	------	------	------	-----------------
4. Cel mai mare port fluvial al Europei este situat în statul notat pe hartă cu litera:

a. B	b. E	c. I	d. J	2 puncte
------	------	------	------	-----------------
5. Limba vorbită de populația statului marcat, pe hartă, cu litera **A** face parte din familia limbilor:

a. fino-ugrice	b. germanice	c. latine	d. slave	2 puncte
----------------	--------------	-----------	----------	-----------------

D. Precizați două deosebiri și o asemănare între **relieful** Munților Alpi și **relieful** Munților Ural.

Nota 1: Deosebirile și asemănarea se pot referi la oricare dintre următoarele aspecte ale **reliefului**: mod de formare, tipuri de roci pe care s-a format relieful, distribuția spațială a altitudinilor, gradul de fragmentare, orientarea culmilor și a văilor principale, tipuri genetice de relief, alte aspecte specifice ale reliefului.

Nota 2: Punctajul complet va fi acordat numai dacă cele două deosebiri și asemănarea vor fi prezentate comparativ și nu separat.

6 puncte

E. Explicați faptul că majoritatea statelor europene înregistrează un bilanț natural negativ, precizând doi factori.

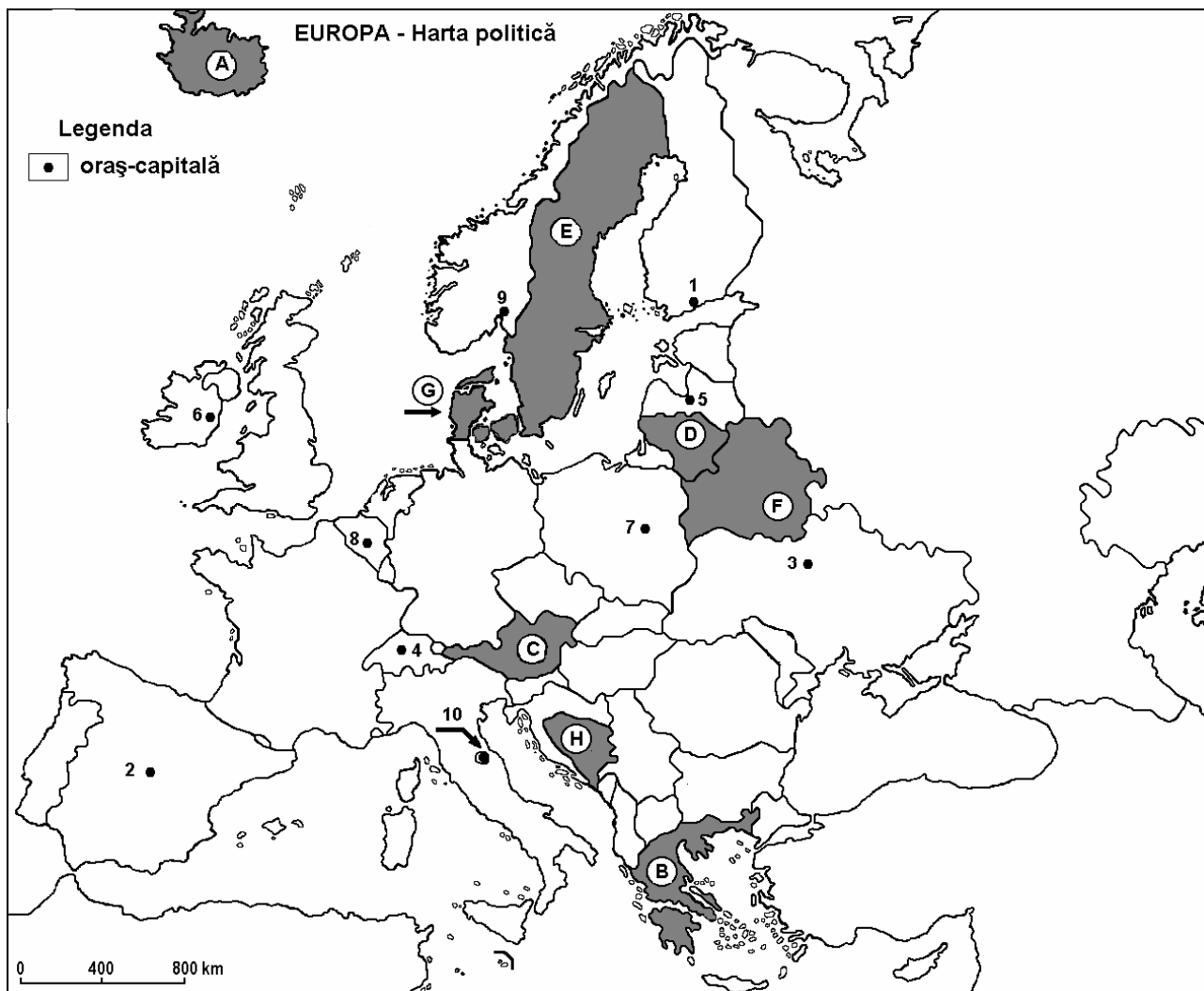
4 puncte

Examenul de bacalaureat 2008
Proba D, E, F
Proba scrisă la Geografie
Europa – România – Uniunea Europeană

- Toate subiectele sunt obligatorii. Se acordă 10 puncte din oficiu.
- Timpul efectiv de lucru este de 3 ore.

SUBIECTUL I

(30 puncte)



Harta de mai sus se referă la subiectul I A - E. Pe hartă sunt marcate state cu litere și orașe-capitală cu numere.

A. Precizați:

1. numele statelor marcate, pe hartă, cu numerele **A** și **E**;
2. numele orașelor-capitală marcate, pe hartă, cu numerele **7** și **8**.

4 puncte

B. Scrieți, pe foaia de examen, răspunsurile corecte care completează propozițiile de mai jos:

1. Statul marcat, pe harta, cu litera **F** se numește ...
2. Orașul Atena este capitala statului marcat, pe harta, cu litera ...
3. Orașul-capitală marcat, pe hartă, cu numărul **9** se numește ...

6 puncte

C. Scrieți, pe foaia de examen, litera corespunzătoare răspunsului corect pentru fiecare dintre afirmațiile de mai jos:

1. Orașul San Marino este marcat, pe hartă, cu numărul:
a. 4 b. 5 c. 8 d. 10 **2 puncte**
2. Capitala statului marcat, pe hartă, cu litera **G** se numește:
a. Belfast b. Copenhaga c. Reykjavik d. Stockholm **2 puncte**
3. Este o monarhie statul marcat, pe hartă, cu litera:
a. C b. E c. F d. H **2 puncte**
4. Statul marcat, pe hartă, cu litera **D** se numește:
a. Estonia b. Letonia c. Lituania d. Ucraina **2 puncte**
5. Fluviul Nipru traversează statul marcat, pe hartă, cu numărul:
a. E b. F c. G d. H **2 puncte**

D. Precizați trei deosebiri între **clima** statului marcat, pe hartă, cu litera **G** și **clima** statului marcat, pe hartă, cu litera **B**.

Nota 1: Deosebirile se pot referi la oricare dintre următoarele elemente de **climă**: tip de climă, temperaturi medii anuale, precipitații medii anuale, vânturi, factori ce influențează clima, amplitudine termică.

Nota 2: Punctajul complet va fi acordat numai dacă deosebirile vor fi prezentate comparativ și nu separat. **6 puncte**

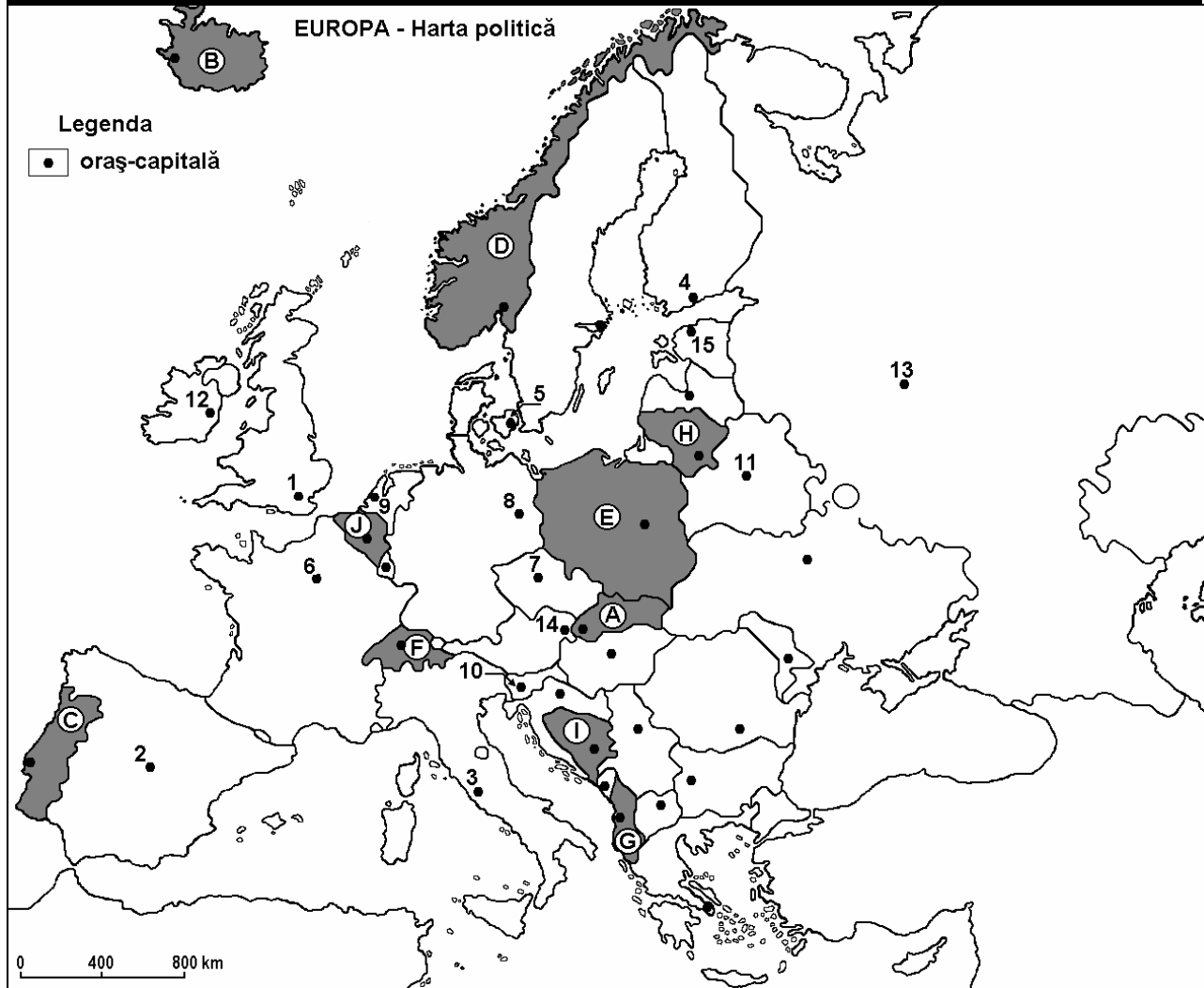
E. Precizați două cauze care să explice valorile mici ale densității populației din statul marcat, pe hartă, cu litera **A**. **4 puncte**

Examenul de bacalaureat 2008
Proba D, E, F
Proba scrisă la Geografie
Europa – România – Uniunea Europeană

- Toate subiectele sunt obligatorii. Se acordă 10 puncte din oficiu.
- Timpul efectiv de lucru este de 3 ore.

SUBIECTUL I

(30 puncte)



Harta de mai sus se referă la subiectul I A – C. Pe hartă sunt marcate state cu litere și orașe – capitală cu numere.

A. Precizați:

1. numele statelor marcate, pe hartă, cu literele **C** și **G**.
2. numele orașelor-capitală marcate, pe hartă, cu numerele **4** și **6**.

4 puncte

B. Scrieți, pe foaia de examen, răspunsurile corecte care completează propozițiile de mai jos:

1. Munții Alpii Scandinaviei se desfășoară pe teritoriul statului marcat, pe hartă, cu litera ...
2. Statul marcat, pe hartă cu litera **B** se numește...
3. În Peninsula Italică este situat orașul – capitală marcat, pe hartă, cu numărul ...

6 puncte

C. Scrieți, pe foaia de examen, litera corespunzătoare răspunsului corect pentru fiecare dintre afirmațiile de mai jos:

- | | | | | | |
|--|-------------|--------------|--------------|--------------|-----------------|
| 1. Capitala Spaniei este marcată, pe hartă, cu numărul: | a. 1 | b. 2 | c. 5 | d. 15 | 2 puncte |
| 2. Orașul Berna este capitala statului marcat, pe hartă, cu litera: | a. A | b. F | c. G | d. I | 2 puncte |
| 3. Țărmurile cu fiorduri sunt caracteristice statului marcat, pe hartă, cu litera: | a. D | b. F | c. H | d. J | 2 puncte |
| 4. Câmpia Nord - Europeană se află pe teritoriul statului marcat, pe hartă, cu litera: | a. C | b. E | c. G | d. I | 2 puncte |
| 5. Capitala Federației Ruse este orașul marcat, pe hartă, cu numărul: | a. 9 | b. 11 | c. 12 | d. 13 | 2 puncte |

D. Precizați două deosebiri și o asemănare între **relieful** Munților Alpi și **relieful** Munților Urali.

Nota 1: Deosebirile și asemănarea se pot referi la oricare dintre următoarele aspecte ale **reliefului**: mod de formare, tipuri de roci, distribuția spațială a altitudinilor, gradul de fragmentare, orientarea culmilor și a văilor principale, tipuri genetice de relief, alte aspecte specifice ale reliefului.

Nota 2: Punctajul complet va fi acordat numai dacă cele două deosebiri și asemănarea vor fi prezentate comparativ și nu separat.

6 puncte

E. Precizați două cauze care au determinat prezența stepei și a silvostepii în sud-estul Europei.

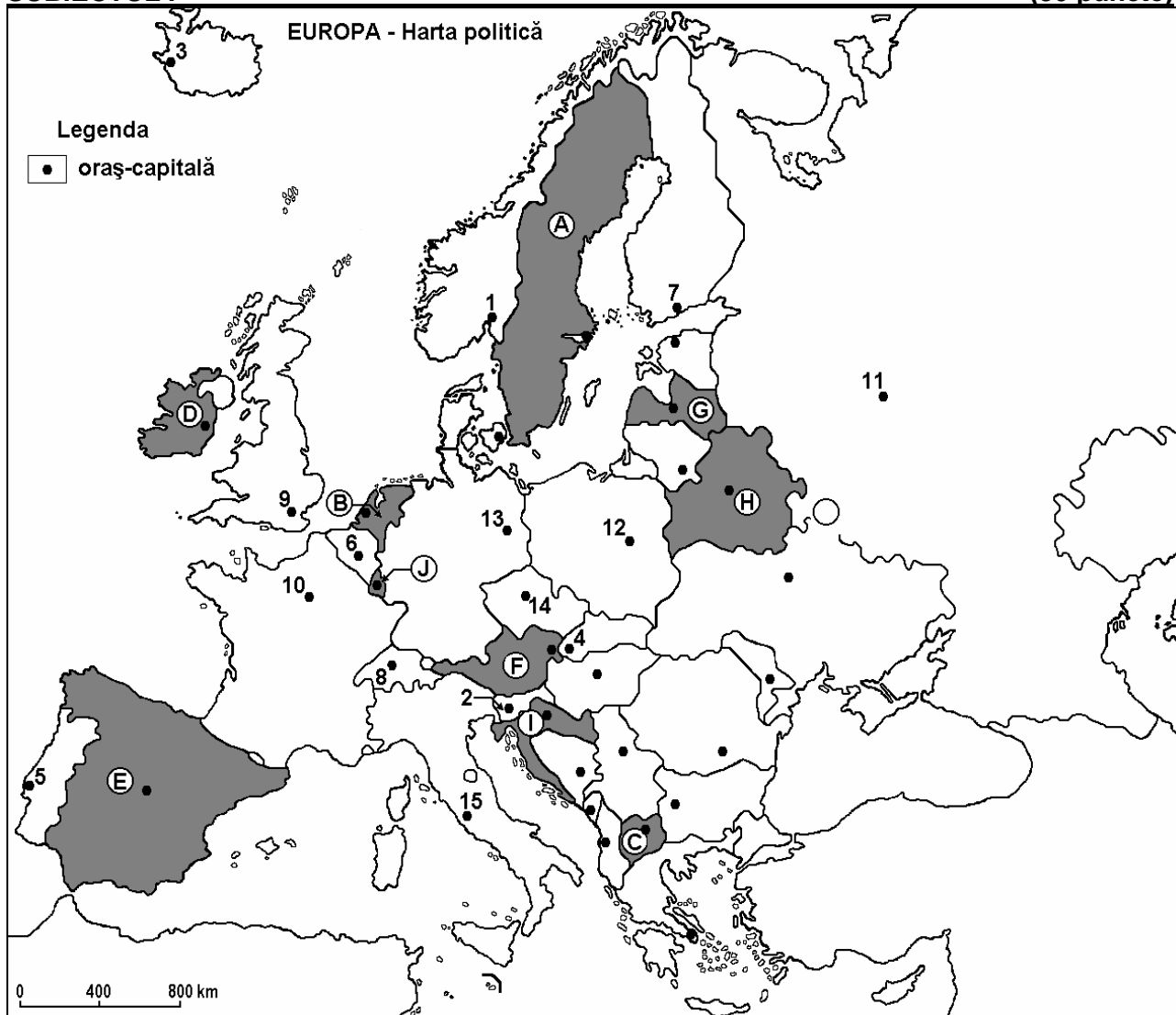
4 puncte

Examenul de bacalaureat 2008
Proba D, E, F
Proba scrisă la Geografie
Europa – România – Uniunea Europeană

- Toate subiectele sunt obligatorii. Se acordă 10 puncte din oficiu.
- Timpul efectiv de lucru este de 3 ore.

SUBIECTUL I

(30 puncte)



Harta de mai sus se referă la subiectul I A – C. Pe hartă sunt marcate state cu litere și orașe – capitală cu numere.

A. Precizați:

1. numele statelor marcate, pe hartă, cu literele **C** și **J**;
2. numele orașelor-capitală marcate, pe hartă, cu numerele **6** și **7**.

4 puncte

B. Scrieți, pe foaia de examen, răspunsurile corecte care completează propozițiile de mai jos:

1. Statul marcat, pe hartă, cu litera **B** se numește ...
2. Capitala Portugaliei este orașul marcat, pe hartă, cu numărul ...
3. Capitala Marii Britanii este orașul marcat, pe hartă, cu numărul ...

6 puncte

C. Scrieți, pe foaia de examen, litera corespunzătoare răspunsului corect pentru fiecare dintre afirmațiile de mai jos:

1. Capitala Elveției este orașul marcat, pe hartă, cu numărul:
a. 4 b. 6 c. 8 d. 10 **2 puncte**
2. Orașul Minsk este capitala statului marcat, pe hartă, cu litera:
a. A b. F c. G d. H **2 puncte**
3. Statul marcat, pe hartă, cu litera **D** se numește:
a. Grecia b. Irlanda c. Luxemburg d. Ungaria **2 puncte**
4. Munții Pirinei constituie granița statului marcat, pe hartă, cu litera:
a. C b. E c. F d. I **2 puncte**
5. Capitala statului marcat, pe hartă, cu litera **I** se numește:
a. Atena b. Belgrad c. Sofia d. Zagreb **2 puncte**

D. Precizați trei deosebiri între caracteristicile pădurilor de conifere și caracteristicile stepei.

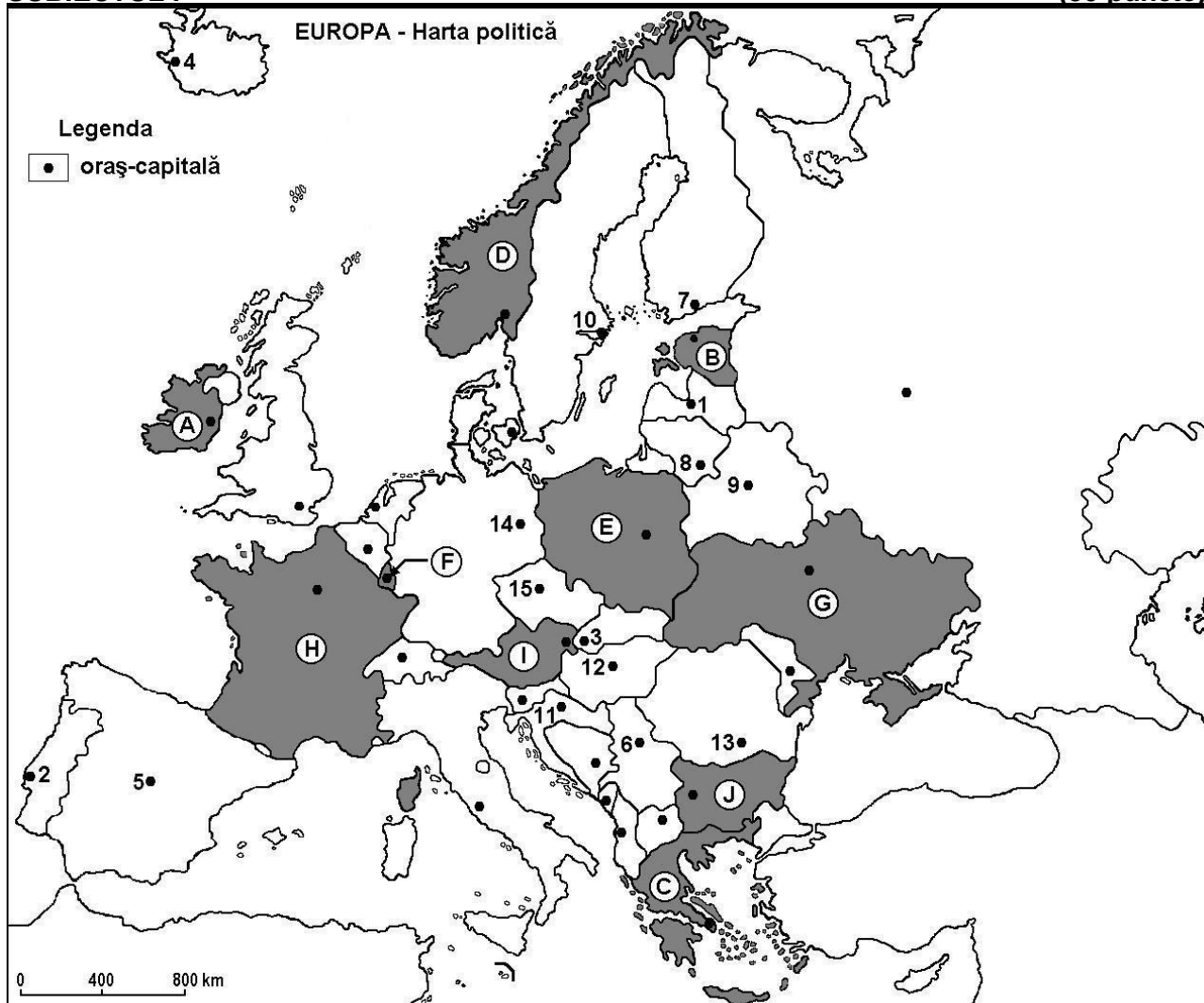
Nota 1: Deosebirile se pot referi la oricare dintre elementele de **vegetație**: zonă de vegetație, etaj de vegetație, specii de plante, precum și la tipuri sau clase de soluri și fertilitatea acestora.

Nota 2: Punctajul complet va fi acordat numai dacă cele trei deosebiri vor fi prezentate comparativ și nu separat. **6 puncte**

E. Precizați două cauze care determină cantități de precipitații mai mari în vestul continentului Europa față de estul acestuia. **4 puncte**

Examenul de bacalaureat 2008
Proba D, E, F
Proba scrisă la Geografie
Europa – România – Uniunea Europeană

- Toate subiectele sunt obligatorii. Se acordă 10 puncte din oficiu.
- Timpul efectiv de lucru este de 3 ore.

SUBIECTUL I**(30 puncte)**

Harta de mai sus se referă la subiectul I A – D. Pe hartă sunt marcate state cu litere de la A la J și orașe – capitală cu numere de la 1 la 15.

A. Precizați:

1. numele statelor marcate, pe hartă, cu literele D și J;
2. numele orașelor - capitală marcate, pe hartă, cu numerele 7 și 15.

4 puncte**B. Scrieți, pe foaia de examen, răspunsurile corecte care completează propozițiile de mai jos:**

1. Orașul marcat, pe hartă, cu numărul 12 este localizat în bazinul hidrografic al fluviului ...
2. Munții Balcani sunt situați pe teritoriul statului marcat, pe hartă, cu litera ...
3. Orașul-capitală marcat, pe hartă, cu numărul 14 se numește ...

6 puncte

C. Scrieți, pe foaia de examen, litera corespunzătoare răspunsului corect pentru fiecare dintre afirmațiile de mai jos:

1. Unități montane vechi, caledoniene, formate prin cutare, se găsesc pe teritoriul statului marcat, pe hartă, cu litera:

a. A b. C c. D d. J **2 puncte**

2. În Europa de Vest, clima mediteraneană este caracteristică părții sudice a statului marcat, pe hartă cu litera:

a. C b. H c. I d. J **2 puncte**

3. Vegetația pădurilor de foioase și vegetația mediteraneană se dezvoltă pe teritoriul statului marcat pe hartă cu litera:

a. E b. G c. H d. I **2 puncte**

4. Orașul marcat, pe hartă, cu numărul **11** este capitala statului numit:

a. Austria b. Croația c. Elveția d. Slovenia **2 puncte**

5. Ca formă de guvernământ este monarhie, statul marcat, pe hartă, cu litera:

a. B b. D c. G d. I **2 puncte**

D. Precizați trei deosebiri între **clima** statului marcat, pe hartă, cu **A** și **clima** statului marcat cu **C**.

Nota 1: Deosebirile se pot referi la oricare dintre următoarele elemente de **climă**: tip de climă, temperaturi medii anuale, precipitații medii anuale, vânturi, factorii genetici, amplitudine termică.

Nota 2: Punctajul complet va fi acordat numai dacă cele trei deosebiri vor fi prezentate comparativ și nu separat. **6 puncte**

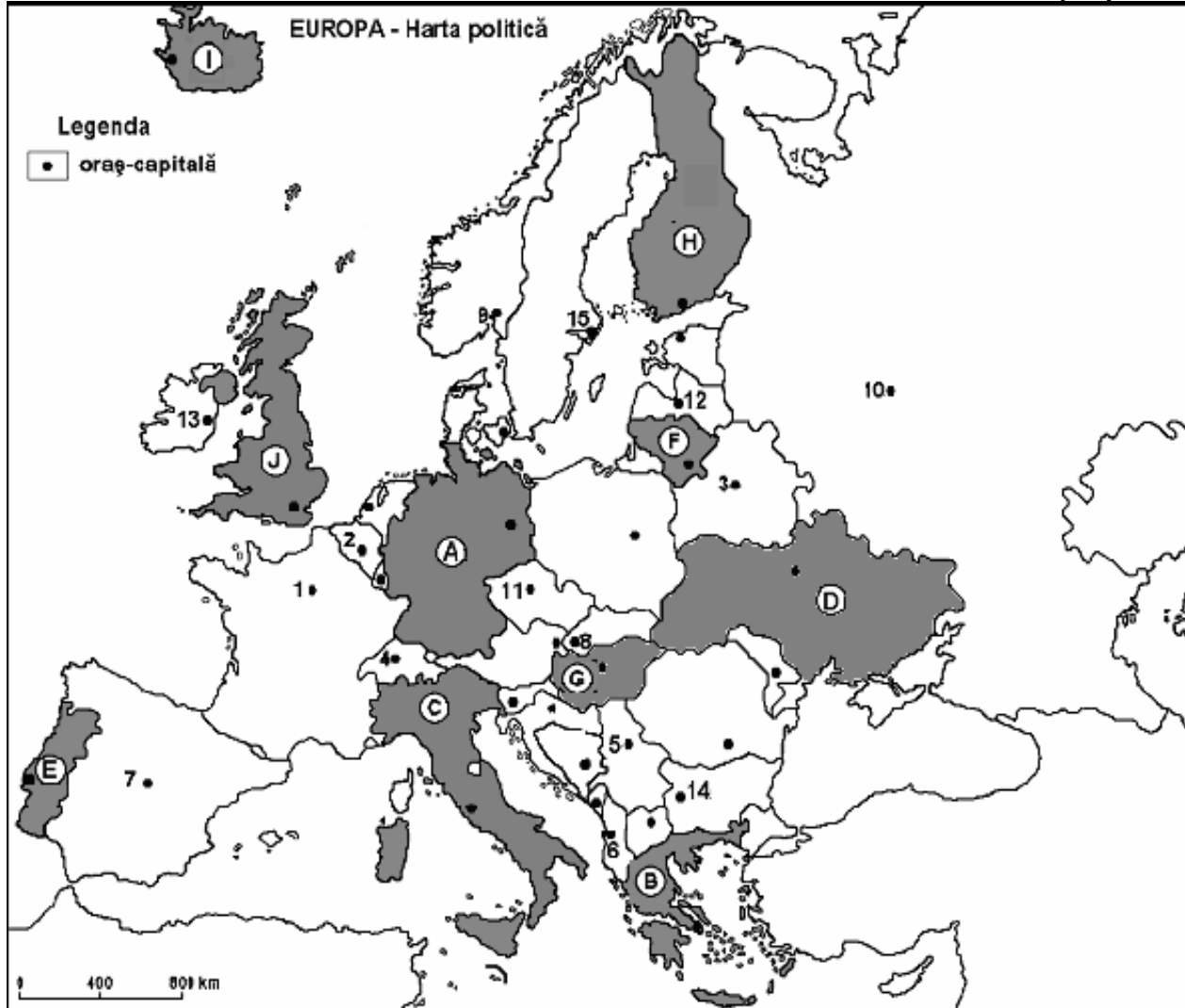
E. Prezentați două cauze care au determinat o densitate redusă a căilor ferate în Peninsula Scandinavică. **4 puncte**

Examenul de bacalaureat 2008
Proba D, E, F
Proba scrisă la Geografie
Europa – România – Uniunea Europeană

- Toate subiectele sunt obligatorii. Se acordă 10 puncte din oficiu.
- Timpul efectiv de lucru este de 3 ore.

SUBIECTUL I

(30 puncte)



Harta de mai sus se referă la subiectul I A – C. Pe hartă sunt marcate state cu litere de la A la J și orașe – capitală cu numere de la 1 la 15.

A. Precizați:

1. numele statelor marcate, pe hartă, cu numerele **F** și **G**;
2. numele orașelor - capitală marcate, pe hartă, cu numerele **8** și **12**.

4 puncte

B. Scrieți, pe foaia de examen, răspunsurile corecte care completează propozițiile de mai jos:

1. Capitala marcată, pe hartă, cu numărul **1** este traversată de fluviul numit ...
2. Capitala statului marcat, pe hartă, cu litera **D** se numește ...
3. Munții Apenini se desfășoară pe teritoriul statului marcat, pe hartă, cu litera ...

6 puncte

C. Scrieți, pe foaia de examen, litera corespunzătoare răspunsului corect pentru fiecare dintre afirmațiile de mai jos:

1. Munții Carpați au subunități situate pe teritoriul statului marcat, pe hartă, cu litera:
a. A b. B c. C d. D **2 puncte**
2. Orașul - capitală Praga este marcat, pe hartă, cu numărul:
a. 3 b. 4 c. 8 d. 11 **2 puncte**
3. Vegetația de tundră este specifică în nordul țării a cărei capitală este marcată, pe hartă, cu numărul:
a. 8 b. 10 c. 11 d. 12 **2 puncte**
4. Capul Roca, considerat cel mai vest punct european, este situat pe teritoriul statului marcat, pe hartă, cu litera:
a. A b. E c. H d. J **2 puncte**
5. Este capitala unui stat – monarhie constituțională orașul marcat, pe hartă, numărul:
a. 9 b. 10 c. 11 d. 12 **2 puncte**

D. Precizați trei asemănări între **relieful** Munților Carpați și **relieful** Munților Pirinei.

Nota 1: Asemănările se pot referi la oricare dintre următoarele aspecte ale **reliefului**: mod de formare, tipuri de roci pe care s-a format relieful, altitudini, fragmentare, tipuri genetice de relief.

Nota 2: Punctajul complet va fi acordat numai dacă cele trei asemănări vor fi prezentate comparativ și nu separat. **6 puncte**

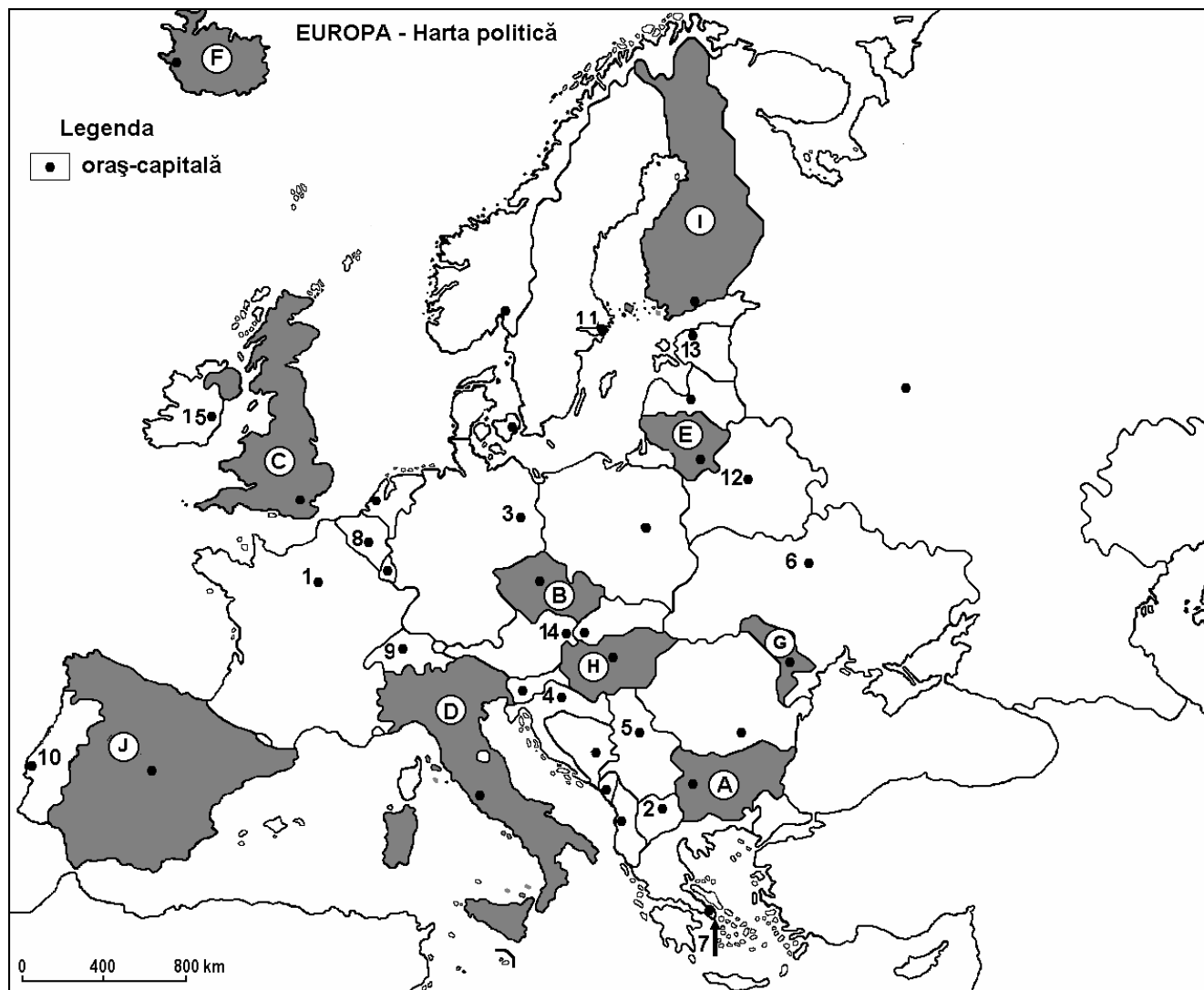
E. Prezentați două argumente prin care să susțineți afirmația: „Bratislava și Viena sunt capitale europene cu acces atât spre Marea Neagră cât și spre Marea Nordului”. **4 puncte**

Examenul de bacalaureat 2008
Proba D, E, F
Proba scrisă la Geografie
Europa – România – Uniunea Europeană

- Toate subiectele sunt obligatorii. Se acordă 10 puncte din oficiu.
- Timpul efectiv de lucru este de 3 ore.

SUBIECTUL I

(30 puncte)



Harta de mai sus se referă la subiectul I A – C. Pe hartă sunt marcate state cu litere de la A la J și orașe – capitală cu numere de la 1 la 15.

A. Precizați:

1. numele statelor marcate, pe hartă, cu literele **A** și **G**.
2. numele orașelor - capitală marcate, pe hartă, cu numerele **6** și **10**.

4 puncte

B. Scrieți, pe foaia de examen, răspunsurile corecte care completează propozițiile de mai jos:

1. Capitala statului marcat, pe hartă, cu litera **C** este traversată de fluviul numit ...
2. Orașul-capitală marcat, pe hartă, cu numărul **12** se numește ...
3. Are ieșire la Marea Adriatică statul marcat, pe hartă, cu litera ...

6 puncte

C. Scrieți, pe foaia de examen, litera corespunzătoare răspunsului corect pentru fiecare dintre afirmațiile de mai jos:

1. Orașul - capitală marcat, pe hartă, cu numărul **9** se numește:
a. Berlin b. Berna c. Ljubljana d. Viena **2 puncte**
2. Relief vulcanic și gheizere sunt specifice statului marcat, pe hartă, cu litera:
a. A b. B c. E d. F **2 puncte**
3. În Peninsula Scandinavică este situată capitala marcată, pe hartă, cu numărul:
a. 8 b. 10 c. 11 d. 15 **2 puncte**
4. Munții Pirinei constituie granița statului marcat, pe hartă, cu litera:
a. A b. C c. D d. J **2 puncte**
5. Statul marcat, pe hartă, cu litera **E** se numește:
a. Estonia b. Letonia c. Lituania d. Ucraina **2 puncte**

D. Precizați două deosebiri și o asemănare între Munții Scandinaviei și Munții Alpi.

Nota 1: Deosebirile și asemănarea se pot referi la oricare dintre următoarele aspecte ale reliefului: mod de formare, tipuri de roci pe care s-a format relieful, altitudini, fragmentare, tipuri de relief, orogeneză.

Nota 2: Punctajul complet va fi acordat numai dacă cele două deosebiri și asemănarea vor fi prezentate comparativ și nu separat. **6 puncte**

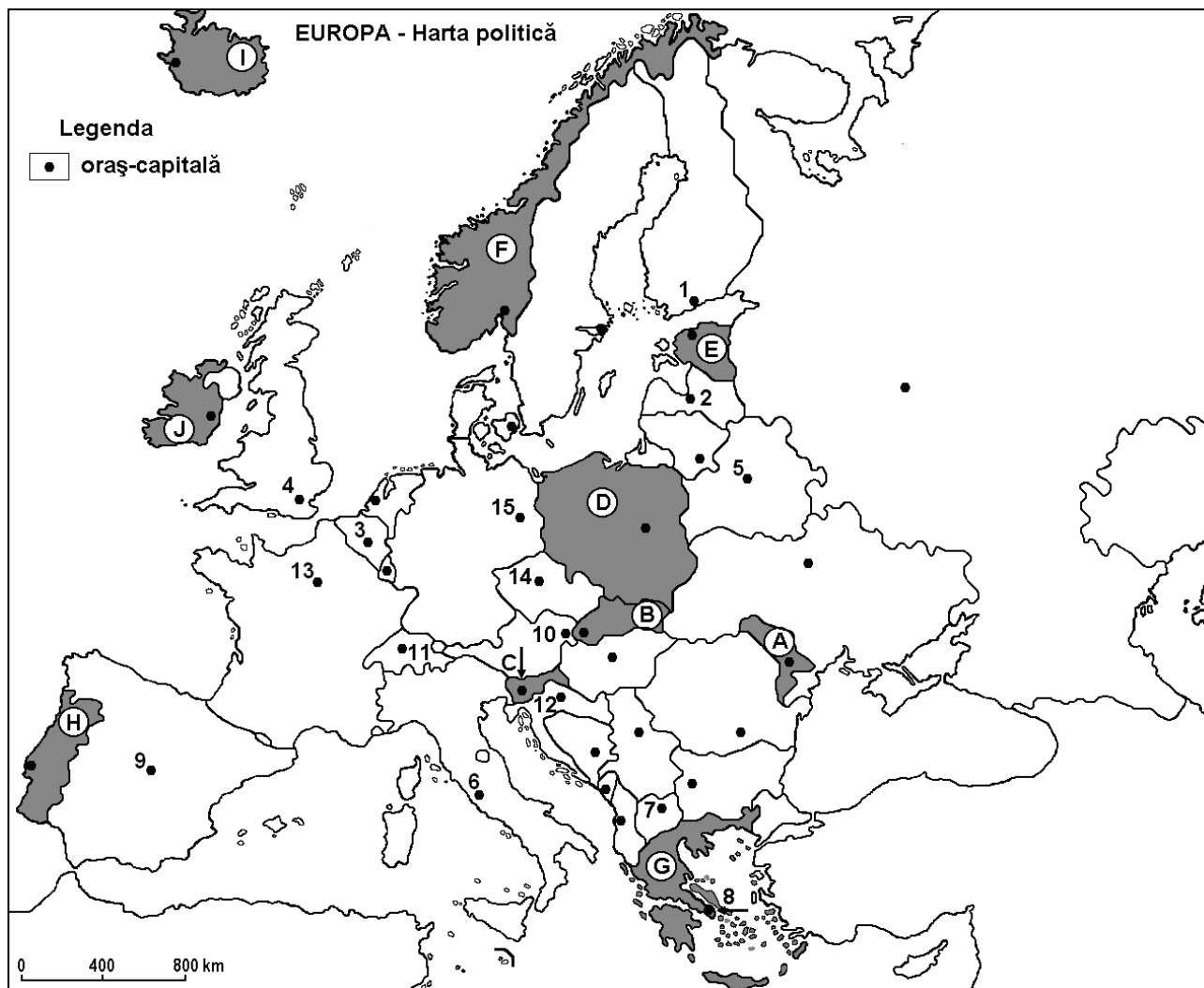
E. Prezentați două cauze ale densității reduse a populației în țările din spațiul Peninsulei Scandinavice. **4 puncte**

Examenul de bacalaureat 2008
Proba D, E, F
Proba scrisă la GEOGRAFIE
Europa–România–Uniunea Europeană

- Toate subiectele sunt obligatorii. Se acordă 10 puncte din oficiu.
- Timpul efectiv de lucru este de 3 ore.

SUBIECTUL I

(30 puncte)



Harta de mai sus se referă la subiectul I A–D. Pe hartă sunt marcate state cu litere și orașe – capitală cu numere.

A. Precizați:

1. numele statelor marcate, pe hartă, cu literele **C** și **H**;
2. numele orașelor-capitală marcate, pe hartă, cu numerele **4** și **15**.

4 puncte

B. Scrieți, pe foaia de examen, răspunsurile corecte care completează propozițiile de mai jos:

1. Orașul marcat, pe hartă, cu numărul **6** este situat în Peninsula ...
2. „Țara fiordurilor” este marcată, pe hartă, cu litera ...
3. La NE de România este situat statul marcat, pe hartă, cu litera ...

6 puncte

C. Scrieți, pe foaia de examen, litera corespunzătoare răspunsului corect pentru fiecare dintre afirmațiile de mai jos:

- | | | | | |
|--|----------------------|--------------------|--------------------|-----------------|
| 1. Orașul capitală marcat, pe hartă, cu numărul 14 se numește: | | | | |
| a. Berlin | b. Bratislava | c. Kiev | d. Praga | 2 puncte |
| 2. Orașul marcat, pe hartă, cu numărul 5 este capitala statului: | | | | |
| a. Austria | b. Belarus | c. Slovacia | d. Slovenia | 2 puncte |
| 3. Statul marcat, pe hartă, cu litera J se numește: | | | | |
| a. Danemarca | b. Luxemburg | c. Islanda | d. Irlanda | 2 puncte |
| 4. Oslo este capitala statului marcat, pe hartă, cu litera: | | | | |
| a. E | b. F | c. I | d. J | 2 puncte |
| 5. Statul situat la latitudinea cea mai mare este marcat, pe hartă, cu litera: | | | | |
| a. D | b. E | c. F | d. I | 2 puncte |

D. Precizați:

1. două deosebiri între **vegetația** statului marcat, pe hartă, cu litera **F** și **vegetația** statului marcat, pe hartă, cu litera **G**.

2. o deosebire între **solurile** statului marcat, pe hartă, cu litera **F** și **solurile** statului marcat, pe hartă, cu litera **G**.

Nota 1: Pentru punctul 1, deosebirile se pot referi la oricare dintre următoarele elemente de **vegetație**: zonă sau etaj de vegetație, specii vegetale caracteristice.

Pentru punctul 2, deosebirile se pot referi la oricare dintre următoarele aspecte referitoare la **soluri**: clasă de sol, tip de sol, fertilitate.

Nota 2: Punctajul complet va fi acordat numai dacă deosebirile vor fi prezentate comparativ și nu separat.

6 puncte

E. Prezentați două cauze ale diversității peisajelor agricole pe continentul european.

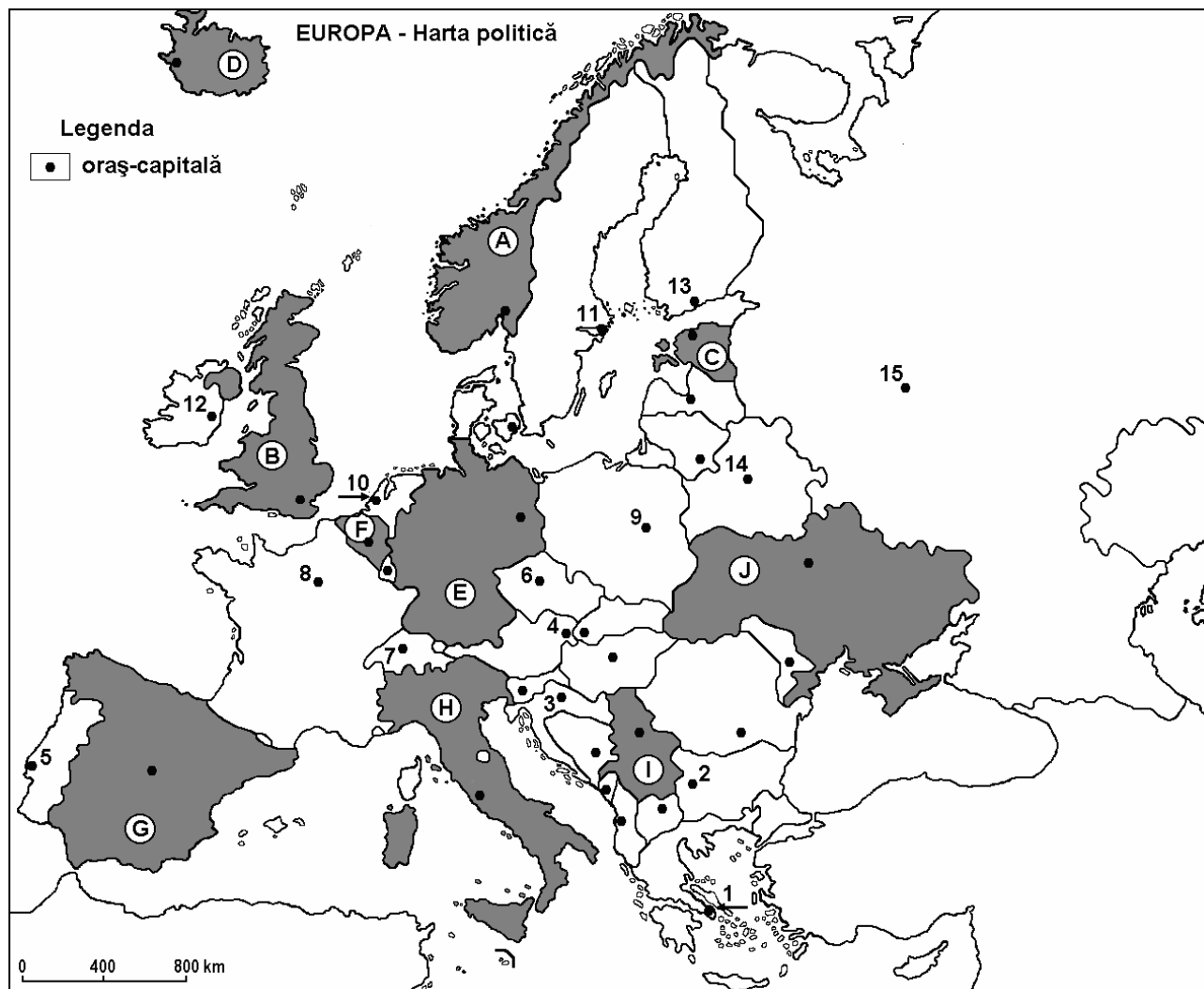
4 puncte

Examenul de bacalaureat 2008
Proba D, E, F
Proba scrisă la GEOGRAFIE
Europa–România–Uniunea Europeană

- Toate subiectele sunt obligatorii. Se acordă 10 puncte din oficiu.
- Timpul efectiv de lucru este de 3 ore.

SUBIECTUL I

(30 puncte)



Harta de mai sus se referă la subiectul I A – E. Pe hartă sunt marcate state cu litere și orașe –capitală cu numere.

A. Precizați:

1. numele statelor marcate, pe hartă, cu literele **B** și **D**;
2. numele orașelor-capitală marcate, pe hartă, cu numerele **1** și **2**.

4 puncte

B. Scrieți, pe foaia de examen, răspunsurile corecte care completează propozițiile de mai jos:

1. Orașul marcat, pe hartă, cu numărul **5** este capitala statului ...
2. Oslo este capitala statului marcat, pe hartă, cu litera ...
3. Orașul marcat, pe hartă, cu numărul **8** se numește ...

6 puncte

C. Scrieți, pe foaia de examen, litera corespunzătoare răspunsului corect pentru fiecare dintre afirmațiile de mai jos:

1. Orașul marcat, pe hartă, cu numărul **3** este capitala statului:

a. Albania	b. Bulgaria	c. Croația	d. Serbia	2 puncte
------------	-------------	------------	-----------	-----------------
2. Statul marcat, pe hartă, cu litera **C** se numește:

a. Estonia	b. Letonia	c. Ucraina	d. Ungaria	2 puncte
------------	------------	------------	------------	-----------------
3. Rezerve mari de minereuri de fier se găsesc în subsolul statului marcat, pe hartă, cu litera:

a. E	b. F	c. G	d. J	2 puncte
------	------	------	------	-----------------
4. Lacurile Ladoga și Onega se află pe teritoriul statului a cărei capitală este marcată, pe hartă, cu numărul:

a. 11	b. 13	c. 14	d. 15	2 puncte
-------	-------	-------	-------	-----------------
5. Peninsula în care este situat statul marcat, pe hartă, cu litera **G** se numește:

a. Balcanică	b. Iberică	c. Yutlanda	d. Kola	2 puncte
--------------	------------	-------------	---------	-----------------

D. Precizați trei deosebiri între **clima** statului marcat, pe hartă, cu litera **G** și **clima** statului marcat, pe hartă, cu litera **J**.

Nota 1: Deosebirile se pot referi la oricare dintre următoarele elemente de **climă**: tip de climă, temperaturi medii anuale, precipitații medii anuale, vânturi, amplitudine termică.

Nota 2: Punctajul complet va fi acordat numai dacă cele trei deosebiri vor fi prezentate comparativ și nu separat.

6 puncte

E. Densitatea populației în statul marcat, pe hartă, cu litera **D** este sub 3 loc./km² iar în cel marcat cu litera **B** de aproximativ 250 loc./km². Precizați două cauze care determină aceste diferențe.

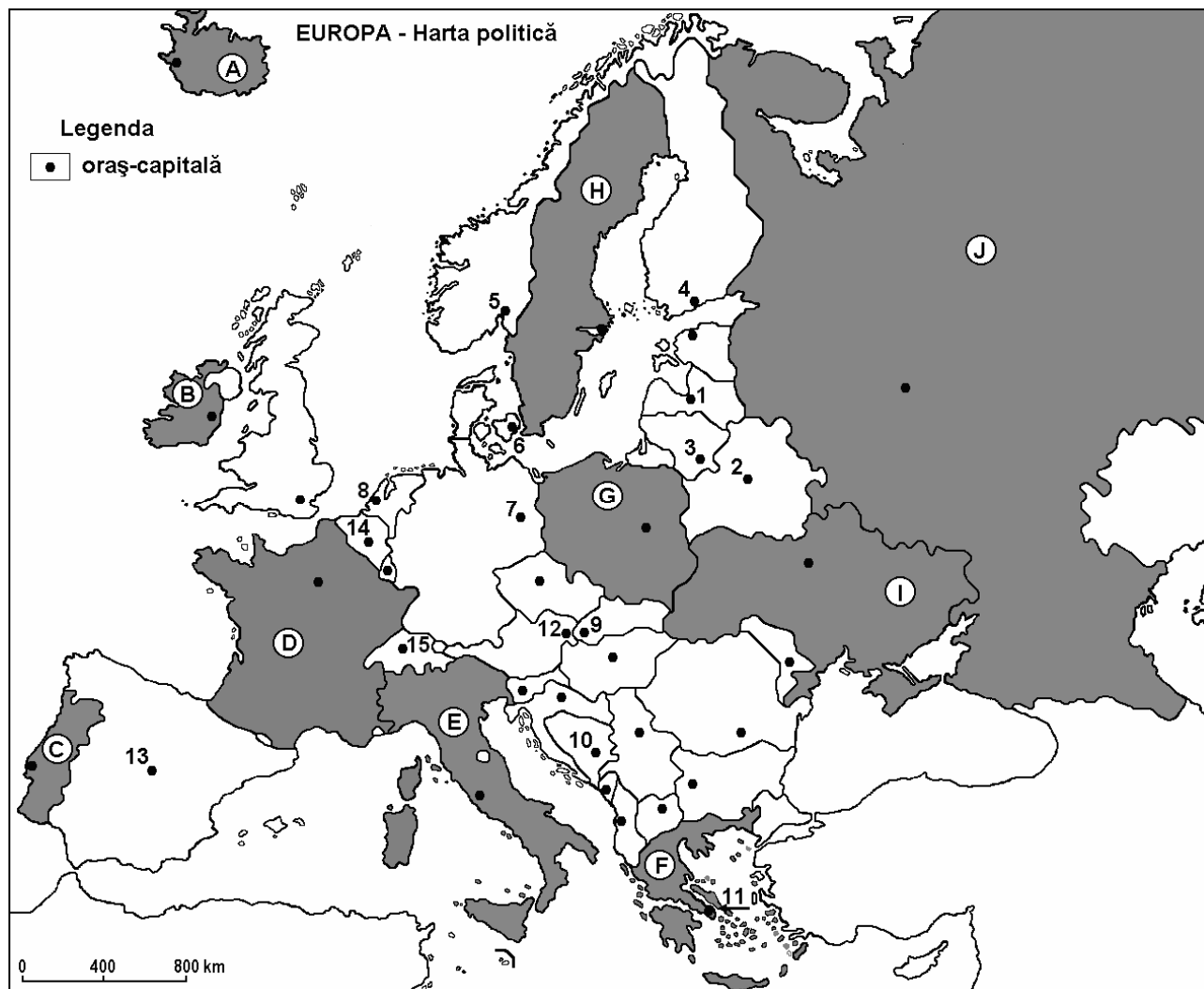
4 puncte

Examenul de bacalaureat 2008
Proba D, E, F
Proba scrisă la GEOGRAFIE
Europa–România–Uniunea Europeană

- Toate subiectele sunt obligatorii. Se acordă 10 puncte din oficiu.
- Timpul efectiv de lucru este de 3 ore.

SUBIECTUL I

(30 puncte)



Harta de mai sus se referă la subiectul I A – D. Pe hartă sunt marcate state cu litere și orașe –capitală cu numere.

A. Precizați:

1. numele statelor marcate, pe hartă, cu literele **A** și **H**;
2. numele orașelor-capitală marcate, pe hartă, cu numerele **2** și **10**.

4 puncte

B. Scrieți, pe foaia de examen, răspunsurile corecte care completează propozițiile de mai jos:

1. Orașul marcat, pe hartă, cu numărul **15** este capitala statului numit ...
2. Statul marcat, pe hartă, cu litera **F** este situat în Peninsula ...
3. Orașul marcat, pe hartă, cu numărul **4** se numește ...

6 puncte

C. Scrieți, pe foaia de examen, litera corespunzătoare răspunsului corect pentru fiecare dintre afirmațiile de mai jos:

1. Orașul marcat, pe hartă, cu numărul **3** este capitala statului:

a. Finlanda	b. Lituania	c. Polonia	d. Ucraina	2 puncte
-------------	-------------	------------	------------	-----------------
2. Peninsula Kola est situată pe teritoriul statului marcat, pe hartă, cu litera:

a. B	b. F	c. H	d. J	2 puncte
------	------	------	------	-----------------
3. Climatul mediteranean este caracteristic statelor marcate, pe hartă, cu literele:

a. B și C	b. C și E	c. E și F	d. F și I	2 puncte
-----------	-----------	-----------	-----------	-----------------
4. Numeroase lacuri glaciare s – au format pe teritoriul statului marcat, pe hartă, cu litera:

a. F	b. G	c. H	d. I	2 puncte
------	------	------	------	-----------------
5. Rezerve importante de minereu de fier se găsesc în subsolul statului marcat, pe hartă, cu litera:

a. B	b. C	c. G	d. I	2 puncte
------	------	------	------	-----------------

D. Precizați două deosebiri și o asemănare între **clima** statului marcat, pe hartă, cu litera **E** și **clima** statului marcat, pe hartă, cu litera **H**.

Nota 1: Deosebirile și asemănările se pot referi la oricare dintre următoarele elemente de **climă**: tip de climă, temperaturi medii anuale, precipitații medii anuale, vânturi, etaj climatic.

Nota 2: Punctajul complet va fi acordat numai dacă asemănarea și deosebirile vor fi prezentate comparativ și nu separat.

6 puncte

E. Prezentați două cauze ale valorilor mai scăzute ale densității populației (sub 20 loc./km²) în țările din Peninsula Scandinavă.

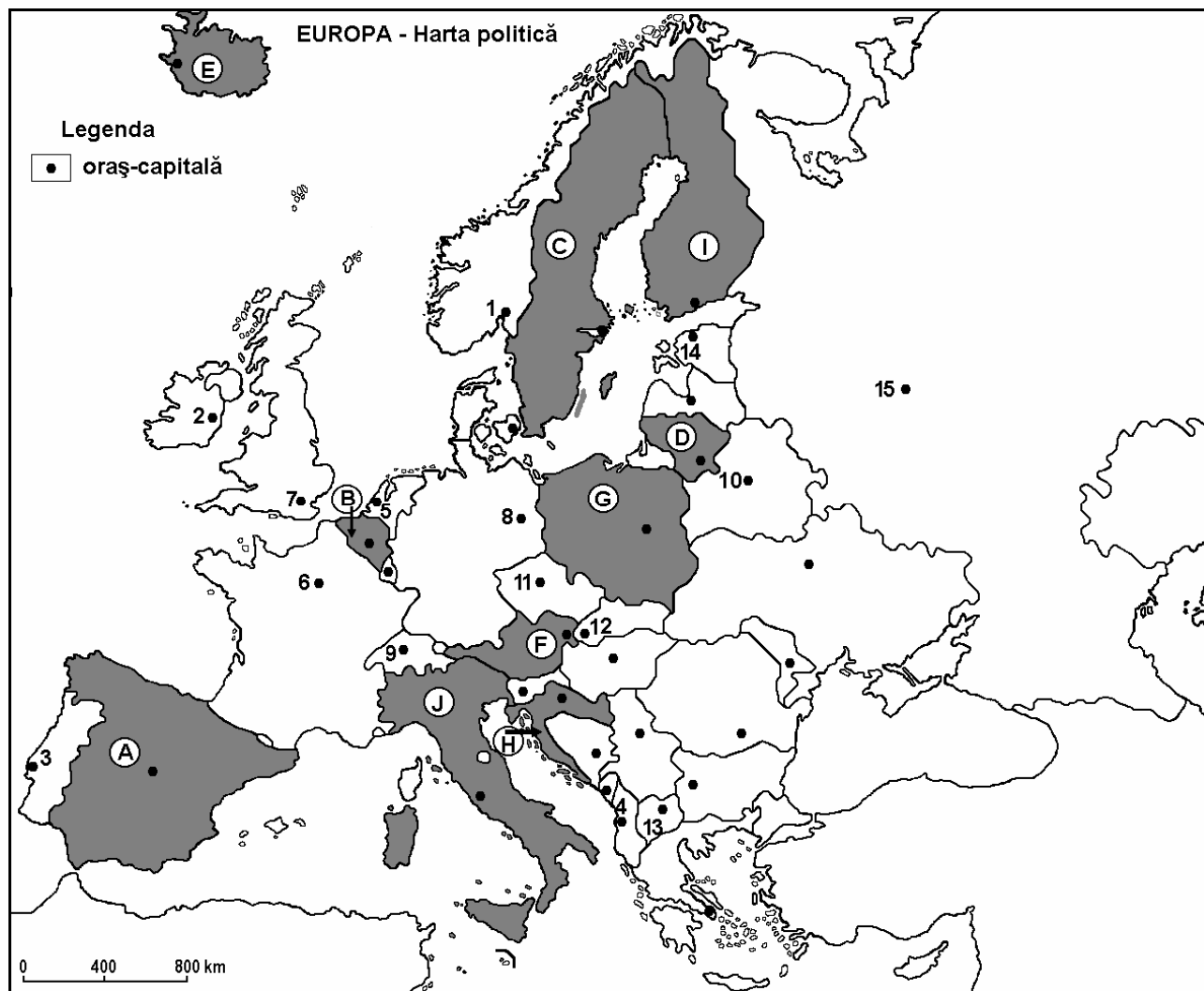
4 puncte

Examenul de bacalaureat 2008
Proba D, E, F
Proba scrisă la GEOGRAFIE
Europa–România–Uniunea Europeană

- Toate subiectele sunt obligatorii. Se acordă 10 puncte din oficiu.
- Timpul efectiv de lucru este de 3 ore.

SUBIECTUL I

(30 puncte)



Harta de mai sus se referă la subiectele I A – C. Pe hartă sunt marcate state cu litere și orașe –capitală cu numere.

A. Precizați:

1. numele statelor marcate, pe hartă, cu literele **C** și **E**;
2. numele orașelor-capitală marcate, pe hartă, cu numerele **1** și **12**.

4 puncte

B. Scrieți, pe foaia de examen, răspunsurile corecte care completează propozițiile de mai jos:

1. Orașul marcat, pe hartă, cu numărul **4** este capitala statului numit ...
2. Orașul marcat, pe hartă, cu numărul **10** este capitala statului numit ...
3. Capitala marcată, pe hartă, cu numărul **14** se numește ...

6 puncte

C. Scrieți, pe foaia de examen, litera corespunzătoare răspunsului corect pentru fiecare dintre afirmațiile de mai jos:

- | | | | | | |
|--|-------------|-------------|--------------|--------------|-----------------|
| 1. Munții Pirinei sunt situați pe teritoriul statului marcat, pe hartă, cu litera: | a. A | b. E | c. F | d. J | 2 puncte |
| 2. Fluviul Dunărea străbate orașul-capitală marcat, pe hartă, cu numărul: | a. 8 | b. 9 | c. 11 | d. 12 | 2 puncte |
| 3. Munții Apenini sunt situați pe teritoriul statului marcat, pe hartă, cu litera: | a. A | b. C | c. F | d. J | 2 puncte |
| 4. Port la Marea Nordului este orașul-capitală marcat, pe hartă, cu numărul: | a. 1 | b. 3 | c. 4 | d. 5 | 2 puncte |
| 5. Fluviul Tamisa străbate orașul – capitală marcat, pe hartă, cu numărul: | a. 2 | b. 4 | c. 5 | d. 7 | 2 puncte |

D. Precizați trei deosebiri între **relieful** Peninsulei Scandinavia și **relieful** Peninsulei Italice.

Nota 1: Deosebirile se pot referi la oricare dintre următoarele aspecte ale **reliefului**: mod de formare, tipuri de roci, distribuția spațială a altitudinilor, gradul de fragmentare, orientarea culmilor și văilor principale, tipuri genetice de relief, alte aspecte specifice ale reliefului.

Nota 2: Punctajul complet va fi acordat numai dacă cele trei deosebiri vor fi prezentate comparativ și nu separat.

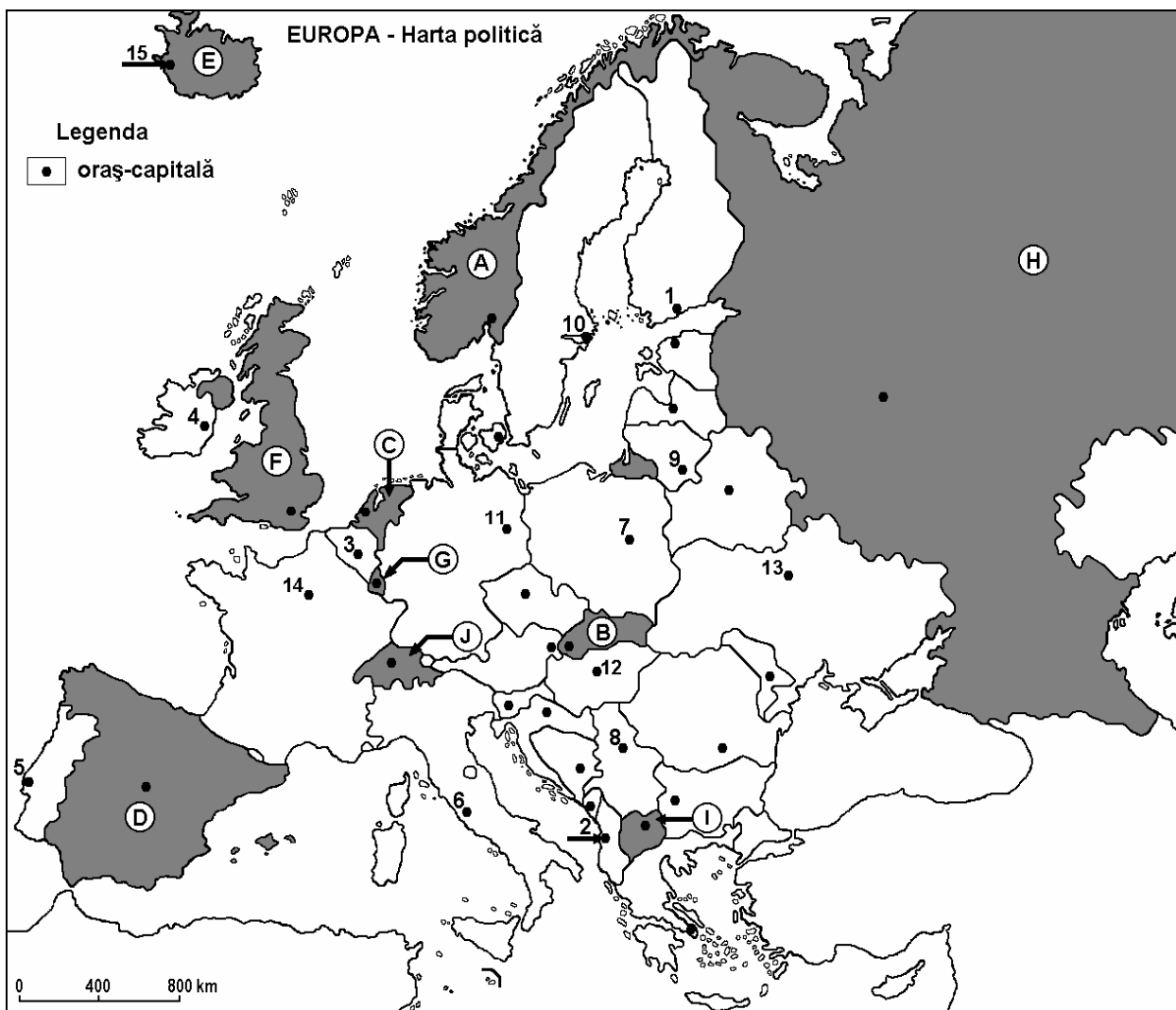
6 puncte

E. Prezentați două argumente pentru a demonstra influența reliefului asupra climei Europei.

4 puncte

Examenul de bacalaureat 2008
Proba D, E, F
Proba scrisă la Geografie
Europa – România – Uniunea Europeană

- Toate subiectele sunt obligatorii. Se acordă 10 puncte din oficiu.
- Timpul efectiv de lucru este de 3 ore.

SUBIECTUL I**(30 puncte)**

Harta de mai sus se referă la subiectul I A – D. Pe hartă sunt marcate state cu litere de la A la J și orașe-capitală cu numere de la 1 la 15.

A. Precizați:

1. numele statelor marcate, pe hartă, cu numerele **A** și **B**;
2. numele orașelor-capitală marcate, pe hartă, cu numerele **5** și **13**.

4 puncte

B. Scrieți, pe foaia de examen, răspunsurile corecte care completează propozițiile de mai jos:

1. Este situat în Peninsula Iberică statul marcat, pe hartă, cu litera ...
2. Orașul - capitală Dublin este marcat, pe hartă, cu numărul ...
3. Fluviul Sena străbate orașul - capitală marcat, pe hartă, cu numărul ...

6 puncte

C. Scrieți, pe foaia de examen, litera corespunzătoare răspunsului corect pentru fiecare dintre afirmațiile de mai jos:

1. Climatul temperat oceanic este caracteristic statului marcat, pe hartă, cu litera:

a. B	b. C	c. H	d. I	2 puncte
------	------	------	------	-----------------
2. Are deschidere la Marea Nordului statul a cărui capitală este orașul marcat, pe hartă, cu numărul:

a. 1	b. 3	c. 6	d. 13	2 puncte
------	------	------	-------	-----------------
3. Vulcanul Hekla se află pe teritoriul statului marcat, pe hartă, cu litera:

a. E	b. F	c. G	d. J	2 puncte
------	------	------	------	-----------------
4. Este unul din membrii fondatori al Uniunii Europene, statul marcat, pe hartă, cu litera:

a. A	b. C	c. E	d. H	2 puncte
------	------	------	------	-----------------
5. Forma de guvernământ a statului marcat, pe hartă, cu litera **F** este:

a. monarhie constituțională	c. republică parlamentară	2 puncte
b. republică federală	d. republică prezidențială	

D. Precizați trei deosebiri între **clima** statului marcat, pe hartă, cu litera **E** și **clima** statului marcat, pe hartă, cu litera **I**.

Nota 1: Deosebirile se pot referi la oricare dintre următoarele elemente de **climă**: tip de climă, temperaturi medii anuale, precipitații medii anuale, vânturi, amplitudine termică, etaj climatic.

Nota 2: Punctajul complet va fi acordat numai dacă cele trei deosebiri vor fi prezentate comparativ și nu separat.

6 puncte

E. Prezentați două cauze care să explice de ce rețeaua feroviară este aproape absentă în nordul Finlandei, Norvegiei și Suediei deși sunt țări dezvoltate ale Europei.

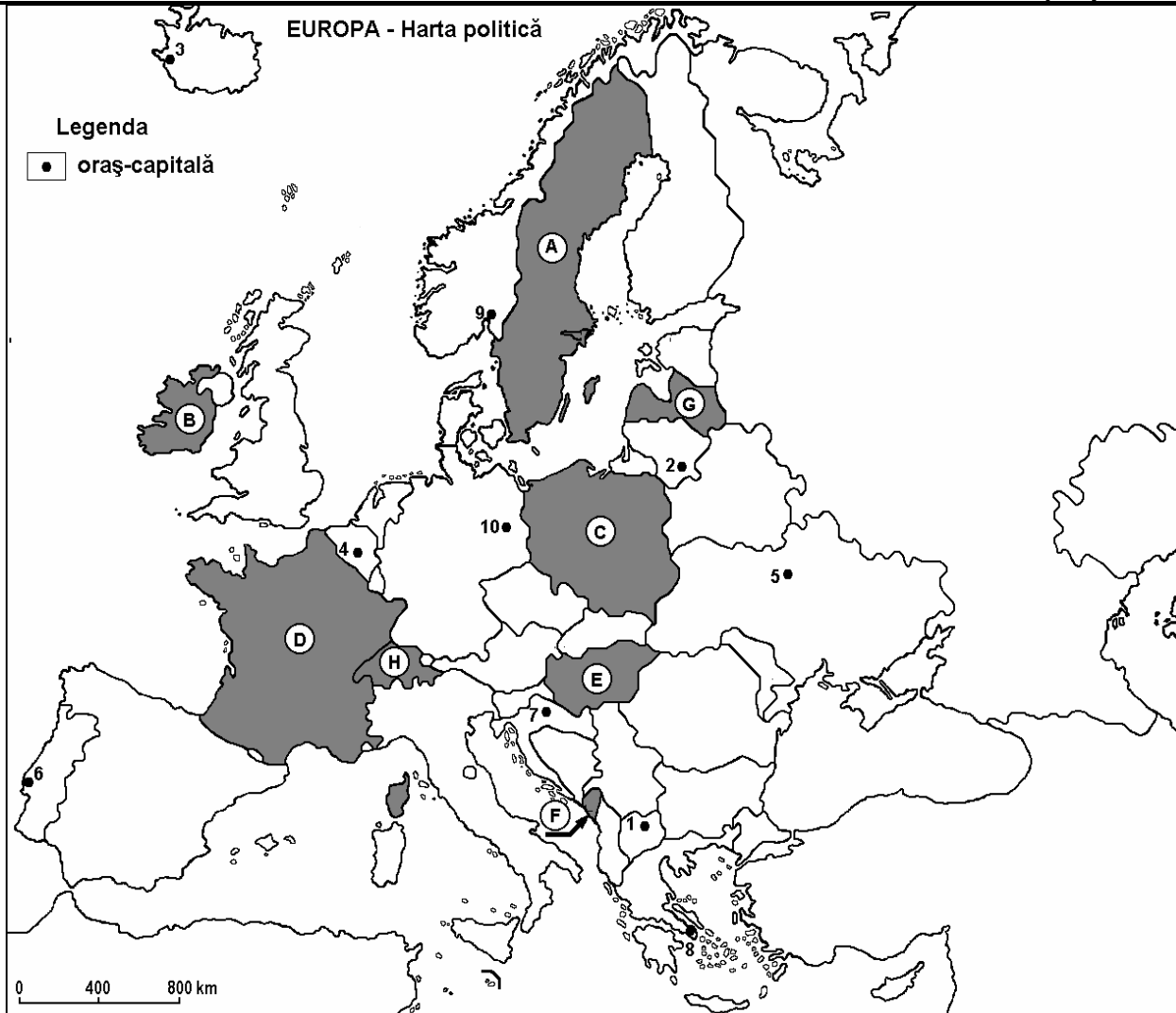
4 puncte

Examenul de bacalaureat 2008
Proba D, E, F
Proba scrisă la Geografie
Europa – România – Uniunea Europeană

- Toate subiectele sunt obligatorii. Se acordă 10 puncte din oficiu.
- Timpul efectiv de lucru este de 3 ore.

SUBIECTUL I

(30 puncte)



Harta de mai sus se referă la subiectul I A, B, C, D. Pe hartă sunt marcate state cu litere și oraș-capitală cu numere.

A. Precizați:

1. numele statelor marcate, pe hartă, cu literele **D** și **F**;
2. numele orașelor-capitală marcate, pe hartă, cu numerele **4** și **6**.

4 puncte

B. Scrieți, pe foaia de examen, răspunsurile corecte care completează propozițiile de mai jos:

1. Statul marcat, pe hartă, cu litera **H** se numește
2. Orașul-capitală marcat, pe hartă, cu numărul **5** se numește
3. Orașul Riga este capitala statului marcat, pe hartă, cu litera

6 puncte

C. Scrieți, pe foaia de examen, litera corespunzătoare răspunsului corect pentru fiecare dintre afirmațiile de mai jos:

1. Un stat membru fondator al **Consiliului European** (1949) este marcat, pe hartă, cu litera:
a. A b. C c. E d. F **2 puncte**
2. Cursul mijlociu al fluviului Dunărea străbate statul marcat, pe hartă, cu litera:
a. B b. C c. D d. E **2 puncte**
3. Capitala situată la cea mai mare latitudine din Europa este marcată, pe hartă, cu numărul:
a. 2 b. 3 c. 9 d. 10 **2 puncte**
4. Orașul marcat, pe hartă, cu numărul **7** este capitala statului:
a. Albania b. Croația c. Serbia d. Slovenia **2 puncte**
5. Ocupa 80% din insula cu același nume statul marcat, pe hartă, cu litera:
a. A b. B c. D d. E **2 puncte**

D. Precizați trei deosebiri între **clima** statului marcat, pe hartă, cu litera **A** și **clima** statului marcat cu litera **D**.

Nota 1: Deosebirile se pot referi la oricare dintre următoarele elemente de **climă**: tip de climă, temperaturi medii anuale, precipitații medii anuale, vânturi, amplitudine termică.

Nota 2: Punctajul complet va fi acordat numai dacă deosebirile vor fi prezentate comparativ și nu separat.

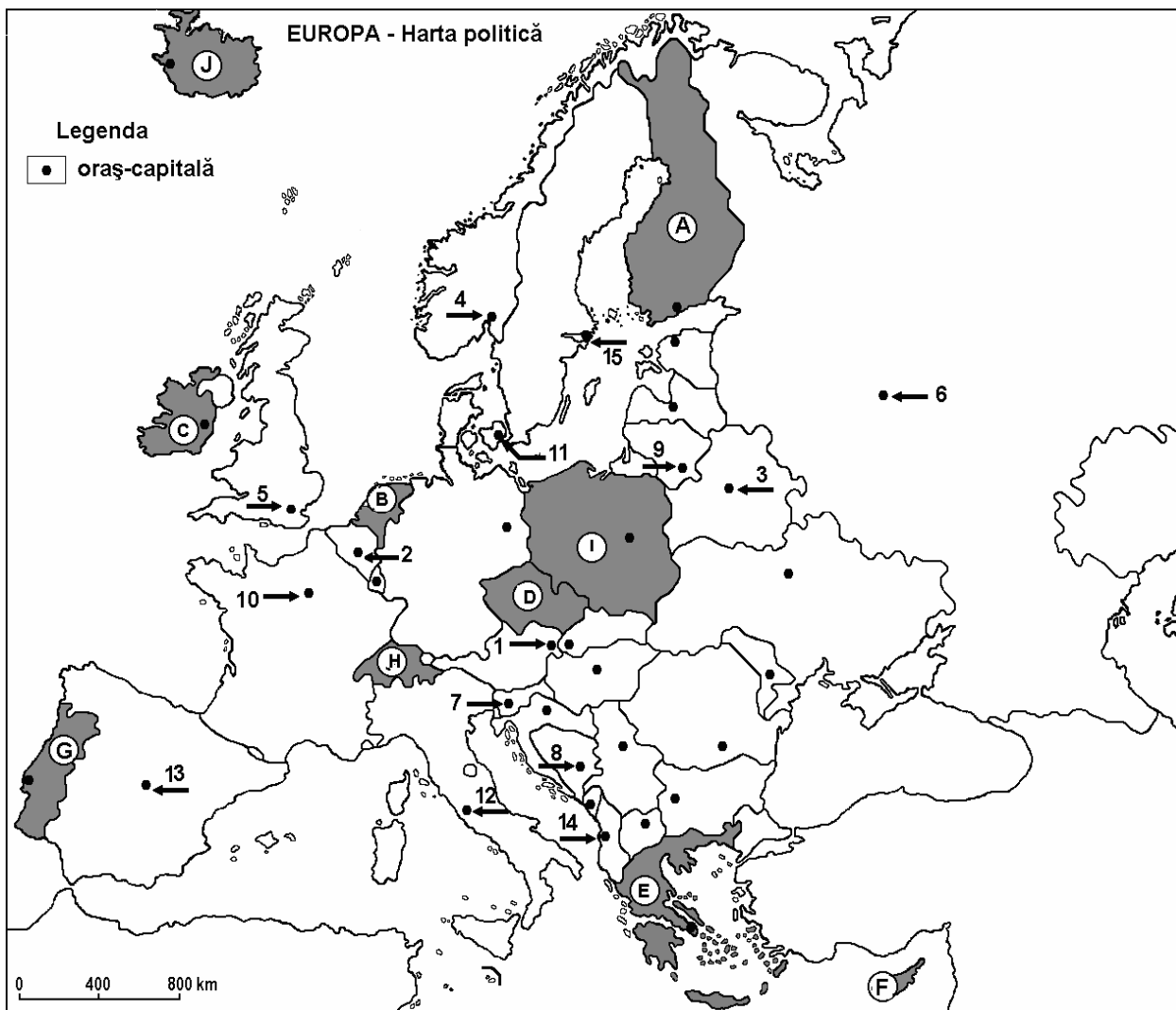
6 puncte

E. Prezentați două argumente care să demonstreze ca fluviul Rhin este cel mai important din Europa Centrală și Vestică.

4 puncte

Examenul de bacalaureat 2008
Proba D, E, F
Proba scrisă la Geografie
Europa – România – Uniunea Europeană

- Toate subiectele sunt obligatorii. Se acordă 10 puncte din oficiu.
- Timpul efectiv de lucru este de 3 ore.

SUBIECTUL I**(30 puncte)**

Harta de mai sus se referă la subiectul I A – C și E. Pe hartă sunt marcate state cu litere și orașe – capitală cu numere.

A. Precizați:

1. numele statelor marcate, pe hartă, cu literele **A** și **I**;
2. numele orașelor - capitală marcate, pe hartă, cu numerele **6** și **12**.

4 puncte

B. Scrieți, pe foaia de examen, răspunsurile corecte care completează propozițiile de mai jos:

1. Este situat în Peninsula Balcanică statul marcat, pe hartă, cu litera ...
2. Este străbătut de Dunăre orașul - capitală marcat, pe hartă, cu numărul ...
3. Orașul marcat, pe hartă, cu numărul **15** este capitala statului numit ...

6 puncte

C. Scrieți, pe foaia de examen, litera corespunzătoare răspunsului corect pentru fiecare dintre afirmațiile de mai jos:

1. Fluviul Tamisa străbate orașul - capitală marcat, pe hartă, cu numărul:
a. 2 b. 3 c. 5 d. 12 **2 puncte**
2. Se învecinează cu Polonia statul marcat, pe hartă, cu litera:
a. B b. C c. D d. E **2 puncte**
3. Orașul marcat, pe hartă, cu numărul 11 este capitala statului numit:
a. Austria b. Cehia c. Danemarca d. Italia **2 puncte**
4. Are un climat subtropical (mediteranean) statul marcat, pe hartă, cu litera:
a. A b. B c. F d. J **2 puncte**
5. Este capitala Belgiei orașul marcat, pe hartă, cu numărul:
a. 1 b. 2 c. 3 d. 4 **2 puncte**

D. Precizați trei deosebiri între **relieful** Munților Vosgi – Pădurea Neagră și **relieful** Munților Caucaz.

Nota 1: Deosebirile se pot referi la oricare dintre următoarele aspecte ale **reliefului**: mod de formare, tipuri de roci, altitudini, fragmentare, tipuri genetice de relief, alte aspecte specifice ale reliefului.

Nota 2: Punctajul complet va fi acordat numai dacă cele trei deosebiri vor fi prezentate comparativ și nu separat. **6 puncte**

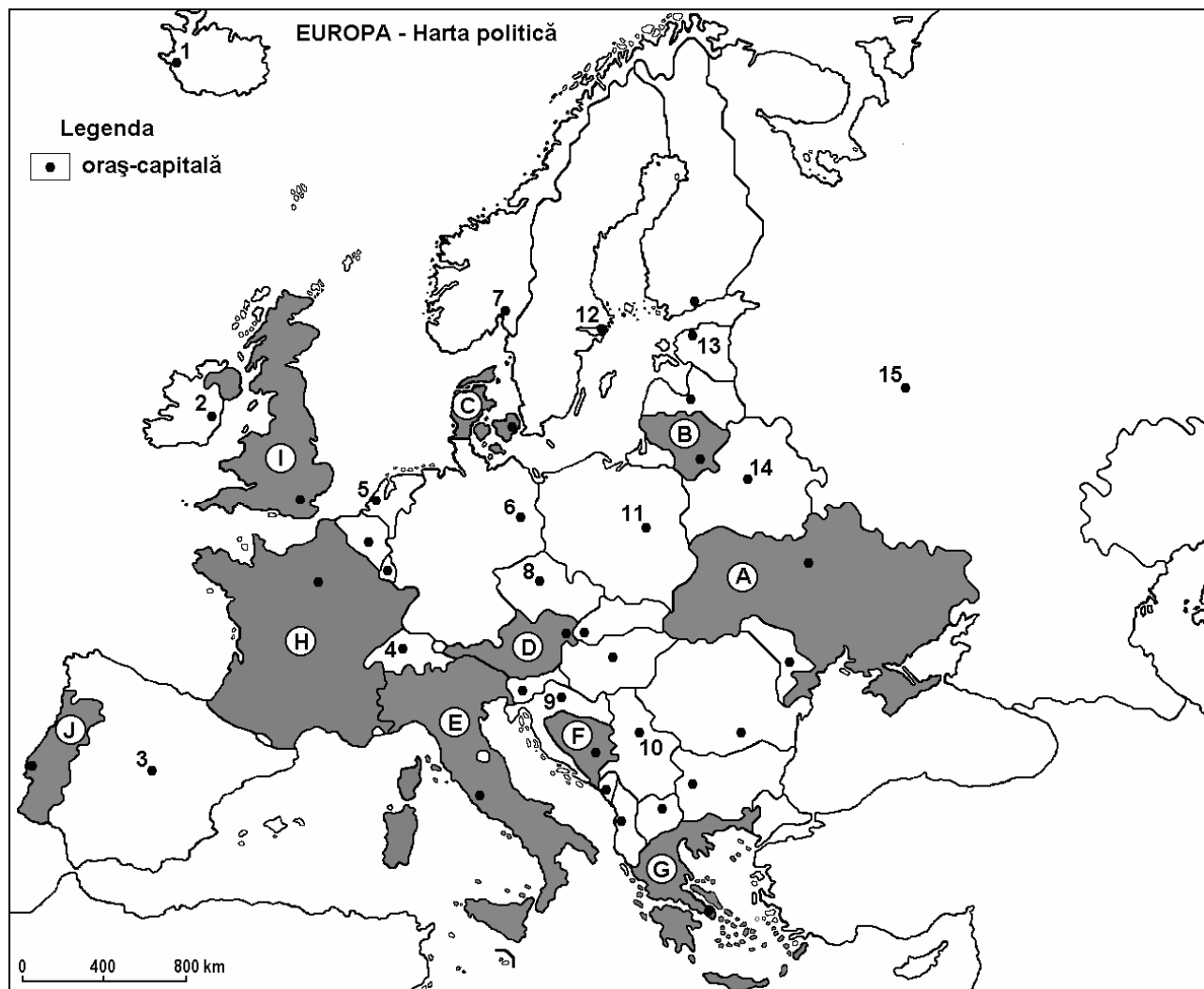
E. Prezentați două cauze care să explice diferențele de densitate a populației între statele marcate, pe hartă, cu literele **B** și **J**. **4 puncte**

Examenul de bacalaureat 2008
Proba D, E, F
Proba scrisă la GEOGRAFIE
Europa–România–Uniunea Europeană

- Toate subiectele sunt obligatorii. Se acordă 10 puncte din oficiu.
- Timpul efectiv de lucru este de 3 ore.

SUBIECTUL I

(30 puncte)



Harta de mai sus se referă la subiectul I A – D. Pe hartă sunt marcate state cu litere și orașe –capitală cu numere.

A. Precizați:

1. numele statelor marcate, pe hartă, cu literele **B** și **J**;
2. numele orașelor-capitală marcate, pe hartă, cu numerele **1** și **2**.

4 puncte

B. Scrieți, pe foaia de examen, răspunsurile corecte care completează propozițiile de mai jos:

1. Insula Sardinia face parte din statul marcat, pe hartă, cu litera ...
2. Orașul - capitală marcat, pe hartă, cu numărul **9** se numește ...
3. Orașul marcat, pe hartă, cu numărul **5** este capitala statului ...

6 puncte

C. Scrieți, pe foaia de examen, litera corespunzătoare răspunsului corect pentru fiecare dintre afirmațiile de mai jos:

1. Munții Apenini se desfășoară în totalitate pe teritoriul statului marcat, pe hartă, cu litera:

a. D	b. E	c. F	d. H	2 puncte
------	------	------	------	-----------------
2. Orașul marcat, pe hartă, cu numărul **8** este capitala statului numit:

a. Austria	b. Cehia	c. Slovacia	d. Slovenia	2 puncte
------------	----------	-------------	-------------	-----------------
3. Râul Vistula traversează orașul marcat, pe hartă, cu numărul:

a. 6	b. 8	c. 11	d. 14	2 puncte
------	------	-------	-------	-----------------
4. Orașul marcat, pe hartă, cu numărul **13** se numește:

a. Minsk	b. Oslo	c. Riga	d. Tallinn	2 puncte
----------	---------	---------	------------	-----------------
5. Cea mai mare parte din Peninsula Yutlanda este cuprinsă în teritoriul statului marcat, pe hartă, cu litera:

a. C	b. D	c. G	d. J	2 puncte
------	------	------	------	-----------------

D. Precizați trei deosebiri între **clima** statului marcat, pe hartă, cu litera **A** și **clima** statului marcat, pe hartă, cu litera **I**.

Nota 1: Deosebirile se pot referi la oricare dintre următoarele elemente de **climă**: tip de climă, temperaturi medii anuale, precipitații medii anuale, vânturi, etaj climatic, amplitudine termică.

Nota 2: Punctajul complet va fi acordat numai dacă cele trei deosebiri vor fi prezentate comparativ și nu separat.

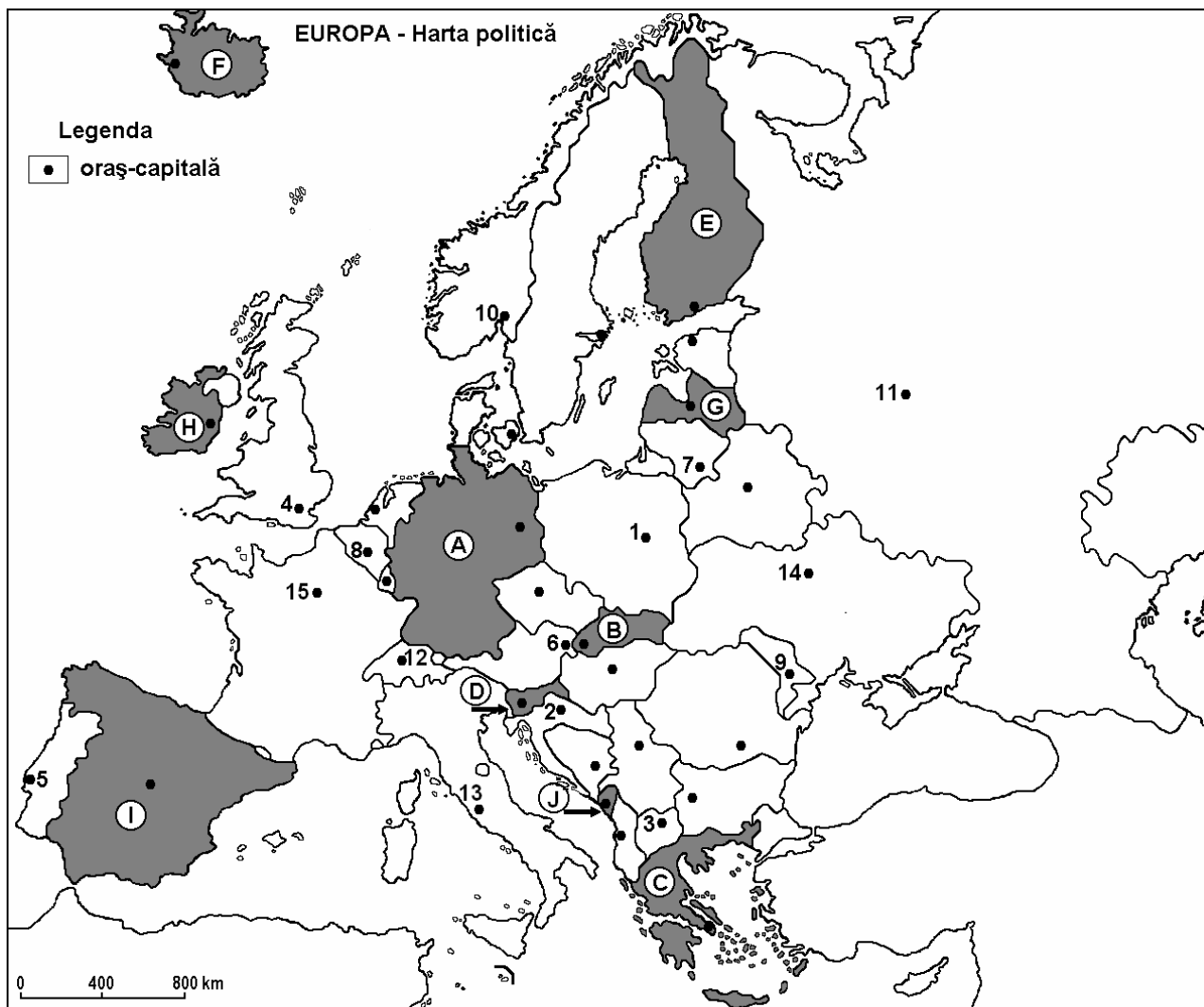
6 puncte

E. Prezentați două cauze pentru care fenomenele vulcanice sunt mai frecvente în Europa Sudică decât în Europa Nordică.

4 puncte

Examenul de bacalaureat 2008
Proba D, E, F
Proba scrisă la GEOGRAFIE
Europa–România–Uniunea Europeană

- Toate subiectele sunt obligatorii. Se acordă 10 puncte din oficiu.
- Timpul efectiv de lucru este de 3 ore.

SUBIECTUL I**(30 puncte)**

Harta de mai sus se referă la subiectul I A – C. Pe hartă sunt marcate state cu litere și orașe – capitală cu numere.

A. Precizați:

1. numele statelor marcate, pe hartă, cu literele **C** și **F**;
2. numele orașelor - capitală marcate, pe hartă, cu numerele **1** și **14**.

4 puncte**B. Scrieți, pe foaia de examen, răspunsurile corecte care completează propozițiile de mai jos:**

1. Este traversat de fluviul Tamisa orașul marcat, pe hartă, cu numărul ...
2. Munții Pirinei constituie granița a statului marcat, pe hartă, cu litera ...
3. Capitala statului marcat, pe hartă, cu litera **C** se numește ...

6 puncte

C. Scrieți, pe foaia de examen, litera corespunzătoare răspunsului corect pentru fiecare dintre afirmațiile de mai jos:

1. Au un climat mediteranean statele marcate, pe hartă, cu literele:

a. A și B	b. C și I	c. H și G	d. J și E	2 puncte
-----------	-----------	-----------	-----------	-----------------
2. Regiunea industrială Ruhr este situată în statul marcat, pe hartă, cu litera:

a. A	b. B	c. D	d. H	2 puncte
------	------	------	------	-----------------
3. O câmpie de origine fluvio - glaciară face parte din relieful statului marcat, pe hartă, cu litera:

a. A	b. D	c. C	d. I	2 puncte
------	------	------	------	-----------------
4. Dunărea traversează orașul marcat, pe hartă, cu numărul:

a. 2	b. 3	c. 6	d. 9	2 puncte
------	------	------	------	-----------------
5. Orașul marcat, pe hartă, cu numărul **5** se numește:

a. Barcelona	b. Lisabona	c. Madrid	d. Valletta	2 puncte
--------------	-------------	-----------	-------------	-----------------

D. Precizați trei deosebiri între **clima** Munților Penini și **clima** Munților Ural.

Nota 1: Deosebirile se pot referi la oricare dintre următoarele elemente de **climă**: tip de climă, temperaturi medii anuale, precipitații medii anuale, vânturi, etaj climatic.

Nota 2: Punctajul complet va fi acordat numai dacă cele trei deosebiri vor fi prezentate comparativ și nu separat.

6 puncte

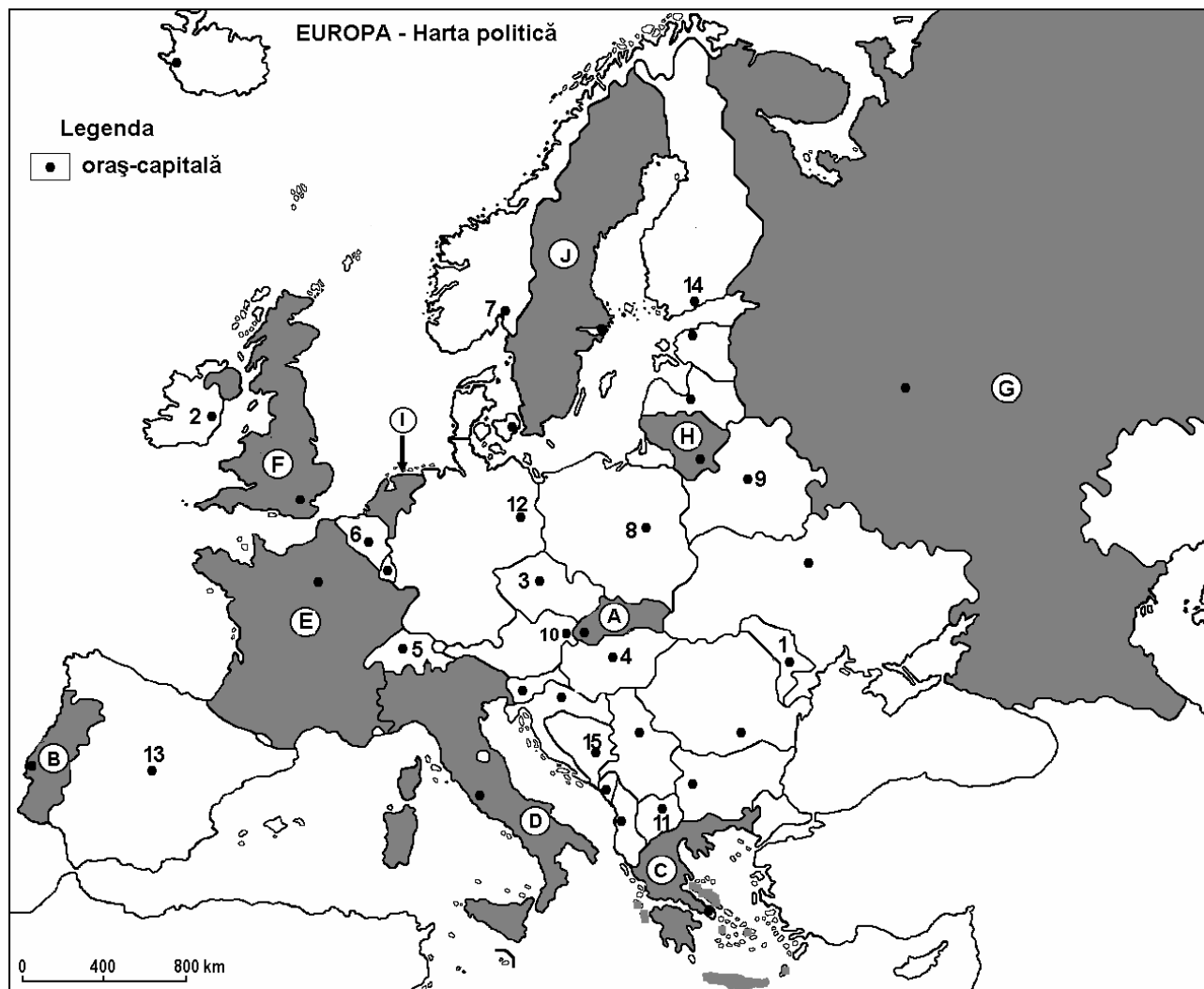
E. Explicați:

1. prezența vegetației de stepă în sud - estul Europei;
2. înlocuirea stepei, pe mari suprafețe, cu cereale și plante tehnice.

4 puncte

Examenul de bacalaureat 2008
Proba D, E, F
Proba scrisă la Geografie
Europa – România – Uniunea Europeană

- Toate subiectele sunt obligatorii. Se acordă 10 puncte din oficiu.
- Timpul efectiv de lucru este de 3 ore.

SUBIECTUL I**(30 puncte)**

Harta de mai sus se referă la subiectul I A – D. Pe hartă sunt marcate state cu litere și orașe –capitală cu numere.

A. Precizați:

1. numele statelor marcate, pe hartă, cu literele **D** și **I**;
2. numele orașelor-capitală marcate, pe hartă, cu numerele **3** și **9**.

4 puncte**B. Scrieți, pe foaia de examen, răspunsurile corecte care completează propozițiile de mai jos:**

1. Statul marcat, pe hartă, cu litera **B** se află situat în Peninsula ...
2. Capitala statului marcat, pe hartă, cu litera **G** se numește ...
3. Prin capitala statului marcat, pe hartă, cu litera **F** trece fluviul ...

6 puncte

C. Scrieți, pe foaia de examen, litera corespunzătoare răspunsului corect pentru fiecare dintre afirmațiile de mai jos:

1. Are capitala la Stockholm statul marcat, pe hartă, cu litera:

a. C	b. D	c. F	d. J	2 puncte
------	------	------	------	-----------------
2. Climatul subtropical (mediteraneean) predomină în statul marcat pe hartă cu litera:

a. A	b. C	c. F	d. H	2 puncte
------	------	------	------	-----------------
3. Vulcani activi se găsesc în statul marcat, pe hartă, cu litera:

a. A	b. B	c. D	d. J	2 puncte
------	------	------	------	-----------------
4. Fluviul Pad, traversează teritoriul statului marcat, pe hartă, cu litera:

a. B	b. C	c. D	d. E	2 puncte
------	------	------	------	-----------------
5. Vegetația de tundră este specifică în statul marcat, pe hartă cu litera:

a. B	b. D	c. F	d. J	2 puncte
------	------	------	------	-----------------

D. Precizați trei deosebiri între **clima** statului marcat, pe hartă, cu litera **D** și **clima** statului marcat, pe hartă, cu litera **F**.

Nota 1: Deosebirile se pot referi la oricare dintre următoarele elemente de **climă**: tip de climă, temperaturi medii anuale, precipitații medii anuale, vânturi, amplitudine termică.

Nota 2: Punctajul complet va fi acordat numai dacă cele trei deosebiri vor fi prezentate comparativ și nu separat.

6 puncte

E. Precizați două cauze ale prezenței reliefului glaciatic în Peninsula Scandinavică.

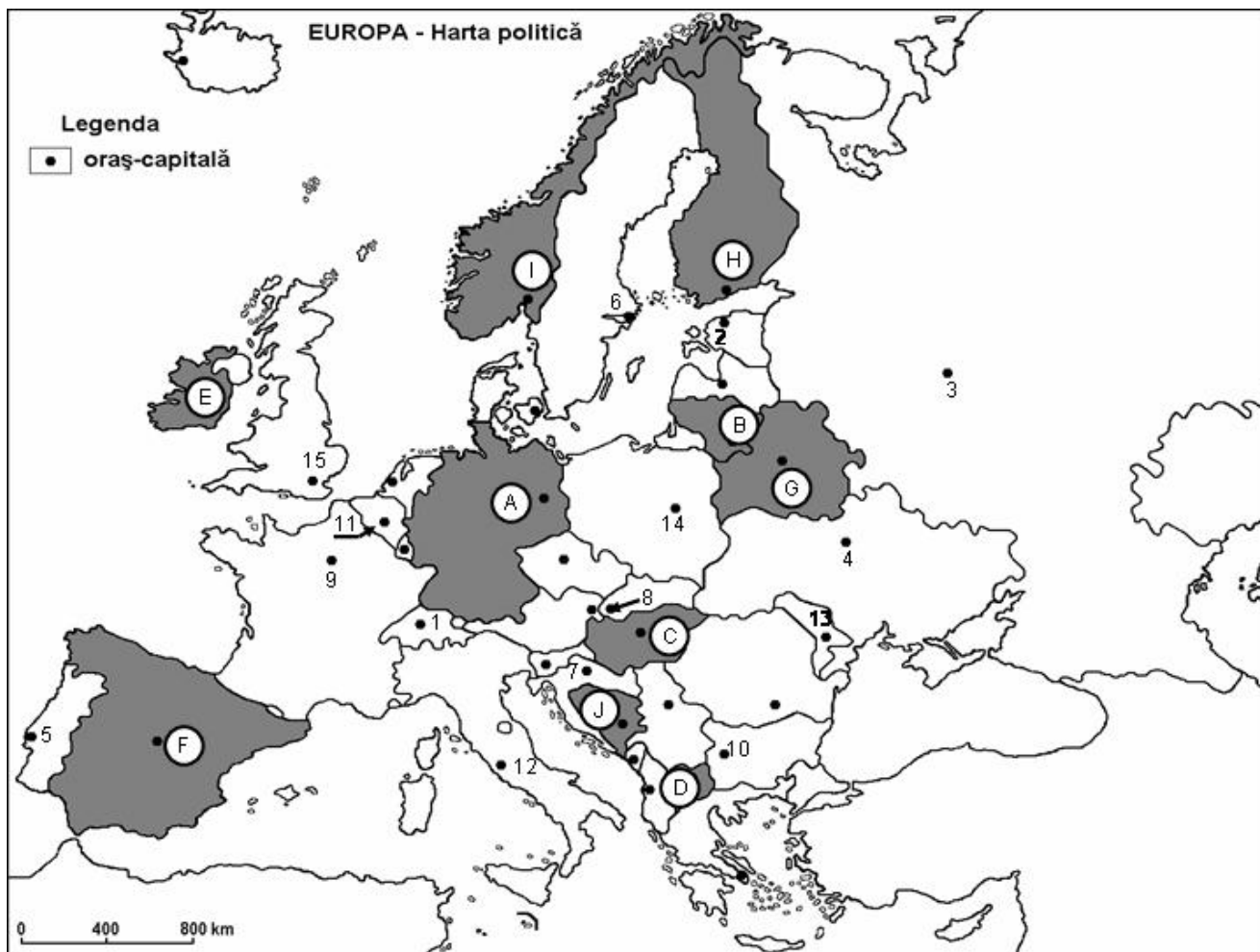
4 puncte

Examenul de bacalaureat 2008
Proba D, E, F
Proba scrisă la GEOGRAFIE
Europa–România–Uniunea Europeană

- Toate subiectele sunt obligatorii. Se acordă 10 puncte din oficiu.
- Timpul efectiv de lucru este de 3 ore.

SUBIECTUL I

(30 puncte)



Harta de mai sus se referă la subiectul I A– C. Pe hartă sunt marcate state cu litere și orașe –capitală cu numere.

A. Precizați:

1. numele statelor marcate, pe hartă, cu literele **D** și **H**;
2. numele orașelor-capitală marcate, pe hartă, cu numerele **2** și **9**.

4 puncte

B. Scrieți, pe foaia de examen, răspunsurile corecte care completează propozițiile de mai jos:

1. Orașul marcat, pe hartă, cu numărul **13** se numește ...
2. Statul marcat, pe hartă, cu litera **E** se numește ...
3. Orașul marcat, pe hartă, cu numărul **5** este capitala statului numit ...

6 puncte

C. Scrieți, pe foaia de examen, litera corespunzătoare răspunsului corect pentru fiecare dintre afirmațiile de mai jos:

1. Orașul marcat, pe hartă, cu numărul **8** este capitala statului:

a. Cehia	b. Elveția	c. Slovacia	d. Slovenia	2 puncte
----------	------------	-------------	-------------	-----------------
2. Statul marcat, pe hartă, cu litera **A** se numește:

a. Belarus	b. Belgia	c. Germania	d. Polonia	2 puncte
------------	-----------	-------------	------------	-----------------
3. Capitala Bulgariei este orașul marcat, pe hartă, cu numărul:

a. 4	b. 7	c. 8	d. 10	2 puncte
------	------	------	-------	-----------------
4. Statul marcat, pe hartă, cu litera **I** se numește:

a. Danemarca	b. Finlanda	c. Norvegia	d. Suedia	2 puncte
--------------	-------------	-------------	-----------	-----------------
5. Are deschidere la Marea Mediterană statul marcat, pe hartă, cu litera:

a. A	b. C	c. F	d. I	2 puncte
------	------	------	------	-----------------

D. Precizați trei deosebiri între **clima** Insulelor Britanice și **clima** Peninsulei Italice.

Nota 1: Deosebirile se pot referi la oricare dintre următoarele elemente de climă: temperaturi medii anuale, precipitații medii anuale, vânturi, tip de climă, etaj climatic, amplitudine termică.

Nota 2: Punctajul complet va fi acordat numai dacă cele trei deosebiri vor fi prezentate comparativ și nu separat. **6 puncte**

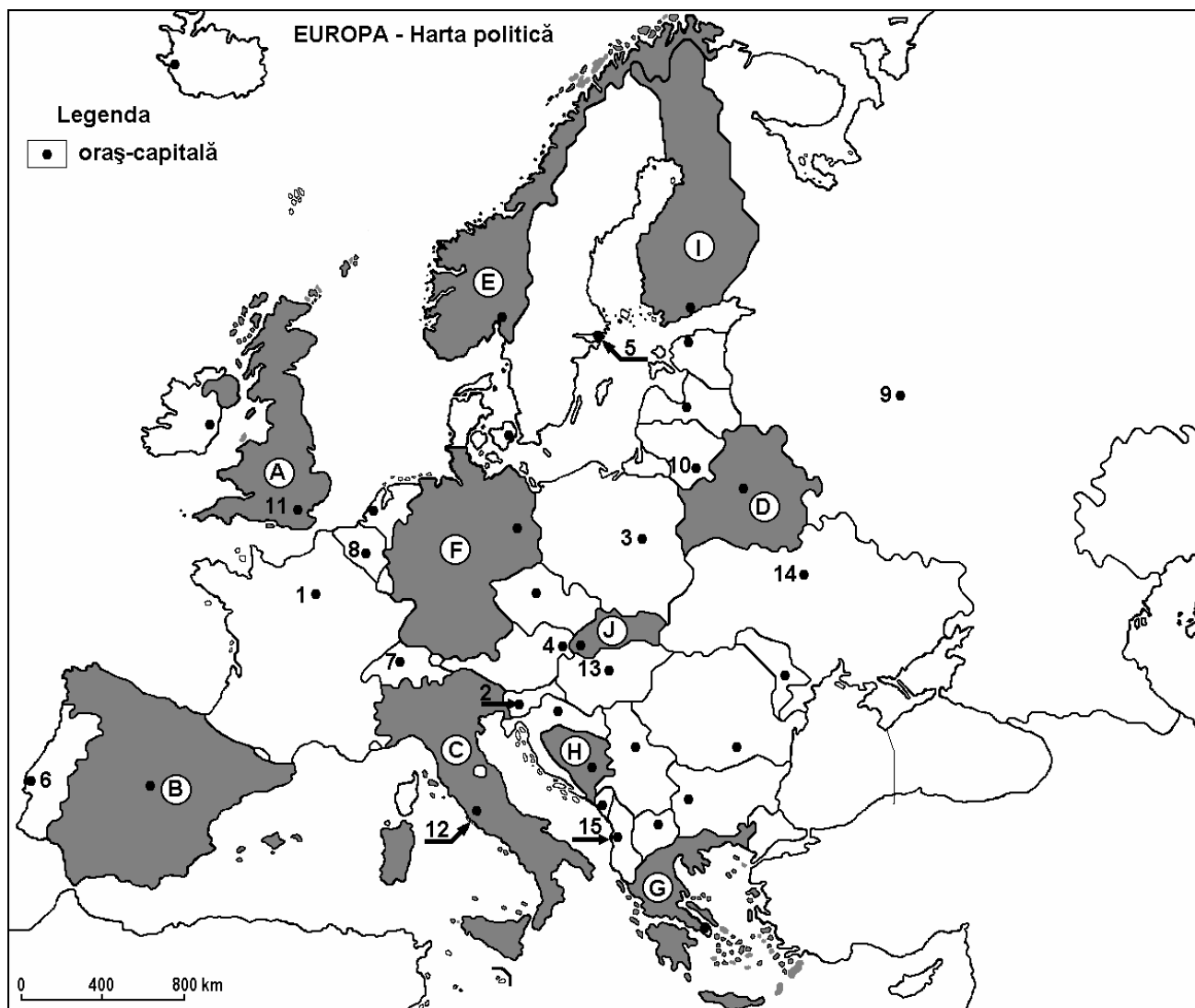
E. Prezentați două argumente care să demonstreze potențialul hidroenergetic ridicat al Munților Alpi. **4 puncte**

Examenul de bacalaureat 2008
Proba D, E, F
Proba scrisă la GEOGRAFIE
Europa–România–Uniunea Europeană

- Toate subiectele sunt obligatorii. Se acordă 10 puncte din oficiu.
- Timpul efectiv de lucru este de 3 ore.

SUBIECTUL I

(30 puncte)



Harta de mai sus se referă la subiectul I A - C. Pe hartă sunt marcate state cu litere și orașe – capitală cu numere.

A. Precizați:

1. numele statelor marcate, pe hartă, cu literele **B** și **F**;
2. numele orașelor-capitală marcate, pe hartă, cu numerele **5** și **6**.

4 puncte

B. Scrieți, pe foaia de examen, răspunsurile corecte care completează propozițiile de mai jos:

1. În nord - estul statului marcat, pe hartă, cu litera **B** se află Munții ...
2. Orașul marcat, pe hartă, cu numărul **9** este capitala statului numit ...
3. Statul marcat, pe hartă, cu litera **A** are capitala în orașul numit ...

6 puncte

C. Scrieți, pe foaia de examen, litera corespunzătoare răspunsului corect pentru fiecare dintre afirmațiile de mai jos:

1. Orașul - capitală marcat, pe hartă, cu numărul **1** este traversat de fluviul:

a. Duero	b. Lena	c. Rin	d. Sena	2 puncte
----------	---------	--------	---------	-----------------
2. Munții Apenini se desfășoară pe teritoriul statului marcat, pe hartă, cu litera:

a. A	b. B	c. C	d. F	2 puncte
------	------	------	------	-----------------
3. Climatul temperat - continental este specific statului marcat, pe hartă, cu litera:

a. A	b. C	c. G	d. J	2 puncte
------	------	------	------	-----------------
4. Are ieșire la Marea Norvegiei statul marcat, pe hartă, cu litera:

a. A	b. E	c. F	d. I	2 puncte
------	------	------	------	-----------------
5. Cea mai mare aglomerație urbană a Europei este marcată, pe hartă, cu numărul:

a. 3	b. 5	c. 9	d. 10	2 puncte
------	------	------	-------	-----------------

D. Precizați trei deosebiri între **clima** Peninsulei Scandinavice și **clima** Peninsulei Italice.

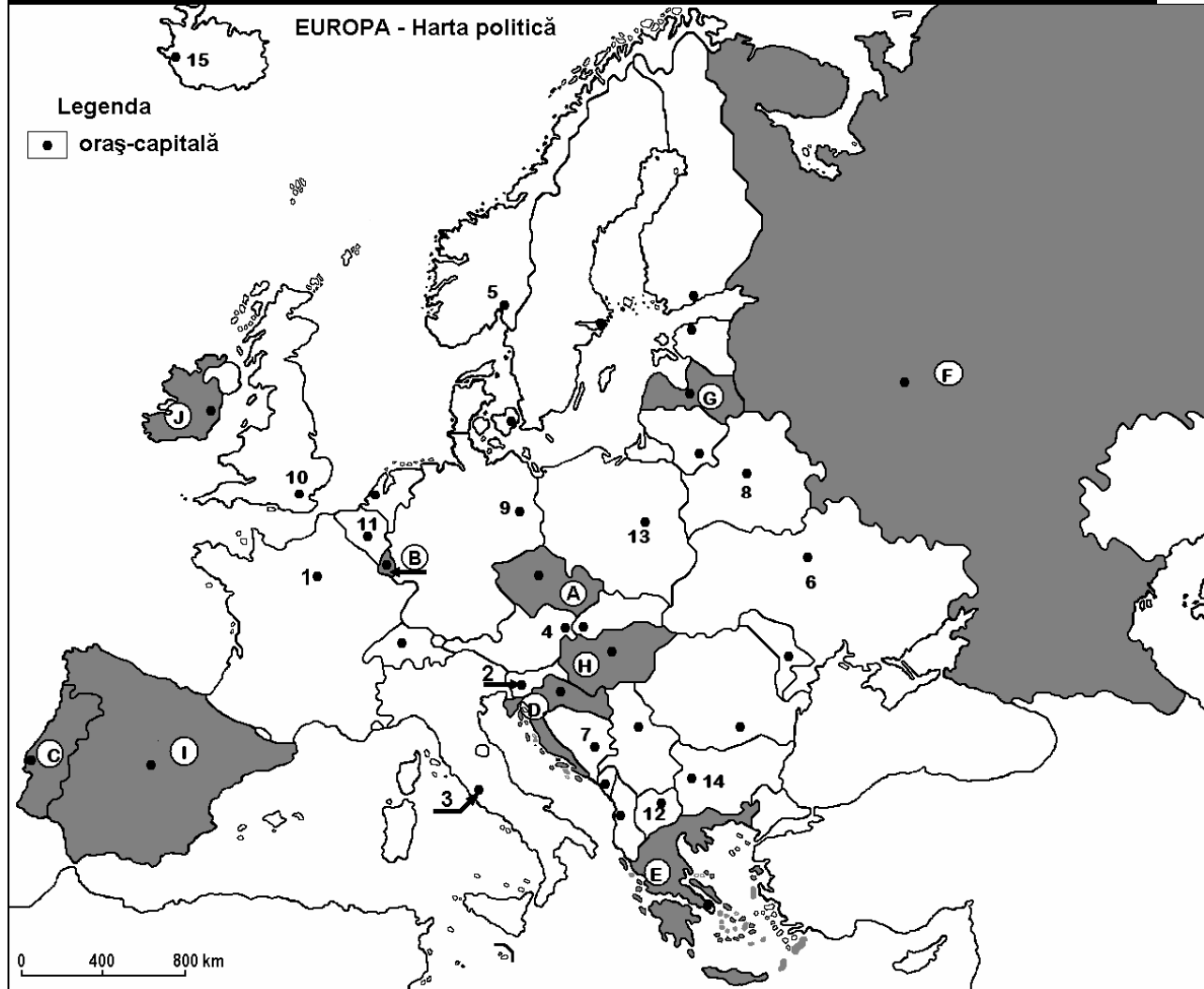
Nota 1: Deosebirile se pot referi la oricare dintre următoarele elemente de climă: tipul de climă, temperaturi medii anuale, precipitații medii anuale, vânturi, factorii genetici ai climei.

Nota 2: Punctajul complet va fi acordat numai dacă cele trei asemănări/deosebiri vor fi prezentate comparativ și nu separat. **6 puncte**

E. Prezentați două cauze care determină valorile reduse ale densității populației în spațiul montan. **4 puncte**

Examenul de bacalaureat 2008
Proba D, E, F
Proba scrisă la Geografie
Europa – România – Uniunea Europeană

- Toate subiectele sunt obligatorii. Se acordă 10 puncte din oficiu.
- Timpul efectiv de lucru este de 3 ore.

SUBIECTUL I**(30 puncte)**

Harta de mai sus se referă la subiectul I A-C. Pe hartă sunt marcate state cu litere și orașe – capitală cu numere.

A. Precizați:

1. numele statelor marcate, pe hartă, cu literele **J** și **E**.
2. numele orașelor-capitală marcate, pe hartă, cu numerele **7** și **13**.

4 puncte**B. Scrieți, pe foaia de examen, răspunsurile corecte care completează propozițiile de mai jos:**

1. Statele marcate pe hartă cu literele **C** și **I** sunt situate în Peninsula ...
2. Munții Pirinei sunt situați în nord-estul statului marcat, pe hartă, cu litera...
3. Râul Tibru traversează orașul capitală notat pe hartă cu numărul...

6 puncte

C. Scrieți, pe foaia de examen, litera corespunzătoare răspunsului corect pentru fiecare dintre afirmațiile de mai jos:

1. Insula Creta aparține statului notat pe hartă cu litera:

a. A **b. B** **c. D** **d. E** **2 puncte**

2. Orașul capitală marcat pe hartă cu numărul **10** este străbătut de fluviul:

a. Sena **b. Severn** **c. Tamisa** **d. Tejo** **2 puncte**

3. Lacul Ladoga este situat pe teritoriul statului marcat, pe hartă, cu litera:

a. A **b. F** **c. I** **d. J** **2 puncte**

4. Soluri de tundră există pe teritoriul statului marcat pe hartă cu litera:

a. B **b. E** **c. F** **d. I** **2 puncte**

5. Statul marcat, pe hartă, cu litera **E** se remarcă la cultura de:

a. măslin **b. porumb** **c. secară** **d. sorg** **2 puncte**

D. 1. Prezentați două caracteristici ale industriei siderurgice din Europa.

2. Menționați două regiuni industriale în care această ramură are foarte mare dezvoltare.

6 puncte

E. Caracterizați climatul subtropical al Europei precizând:

1. temperaturile medii pe cele două anotimpuri extreme;

2. circulația maselor de aer.

4 puncte